


السؤال الأول: اكمل العبارات الآتية:

..... = 50×5

..... = 200×7

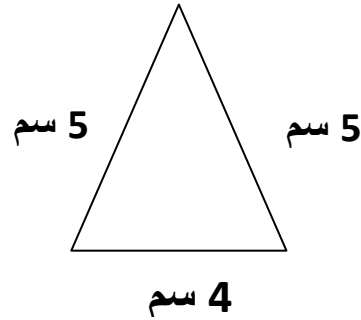
.... = 60×2

..... = 300×4



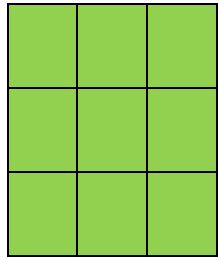
السؤال الثاني:

* اوجد المحيط:

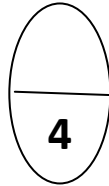


المحيط = + + = سم

** اوجد مساحة الشكل:



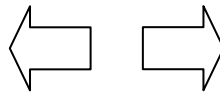
المساحة =



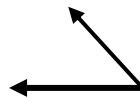
السؤال الثالث:

ظل (ا) اذا كانت العبارة صحيحة, ظل (ب) اذا كانت العبارة غير صحيحة:

ب	ا
ب	ا



* الحركة تمثل ازاحة



** هذه الزاوية اصغر من القائمة

