



الاسم: الصف:

منطقة مبارك الكبير التعليمية

مدرسة البيرق أبنات

ورقة عمل تقييم الكفاية الأولى في مادة العلوم
للفصل الدراسي الثاني للصف الأول

السؤال الأول: ضعي علامة (V) أمام العبارة الصحيحة وعلامة (X) أمام العبارة الخاطئة في كل مما يلي:

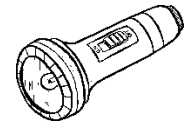
1. الشمس  طينا الضوء نهراً. ()
2. الشمعة  صدر صوتاً. ()

السؤال الأول: اختاري الإجابة الصحيحة بوضع علامة (V) أمامها فيما يلي:

1. حوطي الشيء الذي يصدر صوتاً:



2. حوطي الشيء الذي يعطينا الضوء:



3. أحد المصادر التالية يعتبر مصدراً للحرارة:



الاسم: الصف:

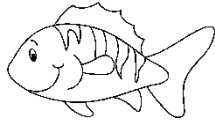
منطقة مبارك الكبير التعليمية

مدرسة البيرق أبنات

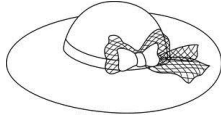
ورقة عمل تقييم الكفاية الثانية في مادة العلوم
للفصل الدراسي الثاني للصف الأول

السؤال الأول: اختاري الإجابة الصحيحة بوضع علامة (V) أمامها فيما يلي:

1. حوطي على الصوت المزعج :



2. من الأشياء التي تحميها من أشعة الشمس:



3. من الأشياء الساخنة:



السؤال الثاني: صلي الصورة بالعبرة المناسبة لها:



صوت عالي

صوت منخفض