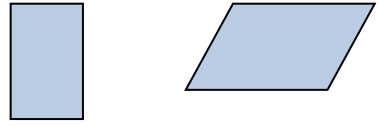
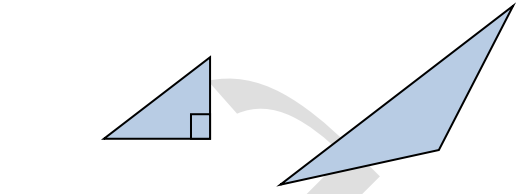


الفترة
الثانية

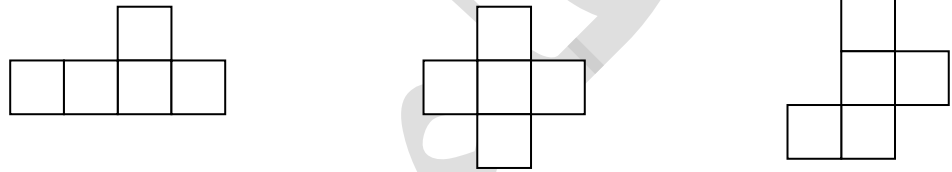
اي من الضلعين مشابهة لل [] ؟



اي من الضلعين متطابق ل [] ؟



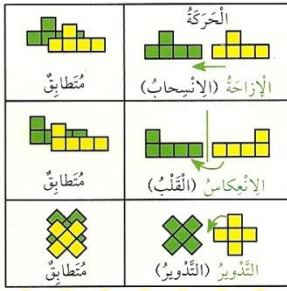
اي من الاشكال الاتية يطابق هذا الشكل؟



اي من الاشكال التالية لا يطابق هذا الشكل؟



ارسمي كل خطوط التناظر؟



الفترة
الثانية

استخدمي خط التناظر لتكملي الشكل

