

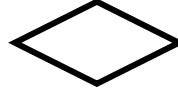



ورقة عمل للصف الخامس:

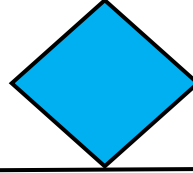
اكتب اسم كل شكل من الأشكال التالية




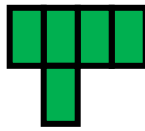

ورقة مراجعة الفصل الرابع عشر (تحليل المضلعات)



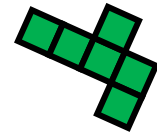


حوط المضلع الذي يشبه



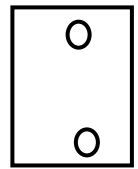




اي من الأشكال التالية يطابق هذا الشكل



اي من الأشكال التالية يطابق هذا الشكل



ارسمي خطوط التناظر الممكنة لكل شكل من الأشكال التالية



أكمل ما يأتي :

أوجد قاعدة الجدول الآتي واكتب القاعدة مستخدمة الكلمات و المتغير

ب	أ
5	1
9	5
10	6
12	8

ن	9+ن
7	
10	

باستخدام المتغير

باستخدام الكلمات :