


ورقة عمل للصف الخامس الابتدائي

منطقة مبارك الكبير التعليمية
مدرسة عائشة محمد الشريف

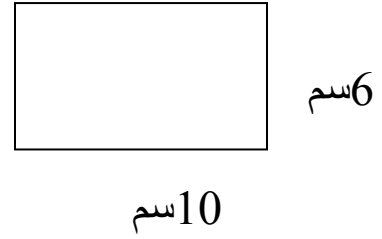
الصف:



أوجد مساحة منطقة مستطيلة:.

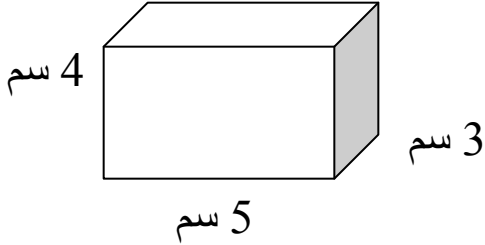
$$\text{المساحة} = \dots \times \dots$$

$$\dots = \dots \times \dots =$$



10سم

أوجد حجم المنشور:.



$$\text{الحجم} = \dots \times \dots \times \dots$$

$$\dots = \dots \times \dots \times \dots =$$

أكمل ما يلي:.

$$7000 \text{ جم} = \boxed{} \text{ كجم}$$

$$3 \text{ كجم} = \boxed{} \text{ جم}$$

$$3,75 \text{ لتر} = \boxed{} \text{ مل}$$