

اعداد المعطمة: سارة الغريب

الموجهة الفنية: جيهان الفقاع

مديرة المدرسة: سلوى الخلاف

## تدريباً مهارية للصف السادس

### 91ص - 101ص

نشاط(1): اكتبى المصطلح الدال على العبارات التالية :

1- (.....) مجموعة من الناس تشترك فيما بينها في الصفات الجسمانية الرئيسية كلون الجلد

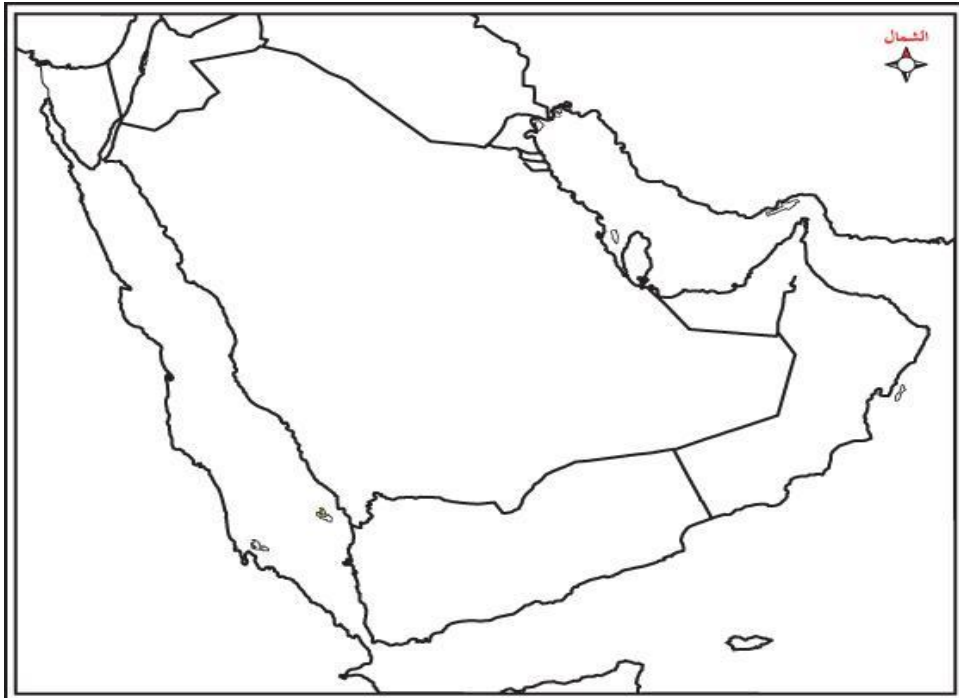
وشكل الانف وشكل الشعر وطول القامة و مالمليها وتختلف عن غيرها من السلالات في هذه السلالات.

2- (.....) زيادة عدد السكان عن طريق الزيادة الطبيعية والزيادة الغير طبيعية.

3- (.....) عدد السكان على مساحة الدولة .

نشاط(2): اكرى اصول السلالات السكانية التي يرجع اليها سكان منطقة الخليج العربي؟

1-..... 2-.....



نشاط(3): استعيني باسماء الحضارات التي امامك،

ثم عينها في اماكنها الصحيحة على خريطة


دول الخليج العربية الصماء فيما يلي:

( حضارة دلمون/ حضارة هيلي/ حضارة دبا /

حضارة تاروت /حضارة ام النار)

نشاط(4): اكملى المخطط السهمى التالى:

انواع الهجرات في منطقة شبه الجزيرة العربية



(.....)

**نشاط(5): على لما يلي:**

1- تشابه الاثار الحضارية في دول الخليج العربية.

.....

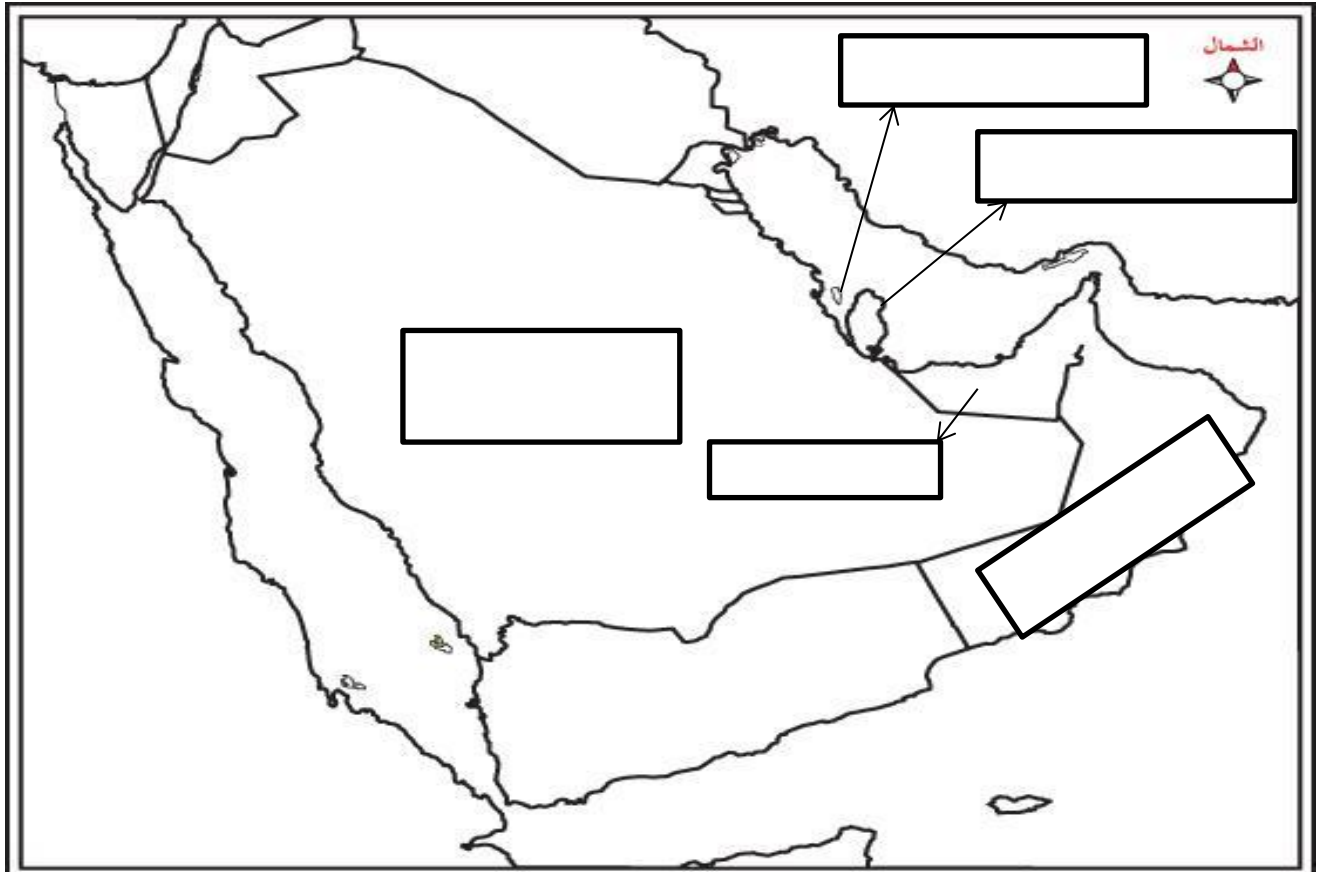
2- استقبال حوض الخليج العربي موجات سكانية من كل المناطق المجاورة .

.....

3- تزايد عدد السكان في دولة الكويت و دول الخليج العربية.

.....

**نشاط(6): حددي على خريطة شبه الجزيرة العربية الصماء امامك الهجرات الداخليه :**



**نشاط(7): لاحظي الصور التالية ثم اكتبى اسفل كلا منها عوامل زيادة النمو السكاني:**



.....

**نشاط(8): اكملي الجداول التالية بكتابة اسم الدولة:**

(أ)

	<u>أكثر</u> دولة خليجية في عدد <u>المواطنين</u>
	<u>أقل</u> دولة خليجية في عدد <u>المواطنين</u>

(ب)

	<u>أكثر</u> دولة خليجية في عدد <u>الوافدين</u>
	<u>أقل</u> دولة خليجية في عدد <u>الوافدين</u>

(ج)

	<u>أكثر</u> دولة خليجية في عدد <u>السكان</u>
	<u>أقل</u> دولة خليجية في عدد <u>السكان</u>

(د)

	<u>أكثر</u> دولة خليجية في <u>الكثافة السكانية</u>
	<u>أقل</u> دولة خليجية في <u>الكثافة السكانية</u>

**نشاط(9): رقي سلم عدد السكان في دول الخليج العربية تنازليا ، ثم ضعي دائرة حول المرتبة التي تحتلها دولة الكويت في عدد السكان بالنسبة لدول الخليج العربية .**

