

## الوحدة الثانية: دول الخليج العربية تتطور حضاريا وسياسيا.

### أكمل العبارات التالية

#### عرف الحضارة:

.....  
.....  
.....  
.....  
.....

1. القرن يبلغ عدد من السنوات تبلغ.....
2. الحضارات الإنسانية ظهرت في منطقة الخليج العربي منذ حوالي..... قرن.
3. عدد السنوات التي امتدت خلالها حضارة منطقة الخليج العربية تبلغ.....
4. الحضارات في منطقة الخليج العربية استمرت منذ القرن.....

### • ظل على المخطط الزمني الفترة الزمنية التي امتدت خلالها الحضارات القديمة في منطقة الخليج العربية:



### (أ) حضارات منطقة الخليج العربية قديما

- ما هي الأسماء التي أطلقت على الخليج العربي قديما.

- ما هي الأدلة على وجود حضارات قديمة مزدهرة في منطقة الخليج العربية.

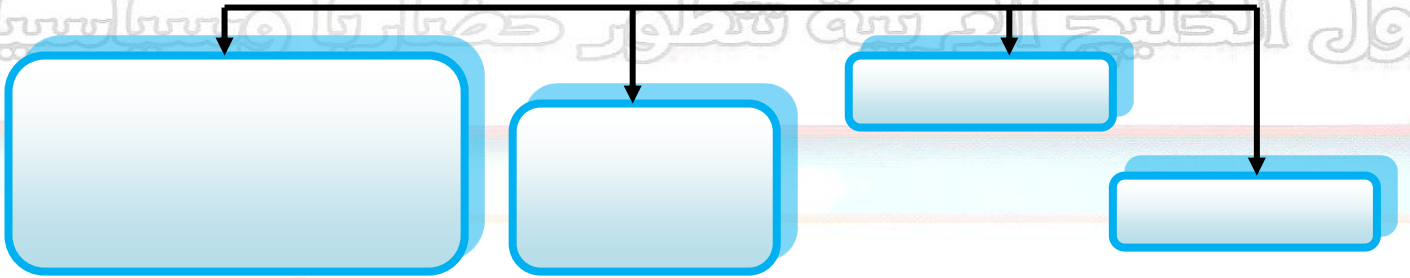


أكمل: (1) من الأسماء القديمة التي أطلقت علي الخليج العربي قديما ..... و.....

(2) الحضارات الكبرى التقت في الشرق في منطقة تسمى .....

- أستكمل المخطط التالي الذي يوضح النشاط الاقتصادي في منطقة الخليج العربية قديما:


### النشاط الاقتصادي في منطقة الخليج العربية




- أكتب أسماء الحضارات القديمة في منطقة الخليج العربية أسفل الصور التالية:



..... حضارة منطقة



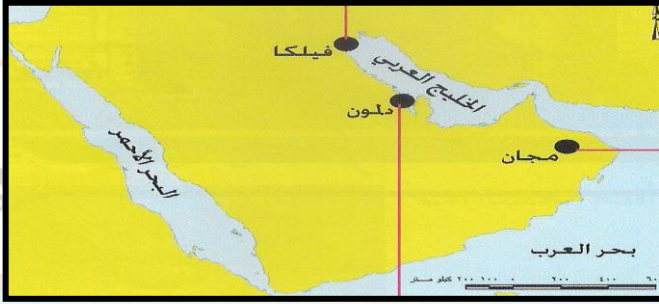
..... حضارة منطقة





حضارة منطقة .....

- بالاستعانة الخريطة التالية أكتب أسماء الدول التي ظهرت بها الحضارات.



- حضارة مجان ظهرت في .....

- حضارة دلمون ظهرت في .....

- حضارة فيلكا ظهرت في .....

- رتب الحضارات التي ظهرت في منطقة الخليج

العربية حسب موقعها الجغرافي من الشمال للجنوب

		(1)
	(2)	
(3)		

- تأثرت الحضارة التي نشأت في منطقة الخليج العربية بعوامل عدة – أذكرها؟

.....

.....

.....

.....

.....

- علل: إنشاء دول الخليج العربية علاقات تجارية واسعة مع المناطق المجاورة؟

.....

.....


.....

ما هي النتائج المترتبة على: الموقع المتوسط لمنطقة الخليج العربية؟

.....

.....

.....



- ما هي مصادر المياه في منطقة الخليج العربية قديماً .

الصورة المقابلة تمثل :

- اختر من المجموعة ( ب ) ما يناسب المجموعة ( أ ) .

م	السبب	النتيجة
	المجموعة ( أ )	المجموعة ( ب )
1	توفر آبار مياه الشرب وبعمق قليل	• سهولة الحصول عليها
2	وجود بيئة طبيعية ملائمة	• ظهور علاقات تجارية
3	الموقع الجغرافي المتميز	• كبر مساحة الصحراء
		• سهولة الحصول عليها

### ( ب ) الحضارة الإسلامية في منطقة الخليج العربية

( الكتاب المدرسي ص 49 )

أولاً: أكمل العبارات التالية بالاستعانة بالكلمات في المربع المقابل:

1. ظهر الدين الإسلامي في القرن .....
2. دخل سكان شبة الجزيرة العربية ومنطقة الخليج العربية في .....
3. الدولة الإسلامية انطلقت من .....
4. شارك سكان شبة الجزيرة العربية في نشر الإسلام في ..... وساحل

**نشاط ٢ /**

أكمل الناقص بالفقرة التالية مستعيناً بالكلمات في المربع

هيأرتب الكلمات التالية داخل الفقرة ثم شارك في الأنشطة التي تليها :

الوسيط التجاري

مظاهر الحضارة الإسلامية

بالدين الإسلامي

الغرب

المدينة المنورة

السابع الميلادي

الفن المعماري



..... وساحل شرق ..... و جنوب شرق قارة .....

5. ازدهرت منطقة شبة الجزيرة العربية وبرزت كطريق رئيسي للتجارة في الشرق و.....

6. لعب الخليج العربي دور .....

7. جميع جوانب الحياة في منطقة الخليج العربية ظهرت بها مظاهر.....

8. مظاهر الحضارة الإسلامية لا تزال ظاهرة في ..... حضارياً وسياسياً

• صح أم خطأ العبارات التالية:

- ظهر الإسلام في القرن العاشر الميلادي ( ) .
- شارك أبناء شبة الجزيرة العربية في نشر الإسلام فقط ( ) .
- لم يتأثر سكان منطقة الجزيرة العربية بمظاهر الحضارة العربية ( ) .
- ساهم سكان منطقة الجزيرة العربية في نشر الإسلام في ج شرق آسيا ( ) .
- ثالثاً: استخراج من الفقرة ما يلي:

• حدثا تاريخيا مهما: .....

• نشاطا اقتصاديا مارسه سكان منطقة الخليج العربية : .....

• ما يثبت اهتمام سكان منطقة الخليج العربية بالحضارة الإسلامية في الوقت الحالي:

.....

• عاملا ساهم في ازدهار مدن الخليج العربية : .....

• النتائج المترتبة علي نشاط سكان منطقة الخليج العربية ودور الوسيط التجاري:

.....

• المناطق التي شارك سكان منطقة الخليج العربية في نشر الإسلام فيها وهي






• ما العنصر المشترك بين هذه الصور:

• ماذا تتوقع أن تحتوي من

معروضات؟

• أنظر الأشكال التالية التي تمثل مظاهر الحضارة الإسلامية ثم صنفها في الجدول :

الصناعة	الفن	العمران
		
		
		



## تطور الحياة السياسية وظهور الدول الحديثة

( الكتاب المدرسي ص53 )

• ما أهمية موقع الخليج العربي:

• أكمل العبارات التالية :

1. العالم القديم يشمل ثلاث قارات هي ..... و..... و.....
2. الموقع المتوسط للخليج العربي أدى إلى قيامة بدور .....
3. الأنشطة البحرية التي مارسها سكان الخليج العربي قديما ..... و..... و.....

• استكمل الجدول التالي:

<u>نتيجة</u>	<u>سبب</u>
جذب الهجرات من شبة الجزيرة العربية إلى منطقة الخليج العربية.	
	امتلاك النفط

• تتبع تاريخيا ظهور الوحدات السياسية في منطقة الخليج العربية باستكمال العبارات التالية:

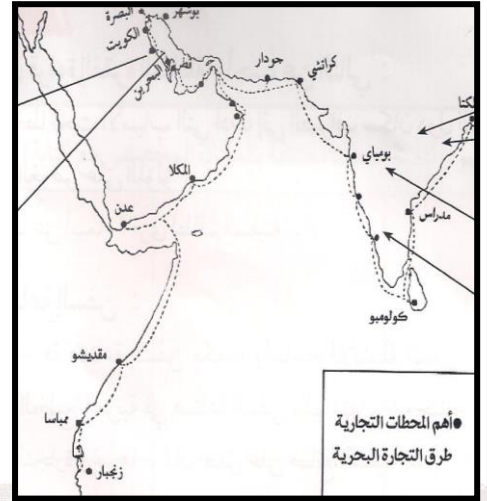
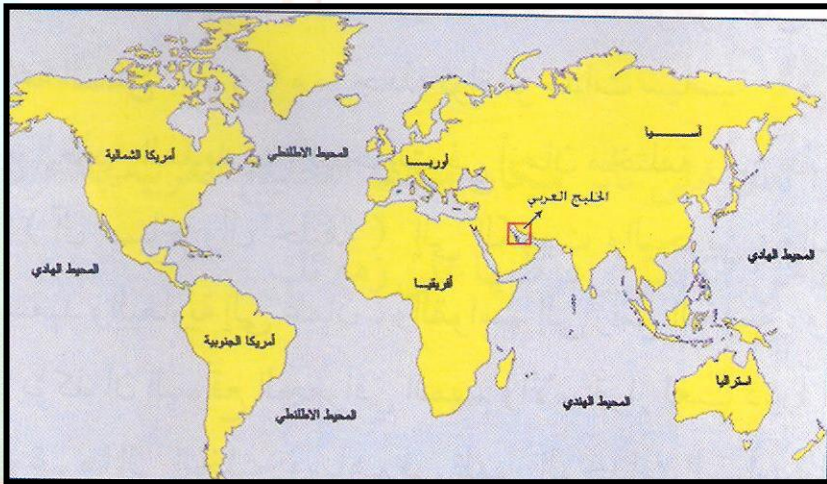
• الموقع الجغرافي المتوسط .....



- قيام الخليج العربي بدور .....
- ممارسة سكان منطقة الخليج العربية للأنشطة .....
- هجرة الجماعات البشرية من سبة الجزيرة العربية إلى ساحل .....
- اكتشاف والبدء في تصدير .....

علل: هجرة الجماعات البشرية من شبة جزيرة العرب إلى ساحل الخليج العربي الغربي؟

- استخرج من الفقرة بالكتاب المدرسي ص 54 الحقائق بالاستعانة بالخرائط

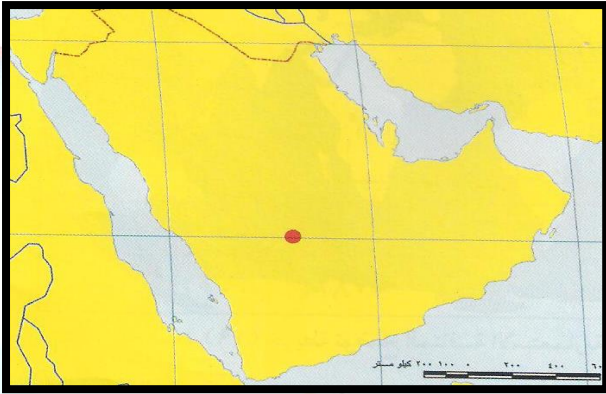


- أكمل الجدول التالي بالاستعانة بالكتاب المدرسي ص 55

الاسم	المنطقة التي هاجروا إليها
آل الصباح	
آل خليفة	



المعاضيد	
آل البوسعيد واليعاربة	
القواسم	
بني ياس	



- حدد علي خريطة شبة الجزيرة العربية خط سير هجرة العتوب من منطقة الهدار إلي ساحل الخليج العربي الغربي باستخدام الأسهم.

• ما النتائج المترتبة علي :

- موقع الخليج العربي المتوسط بين دول المحيط الهندي ودول البحر المتوسط

أكمل كتابة أسماء دول الخليج العربية في الشكل التالي :



أكمل العبارات التالية:

- 1- خرجت هجرة آل صباح وال خليفة إلى.....و.....ص93
- 2- خرجت هجرة المعاضيد إلى.....ص93
- 3- خرجت هجرة آل بوسعيد واليعاربة إلى.....ص93
- 4- خرجت هجرة القواسم إلى.....ص93
- 5- خرجت هجرة بني ياس إلى.....ص93

عرف الاستعمار .....

المنافسة الاستعمارية الأوروبية على الخليج العربي

• أكمل العبارات التالية بالاستعانة بالخريطة التالية

1. منطقة الخليج العربية تعرضت للاستعمار الأوربي منذ القرن .....الميلادي.
  2. أول دولة استعمارية وصلت للخليج العربي تسمى .....
  3. الدولة الاستعمارية الأوروبية التالية في احتلال الخليج العربي تسمى .....
  4. آخر الدول الاستعمارية التي أحكمت سيطرتها علي منطقة الخليج العربية تسمى .....
- علل: تعرض منطقة الخليج العربي للاستعمار الأوربي في العصر الحديث؟.

موقع

مهم

استعمار

• أربط بين المفهومين التاليين:

• متى وصل الاستعمار الأوربي إلى منطقة الخليج العربية

حدد علي المخطط الزمني الفترة التي وصل فيها الاستعمار الأوربي للخليج العربي:





1300م 1400م 1500م 1600م 1700م 1800 1900 2000م

رتب الدول الاستعمارية الأوربية تصاعديا حسب وصولها لمنطقة الخليج العربية:

هل الدول الاستعمارية الأوربية قريبة أم بعيدة عن منطقة الخليج العربية:

ماذا تستنتج من ذلك:

• ما هي الأساليب التي اتبعها الاستعمار للسيطرة على دول الخليج العربية:

• من خلال وثيقة اتفاقية الحماية 1899م أجب عما يأتي:

• من الطرف المسيطر في هذه الاتفاقية ؟.

• كيف تستنتج أن هذه الاتفاقية تمثل نوعا من أنواع الاستعمار ؟

• ما الظروف التي دفعت الشيخ مبارك الصباح لتوقيع هذه الاتفاقية ؟

• هل توجد دول خليجية أخرى وقعت مثل هذه الاتفاقيات ؟.

### اتفاقية الحماية 1899م

«الأي تنازل أو يبيع أو يؤجر أي جزء من أراضيه لدولة أجنبية دون موافقة مسبقة من الحكومة البريطانية، وألا يستقبل هو أو خلفاؤه من بعده ممثل أي دولة أجنبية دون إذن من السلطات البريطانية مقابل حماية بريطانية لإمارة الكويت من أي خطر خارجي».

## • أكتب بيانات الاتفاقية في الجدول التالي:

أسلوب الاستعمار	أطراف الاتفاقية	السنة

## • عزيزي الطالب أذكر أهم نصوص هذه الاتفاقية؟

### مرحلة الاستقلال والتطور

### عرف الاستقلال:

### • أكمل العبارات التالية:

1. بدأت دول الخليج العربية في التخلص من التبعية البريطانية منذ القرن .....
2. الدولة الأوربية التي سيطرت علي منطقة الخليج العربية تسمى .....
3. حصلت الكويت علي الاستقلال في عام .....
4. حاكم الكويت الذي حصل لبلادة علي الاستقلال  
يسمي .....

• الصورة تمثل .....

• تاريخ الصورة .....

• اسم حاكم الكويت في تلك الفترة.....

• الطرف الأجنبي الذي وقع المعاهدة:.....





## استكمل الجدول التالي بالاستعانة بالكتاب المدرسي ص 60

الإمارات	سلطنة عمان	قطر	البحرين	الكويت	السعودية	الدولة
						سنة الاستقلال
						نوع الاستعمار

• ضع علامة صح أم خطأ أمام العبارات التالية:

- الدولة الخليجية التي لم تخضع للاستعمار البريطاني هي دولة قطر ( ) .
- استقلت دولة عمان سنة 1980م ( )
- الكويت هي أول دولة خليجية نالت استقلالها من الاستعمار البريطاني ( )
- ثلاث دول خليجية فقط خضعت للاستعمار البريطاني ( )
- مملكة البحرين خضعت للاستعمار الفرنسي ( )

• أكتب علي المخطط الزمني الفترة الزمنية التي نالت فيها كل دولة خليجية استقلالها.



1975م

1965م

1955م

1945م

1935م

1925م

( الكتاب المدرسي ص 62 )

**( د ) رحلة إلى دول الخليج العربية****كيف يمكننا المحافظة على التطور والتقدم في منطقة الخليج العربية.**

دول الخليج العربية تتطور حضارياً وسياسياً

**( ع ) قيام مجلس التعاون لدول الخليج العربية****مجلس التعاون الخليجي****1. أكمل العبارات التالية:**

2. أعلن قيام مجلس التعاون لدول الخليج العربية عام .....

3. أعلن قيام مجلس التعاون لدول الخليج العربية في مدينة تسمى .....

4. الدول الأعضاء في مجلس التعاون لدول الخليج العربية هي .....

5. المدينة التي تعتبر المقر الرئيسي لمجلس التعاون لدول الخليج العربية تسمى .....

• قم بعملية حسابية لمعرفة الفترة الزمنية التي تمثل مسيرة مجلس التعاون لدول الخليج العربية منذ بدايته حتى الآن.

**أكتب السمات ( الصفات ) المشتركة بين دول مجلس التعاون الخليجي:**





• الشعار يمثل :

• ما العناصر التي يتكون منها :

دول الخليج العربية تتطور

أنظر الصور ثم اجب عن الأسئلة:



الاجتماع التاسع والعشرون لمجلس التعاون لدول الخليج العربية في مسقط عام ٢٠٠٨

• ما اسم التنظيم السياسي الذي تمثله الصور (3/2).

.....

• في أي عام عقد المؤتمر.....

• ما اسم الدولة الخليجية التي عقد فيها مؤتمر 2008م.

.....

• فكرة إنشاء مجلس التعاون الخليجي ظهرت عام .....

• الشخصية الكويتية صاحبة فكرة إنشاء مجلس التعاون الخليجي يسمى .....

▪ ما أهداف إنشاء مجلس التعاون لدول الخليج العربية

▪ ماذا تتوقع لو لم تكن هناك صفات مشتركة بين دول مجلس التعاون الخليجي.

■ استخرج القيم التي تسعى دول مجلس التعاون الخليجي إلى تحقيقها:

(1): قيمة التعاون: .....

(2) .....


(3) .....

دول الخليج العربية تتطور حضارياً وسياسياً

■ أذكر أهم إنجازات مجلس التعاون لدول الخليج العربية.

وضح الدور الذي قام به مجلس التعاون الخليجي في تحرير دولة الكويت من الغزو العراقي الغاشم.

■ صنف الإنجازات السابقة لمجلس التعاون لدول الخليج العربية في الجدول التالي :

الاقتصادية	الثقافية	السياسية	العسكرية
			



## أكمل العبارات التالية:

1. انطلاق السوق الخليجية المشتركة في يناير عام .....

2. أول دولة استعمارية دخلت الخليج العربية تسمى .....

3. قام النظام العراقي البائد بغزو دولة الكويت في يوم الخميس من ..... عام ..... م ص 123

4. تم إنشاء مكتب التربية العربي ومقرة في ..... م ص 114

5. صدر إعلان الدوحة بشأن قيام السوق الخليجية المشتركة في يناير عام ..... م ص 114

6. أنشأ مجلس التعاون الخليجي قوات درع الجزيرة عام ..... م ص 114

## صنف الكلمات التالية بما يناسبها في الجدول :- ص 113

(( توحيد المناهج التعليمية وتطويرها - زيادة التبادل التجاري - مناصرة قضية فلسطين - إنشاء مكتب التربية العربي - إنشاء قوة مشتركة - المواقف الموحدة تجاه المشكلات السياسية ))

تعاون ثقافي	تعاون اقتصادي	تعاون عسكري	تعاون سياسي