

مدرسة عبد الله حسن الجار الله م. بنين
تدريبات للصف السادس المتوسط
الفصل الدراسي الأولي 2012/2013م

السؤال الأول أكمل العبارات التالية :-

- 1- تقع دولة الكويت في موقع من العالم
- 2- ارض مرتفعة سطحها مستوي وتمتد مساحة كبيرة تسمى
- 3- هضبة تقع في وسط الجزيرة العربية تسمى
- 4- يتشابه مناخ دول الخليج العربية ويتصف بأنه
- 5- الحضرة والقرقور والميدار من وسائل
- 6- من النباتات الطبيعية بدول الخليج العربية النبات المعمر و
- 7- المياه التي توجد في باطن الأرض هي
- 8- تسمى بداية موسم الغوص
- 9- تبلغ درجة الحرارة في دول الخليج بالصيف درجة مئوية
- 10- تسقط الأمطار بفصل الصيف علي سلطنة عمان بمنطقة
- 11- تقع شبه الجزيرة العربية في أقصى قارة آسيا
- 12- تنخفض درجة الحرارة في دول الخليج العربية في الشتاء إلي اقل من درجات مئوية
- 13- أعلن قيام السوق الخليجية المشتركة عام
- 14- تمتد الحضارات القديمة بمنطقة الخليج العربية بجذورها إلي قرنا
- 15- عرف الخليج العربي قديما ب البحر الادني أو
- 16- خضعت البحرين للاستعمار من دولة
- 17- عثر علي العديد من أفران التي اشتهرت بها حضارة مجان
- 18- شهدت منطقة الخليج العربية بعد استقلالها نهضة
- 19- أول دولة استعمارية دخلت الخليج العربي هي
- 20- القرن الميلادي الذي ظهر فيه الإسلام
- 21- الدولة الخليجية التي ظهرت بها حضارة دلمون
- 22- كان يطلق علي صانع السفينة قديما
- 23- الموقع بالنسبة لخطوط الطول ودوائر العرض يسمى
- 24- الموقع بالنسبة لليابس والماء يسمى

25- أعلن قيام مجلس التعاون لدول الخليج العربية عام.....

26- الدولة الخليجية العربية التي لم تخضع للاستعمار

27- استقلت دولة الكويت عام.....

28- هاجر ال الصباح إليوال خليفة إلي.....وال البوسعيد اليعاربة إلي المعاضيد إلي

29- لعب الخليج العربي دور.....بين الشرق والغرب

30- وصلت تجارة الخليج إلي الهند و.....و

السؤال الثاني : (أ) صنف العمال التالية بما يناسبها في الجدول:-

(النوخذة - السيب - الطواش - المجدمي - النهام - الرضيف)

المهنة	أهم الأعمال
.....	- يسحب الغاصة من أعماق البحر
.....	- مطرب السفينة
.....	- ربان السفينة
.....	- صغار السن وهو المساعد للسبب في السفن الكبيرة
.....	- تاجر اللؤلؤ
.....	- رئيس البحرية

(ب) أهم مظاهر السطح في دول الخليج العربية

((الحجاز - عسير - نجد - تهامة - جال الزور - الإحساء - الربع الخالي))

جبال	تلال	هضاب	سهول	صحراء

(ج) مناطق الزراعة في دول الخليج العربية

((البريمي - الوفرة والعبدلي - سهل الباطنة - سهل الإحساء والطائف))

الدولة	المناطق الزراعية
الكويت
السعودية
الإمارات
عمان

السؤال الثالث : (أ) قارن بين كلا من خطوط الطول ودوائر العرض

خطوط الطول	دوائر العرض	وجه المقارنة
		العدد
		خط الأساس
		الأهمية

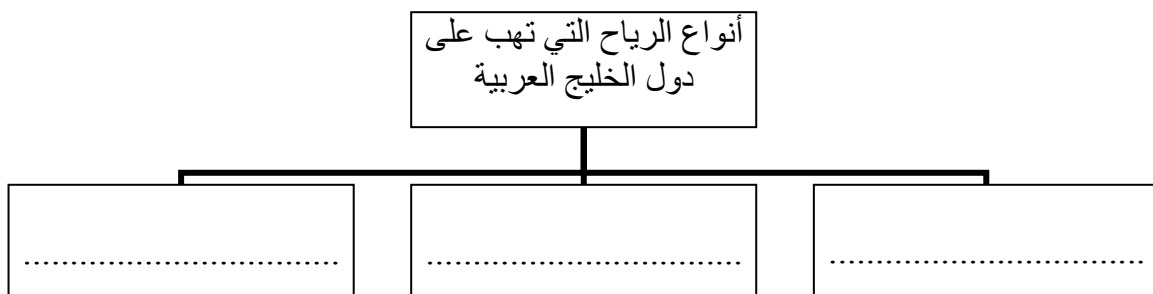
(ب) المناخ في دول الخليج العربية صيفا وشتاء

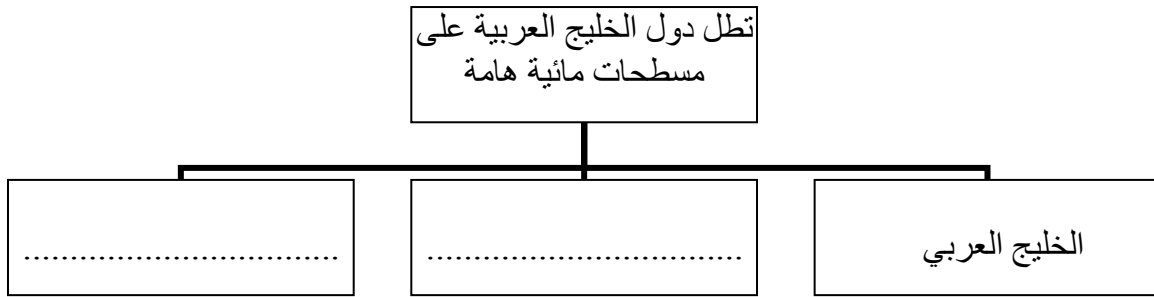
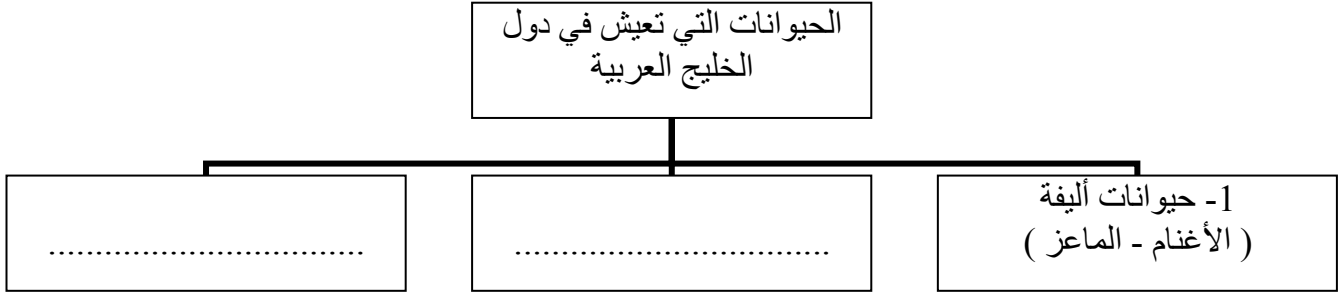
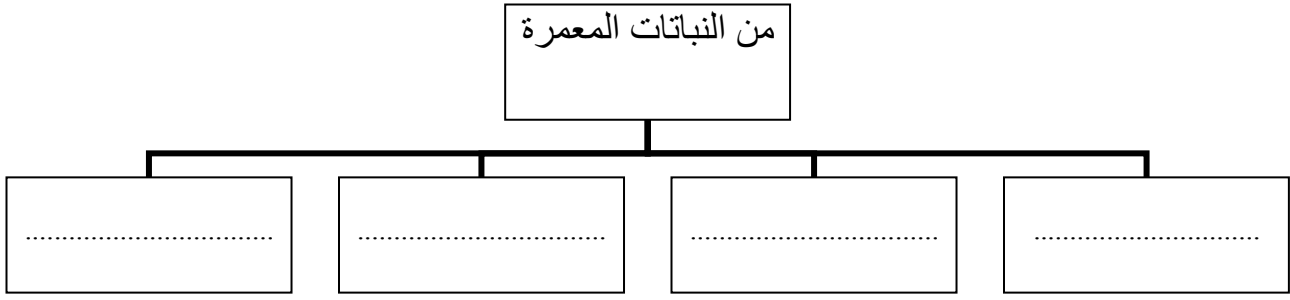
الشتاء	الصيف	وجه المقارنة
		حالة الجو

السؤال الرابع : (أ) ضع علامة (√) أمام العبارة الصحيحة وعلامة (x) أمام العبارة الخاطئة

- 1- استقلت سلطنة عمان عام 1980 ()
- 2- يتكون مجلس التعاون لدول الخليج العربية من خمس دول ()
- 3- لعب الخليج العربي دور الوسيط التجاري بين الشرق والغرب ()
- 4- عقدت معاهدة الحماية بين الكويت وبريطانيا 1988م ()
- 5- هاجر البوسعيد اليعاربة إلى عمان ()
- 6- يقع الجبل الأخضر في البحرين ()
- 7- الخبيزة والحويزان العنصيل من النباتات الحولية ()
- 8- تتشابه الأعمال التي يقوم بها أبناء الخليج العربية ()
- 9- القرن = 1000 سنة ()
- 10- ظهر الإسلام في القرن السابع الميلادي ()

(ب) أكمل المخططات السهمية التالية





(ج) اختار الإجابة الصحيحة من بين الأقواس :-

- 1- الشخصية التي وجهت الدعوة 1976 لإنشاء مجلس التعاون الشيخ (جابر الأحمد - عبد الله السالم - صباح السالم - مبارك الصباح)
- 2- مسطح مائي يحد شبة الجزيرة العربية شرقا (البحر الأحمر - بحر العرب - الخليج العربي - المحيط الهادي)
- 3- سهل يوجد على ساحل الخليج العربي (الباطن - الإحساء - الدبدة - الفرات)
- 4- تعرضت دول الخليج العربية للاستعمار في القرن (الثالث عشر - الرابع عشر - الخامس عشر - السادس عشر)
- 5- استقلت دولة الكويت في عهد الشيخ (مبارك الصباح - عبدالله السالم - جابر الأحمد - صباح السالم)

- 6- من الدول التي استعمرت منطقة الخليج العربية
(إيطاليا – فرنسا – هولندا – ألمانيا)
- 7- يتكون مجلس التعاون الخليجي من
(4 دول – 5 دول – 6 دول – 7 دول)

السؤال الخامس: (أ) علل لما يأتي (أذكر السبب) :-

- 1- النباتات المعمرة متوفرة طول العام ؟
.....
2- تنافس الدول الاستعمارية على منطقة الخليج العربية ؟
.....
3- الحياة في البيئة الصحراوية قاسية وخشنة ؟
.....
4- تشابه الأعمال التي يقوم بها السكان بدول الخليج العربية ؟
.....
5- انصراف سكان دول الخليج العربية عن حرفة الغوص على اللؤلؤ ؟
.....
6- سفينة البغلة هي أفضل أنواع السفن المستعملة في رحلة السفر ؟
.....
7- قيام الحضارة القديمة بمنطقة الخليج العربي ؟
.....
8- عقد الشيخ مبارك اتفاقية حماية مع بريطانيا ؟
.....
9- التطور السياسي لدول الخليج العربية ؟
.....

(ب) اجب عن الأسئلة الآتية :-

- 1- ما أهم الصناعات القديمة بمنطقة الخليج العربية ؟
.....
2- أشهر أنواع الأسماك التي تتوافر في سوق دولة الكويت ؟
.....
3- من أشهر لأنواع السفن التي ظهرت بدول الخليج العربية ؟
.....
4- أذكر أنواع البضائع التي كان يصدره سكان دول الخليج العربية ؟
.....

5- أذكر أهم مظاهر الحضارة العربية الإسلامية؟

6- ما أهداف مجلس التعاون لدول الخليج العربية؟

أ-

ب-

ت-

7- أذكر ثلاث من إنجازات مجلس التعاون لدول الخليج العربية؟

أ-

ب-

ت-

(ج) عرف المفاهيم التالية:-

1- الجبل:

2- البضائع المستوردة:

3- الواحة:

4- الاستقلال:

5- مجلس التعاون لدول الخليج العربية :

6- المسطحات المائية:


7- الحضارة:

8- خطوط الطول :

9- المناخ:

10 – الاستعمار:

د- على ما تعبر هذه الصور :-

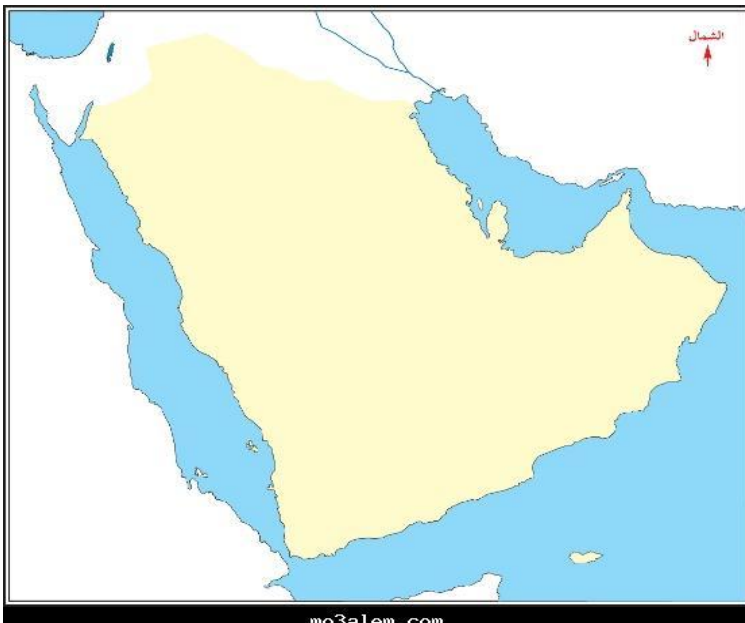
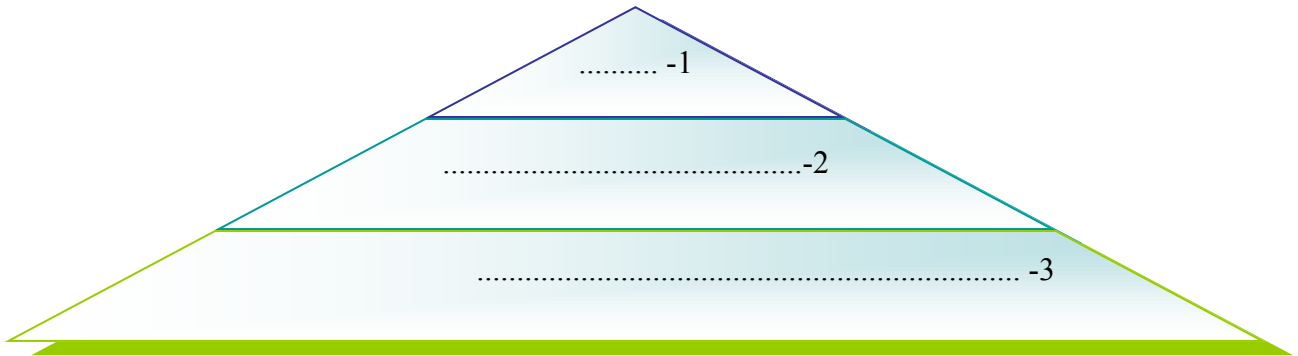


.....

.....

.....

و- رتب الحضارات القديمة في منطقة الخليج العربية من الشمال إلى الجنوب



ط- عدد أهم مظاهر الحضارة الإسلامية ؟

1-

2-

3-

.....

- ظ- حدد على الخريطة التي أمامك هجرة العتوب باستخدام الأسهم.
- أكتب أسماء المسطحات المائية التي تطل عليها شبه الجزيرة العربية .
- سجل على الخريطة أسماء دول الخليج العربية .