

العام الدراسي :
٢٠١٨م - ٢٠١٩م
الزمن : ساعة

امتحان نهاية الفصل الدراسي الأول
المجال الدراسي : الدستور

وزارة التربية
الإدارة العامة لمنطقة الفروانية التعليمية
التوجيه الفني للاجتماعيات

السؤال الأول يتكون من (أ - ب - ج) .

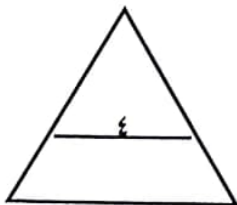
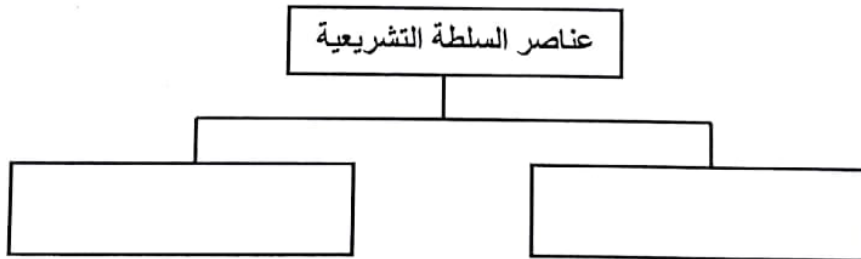
أ- أكمل العبارات التالية بما يناسبها فيما درست :-

- ١- القانون الأعلى لدولة الكويت هو
- ٢- الشهر الذي حدده القانون موعداً للتسجيل في الجداول الانتخابية في دولة الكويت هو
- ٣- الإجراء الأول لإصدار أي قانون في دولة الكويت هو

ب- أختار البديل المناسب بوضع خطا تحت الخيار الصحيح من البدائل التالية :

- ١- رقم المادة من الدستور الكويتي تنص على أن الكويت دولة إسلامية :
(١ - ٢ - ٣ - ٤) .
- ٢- المحاكم التي تنظر في قضايا الحياة اليومية لفض المنازعات :
(العادية - الاستئناف - التميز - الدستورية) .
- ٣- السنة الميلادية التي صدر فيها الأحكام العرفية في دولة الكويت :
(١٩٦١ - ١٩٦٣ - ١٩٦٥ - ١٩٦٧)

ج- أكمل المخطط السهمي التالي :



السؤال الثانى يتكون من (أ - ب - ج) .

أ- عرف المفاهيم التالية:

١- الدستور :

.....
.....

٢- الاختصاص التشريعي :

.....
.....

ب- علل ما يلى :

١- يستطيع الأمير إعلان الحرب الدفاعية دون الرجوع إلى مجلس الأمة :

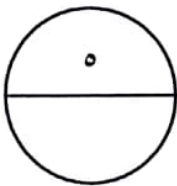
.....
.....

٢- لا يجوز الاعتراض على حكم المحكمة الدستورية :

.....
.....

ج- فرق بين مشروع قانون و اقتراح قانون وفق الجدول التالى :

| مشروع قانون | اقتراح قانون |
|-------------|--------------|
| | |



السؤال الثالث يتكون من (أ - ب - ج) .

أ- عدد ما يلي :

١- الطريقة المتبعة في اختيار الحاكم قبل الاستقلال :

أ-
ب-

٢- شروط تقسيم الدوائر الحكومية .

أ-
ب-

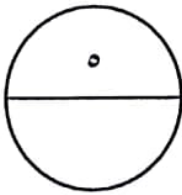
ب- ماذا يحدث في الحالات التالية :

١- لم تتم الانتخابات لمجلس الأمة بعد شهرين من صدور المرسوم الأميري بحل مجلس الأمة:

.....
.....

ج- قارن بين مجلس الشورى الأول والمجلس التشريعي الأول وفق الجدول التالي:

| المجلس | سنة الإنشاء | طريقة اختيار أعضاء المجلس |
|-----------------------|-------------|---------------------------|
| مجلس الشورى الأول | | |
| المجلس التشريعي الأول | | |



السؤال الرابع يتكون من (أ - ب - ج) .

أ- فسر ما يلي :

١- حل مجلس الأمة يجب أن يكون بمرسوم مسبب :

.....
.....

٢- اللوائح الصادرة من السلطة التنفيذية يجب أن لا تخالف الدستور والقانون :

.....
.....

ب- أكتب مما درست ما النتائج المترتبة لما يلي :

١- اعتراض الأمير على مشروع بقانون أو اقتراح بقانون بعد حصوله على أغلبية أصوات مجلس الأمة :

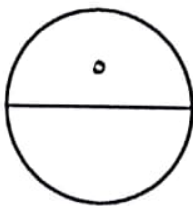
.....
.....
.....
.....

٢- خلو مسند الأمانة قبل تعيين ولي العهد :

.....
.....
.....
.....

ج- أذكر سمات حقوق الإنسان المدنية والسياسية :

أ-
ب-



العام الدراسي :
٢٠١٨م - ٢٠١٩م
الزمن : ساعة

امتحان نهاية الفصل الدراسي الأول
المجال الدراسي : الدستور
الإجابة النموذجية

وزارة التربية
الإدارة العامة لمنطقة الفروانية التعليمية
التوجيه الفني للاجتماعيات

السؤال الأول يتكون من (أ - ب - ج) .

أ- أكمل العبارات التالية بما يناسبها فيما درست :- (درجة ونصف)

١- ((الدستور)) .

٢- ((فبراير)) .

٣- ((الاقتراح)) .

ب- أختَر البديل المناسب بوضع خطا تحت الخيار الصحيح من البدائل التالية: (درجة ونصف)

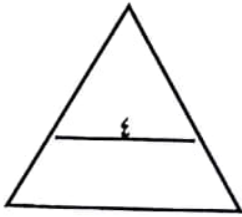
١- ((٢)) .

٢- ((العادية)) .

٣- ((١٩٦٧)) .

ج- أكمل المخطط السهمي التالي: (درجة)

((الأمير - مجلس الأمة)) .



السؤال الثاني يتكون من (أ- ب - ج) .

أ- عرف المفاهيم التالية: (درجتان) .

١- الدستور :

مجموعة القواعد الأساسية التي تبين شكل الدولة ونظام الحكم .

٢- الاختصاص التشريعي :

قدرة السلطة التشريعية على سن القوانين .

ب- علل ما يلي : (درجتان) .

١- يستطيع الأمير إعلان الحرب الدفاعية دون الرجوع إلى مجلس الأمة :

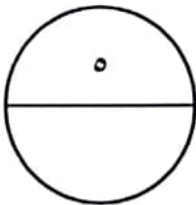
لأنه الظروف الطارئة تستوجب من الأمير سرعة التصدي للخطر الذي يهدد الدولة .

٢- لا يجوز الاعتراض على حكم المحكمة الدستورية :

لأنه حكم المحكمة الدستورية ملزم للأطراف كافة ولسائر المحاكم

ج- فرق بين مشروع قانون و اقتراح قانون وفق الجدول التالي : (درجة)

| مشروع قانون | اقتراح قانون |
|----------------------------------|----------------------------|
| مشروع القانون الذي تقدمه الحكومة | القانون الذي يقترحه النواب |



السؤال الثالث يتكون من (أ - ب - ج) .

أ- عدد ما يلي : (درجتان) .

١ - الطريقة المتبعة في اختيار الحاكم قبل الاستقلال :

أ- تختار الأسرة الحاكمة احد أفرادها ويتصف (برجاحة العقل - الحكمة - العلم) .
ب- المبايعه من قبل وجهاء البلد و أفراد المجتمع .

٢ - شروط تقسيم الدوائر الحكومية .

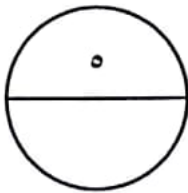
أ- العدالة و المساواة في توزيع عدد الناخبين على الدوائر
ب- التقارب الجغرافي للمناطق . لا يجوز ضم مناطق مشتتة لا رابط بينهما في دائرة واحدة.

ب- ماذا يحدث في الحالات التالية : (درجة) .

١ - لم تتم الانتخابات لمجلس الأمة بعد شهرين من صدور المرسوم الأميري بحل مجلس الأمة:
يسترد المجلس المنحل كافة صلاحياته .

ج- قارن بين مجلس الشورى الأول والمجلس التشريعى الأول وفق الجدول التالى: (درجتان) .

| المجلس | سنة الإنشاء | طريقة اختيار أعضاء المجلس |
|-----------------------|-------------|---------------------------|
| مجلس الشورى الأول | ١٩٢١م | الاختيار أو التعيين |
| المجلس التشريعى الأول | ١٩٣٨م | الانتخاب |



السؤال الرابع يتكون من (أ - ب - ج) .

أ- فسر ما يلي : (درجتان) .

١- حل مجلس الأمة يجب أن يكون بمرسوم مسبب :

لكي يعرف الشعب أسباب حل مجلس الأمة

٢- اللوائح الصادرة من السلطة التنفيذية يجب أن لا تخالف الدستور والقانون :

لأنه الدستور والقانون أعلى مرتبة من اللائحة

ب- أكتب مما درست ما النتائج المترتبة لما يلي : (درجتان) .

١- اعتراض الأمير على مشروع بقانون أو اقتراح بقانون بعد حصوله على أغلبية أصوات مجلس الأمة :

يرجع المشروع أو اقتراح بقانون لمجلس الأمة للتصويت عليه مرة أخرى ويتم إقراره إذا حصل على أغلبية ثلثي أعضاء مجلس الأمة .

٢- خلو مسند الأمانة قبل تعيين ولي العهد :

مارس مجلس الوزراء جميع اختصاصات رئيس الدولة لحين اختيار الأمير .

ج- أذكر سمات حقوق الإنسان المدنية والسياسية : (درجة) . (يكتفي بنقطة)

١- ذات طابع فردي, وترتبط بوجود الإنسان .

٢- تسمى الحقوق الطبيعية للإنسان .

٣- لا يحق للدولة التعدي عليها أو تصديرها .

٤- من أمثلة هذه الحقوق الحق في (الحياة - الكرامة الإنسانية - حرية الاعتقاد - حرية الرأي والتعبير) .

