



وزارة التربية

امتحان نهاية الفترة الدراسية الثانية العام الدراسي : ٢٠١٦ / ٢٠١٧ م

التوجيه الفني العام للاجتماعيات

للمصف الثاني عشر الأدبي

الزمن : ساعتان

لمادة تاريخ العالم الحديث والمعاصر

عدد الأوراق : ٧ ورقات

أجب عن أربعة أسئلة مما يلي على أن يكون السؤال الأول من بينها إجبارياً:-

السؤال الأول: (إجباري) يتكون من (أ - ب - ج - د) :-

(أ) أكمل العبارات التالية بما يناسبها فيما درست :-

- ١- الكنيسة الإنجليزية التي تعتنق المذهب البروتستانتي تسمى
- ٢- العام الذي انتصر فيه سكان المستعمرات في معركة ساراتوجا
- ٣- كاتب ساخر عرف بنقده اللاذع وسخريته الشديدة للأوضاع البالية في فرنسا يسمى
- ٤- جماعة سيطرت على قرارات المؤتمر الوطني ١٧٩٢ م واشتهرت بعدائها الشديد للملكية تسمى
- ٥- المعركة التي هُزم فيها الألمان على يد الجيش الأحمر عام ١٩٤٢ م تسمى

ب) أكتب المفاهيم أو المصطلحات الدالة عليها العبارات التالية :-

- ١- (.....) مؤتمر عقد عام ١٩٣٨ م تم بموجبه ضم هتلر لتشيكوسلوفاكيا .
- ٢- (.....) تشريعات يتفق عليها دوليا وهي مقننة تلتزم الدول المشتركة بها .
- ٣- (.....) المجالس المحلية التي أسسها الحزب الشيوعي .
- ٤- (.....) حزمة من الضرائب التي كانت بمثابة الشرارة التي انطلقت منها الثورة الأمريكية .
- ٥- (.....) إعلان تم بين أمبراطوريتي النمسا وبروسيا عام ١٧٩١ م لإنقاذ الملكية الفرنسية .

تابع / السؤال الأول (إجباري) :-

ج) ضع خطأً تحت الخيار الصحيح من بين الخيارات التي تلي كل عبارة :-

١- عدد النواب الذين اجتمعوا عام ١٧٨٧م لوضع دستور يجمع الولايات المتحدة الأمريكية :

(٥٢ نائباً - ٥٣ نائباً - ٥٤ نائباً - ٥٥ نائباً)

٢- المفكر الفرنسي الذي ألف كتاب روح القوانين :

(مونتسكيو - فولتير - جون لوك - روسو)


٣- احتل هتلر الراين في عام :

(١٩٣٣م - ١٩٣٤م - ١٩٣٥م - ١٩٣٦م)

٤ - المعاهدة التي أعطت لفرنسا العديد من المكاسب عام ١٧٩٧م :

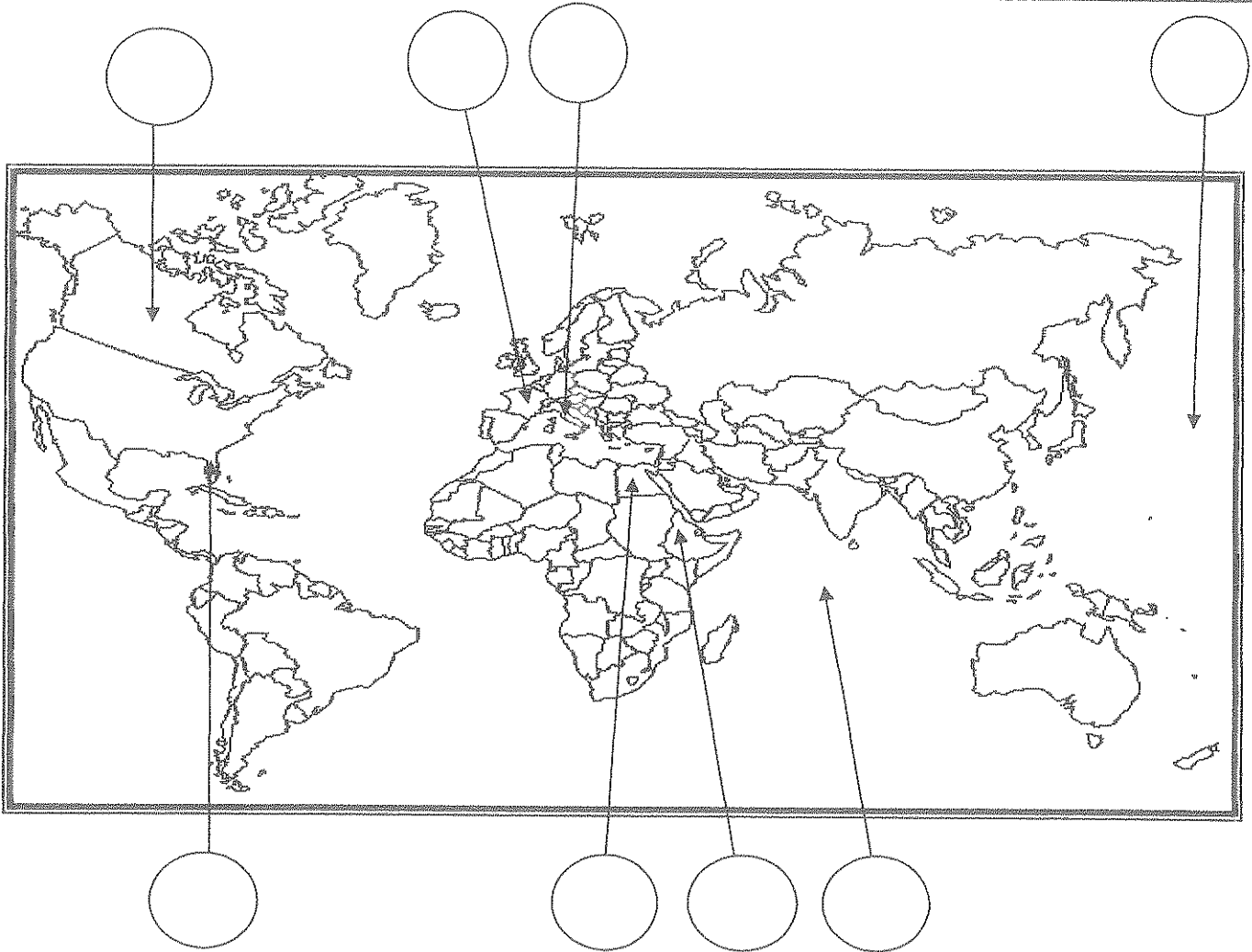
(لوزان - كامبو فروميو - باريس - لندن)

٥- الفترة الزمنية التي تمثل الحرب العالمية الأولى يمثلها على المخطط الزمني الحرف :



تابع / السؤال الأول (إجباري) :-

(د) أمامك خريطة العالم - أكتب الرقم الدال على العبارات التالية في الدائرة المناسبة لها :-

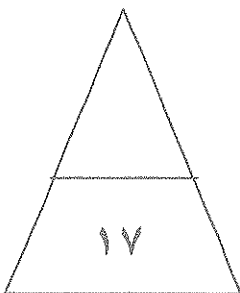


١- دولة شهدت أحداث معركة ريفولي الشهيرة في ١٤ يناير سنة ١٧٩٧م .

٢- مسطح مائي شهد النزاع بين اليابان والولايات المتحدة الأمريكية خلال الحرب العالمية الثانية.

٣- دولة وقعت تحت الإحتلال الإيطالي عام ١٩٣٦م .

٤- المستعمرة الأسبانية في أمريكا الشمالية .



السؤال الثاني : (اختياري) يتكون من (أ ، ب ، ج) :-

أ - علل لما يلي :-

١- تعتبر معركة فالمي من المعارك الفاصلة في التاريخ على الرغم من صغر حجمها .

٢- إصرار البرلمان الإنجليزي على بقاء ضريبة الشاي بالرغم من إلغاء بقية الضرائب .

ب - عرف المفاهيم والمصطلحات التالية :-

١- النظام الجديد :

٢- أيديولوجيه :

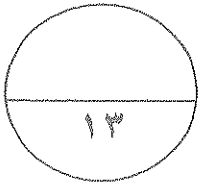
٣- المارن :

ج- أذكر النتائج المترتبة على الأحداث التالية :-

١- الثورة الأمريكية .

٢- سقوط حصن الباستيل في فرنسا .

٣- مؤتمرات الصلح التي عقدتها الدول المنتصرة بعد الحرب العالمية الأولى .



السؤال الثالث : (اختياري) يتكون من (أ ، ب ، ج) :-

أ- فند العبارات التالية :-

١- تمتعت الطبقة العامة في فرنسا بالكثير من الإمتيازات قبيل الثورة الفرنسية .

..... -
..... -

٢- أعطت وثيقة الحقوق الإنجليزية العديد من الصلاحيات للملك الإنجليزي.

..... -
..... -
..... -

ب- قارن بين كل من :-

مؤتمر فيلادلفيا الثاني	مؤتمر فيلادلفيا الأول	أوجه المقارنة
.....	السنة
..... - -	القرارات
..... - -	

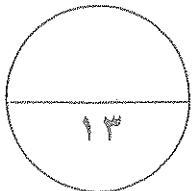
ج- ماذا يحدث لو لم :-

١ - يسقط سوق الأوراق المالية في مدينة نيويورك عام ١٩٢٩م .

..... -
..... -

٢- تهاجم اليابان ميناء بيرل هاربر الأمريكي .

..... -



السؤال الرابع : (اختياري) يتكون من (أ ، ب ، ج) :-

أ-اقرأ الفقرة التالية ثم اجب عما يليها من أسئلة :-

(اجتمع زعماء الدول الكبرى الثلاث (روزفلت - تشرشل - ستالين) في مؤتمر يالطا في الإتحاد السوفيتي عام ١٩٤٥م ودعوا الدول المحبة للسلام لحضور مؤتمر سان فرانسيسكو لإبرام ميثاق الأمم المتحدة ، فقامت (٥٠) دولة بالتوقيع على الميثاق ثم افتتحت هيئة الأمم المتحدة رسمياً في ٢٤ أكتوبر ١٩٤٥م ، وقد نادى بالمحافظة على السلام والأمن الدوليين ، وتحقيق التعاون الدولي في جميع المجالات)

١- عرف ماتحتته خط .

هيئة الأمم المتحدة :

٢- أستخرج من الفقرة السابقة هدفين من أهداف الأمم المتحدة .

.....

.....

ب فسر كلاً مما يلي :-

١- استحالة التوافق بين الحاكم والمجلس التشريعي في المستعمرات الإنجليزية في أمريكا الشمالية .

.....

.....

2- فشل عصبة الأمم في تحقيق الغايات التي أنشئت من أجلها.

.....

.....

ج - عدد كلاً مما يلي :-

١- ملامح عالمنا المعاصر .

.....

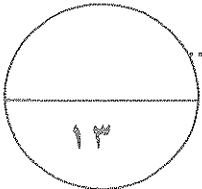
.....

.....

٢- العوامل الاقتصادية للثورة الفرنسية .

.....

.....



السؤال الخامس : (إختياري) يتكون من (أ ، ب ، ج) :-

أ- فرق بين كل مما يلي :-

السبب المباشر للحرب العالمية الثانية	السبب المباشر للحرب العالمية الأولى
.....
.....

ب- نفذ المطلوب منك بين الأقواس :-

١- إصلاحات نابليون الداخلية . (أوضاع الكنيسة)

.....
.....

٢- النازية . (مبادئها)

.....
.....
.....

٣- الحرب العالمية الثانية (النتائج البشرية)

.....
.....

ج - أكتب فقرة مترابطة مستعيناً بالكلمات التالية:-

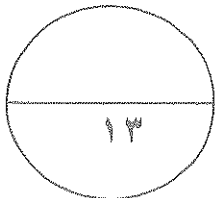
(المجالس النيابية - الحق الإلهي المقدس - مجلس اللوردات - مجلس العموم)

.....
.....
.....

انتهت الأسئلة

مع تمنياتنا لكم بالتوفيق

(٧)





وزارة التربية

التوجيه الفني العام للاجتماعيات

امتحان نهاية الفترة الدراسية الثانية العام الدراسي : ٢٠١٦ / ٢٠١٧ م

الزمن (ساعتان)

للمصف الثاني عشر الأدبي

عدد الأوراق: ٨ ورقات

لمادة تاريخ العالم الحديث والمعاصر

اجب عن اربعة أسئلة مما يلي على أن يكون السؤال الأول من بينها إجبارياً :-

لكل نقطة درجة

السؤال الأول: (إجباري) يتكون من (ا - ب - ج - د) :-

(ا) أكمل العبارات التالية بما يناسبها فيما درست :-

ص ٧٣



ص ٨٢

ص ٨٥

ص ٩١

ص ١١١

١- الكنيسة الإنجليزية التي تعتنق المذهب البروتستانتي تسمى الانجليكانية.

٢- العام الذي انتصر فيه سكان المستعمرات في معركة ساراتوجا ١٧٧٧ م.

٣- كاتب ساخر عرف بنقده اللاذع وسخريته الشديدة للأوضاع البالية في فرنسا يسمى فولتير.

٤- جماعة سيطرت على قرارات المؤتمر الوطني ١٧٩٢ م وأشتهرت بعدائها الشديد للملكية تسمى اليعاقبة.

٥- المعركة التي هُزم فيها الألمان على يد الجيش الأحمر عام ١٩٤٢ م تسمى ستالينجراد.

ب) أكتب المفاهيم أو المصطلحات الدالة عليها العبارات التالية :- لكل نقطة درجة

ص ١٠٩

١- (مؤتمر ميونخ) مؤتمر عقد عام ١٩٣٨ م تم بموجبه ضم هتلر لتشيكوسلوفاكيا.

ص ٩٧

٢- (الاتفاقيات الدولية) تشريعات يتفق عليها دوليا وهي مقننة تلتزم الدول المشتركة بها.

ص ١٠٦

٣- (الموفيت) المجالس المحلية التي أسسها الحزب الشيوعي.

٤- (القوانين سيئة السمعة) حزمة من الضرائب التي كانت بمثابة الشرارة التي انطلقت منها الثورة الأمريكية . ص ٧٨

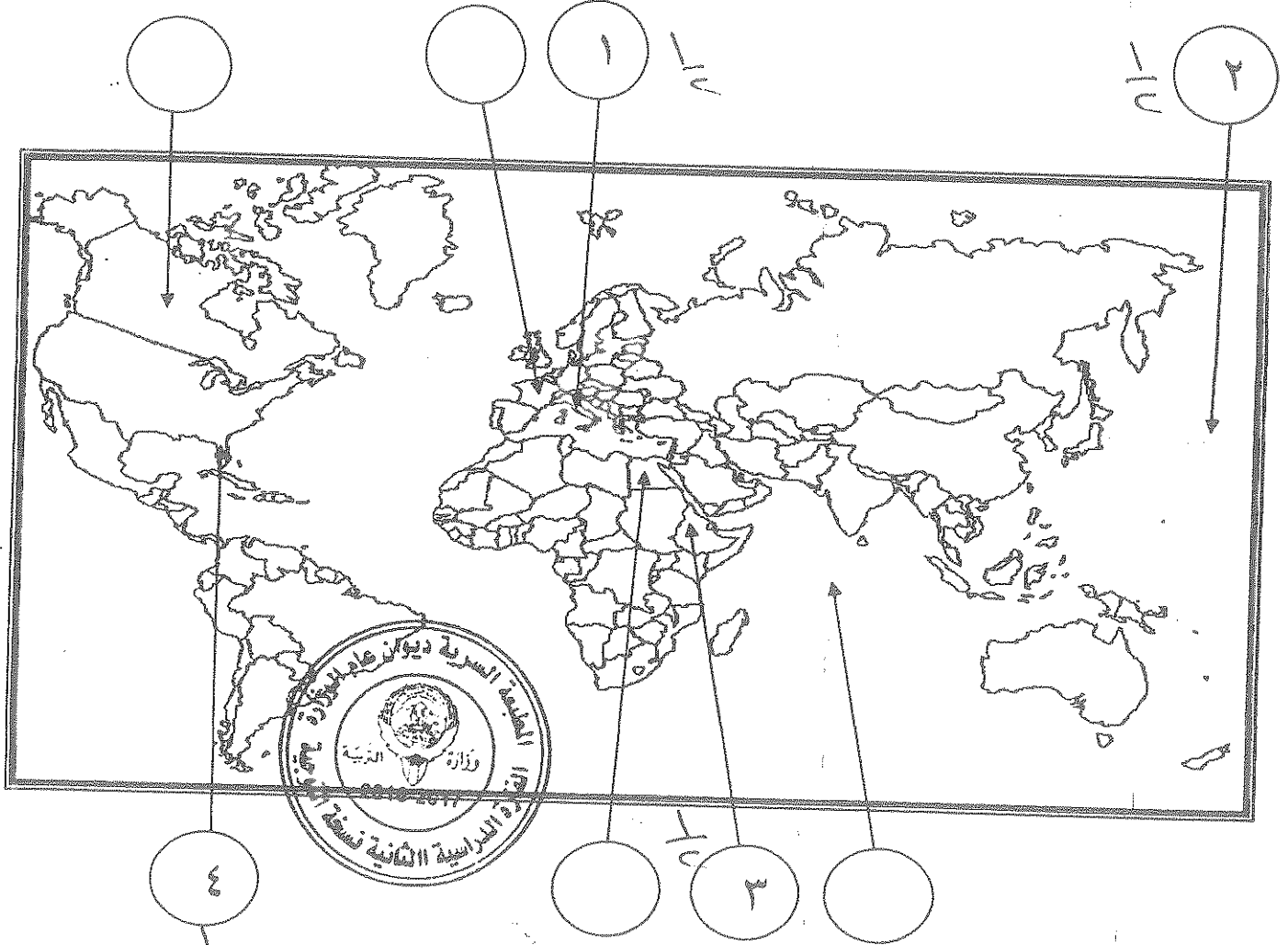
ص ٩٠

٥- (إعلان بلننز) إعلان تم بين امبراطوريتي النمسا وبروسيا عام ١٧٩١ م لإنقاذ الملكية الفرنسية.

نصف درجة لكل نقطة

تابع السؤال الأول (إجباري) :-

د- أمامك خريطة العالم - أكتب الرقم الدال على العبارات التالية في الدائرة المناسبة لها :-



ص ٩٢

١- دولة شهدت أحداث معركة ريفولي الشهيرة في ١٤ يناير سنة ١٧٩٧م .

ص ١١١

٢- مسطح مائي شهد النزاع بين اليابان والولايات المتحدة الأمريكية خلال الحرب العالمية الثانية .

ص ١٠٩

٣- دولة وقعت تحت الاحتلال الإيطالي عام ١٩٣٦م .

ص ٧٧

٤- المستعمرة الأسبانية في أمريكا الشمالية .

السؤال الثاني: (اختياري) يتكون من (أ ، ب ، ج)

(لكل نقطة درجة)

أ - علل لما يلي :-

- ١- تعتبر معركة فالمي من المعارك الفاصلة في التاريخ على الرغم من صغر حجمها .
- أنقذت افكار الثورة الفرنسية من الضياع - حالت دون وقوع باريس - رفعت الروح المعنوية للفرنسيين - تحول جيش الثورة بعدها من الدفاع إلي الهجوم وأصبح مصدر رعب للدول الأوروبية .
ص ٩٠ يكتفي ب ٣ نقطه
- ٢- إصرار البرلمان الإنجليزي على بقاء ضريبة الشاي بالرغم من إلغاء بقية الضرائب .
- ليبقي حق فرض الضرائب قائما على المستعمرات .
ص ٧٩ يكتفي بنقطة (درجة)

(٣ درجات لكل نقطة درجة)

ب - عرف المفاهيم والمصطلحات التالية :-

- ١- النظام الجديد : مشروع اقتصادي ينسب للرئيس الأمريكي مشاريع كبري تهدف لتشغيل أكبر عدد من العمال لحل مشكلة البطالة التي تسببها الأزمة الاقتصادية العالمية .
السياسة الاقتصادية التي تسيطر عليها بلادة من الإقتصاد الرأسمالي .
ص ١٠٥
- ٢- أيديولوجيه : نسق من الآراء والأفكار السياسية والفكرية التي تتناول القضايا السياسية والاقتصادية .
ص ٩٧
- ٣- المارن : نهر في فرنسا كان مسرحاً لمعركتين حاسمتين .
ص ١٠١

(لكل نقطة درجة)

ج- أذكر النتائج المترتبة على الأحداث التالية :-

- ١- الثورة الأمريكية .
- انتشرت عدواها إلي سكان أمريكا الجنوبية (اللاتينية)
- تشجيع سكان المستعمرات البريطانية في آسيا وأفريقيا على القيام بثورات ضدها كي يتخلصوا من استعمارها .
- صارت الولايات المتحدة ملاذاً لدعاة الفكر من الاوربيين ورمزاً للحرية والتجديد .
- السبب المباشر في قيام الثورة الفرنسية نتيجة للأموال الطائلة التي أنفقتها في الحوب ضد بريطانيا في العالم الجديد .
ص ٨٣ يكتفي بنقطتين
- ٢- سقوط حصن الباستيل في فرنسا .
- عمت الفوضى في كل مكان . - توقف الفلاحون عن دفع الضرائب .
- انتقض الفلاحون على قصور النبلاء واحرقوا الوثائق التي تعطيهم حقوقا إقطاعية .
- هجرة النبلاء إلي خارج فرنسا وسرعان ما أصبح هؤلاء المهاجرون أكبر خطر على الثورة الفرنسية .
ص ٨٨ يكتفي بنقطتين

(٢ درجة)

٣- مؤتمرات الصلح التي عقدتها الدول المنتصرة في الحرب العالمية الأولى .

- تفكك إمبراطوريات عريقة مثل (الألمانية / النمسا / الروسية / الدولة العثمانية) وظهور دول قومية جديدة في أوربا مثل (بولندا / تشيكوسلوفاكيا / يوغسلافيا / المجر)

(٤ درجات)

- أن تتحمل المانيا مسؤولية الحرب حيث فرضت عليها دفع تعويضات مالية كبيرة للحلفاء .
- تخفيض عدد الجيش الألماني ومنع ألمانيا من تصنيع أو اقتناء الأسلحة العسكرية .
- اقتطاع اجزاء من ألمانيا وضمها لدول أخرى .
- وضع إقليم السار تحت الإدارة الدولي .

السؤال الثالث : (إختياري) يتكون من (أ ، ب ، ج) :-

أ- فند العبارات التالية :-

١- تمنعت الطبقة العامة في فرنسا بالكثير من الإمتيازات قبيل الثورة الفرنسية (درجتان) يكتفي بنقطتين ص ٨٥
بالعكس من ذلك بل :

- عانت هذه الطبقة من صنوف الظلم والاستعباد .
- استبعدت من جميع الوظائف العليا في الدولة .
- فرضت عليهم جميع أنواع الضرائب .
- عاشت هذه الطبقة في بؤس وشقاء .

٢- أعطت وثيقة الحقوق الإنجليزية العديد من الصلاحيات للملك الإنجليزي . يكتفي بثلاث نقاط ص ٧٤

بالعكس من ذلك بل :

انتزعت من الملك الإنجليزي معظم صلاحياته وفقاً لوثيقة الحقوق الإنجليزية حيث جاء فيها :

- لا يجوز للملك إبطال أو تعديل قانون صادر عن البرلمان .
- لا يجوز للملك فرض ضرائب أو تشكيل جيش أو إعلان حرب دون موافقة البرلمان .
- للبرلمان الحق الكامل في التعبير عن آرائهم في حرية تامة .
- أعطي البرلمان حصانة للمواطنين حيث لا يمكن اعتقال مواطن دون محاكمة تجري وفق القوانين .

ب (قارن بين كل من :- (٥ درجات) لكل نقطة درجة ص ٨٠)

أوجه المقارنة	مؤتمر فيلادلفيا الأول	مؤتمر فلادلفيا الثاني
السنة	١٧٧٤م $\frac{1}{3}$	١٧٧٥م $\frac{1}{2}$
القرارات	<p>- عدم الرضوخ للقوانين الجائرة التي أصدرتها إنجلترا ضد ميناء بوسطن</p> <p>- وجهوا طلباً من الشعب الأمريكي للملك الإنجليزي بإلغاء تلك القوانين الجائرة</p> <p>- إعادة سلاح المقاطعة التجارية للبضائع الإنجليزية .</p> <p>- تشكيل لجان في كل المدن لتنظيم عملية المقاطعة والإشراف عليها . (يكتفي بنقطتين)</p>	<p>- اعتبار جيش بوسطن جيشاً أمريكياً يخص كل المستعمرات .</p> <p>- تعيين جورج واشنطن قائداً عاماً للقوات ، وبذلك تكون الجيش الوطني الأمريكي الذي سيخوض حرب الاستقلال الأمريكية . . . (يكتفي بنقطتين)</p>



درجتان

(٥) درجات

تابع السؤال الثالث (إختياري) :-

ج- ماذا يحدث لو لم :-

درجه ١٠٥

ص ١٠٥

يكتفى بنقطتين

١- يسقط سوق الأوراق المالية في مدينة نيويورك عام ١٩٢٩م.

- لما أفلست كثير من البنوك والمؤسسات .
- لما ظالبت البنوك والمؤسسات بديونها من أوروبا .
- لما أغلقت المصانع وانتشرت البطالة .
- لما إنتشرت اثارها في انحاء العالم .
- لما إنخفضت الاسعار في الولايات المتحدة .
- لما توقفت التطور الاقتصادي الأوروبي .
- لما إنهار البنوك والمؤسسات الأوروبية .
- لم تتراجع التجارة الخارجية والإنتاج العالمي .

(أي إجابة يراها المصحح مناسبة)

ص ١١١

يكتفى بنقطة

درجة

٢- تهاجم اليابان ميناء بيرل هاربر الأمريكي .

- لما دخلت الولايات المتحدة الأمريكية الحرب العالمية الثانية .
- لما القت الولايات المتحدة الأمريكية قنبلتين ذريتين على هيروشيما و نجازاكي .

(أي إجابة يراها المصحح مناسبة)



السؤال الرابع : (اختياري) يتكون من (أ ، ب ، ج) :-

ص ١١٦

أ- اقرأ الفقرة التالية ثم نفذ المطلوب منك :-

(اجتمع زعماء الدول الكبرى الثلاث (روزفلت - تشرشل - ستالين) في مؤتمر بالطا في الإتحاد السوفيتي عام ١٩٤٥م ودعوا الدول المحبة للسلام لحضور مؤتمر سان فرانسيسكو لإبرام ميثاق الأمم المتحدة ، فقامت (٥٠) دولة بالتوقيع على الميثاق ثم افتتحت هيئة الأمم المتحدة رسمياً في ٢٤ أكتوبر ١٩٤٥م ، وقد نادى بالمحافظة على السلام والأمن الدوليين ، وتحقيق التعاون الدولي في جميع المجالات .)

- ١- عرف ما تحته خط . (هيئة الأمم المتحدة) منشئها عالمه تشرشل السلام من العالم درجة .
منظمة دولية تضم جميع دول العالم المستقلة تأسست عام ١٩٤٥م ، مقرها الولايات المتحدة الأمريكية .
٢- استخرج من الفقرة السابقة هدفين من أهداف الأمم المتحدة .
- المحافظة على السلام والأمن الدوليين .
- تحقيق التعاون الدولي في جميع المجالات .

ب فسر كلاً مما يلي :-

١- استحالة التوافق بين الحاكم والمجلس التشريعي في المستعمرات الإنجليزية في أمريكا الشمالية .

يكتفي بنقطتين (درجتان) ص ٧٧

- إن الحاكم يهمة بالدرجة الأولى مصالح الملك الذي يمثلها بينما المجلس المنتخب (النيابي) يهمة مصالح الشعب الأمريكي في المقام الأول ويدافع عنها باستماتة .

كانت إنجلترا تنظر للمواطن الأمريكي على أنه مواطن من الدرجة الثانية بينما المجلس (النيابي) لا يرى أن هناك فارق بين المواطن الأمريكي والمواطن الإنجليزي .

٢- فشل عصبة الأمم في تحقيق الغايات التي أنشئت من أجلها .
- عدم التزام الدول الكبرى بميثاق العصبة .
- سياسة الدول المنتصرة في الحرب .
- لم تشارك الولايات المتحدة في عضويتها .
- لمصلحة الدول الكبرى .

ج - عدد كلاً مما يلي :-

١- ملامح عالما المعاصر .

- اليابان قوة اقتصادية عظمى .

- ظهور دول نامية ومتخلفة اقتصادياً واجتماعياً .

- فجوة علمية اقتصادية بين الدول المتقدمة والنامية .

- مخاوف من حرب نووية واتفاقيات (سالت) لوقف التسليح واستخدام الأسلحة الفتاكة .

- تفعيل مشروع مارشال ثم المجموعة الأوروبية ثم الإتحاد الأوروبي .

- الولايات المتحدة زعيمة الكتلة الغربية الرأسمالية ثم القوة الأعظم بعد تفكك الإتحاد السوفيتي .

- هيئة الأمم المتحدة لحفظ السلام والأمن والتعاون بين دول العالم .

٢- العوامل الاقتصادية للثورة الفرنسية .

- الخسائر الكبيرة التي ترتبت على الحروب الخاسرة التي خاضتها فرنسا خلال القرن الثامن عشر مما أدى إلى

استنزاف كثير من أموال الخزانة الفرنسية وفقدت فرنسا الكثير من المستعمرات .

- اشتراك فرنسا في حرب الاستقلال الأمريكية ونتيجة لذلك تحملت الخزانة أموالاً طائلة أجهزت على خزانة الدولة .

- سياسة الامتيازات والاعفاءات الضريبية التي كانت فرنسا تطبقها كانت الطبقة الممتازة والكنيسة معفاة من

جميع الضرائب .

- حياة الترف والبلذخ التي كان يعيشها البلاط الفرنسي .



السؤال الخامس: (إختياري) يتكون من (أ ، ب ، ج) :-

أ- فرق بين كل مما يلي :-

السبب المباشر للحرب العالمية الثانية ص ١١٠	السبب المباشر للحرب العالمية الأولى ص ١٠٠
مفاجئة هتلر للعالم أول سبتمبر ١٩٣٩ باجتياح بولندا ورفضه إنذار بريطانيا وفرنسا فأنقسم العالم إلي معسكرين الحلفاء والمحور وكانت هذه بداية الحرب العالمية الثانية .	قيام طالب صربي باغتيال ولي عهد النمسا فرديناند وزوجته في مدينة سراييفو عاصمة البوسنة في ٢٨ يونيو عام ١٩١٤م وكان هذا الحادث البداية التي أدت إلي قيام الحرب .
درجة وصف	درجة وصف

ب- نفذ المطلوب منك بين الأقواس :-

١- إصلاحات نابليون الداخلية.

- إصلاح أوضاع الكنيسة : في ١٦ يوليو ١٨٠١م وقع نابليون مع البابا (بيوس السابع) اتفاقاً نهائياً اعترفت فرنسا فيها بالكنيسة الكاثوليكية وسيادتها الروحية وفي المقابل اعترفت البابوية بقوانين مصادرة أملاك الكنيسة التي أصدرتها الثورة .

- يتم تعيين رجال الكنيسة بالتعاون بين البابوية والدولة الفرنسية .

يكتفي ب ٣ نقاط ص ١٠٧

(مبادئها)

٢- النازية .

- تفوق العنصر البشري الجرمانى (الألماني) على جميع العناصر البشرية .

- قيام ألمانيا الكبرى التي تضم كل الألمان .

- امتلاك الدولة للشركات الاحتكارية - إلغاء معاهدة فرساي - استعادة المستعمرات الألمانية .

ص ١١٤

(النتائج البشرية) يكتفي بنقطتين

٣- الحرب العالمية الثانية .

- سقط في هذه الحرب حوالي ٥٠ مليون قتيل

- شرد الملايين في أوروبا واليابان

- انتشار ممارسة العنف .

- عم الخراب والدمار معظم أنحاء العالم وبرزت مشكلة المشوهين

والمعاقمين


(٣ درجات) ص ٧٥

ج- أكتب فقرة مترابطة مستعيناً بالكلمات التالية :-

(المجالس النيابية - الحق الإلهي المقدس - مجلس اللوردات - مجلس العموم)

قضت المجالس النيابية بعد الثورة الإنجليزية على الحق الإلهي المقدس الذي كان يمنح للملوك حيث تم الأخذ بمبدأ تركيز السلطة التنفيذية في مجلسي مجلس اللوردات الذي يمثل الأرستقراطية الإنجليزية و مجلس العموم الذي يمثل الديمقراطية .

(ما يراد المصحح مناسباً)



أجب عن أربعة أسئلة مما يلي على أن يكون السؤال الأول من بينها إجبارياً:-

السؤال الأول (إجباري) ويتكون من (أ - ب - ج - د):-



(ا) أكمل العبارات التالية بما يناسبها فيما درست:-

- ١- الكتاب الشهير الذي ألفه المفكر الفرنسي "روسو" يسمى.....
- ٢- المنظمة العالمية المسؤولة عن مواجهة المشاكل الصحية في العالم تسمى.....
- ٣- القانون الإنجليزي الذي فرض رسوما على المستندات التجارية وعقود البيع والرهن الأمريكية يسمى.....
- ٤- الحق الذي يتمتع به الأعضاء الدائمون في مجلس الأمن يسمى.....
- ٥- النهر الفرنسي الذي كان مسرحا لمعركتين حاسمتين في الحرب العالمية الأولى يسمى.....

(ب) أعد ترتيب الأحداث التاريخية التالية تصاعديا من الأحدث إلى الأقدم:-

(سقوط موسوليني - هتلر يكتسح بولندا - استسلام فرنسا للألمان - إنزال الحلفاء في النورماندي - انتحار هتلر)

.....
-------	-------	-------	-------	-------

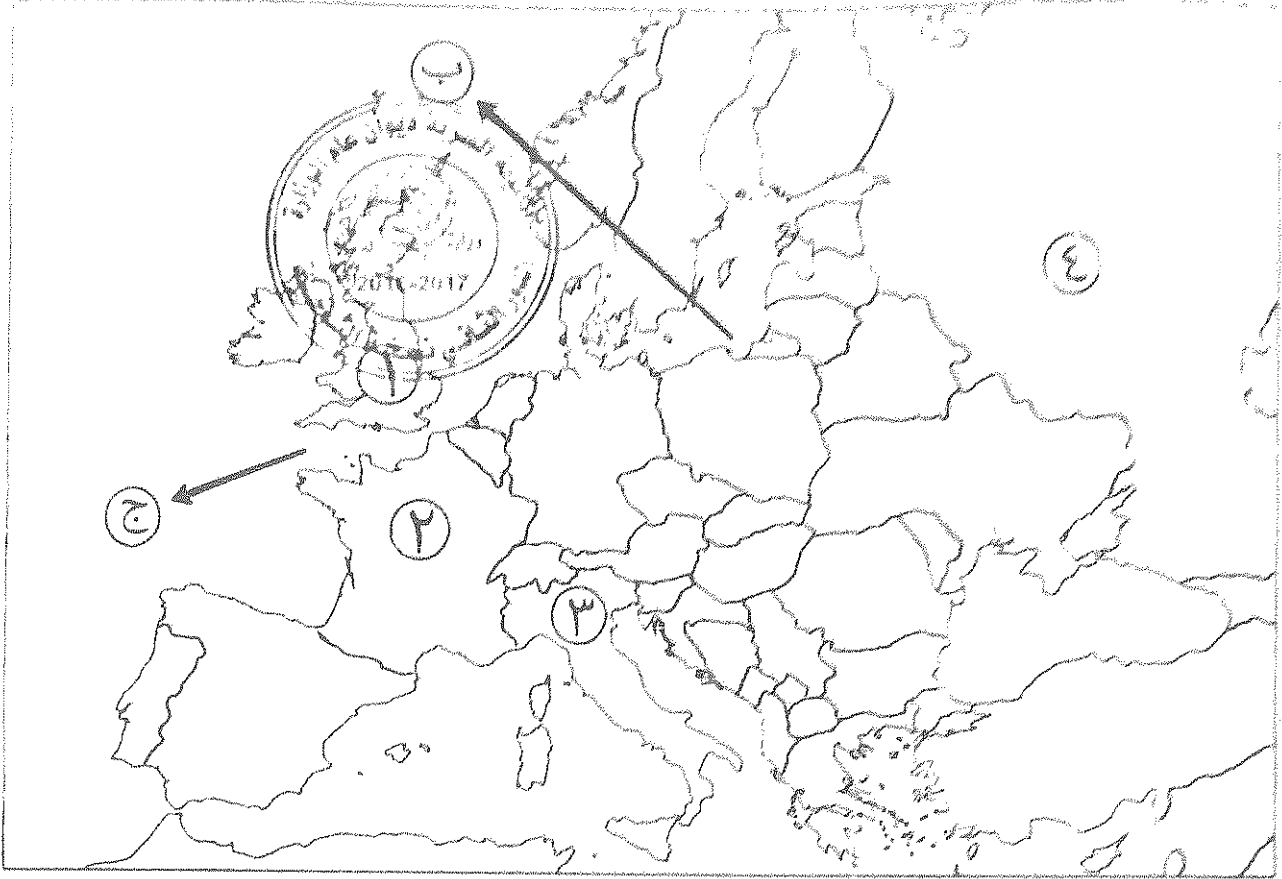
(ج) ضع أسماء المجالس التالية في مكانها الصحيح حسب الجدول التالي:-

(طبقات الأمة - الكونجرس - اللوردات - العموم - الخمسمائة)

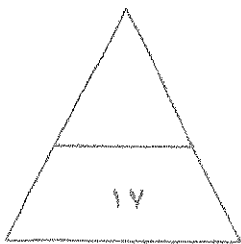
مجالس إنجليزية	مجالس فرنسية	مجالس أمريكية
.....
.....

تدريج أسئلة الامتحان (الجغرافيا) :-

1) املأ خريطة أوروبا - اكتب الرقم أو الحرف الدال على العبارات التي تليها :-



- الدولة التي حكمها النظام الفاشي يمثلها على الخريطة الرقم
- العاصمة التي تم فيها توقيع معاهدة استقلال الولايات المتحدة الأمريكية يمثلها على الخريطة الرقم
- الدولة التي قامت فيها الثورة المجيدة عام 1689م يمثلها على الخريطة الرقم
- الممر المائي الذي كان الصراع عليه سببا مباشرا لقيام الحرب العالمية الثانية يمثل على الخريطة الحرف




مجموع درجات السؤال الأول

السؤال الثاني (اختياري) ويتكون من (أ - ب - ج) :-

أ) فخذ العبارات التالية :-

١- لا يجوز وصف ما حدث لبورصة نيويورك (وول ستريت) عام ١٩٢٩م بأزمة.

٢- لعبت ماري أنطوانيت زوجة الملك الفرنسي لويس السادس عشر دورا كبيرا في تعزيز مكانته الشعبية.



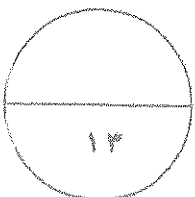
ب) قارن بين كل من :-

أوجه المقارنة	حاكم المستعمرة الإنجليزية	الحاكم النيابي في المستعمرة الإنجليزية
طريقة التعيين
المهام

ج) علل لما يلي :-

١- ظهور الحركة النازية في ألمانيا.

٢- توقيع بريطانيا وفرنسا الاتفاق الودي عام ١٩٠٤م.



مجموع درجات السؤال الثاني

السؤال الثالث (اختياري) ويتكون من (أ - ب - ج - د) :-

أ) علل لما يلي :-

١- انقسام العالم سياسيا في أواخر القرن التاسع عشر وبداية القرن العشرين.



ب) دلل على صحة العبارة التالية :-

١- قامت الجمعية الوطنية الفرنسية بإصلاحات إدارية وأصبحت تقيّم الحقوق الفرنسية ودستور عام ١٧٩١ م.

ج) اكتب النتائج المترتبة على الأحداث التالية :-

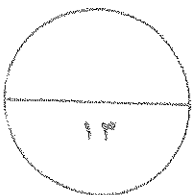
١- الثورة الأمريكية.

٢- الحرب العالمية الأولى.

د) عرف ما يلي :-

١- الكنيسة الإنجليكانية:

٢- البلقان:



مجموع درجات السؤال الثالث


السؤال الرابع (اختياري) ويتكون من (أ - ب - ج) :-

أ) ماذا يحدث لو لم :-

١- تنتهك ألمانيا حياض البلجيك عام ١٩١٤م.

٢- تهاجم اليابان ميناء بيرل هاربر عام ١٩٤١م.

٣- تخسر فرنسا الحروب التي خاضتها في القرن الثامن عشر.



ب) فرق بين كل مما يلي :-

دول المحور في الحرب العالمية الثانية	دول الحلفاء في الحرب العالمية الثانية
العلاقات الدولية	الاتفاقات الدولية


ج) نفذ المطلوب منك ما بين الأقواس :-

(النتائج)

١- سقوط حصن الباستيل عام ١٧٨٩م.

(البنود)

٢- لائحة الحقوق الإنجليزية.



مجموع درجات السؤال الرابع

السؤال الخامس (اختياري) ويتكون من (أ - ب - ج) :-

(أ) اقرأ الفقرة التالية ثم نفذ المطلوب :-

"في مساء ١٦ سبتمبر سنة ١٧٧٣م تسلل عدد من الأمريكيين إلى ميناء بوسطن ليلا والقوا بحمولة ثلاث سفن إنجليزية من الشاي في البحر، وقد أثار هذا العمل غضب البرلمان الإنجليزي الذي أصدر عدة قرارات لمعاقبة ميناء بوسطن كان من أبرزها إغلاق ميناء بوسطن حتى يتم دفع ثمن الشاي وتعيين الجنرال جينج حاكما عسكريا على بوسطن."



١ ضع عنوانا للفقرة السابقة.

٢- استخرج من الفقرة السابقة القرارات التي اتخذها البرلمان الإنجليزي لمعاقبة ميناء بوسطن.

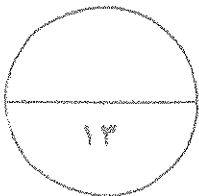
(ب) قارن بين كل من :-

أوجه المقارنة	معركة ساراتوجا	معركة فالمي
العام	م	م
النتائج

(ج) عدد لكل من الأسئلة التالية :-

١- العوامل التي ساعدت على نجاح الثورة الشيوعية في روسيا عام ١٩١٧م.

٢- أهداف منظمة الأمم المتحدة.



(انتهت الاسئلة)
مع تمنياتنا بالنجاح والتوفيق

مجموع درجات السؤال الخامس

أجب عن أربعة أسئلة مما يلي على أن يكون السؤال الأول من بينها إجبارياً:-



السؤال الأول (إجباري) ويتكون من (أ - ب - ج - د):-

- أ) أكمل العبارات التالية بما يناسبها فيما درست:- (٥ درجات)
- ١- الكتاب الشهير الذي ألفه المفكر الفرنسي "روسو" يسمى العقد الاجتماعي (ص ١١٨)
 - ٢- المنظمة المسؤولة عن مواجهة المشاكل الصحية تسمى منظمة الصحة العالمية (WHO) (ص ١١٨)
 - ٣- القانون الإنجليزي الذي فرض رسوما على المستندات التجارية وعقود البيع والرهن الأمريكية يسمى .. التمغة (ص ٧٨)
 - ٤- الحق الذي يتمتع به الأعضاء الدائمون في مجلس الأمن يسمى النقض (الفيتو) (ص ١١٧)
 - ٥- النهر الفرنسي الذي كان مسرحاً لمعركتين حاسمتين في الحرب العالمية الأولى يسمى المارن (ص ١٠١)

ب) أعد ترتيب الأحداث التاريخية التالية تصاعدياً من الأحدث إلى الأقدم:- (٥ درجات) (ص ١١٣)

(سقوط موسوليني - هتلر يكتسح بولندا - استسلام فرنسا للألمان - إنزال الحلفاء في النورماندي - انتحار هتلر)

انتحار هتلر	إنزال الحلفاء في النورماندي	سقوط موسوليني	استسلام فرنسا للألمان	هتلر يكتسح بولندا
-------------	-----------------------------	---------------	-----------------------	-------------------

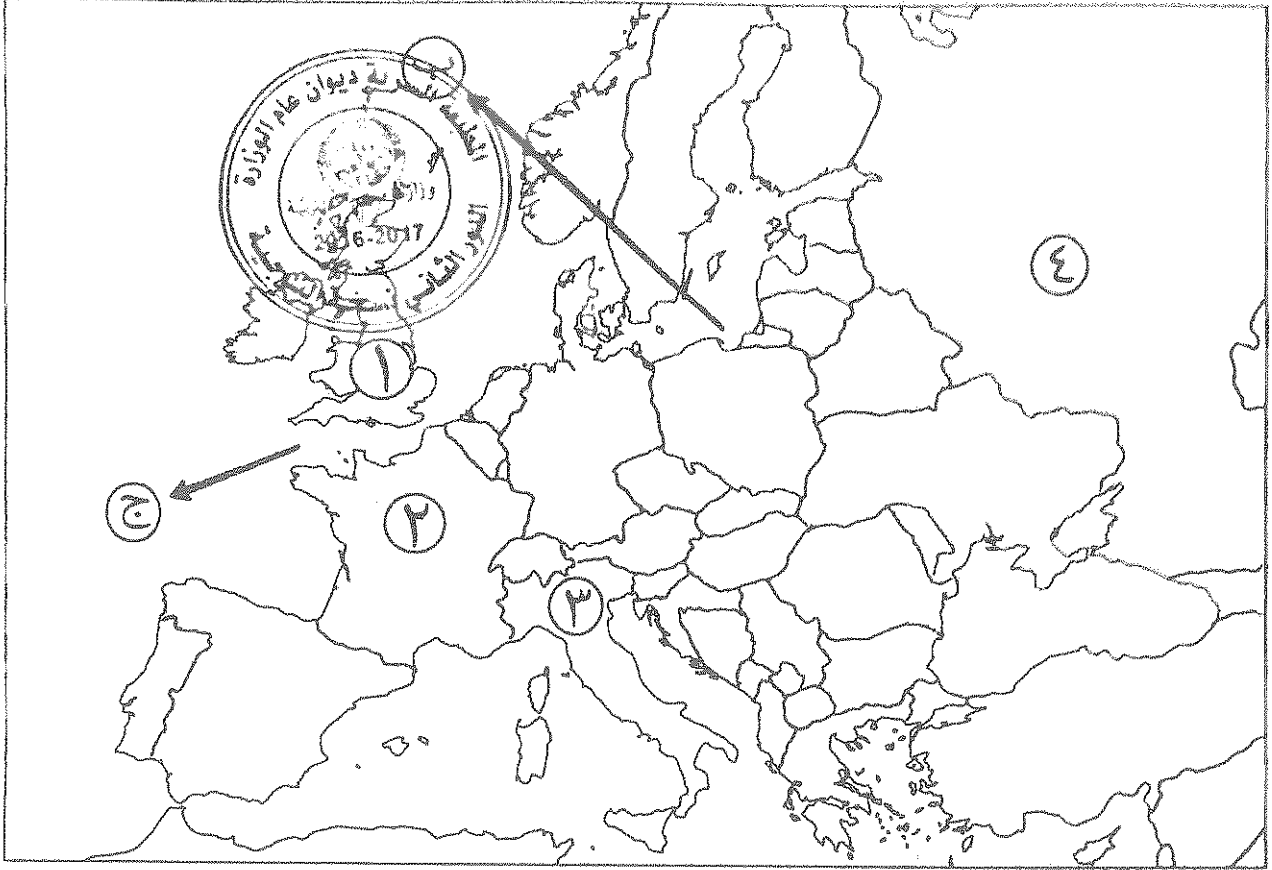
ج) ضع أسماء المجالس التالية في مكانها الصحيح حسب الجدول التالي:- (٥ درجات)

(طبقات الأمة - الكونجرس - اللوردات - العموم - الخمسمائة)

مجالس إنجليزية	مجالس فرنسية	مجالس أمريكية
اللوردات (ص ٧٥) العموم (ص ٧٥)	طبقات الأمة (ص ٨٧) الخمسمائة (ص ٩٢)	الكونجرس (ص ٨١)

تابع السؤال الأول (الإجباري) :-

(د) أمامك خريطة أوروبا - اكتب الرقم أو الحرف الدال على العبارات التي تليها :-
(لكل نقطة نصف درجة)



- الدولة التي حكمها النظام الفاشي يمثلها على الخريطة الرقم ٣.. (ص ١٠٨)

- العاصمة التي تم فيها توقيع معاهدة استقلال الولايات المتحدة الأمريكية يمثلها على الخريطة الرقم ٢.. (ص ٨٢)

- الدولة التي قامت فيها الثورة المجيدة عام ١٦٨٩م يمثلها على الخريطة الرقم ١.. (ص ٧٣)

- الممر المائي الذي كان الصراع عليه سببا مباشرا لقيام الحرب العالمية الثانية يمثله على الخريطة الحرف ب.
(ص ١١٠)

السؤال الثاني (اختياري) ويتكون من (أ - ب - ج) :-

(أ) فند العبارات التالية :-

- ١- لا يجوز وصف ما حدث لبورصة نيويورك (وول ستريت) عام ١٩٢٩م بأزمة. (٣ درجات) (ص ١٠٥)
بل بالعكس حيث:
- أفلست العديد من البنوك والمؤسسات وانخفضت الأسعار في الولايات المتحدة فقامت هذه البنوك والمؤسسات بالمطالبة بديونها من أوروبا.
- توقف التطور الاقتصادي الأوروبي الذي اعتمد على الاستقرار المالي للولايات المتحدة فأغلقت المصانع وانهارت البنوك والمؤسسات الأوروبية.
- شهدت الفترة ما بين ١٩٢٩/١٩٣٩م تراجعا في التجارة الخارجية والإنتاج العالمي.

- ٢- لعبت ماري أنطوانيت زوجة الملك الفرنسي لويس السادس عشر دورا كبيرا في تعزيز مكانته الشعبية.
(درجتان) (ص ٨٤)

- بل على العكس حيث:
- اشتركت في المؤامرات التي تعزل وتعزل الملك.
- عدم إحساسها بما يعانيه الشعب الفرنسي من آثار المجاعة عام ١٧٩٠م خلق شعورا بالاستياء لدى الشعب.

(ب) قارن بين كل من :- (٤ درجات) (ص ٧٧)

أوجه المقارنة	حاكم المستعمرة الإنجليزية	المجلس النيابي في المستعمرة الإنجليزية
طريقة التعيين	يعزل ويعين من الملك الإنجليزي	يتم انتخابه من شعب الولاية
المهام	- وهو يمثل الملك الإنجليزي في المستعمرة، والمسؤول الأول عن رعاية شؤون الولاية والمحافظة على الأمن.	- يقوم بسن القوانين والضرائب . - مراقبة الموظفين في الولاية. (يكتفي بمهمة واحدة)

(ج) علل لما يلي :-

- ١- ظهور الحركة النازية في ألمانيا.
- بسبب سخط الشعب الألماني على حكومته لموافقته على شروط معاهدة فرساي المذلة له.
- بالإضافة إلى آثار الأزمة الاقتصادية التي قاست منها ألمانيا أكثر من غيرها.
- وبسبب انتشار الأفكار الشيوعية ومحاولة العمال الاستيلاء على السلطة.

- ٢- توقيع بريطانيا وفرنسا الاتفاق الودي عام ١٩٠٤م.
- لشعورها بالخطر من تقدم ألمانيا الصناعي والاقتصادي.
- ونمو قوتها البحرية مما يهدد سيادتها.

السؤال الثالث (اختياري) ويتكون من (أ - ب - ج - د) :-

(أ) علل لما يلي :-

- ١- انقسام العالم سياسيا في أواخر القرن التاسع عشر وبداية القرن العشرين. (٣ درجات) (ص ٩٧) (يكتفى بثلاث)
 - بروز النزعة القومية.
 - تصادم الأيدولوجيات.
 - تضارب المصالح الاقتصادية.
 - سياسة التوسع للسيطرة على مناطق مختلفة من العالم وما صاحبه من السباق إلى التسلح.

(ب) دلل على صحة العبارة التالية:

- ١- قامت الجمعية الوطنية الفرنسية بإصلاحات إدارية بعد إصدارها لتفويض الحقوق الفرنسية ودستور عام ١٧٩١م. (٣ درجات) (ص ٨٩) (يكتفى بثلاث)
 - قسمت فرنسا إلى محافظات جغرافية وليس على أساس لفظي.
 - ألغت النظام القضائي القديم وأصبح منصب القاضي انتخابيا.
 - إصلاح النظام الضريبي والمالي حيث وزعت الضرائب على أساس التنازلي بين جميع الأفراد وطبقا لدخل كل فرد.
 - وجهت إصلاحاتها نحو الكنيسة الفرنسية فصدر قرار بمصادرة أملاكها.

(ج) اكتب النتائج المترتبة على الأحداث التالية:

- ١- الثورة الأمريكية. (٣ درجات) (ص ٨٣) (يكتفى بثلاث)
 - انتشرت عداواها إلى سكان أمريكا الجنوبية (اللاتينية).
 - تشجيع سكان المستعمرات البريطانية في آسيا وأفريقيا على القيام بثورات ضدها كي يتخلصوا من استعمارها.
 - صارت الولايات المتحدة ملاذا لدعاة الفكر من الأوروبيين ورمزا للحرية والتجديد.
 - كانت سببا مباشرا في قيام الثورة الفرنسية لأن فرنسا أنفقت أموالا طائلة في حربها ضد بريطانيا في العالم الجديد، وهي تساند الثوار وتساعدهم وتحارب إلى جانبهم مما أرهاق ميزانية الدولة الفرنسية وحملها الكثير من الديون فكانت سببا في حدوث الأزمة المالية في عهد الملك الفرنسي لويس السادس عشر سنة ١٧٨٩م.

٢- الحرب العالمية الأولى. (درجتان) (ص ١٠٢) (يكتفى بنتيجتين)

- تركت الحرب دمارا هائلا.
- خسائر مادية وبشرية فسقط ملايين القتلى والجرحى بالإضافة إلى الركود الاقتصادي في العالم.
- حدوث تغيير جذري في خريطة أوروبا السياسية.

(د) عرف ما يلي :-

- ١- الكنيسة الإنجليكانية: (درجة) (ص ٧٣)
 - هي الكنيسة الإنجليزية التي تعتنق المذهب البروتستانتي المعادي بشدة للمذهب الكاثوليكي.
- ٢- البلقان: (درجة) (ص ١٠٠)
 - اصطلاح سياسي يطلق على مجموعة دول أوروبا الشرقية (يوغسلافيا السابقة - اليونان - بلغاريا - ألبانيا)

السؤال الرابع (اختياري) ويتكون من (أ - ب - ج) :-

(أ) ماذا يحدث لو لم :-

- ١- تنتهك ألمانيا حياد البلجيك عام ١٩١٤م. (درجة) (ص ١٠٠)
لما أعلنت بريطانيا الحرب على ألمانيا. (ما يراه المصحح مناسباً)
- ٢- تهاجم اليابان ميناء بيرل هاربر عام ١٩٤١م. (درجة) (ص ١١١)
لما دخلت الولايات الأمريكية المتحدة الحرب العالمية الثانية إلى جانب الحلفاء. (ما يراه المصحح مناسباً)
- ٣- تخسر فرنسا الحروب التي خاضتها في القرن الثامن عشر. (درجة) (ص ٨٦)
لما استنزفت كثير من أموال الخزانة الفرنسية.
لما فقد الفرنسيون الكثير من المستعمرات التي كانت تدر عليهم عائدات كبيرة.
لما قامت الثورة الفرنسية. (ما يراه المصحح مناسباً)



(ب) فرّق بين كل مما يلي :- (٤ درجات)

دول المحور في الحرب العالمية الثانية (ص ١١٠)	دول المحور في الحرب العالمية الثانية (ص ١١٠)
حلف تكون من بريطانيا وفرنسا والاتحاد السوفيتي والولايات المتحدة ودول أخرى ومستعمرات الصغيرة.	حلف تكون من ألمانيا وإيطاليا واليابان مع بعض الدول الصغيرة.
العلاقات الدولية (ص ٩٧)	العلاقات الدولية (ص ٩٧)
تشريعات يتفق عليها دولياً وهي مقننة تلتزم الدول المشتركة بها.	الاتصالات بين الدول وبين المنظمات الدولية في جميع المجالات.

(ج) نفذ المطلوب منك ما بين الأقواس :-

- ١- سقوط حصن الباستيل عام ١٧٨٩م. (٣ درجات) (ص ٨٨) (يكتفى بثلاث) (النتائج)
- عمّت الفوضى في كل مكان.
- وتوقف الفلاحون عن دفع الضرائب.
- وانقض الفلاحون على قصور النبلاء وأحرقوا الوثائق التي تعطيهم حقوقاً إقطاعية.
- هجرة العديد من النبلاء إلى خارج فرنسا.
- ٢- لائحة الحقوق الإنجليزية. (٣ درجات) (ص ٧٤) (يكتفى بثلاث) (البنود)
- لا يجوز للملك إبطال أو تعديل قانون صادر من البرلمان.
- لا يحق للملك فرض ضرائب جديدة أو تشكيل جيش أو إعلان حرب دون موافقة البرلمان.
- للبرلمان الحق الكامل في التعبير عن آرائهم بحرية تامة.
- أعطى البرلمان حصانة للمواطنين بحيث لا يمكن اعتقال مواطن دون محاكمة تجرى وفق القوانين السائدة.

السؤال الخامس (اختياري) ويتكون من (أ - ب - ج) :-

أ) اقرأ الفقرة التالية ثم نفذ المطلوب :- (٣ درجات) (ص ٧٩)
 "في مساء ١٦ سبتمبر سنة ١٧٧٣م تسلل عدد من الأمريكيين إلى ميناء بوسطن ليلا وألقوا بكمولة ثلاث سفن إنجليزية من الشاي في البحر، وقد أثار هذا العمل غضب البرلمان الإنجليزي الذي أصدر عدة قرارات لمعاقبة ميناء بوسطن كان من أبرزها إغلاق ميناء بوسطن حتى يتم دفع ثمن الشاي وتعيين الجنرال جيج حاكما عسكريا على بوسطن."

١- اضع عنوانا للفقرة السابقة.
 حفلة شاي بوسطن ١٧٧٣م. (أو ما يراه المصحح مناسباً)

٢- استخرج من الفقرة السابقة القرارات التي اتخذها البرلمان الإنجليزي لمعاقبة ميناء بوسطن.
 - إغلاق ميناء بوسطن حتى يتم دفع الشاي.
 - تعيين الجنرال جيج حاكما عسكريا على بوسطن.



ب) قارن بين كل من: (٤ درجات)

المعيار	معركة ساراتوجا (ص ٨٢)	معركة فالمي
العام	١٧٧٧ م	١٧٩٢ م
النتائج	- خسر الإنجليز جيشا كاملا من ٦ آلاف جندي واستسلم. - سيطر الأمريكيون على حوض هدسون. - إقرار فرنسا باستقلال الثوار الأمريكيين ودخولها الحرب إلى جانبهم. - زاد تعاطف الشعوب الأوروبية مع الثورة الأمريكية. (يكتفى بنتيجة واحدة)	- أنقذت أفكار الثورة الفرنسية من الضياع. - حالت دون وقوع باريس. - رفعت الروح المعنوية للفرنسيين. - تحول جيش الثورة من الفاع للهجوم وأصبح مصدر رعب للدول الأوروبية فيما بعد. (يكتفى بنتيجة واحدة)

ج) عدد لكل من الأسئلة التالية :-

١- العوامل التي ساعدت على نجاح الثورة الشيوعية في روسيا عام ١٩١٧م. (٣ درجات) (ص ١٠٦)
 - فساد الحكم القيصري في روسيا واستبداده.
 - الهزائم الكبرى التي حلت بالجيش الروسي منذ عام ١٩٠٥م على يد اليابان ثم الحرب العالمية الأولى وسقوط ملايين القتلى والجرحى.
 - سوء الحالة الاقتصادية التي تأثر بها العمال والفلاحون وانتشار البطالة والمجاعات والأمراض.
 - شخصية لينين وقدرته على إقناع الجماهير من خلال رفعه شعاره المشهور (السلام للجيش/الغذاء للجميع/الغذاء للجميع/الحكم للسوفيت) وتنظيم الحزب الشيوعي. (يكتفى بثلاث)

٢- أهداف منظمة الأمم المتحدة. (٣ درجات) (ص ١١٦) (يكتفى بثلاث)
 - المحافظة على الأمن والسلام الدوليين وحل النزاعات بالطرق السلمية.
 - تنمية العلاقات الدولية بين الدول على المساواة واحترام حقوق الإنسان.
 - تحقيق التعاون الدولي في جميع المجالات.
 - تكون الأمم المتحدة أداة للتنسيق بين أعمال الدول والمنظمات الأخرى.



وزارة التربية

امتحان نهاية الفترة الدراسية الرابعة

عدد الصفحات (٧)

التوجيه الفني العام للإجتماعيات

للمصف الثاني عشر الأدبي

الزمن : ساعتان وربع

المقرر الدراسي : تاريخ العالم الحديث والمعاصر

العام الدراسي ٢٠١٤/٢٠١٥م

أجب على أربعة أسئلة مما يلي على أن يكون السؤال الأول من بينها إجبارياً :-

السؤال الأول : (إجباري) يتكون من (أ ، ب ، ج ، د ، هـ) :-

أ- اختر الإجابة الصحيحة من بين البدائل التي تلي كل عبارة مما يلي وضع خطأ تحتها :-

١- أصدر الكونجرس الأمريكي إعلان الاستقلال في ٤ يوليو عام :

ب- ١٧٧٧م

أ- ١٧٧٦م

د- ١٧٧٩م

ج- ١٧٧٨م

٢- المستعمرة الإنجليزية التي تأسست سنة ١٦٠٧م في أمريكا الشمالية :

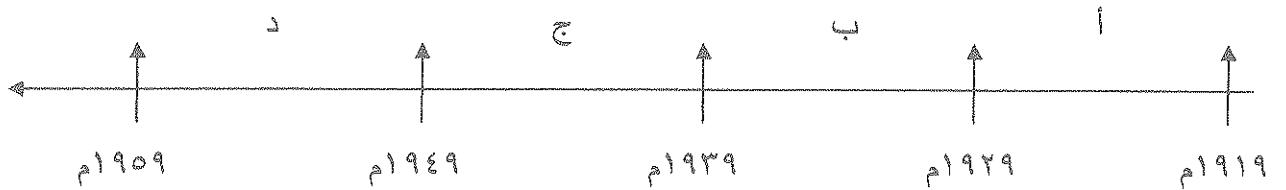
ب- جيمس تون

أ- نيويورك

د- واشنطن

ج- بوسطن

٣- الفترة الزمنية التي حدثت فيها الأزمة الاقتصادية العالمية يمثلها على المخطط الزمني الحرف :



٤- المفكر الذي ألف كتاب العقد الاجتماعي :

ب- جون لوك

أ- روسو

د- منتيسكيو

ج- فولتير

٥- أعلنت بريطانيا الحرب على ألمانيا في ٤ / ٨ / ١٩١٤م بسبب :

ب- احتلال ألمانيا لمنطقة الراين

أ- حشود القوات الألمانية على الحدود الروسية

د- انتهاك ألمانيا حياد البلجيك

ج- مهاجمة ألمانيا للسفن الأمريكية

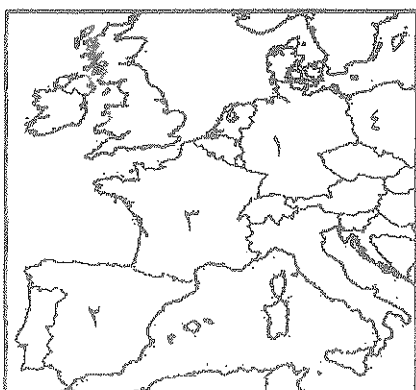
٦- دولة هرب إليها الملك جيمس الثاني يمثلها على الخريطة المقابلة الرقم :

ب- (٢)

أ- (١)

د- (٤)

ج- (٣)



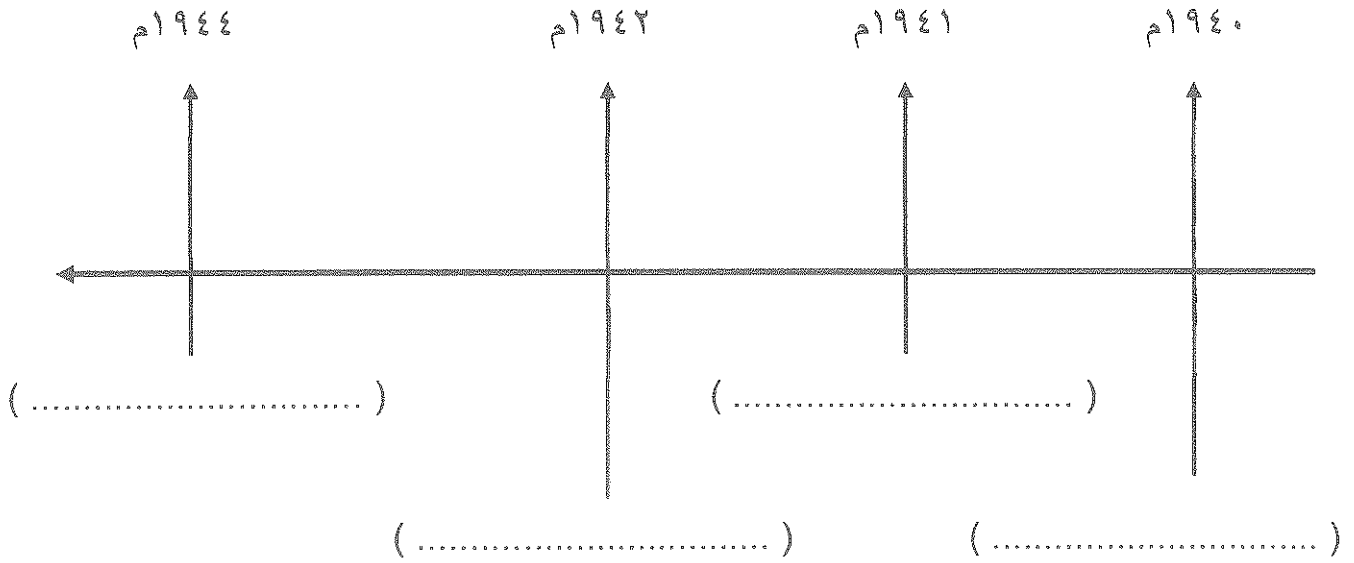
تابع السؤال الأول (الإجابي) :-

ب - اكتب المفهوم الدالة عليه العبارات التالية :-

- ١- (.....) جماعة أمريكية نظمت المعارضة وقامت القوانين الإنجليزية سيئة السمعة .
- ٢- (.....) إتفاقيات حرم بموجبها استخدام الأسلحة الفتاكة .
- ٣- (.....) المجالس الشيوعية المحلية التي أسسها الحزب الشيوعي في روسيا .
- ٤- (.....) مجلس يضم نواب الطبقتين الأرستقراطية الإقطاعية ورجال الدين ويعينهم الملك الإنجليزي .

ج - رتب الأحداث التاريخية التالية وفقاً للمخطط الزمني التالي لها :-

- * إنزال الحلفاء في النورماندي .
- * هزيمة دول المحور في ستالينجراد .
- * فرنسا تستسلم لألمانيا .
- * اليابان تهاجم ميناء بيرل هاربر .



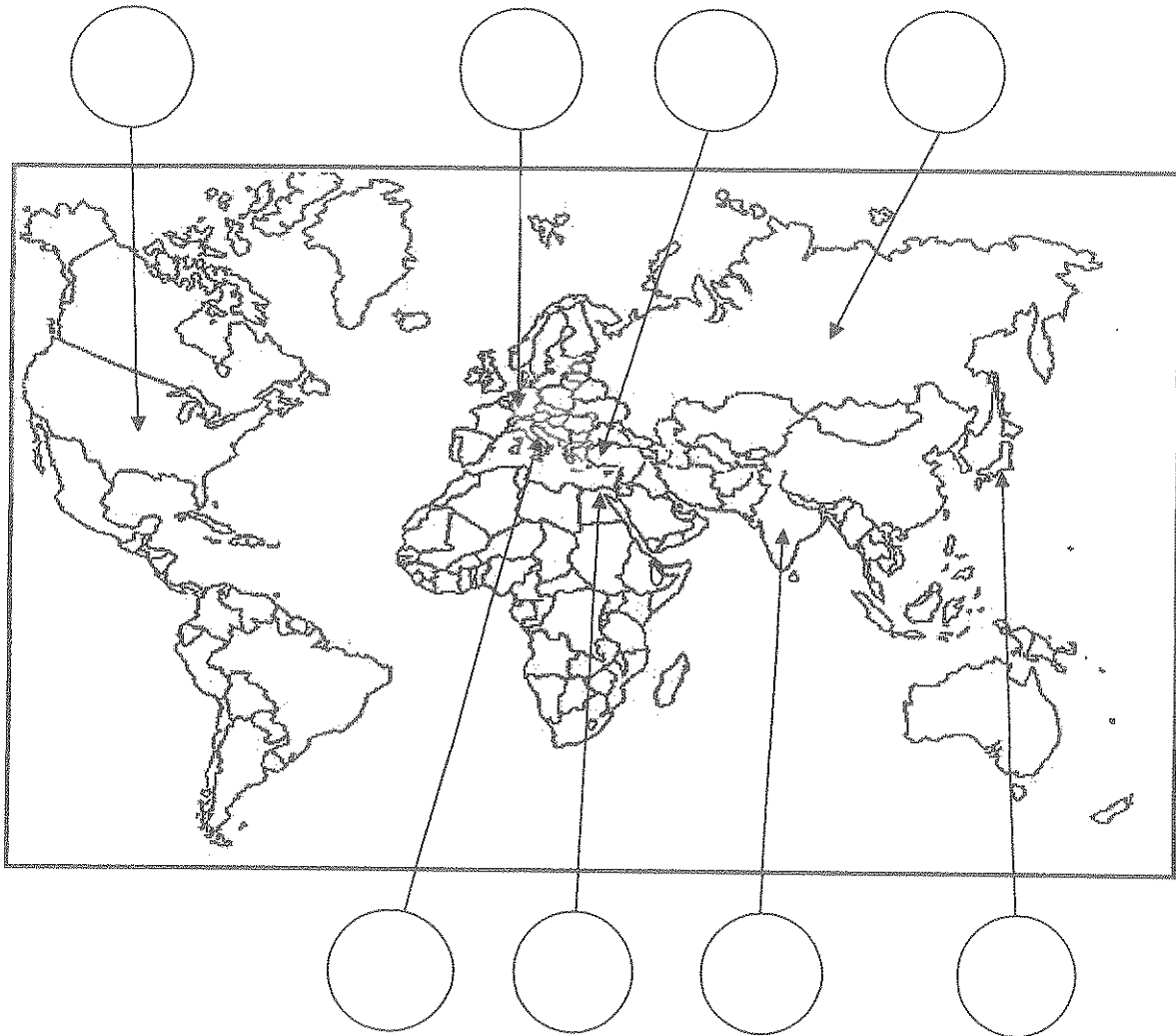
د - صنف الأسماء التالية حسب الجدول :-

(روسو - نيكر - دانتون - فولتير - ميرابو - منتيسكيو)

مفكرون	سياسيون

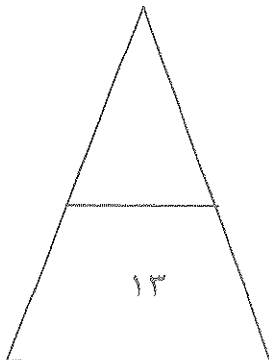
تابع السؤال الأول (الإجباري) :-

هـ - لاحظ خريطة العالم التي أمامك جيدا ثم نفذ المطلوب :-



- ضع رقم كل عبارة مما يلي في الدائرة المناسبة لها على الخريطة :-

- ١- دولة استسلمت دون قيد أو شرط إثر ضربها بقنبلتين ذريتين .
- ٢- إمبراطورية إسلامية تفككت بعد الحرب العالمية الأولى .
- ٣- دولة ظهرت كوحدة سياسية مجتمعة في العالم الجديد عام ١٧٨٣م .
- ٤- دولة قامت فيها الحركة الفاشية عام ١٩٢٢م .
- ٥- دولة وقعت على أرضها معركة العلمين عام ١٩٤٢م .
- ٦- دولة أوروبية هزمت في الحرب العالمية الأولى وتحملت مسؤولية الحرب .



السؤال الثاني : (اختياري) يتكون من (أ- ب- ج) :-

أ- دال على صحة العبارات التالية :-

١- تعتبر الثورة الفرنسية واحدة من أهم الثورات الكبرى في العالم .

*

*

٢- اختلفت الحرب العالمية الثانية عن جميع الحروب التي سبقتها .

*

*

ب- عرف ما يلي :-

١- الحلف الفولاندي :

٢- نازية :

٣- مجلس العموم :

ج- علل لما يلي :-

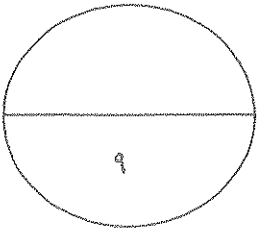
١- أثار قانون التمغة أكبر قدر من المعارضة لدى الأمريكيين .

*

٢- كانت القارة الأوروبية محور العلاقات الدولية في بداية القرن العشرين .

*

*



السؤال الثالث : (اختياري) يتكون من (أ - ب - ج) :-

أ- اقرأ الفقرة التالية ثم نفذ المطلوب :-

" انقسم العالم سياسياً في أواخر القرن التاسع عشر وبداية القرن العشرين الميلادي بسبب عدة عوامل أهمها بروز النزعة القومية وتصادم الأيديولوجيات وسياسة التوسع للسيطرة على مناطق مختلفة من العالم ."

١- عرف ما تحته خط .

الأيديولوجية :

٢- استخرج من الفقرة أسباب انقسام العالم سياسياً .

*

*

ب- فرق حسب الجدول :-

القوانين الجائرة	القوانين سيئة السمعة
.....
.....
.....

ج- برهن على صحة العبارات التالية :-

١- ساهمت شروط معاهدات الصلح عام ١٩١٩م في قيام الحرب العالمية الثانية .

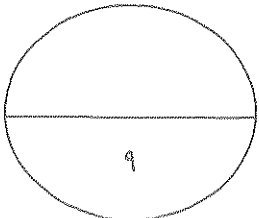
*

*

٢- لم تقتصر إصلاحات الجمعية الوطنية على إصدار وثيقة الحقوق الفرنسية ودستور ١٧٩١م .

*

*



السؤال الرابع : (اختياري) يتكون من (أ- ب - ج) :-

أ- اكتب فقرة مترابطة من ثلاثة اسطر مستعينا بالكلمات التالية :-

(الكساد الإقتصادي - بورصة نيويورك - النظام الجديد - الإقتصاد الرأسمالي الحر)

.....

.....

.....

ب- نفذ المطلوب منك بين الأقواس :-

١- الثورة الإنجليزية . (نتائجها)

..... *

..... *

٢- إصلاحات نابليون الداخلية . (الإصلاح الإداري)

..... *

..... *

٣- الدستور الأمريكي ١٧٨٩م . (مميزاته)

..... *

..... *

ج - ما تفسرك لكل مما يلي :-

١- تغير أوضاع الحرب العالمية الثانية عام ١٩٤٢م لصالح الحلفاء .

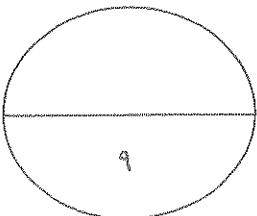
..... *

..... *

٢- نجاح الثورة الشيوعية في روسيا عام ١٩١٧م .

..... *

..... *



السؤال الخامس : (اختياري) يتكون من (أ- ب- ج) :-

أ- عدد لكل مما يلي :-

١- مبادئ لائحة الحقوق الإنجليزية ١٦٨٩ م .

*

*

٢- نتائج سقوط حصن الباستيل ١٧٨٩ م .

*

*

ب- فرق حسب الجدول :-

السبب المباشر لقيام الحرب العالمية الثانية	السبب المباشر لقيام الحرب العالمية الأولى
*	*
.....
.....

ج- اكتب مهام الأجهزة التالية :-

١- منظمة التربية والعلوم والثقافة (اليونسكو) .

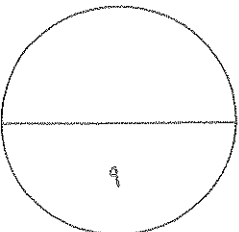
*

٢- منظمة التغذية والزراعة (الفاو) .

*

٣- محكمة العدل الدولية .

*



انتهت الأسئلة

(عدد الصفحات : ٧)

وزارة التربية الإجابة النموذجية لامتحان نهاية الفترة الدراسية الرابعة

الزمن : ساعتان وربع

للمصف الثاني عشر الأديبي

التوجيه الفني العام للاجتماعيات

العام الدراسي ٢٠١٤/٢٠١٥م

المقرر الدراسي : تاريخ العالم الحديث والمعاصر

أجب على أربعة أسئلة مما يلي على أن يكون السؤال الأول من بينها إجبارياً :-

السؤال الأول : (إجباري) يتكون من (أ ، ب ، ج ، د ، هـ) :- (كل نقطة نصف درجة)

أ- اختر الإجابة الصحيحة من بين البدائل التي تلي كل عبارة مما يلي وضع خطأ تحتها:-

ص ٨١

١- أصدر الكونجرس الأمريكي إعلان الاستقلال في ٤ يوليو عام :

ب- ١٧٧٧م

أ- ١٧٧٦م

د- ١٧٧٩م

ج- ١٧٧٨م

ص ٧٦

٢- المستعمرة الإنجليزية التي تأسست سنة ١٦٠٧ في أمريكا الشمالية :

ب- جيمس تون

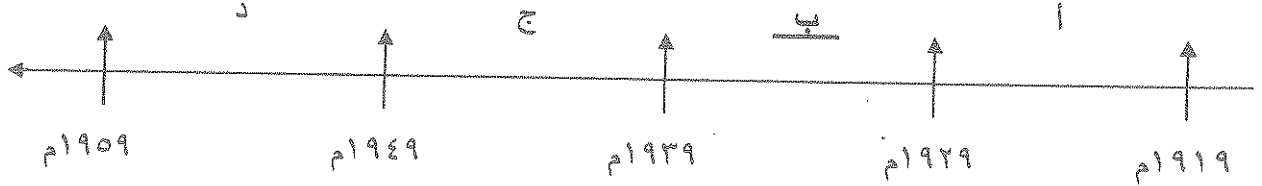
أ- نيويورك

د- واشنطن

ج- بوسطن

ص ١٠٥

٣- الفترة الزمنية التي حدثت فيها الأزمة الاقتصادية العالمية يمثلها على المخطط الزمني الحرف :



ص ٨٥

٤- المفكر الذي ألف كتاب العقد الاجتماعي :

ب- جون لوك

أ- روسو

د- منتيسكيو

ج- فولتير

ص ١٠٠

٥- أعلنت بريطانيا الحرب على ألمانيا في ٤ / ٨ / ١٩١٤م بسبب :

ب- احتلال ألمانيا لمنطقة الراين

أ- حشود القوات الألمانية على الحدود الروسية

د- انتهاك ألمانيا حياد البلجيك

ج- مهاجمة ألمانيا للسفن الأمريكية

ص ٧٤

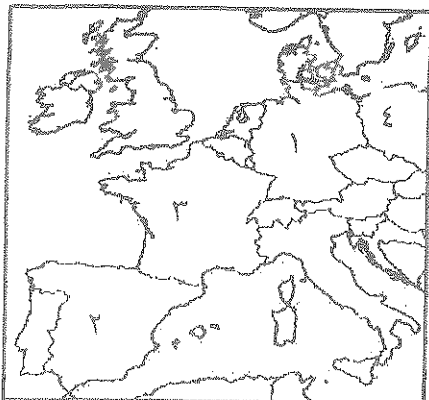
٦- دولة هرب إليها الملك جيمس الثاني يمثلها على الخريطة المقابلة الرقم :

ب- (٢)

أ- (١)

د- (٤)

ج- (٣)



(١)


تابع السؤال الأول (الاجباري) :-

ب - اكتب المفهوم الدالة عليه العبارات التالية :-

- ١- (أبناء الحرية) جماعة أمريكية نظمت المعارضة وقاومت القوانين الإنجليزية سيئة السمعة . ص ٧٨
- ٢- (اتفاقيات سالت) إتفاقيات حرم بموجبها استخدام الأسلحة الفتاكة . ص ١١٥
- ٣- (السوفيت) المجالس الشيوعية المحلية التي أسسها الحزب الشيوعي في روسيا . ص ١٠٦
- ٤- (مجلس اللوردات) مجلس يضم نواب الطبقتين الأرستقراطية الإقطاعية ورجال الدين ويعينهم الملك الإنجليزي . ص ٧٤

ج - رتب الأحداث التاريخية التالية وفقاً للمخطط الزمني التالي لها :-

- * إنزال الحلفاء في النورماندي .
* هزيمة دول المحور في ستالينجراد .
* فرنسا تستسلم لألمانيا .
* اليابان تهاجم ميناء بيرل هاربر .



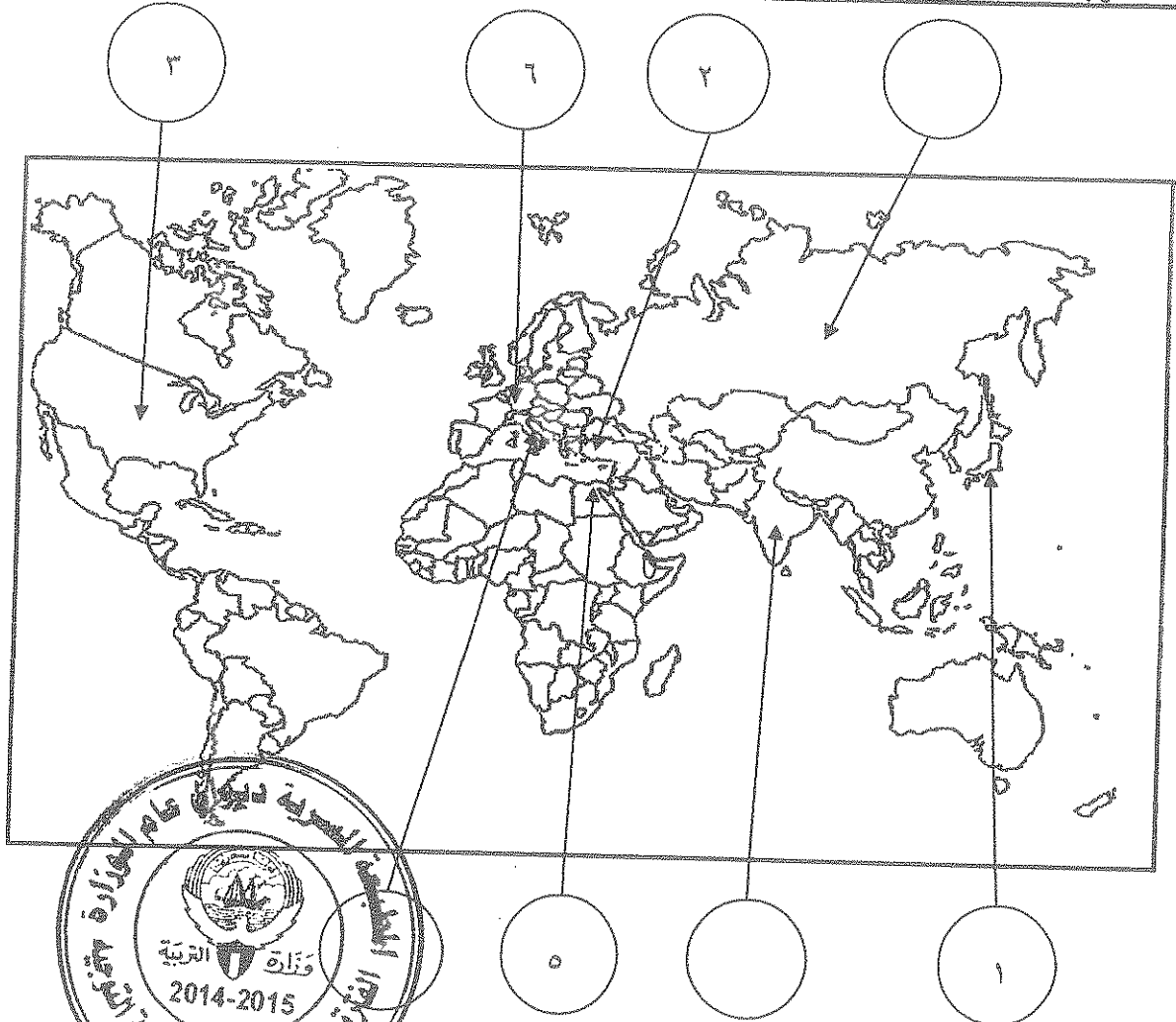
د - صنف الأسماء التالية حسب الجدول :-

(روسو - نيكر - دانتون - فولتير - ميرابو - منتيسكيو)

مفكرون	سياسيون
روسو	نيكر
فولتير	دانتون
منتيسكيو	ميرابو

تابع السؤال الأول (الإجابى) :-

هـ - لاحظ خريطة العالم التى أمامك جيدا ثم نفذ المطلوب :-



- ضع رقم كل عبارة مما يلى فى الدائرة المناسبة لها على الخريطة :-

- ١- دولة استسلمت دون قيد أو شرط إثر ضربها بقنبلتين ذريتين .
- ٢- إمبراطورية إسلامية تفككت بعد الحرب العالمية الأولى .
- ٣- دولة ظهرت كوحدة سياسية مجتمعة فى العالم الجديد عام ١٧٨٣م .
- ٤- دولة قامت فيها الحركة الفاشية عام ١٩٢٢م .
- ٥- دولة وقعت على أرضها معركة العلمين عام ١٩٤٢م .
- ٦- دولة أوروبية هزمت فى الحرب العالمية الأولى وتحملت مسؤولية الحرب .

ص ١٠٣

ص ٨٢

ص ١٠٨

ص ١١١

ص ١٠٣

السؤال الثاني : (اختياري) يتكون من (أ- ب- ج):-

أ- دال على صحة العبارات التالية :-

- ١- تعتبر الثورة الفرنسية واحدة من أهم الثورات الكبرى في العالم . درجتان (يكتفى بنقطتين) ص ٨٣
- أعطت مفاهيم جديدة للعالم . - وضعت في حيز التنفيذ مبادئ عامة كانت مجرد نظريات .
- غيرت الثورة جميع مناحي الحياة الفرنسية . - لم يكن تغييرها قاصراً على فرنسا وأوربا بل شمل جميع العالم .
- ٢- اختلفت الحرب العالمية الثانية عن جميع الحروب التي سبقتها . درجتان (يكتفى بنقطتين) ص ١١٣-١١٤
- كانت حرب شاملة لدول العالم بالاشتراك المباشر أو بالتحالف مع الدول - تسخير الطاقات البشرية حيث سخرت دول المحور أسرى الحرب للعمل في المصانع والحقول ودفع الحلفاء بالإناث للعمل في هذا المجال بدل الرجال وفتحت الولايات المتحدة باب الهجرة للعمل
- مواجهة بين أيديولوجيات وصراع بين نظريات دكتاتورية عنصرية تبنتها دول المحور بينما تبني الحلفاء الديمقراطية التي تنادي بالمساواة وحقوق الإنسان - تنافس صناعي سخرت جميع الدول المشاركة في الحرب مقدراتها ومقدرات الشعوب التي احتلتها بهدف تطوير الإنتاج الصناعي الحربي وتطوير الاقتصاد - سياق تسليح تكنولوجي - تطور أساليب القتال والأسلحة فاستخدمت التكنولوجيا في الأرض والحرب الجوي وكل الصار اكبر وشمل جميع المجالات - استخدام القنبلة الذرية .

ب- عرف ما يلي :-

- ١- الحلف الفولاندي : درجة
- حلف وقعه هتلر مع موسوليني في أغسطس عام ١٩٣٩م ص ١٠٩
- ٢- نازية : درجة
- هي كلمة ألمانية تعني الاشتراكية الوطنية وهي التسمية التي أطلقها أدولف هتلر على الحزب النازي . ص ١٠٧
- ٣- مجلس العموم : درجة
- يمثل الديمقراطية ويضم نواب الطبقتين الوسطى والزراعية والوسطى في المدن البرجوازية وينتخبهم الشعب . ص ٧٥

ج- علل لما يلي:-

- ١- أثار قانون التمتع أكبر قدر من المعارضة لدى الأمريكيين . درجة (يكتفى بنقطة) ص ٧٨
- لأنه أصاب رجال الصحافة والكتاب ورجال المال والأعمال ولهؤلاء نفوذ قوى في التأثير على الراي العام
- ٢- كانت القارة الأوروبية محور العلاقات الدولية في بداية القرن العشرين . درجة (يكتفى بنقطتين) ص ٩٧
- مركز الثورة الصناعية . - وفرة الموارد والإمكانات الاقتصادية .
- النفوذ الاستعماري في جميع القارات . - نشوء الإمبراطوريات الكبرى .

السؤال الثالث : (اختياري) يتكون من (أ - ب - ج) :-

أ- اقرأ الفقرة التالية ثم نفذ المطلوب :-

" انقسم العالم سياسياً في أواخر القرن التاسع عشر وبداية القرن العشرين الميلادي بسبب عدة عوامل أهمها بروز النزعة القومية وتصادم الأيديولوجيات وسياسة التوسع للسيطرة على مناطق مختلفة من العالم ."

١- عرف ما تحته خط .

الأيديولوجية : نسق من الآراء والأفكار السياسية والقانونية والفنية والفلسفية درجة ص ٩٧

٢- استخرج من الفقرة أسباب انقسام العالم سياسياً

ص ٩٧

(بنقطتين)



- بروز النزعة القومية .

- تصادم الأيديولوجيات

- سياسة التوسع للسيطرة على مناطق مختلفة من العالم

ب- فرق حسب الجدول :-

القوانين سنينة السمعة ص ٧٨	القوانين الجائرة ص ٧٩
ضرائب جديدة فرضها مجلس العموم البريطاني على الأمريكيين منها عام ١٧٦٤م على السكر و العسل والنيبذ والحريير والبن و قانون التمغة الذي يفرض رسوم مالية على المستندات التجارية و عقود البيع والرهن وكانت الشرارة الأولى التي انطلقت منها الثورة الأمريكية .	قرارات اتخذها البرلمان الإنجليزي لمعاقبة ميناء بوسطن بعد حادثة حفلة شاي بوسطن ١٧٧٣م أهمها - إغلاق ميناء بوسطن حتى يتم دفع ثمن الشاي - تعيين الجنرال جيدج حاكماً عسكرياً على بوسطن - منع الاجتماعات إلا بإذن من السلطات العسكرية الإنجليزية .

لكل سؤال درجتان (يكتفى بنقطتين)

ج- برهن على صحة العبارات التالية :-

ص ١٠٩

١- ساهمت شروط معاهدات الصلح عام ١٩١٩م في قيام الحرب العالمية الثانية .

- استحوذت الدول المنتصرة على نصيب الأسد من مكاسب مادية ومستعمرات .

- فرض القيود ذات الشروط المذلة على الدول المهزومة .

- فقدت الدول المهزومة أجزاء كبيرة من أراضيها مما أثار سخطها على هذه القيود .

٢- لم تقتصر إصلاحات الجمعية الوطنية على إصدار وثيقة الحقوق الفرنسية و دستور ١٧٩١م . ص ٨٩

- قامت بإصلاح النظام الإداري حيث قسمت فرنسا إلى محافظات جغرافية وليس على أساس طبقي .

- ألغت النظام القضائي القديم وأصبح منصب القاضي انتخابياً .

- إصلاح النظام الضريبي والمالي بالمساواة بين جميع الأفراد وطبقاً لدخل الفرد .

- إصلاح الكنيسة بمصادرة أملاكها لصالح الدولة لحل الأزمة المالية .

السؤال الرابع : (اختياري) يتكون من (أ- ب - ج) :-

أ- اكتب فقرة مترابطة من ثلاثة اسطر مستعينا بالكلمات التالية :- درجتان ص ١٠٥

(الكساد الاقتصادي - بورصة نيويورك - النظام الجديد - الإقتصاد الرأسمالي الحر)

كان من أبرز النتائج الاقتصادية للحرب العالمية الأولى الكساد الاقتصادي الذي أدى إلى انهيار بورصة نيويورك فترتب عليه إفلاس كثير من البنوك والمؤسسات . فتبني الرئيس الأمريكي روزفلت سياسة اقتصادية جديدة عرفت بالنظام الجديد خرج بها عن الإقتصاد الرأسمالي الحر إلى إقتصاد رأسمالي موجه . (أو ما يراه المصحح مناسباً)

ب- نفذ المطلوب منك بين الأقواس :- ثلاث درجات كل سؤال درجة (يكتفى بنقطتين)

١- الثورة الإنجليزية . (نتائجها) ص ٧٥-٧٦

- انتشرت فكرة المجالس النيابية لإصدار القوانين وفرض الضرائب وتقرير سياسة الدولة بعد ما كان ذلك من حق الملك فقط - الأخذ بمبدأ تركيز الحياة النيابية في مجلسين اللوردات والعموم ومن ثم أخذت عنها الشعوب الأخرى لذلك نجد نظام المجلسين قد طبق في اغلب دول العالم حتى الآن- أخذت معظم دول العالم عن انجلترا نظامها الانتخابي حيث التمثيل النيابي على حساب الدوائر الانتخابية وليست على أساس طبقي حيث أصبح عضو البرلمان يمثل دائرة انتخابية على حسب التقسيم الجغرافي الذي تراه الدولة فالعضو لا يمثل طبقة اجتماعية او اقتصادية ولكنه يمثل جميع سكان دائرته - إدراك الفرد حقوقه السياسية- تطور النظرية السياسية وأشهرها نظرية السيادة الشعبية لجون لوك .

٢- إصلاحات نابليون الداخلية . (الإصلاح الإداري) ص ٩٣

- اهتم نابليون بالإدارة و أصدر قانونا عام ١٨٠٠م الذي نظم الإدارة الذي أصدرته الجمعية الوطنية .
- جعل الحكام يعينون من قبل القنصل الأول

٣- الدستور الأمريكي ١٧٨٩م . (مميزاته) ص ٨٢

- امتاز بالفصل التام بين السلطات الثلاث (التنفيذية / القضائية / التشريعية) . - أكد على حق الفرد في الحرية والمساواة والاعتقاد وحرية الصحافة . - أكد على عدم تعارض السلطات المحلية مع السلطات الفيدرالية .
- وضع الدستور لحماية حقوق الناس والمحافظة عليها . - أكد على مرونة الدستور وقابليته للتغيير والتعديل .

ج - ما تفسيرك لكل مما يلي :-

١- تغير أوضاع الحرب العالمية الثانية عام ١٩٤٢م لصالح الحلفاء . درجتان (يكتفى بنقطتين) ص ١١١

- إصرار بريطانيا بقيادة تشرشل على الصمود . - نمو قوة الحلفاء .

- صمود القوات الروسية (الجيش الأحمر) الذي هزم القوات الألمانية في ستالينجراد .

٢- نجاح الثورة الشيوعية في روسيا عام ١٩١٧م . درجتان (يكتفى بنقطتين) ص ١٠٦

- فساد الحكم القيصري في روسيا واستبداده . - هزائم الجيش الروسي منذ عام ١٩٠٥م على يد اليابان ثم الحرب العالمية الأولى . - سوء الحالة الاقتصادية لطبقة العمال والفلاحون وانتشار البطالة والمجاعات والأمراض .

- شخصية لينين وقدرته على إقناع الجماهير من خلال شعار (السلام للجيش / الأرض للفلاحين / الغذاء للجميع / الحكم للسوفيت) وتنظيم الحزب الشيوعي .

السؤال الخامس : (اختياري) يتكون من (أ- ب- ج) :-

أ- عدد لكل مما يلي :-

١- مبادئ لائحة الحقوق الإنجليزية ١٦٨٩ م . درجتان (يكتفى بنقطتين) ص ٧٤

- لا يحق للملك إبطال أو تعديل قانون صادر من البرلمان . - للبرلمان الحق الكامل في التعبير بحرية .

- لا يحق للملك فرض ضرائب جديدة أو تشكيل جيش أو إعلان حرب دون موافقة البرلمان .

- أعطى البرلمان حصانة للمواطنين حيث لا يمكن اعتقال مواطن دون محاكمة وقبل الملائم



٢- نتائج سقوط حصن الباستيل ١٧٨٩ م . درجتان (يكتفى بنقطتين)

- عمت الفوضى في كل مكان . - توقف الفلاحون عن دفع الضرائب .

- انقض الفلاحون على قصور النبلاء واحرقوها وقتلوا من فيها واحرقوا الوثائق التي تعطيهم حقوقا إقطاعية .

- هجرة النبلاء خارج فرنسا هرباً بحياتهم فأصبح هؤلاء المهاجرون أكبر خطر على الثورة الفرنسية .

درجتان

ب- فرق حسب الجدول :-

السبب المباشر لقيام الحرب العالمية الأولى ص ١٠٠	السبب المباشر لقيام الحرب العالمية الثانية ص ١١٠
قيام طالب صربي باغتيال ولي عهد النمسا الأرشيدوق فرديناند وزوجته في مدينة سراييفو عاصمة البوسنة عام ١٩١٤ م .	طالب هتلر بولندا بإعادة ممر دانزيغ ولكنها رفضت بشدة فقام باجتياح بولندا عام ١٩٣٩ م ورفض إنذار بريطانيا وفرنسا .

ج- اكتب مهام الأجهزة التالية :-

١- منظمة التربية والعلوم والثقافة (اليونسكو) . درجة ص ١١٨

- تقوم بتعزيز التعاون الدولي في مجالات التربية والعلوم والثقافة لتطويرها وتحقيق أكبر قدر من التفاهم بين الأمم .

٢- منظمة التغذية والزراعة (الفاو) . درجة ص ١١٨

- تساعد على تحسين إنتاج المزارع والغابات ومناطق صيد الأسماك .

٣- محكمة العدل الدولية . درجة ص ١١٧

- حل النزاعات على الحدود بين الدول الأعضاء والنزاعات الناجمة عن مخالفة القوانين الدولية .

امتحان نهاية الفترة الدراسية الرابعة

الزمن :- ساعتان وربع

للسف الثاني عشر/ أدي ٢٠١٣ - ٢٠١٤م

الأسئلة في ٧ صفحات

المجال الدراسي: تاريخ العالم الحديث والمعاصر

السؤال الأول إحصاري :- ويتكون من (أ - ب - ج - د)أ) أكمل العبارات التالية بما يناسبها :-

- ١- العام الذي تأسست فيه أول مستعمرة إنجليزية في أمريكا الشمالية هو م .
- ٢- المعركة التي هزمت فيها النمسا وأجبرت على أثرها توقيع معاهدة كامبو فروميو اسمها
- ٣- قائد دكتاتوري ظهر في تركيا بعد الحرب العالمية الأولى اسمه
- ٤- العام الذي انتصرت فيه القوات الروسية على القوات الألمانية في معركة ستالينجراد م .
- ٥- رئيس أمريكي كان له دور بارز في تأسيس عصبة الأمم اسمه
- ٦- الرمز (ILO) هو اختصار لمنظمة عالمية اسمها
- ٧- مدينة يوجد بها مقر محكمة العدل الدولية اسمها
- ٨- القائد الفرنسي الذي أصدر عام ١٨٠٤م قانونا يحافظ على القيم والتقاليد القديمة اسمه

ب) انسب العبارة في المجموعة (أ) إلى المفكر في المجموعة (ب) :-

الرقم	(أ)	الرقم المناسب	(ب)
١-	انتقد بشدة القوانين الفرنسية الجائرة ونظام الضرائب والامتيازات .		روسو
٢-	اعتقد بأن النظام الملكي البرلماني الإنجليزي هو النظام الملائم لفرنسا .		جون لوك
٣-	نادى بأن لكل فرد حقوق طبيعية في الحياة والحرية والتملك .		فولتير
٤-	أنكر أن يكون هناك حاكم يستمد سلطته من مصدر غير الأمة .		ميكافيلي
			منتسكيو

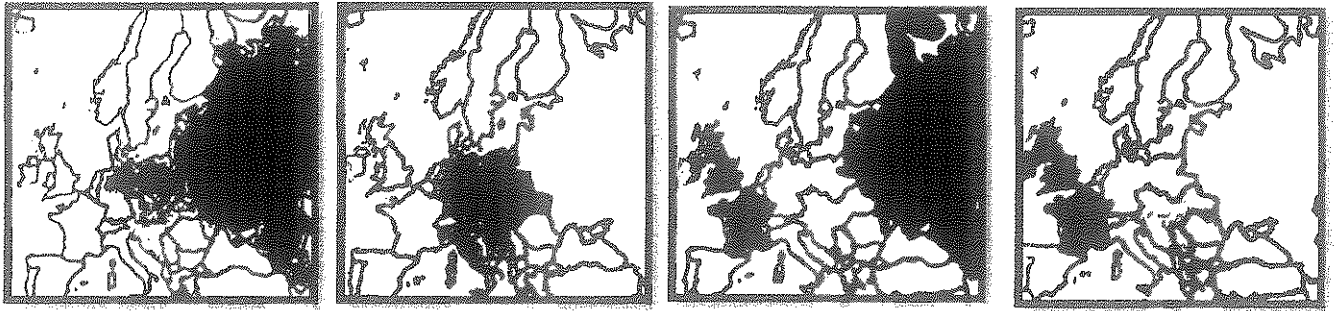
تابع السؤال الأول (اجباري) :-

(ج) اختر الإجابة الصحيحة من بين البدائل التي تلي كل عبارة مما يلي :-

١. أحد أسباب قيام الثورة الأمريكية :-

- أ - انقسام المجتمع قبيل الثورة إلى طبقتين الممتازة والعامية . ج - إعلان مبدأ التسامح مع الكاثوليكية .
ب - المشاركة الشعبية التي تحد من سلطة الملك . د - تطبيق قوانين الاحتكار التجاري وقوانين الملاحة .

٢. التكتل السياسي للدول التي شكلت الوفاق الودي تمثله الخريطة التي تحمل الحرف :-



(د)

(ج)

(ب)

(أ)

٣. آخر الحروب التي خاضتها الولايات المتحدة الأمريكية ضد بريطانيا عام ١٧٨١ م :-

- أ - سارا توجا ب - يورك تاون ج - لونغ أيلاند د - لكنجستون .

٤. استمرت آثار الأزمة الاقتصادية العالمية في كافة أنحاء العالم في الفترة بين :-

- أ - (١٩٢٩ - ١٩٣٩ م) ج - (١٩٣٩ - ١٩٤٢ م)
ب - (١٩٢٩ - ١٩٣٥ م) د - (١٩٣٨ - ١٩٤٥ م)

٥. الحدث التاريخي الذي أدى إلى اندلاع الثورة المضادة في فرنسا :-

- أ - إصدار إعلان بلنيز . ج - سقوط حصن الباستيل .
ب - المؤامرة الملكية ضد الجمعية الوطنية . د - إعدام الملك لويس السادس عشر .

٦. معركة تمكن فيها الحلفاء وقف الزحف الألماني على باريس عام ١٩١٤ م :-

- أ - العلمين . ب - فردان ج - المارن الأولى د - النورماندي

٧. رؤساء الدول الثلاث الذين دعوا إلى إنشاء تنظيم دولي باسم الأمم المتحدة هم :-

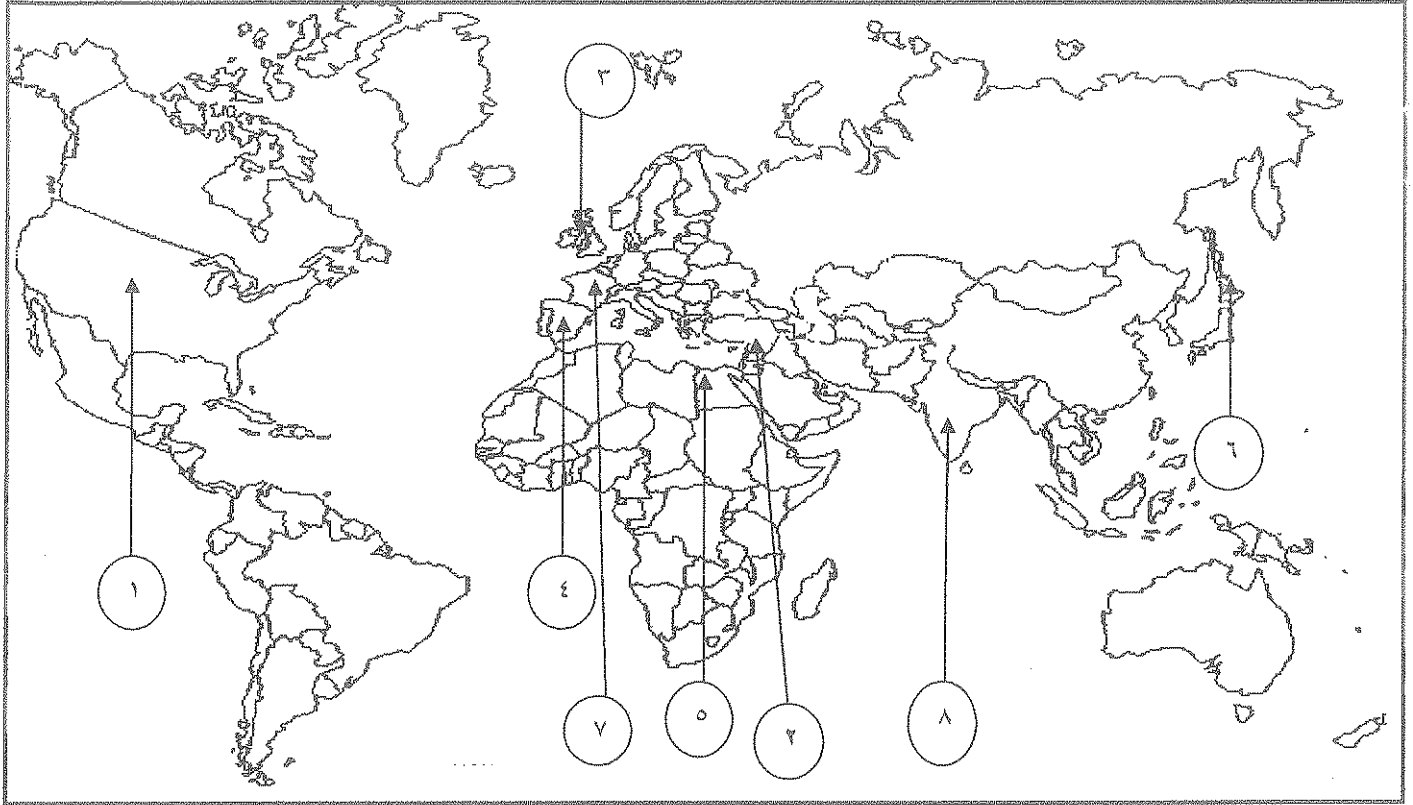
- أ - (روزفلت - تشرشل - ستالين) ج - (تشرشل - فرانكو - روزفلت)
ب - (لينين - ستالين - روزفلت) د - (ستالين - تشرشل - ولسن)

٨. مدينة أقام فيها هتلر الحكومة الموالية له بعد توقيع الهدنة مع فرنسا عام ١٩٤٠ م :-

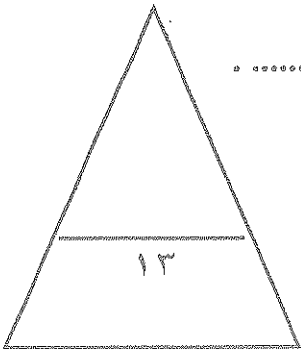
- أ - باريس ب - مارسيليا ج - ليون د - فيشي

تابع السؤال الأول (إجباري)

د) أنسب الأرقام على خريطة العالم إلى العبارة المناسبة لها :-



- مدينة قامت فيها معركة العلمين يمثلها الرقم
- دولة ظهرت كوحدة سياسية مجتمعة عقب معاهدة صلح باريس عام ١٧٨٣ م يمثلها الرقم
- دولة أوروبية ظلت مستعمراتها تنافس الإنجليز في أمريكا بعد حرب السنين السبع يمثلها الرقم
- دولة لقبث ثورتها بالنموذج الشامل للثورة يمثلها الرقم
- دولة استسلمت دون قيد أو شرط لقوات التحالف أثر ضربها بقنبلتين ذريتين يمثلها الرقم
- إحدى الإمبراطوريات التي تفككت في أعقاب الحرب العالمية الأولى يمثلها الرقم



الأسئلة الاختيارية (أجب عن ثلاثة أسئلة كاملة من الأسئلة التالية):

السؤال الثاني:- (اختياري) ويتكون من (أ - ب - ج)

أ) علل لما يأتي :-

١ - استحالة التوافق بين الحاكم والمجلس النيابي المنتخب في المستعمرات الإنجليزية في أمريكا .

.....
.....

٢ - كانت القارة الأوروبية محور العلاقات الدولية في بداية القرن العشرين .

.....
.....

٣ - هروب الملك جيمس الثاني إلى فرنسا عام ١٦٨٨ م .

.....
.....

ب) اذكر أوجه الشبه بين كلا من :-

١ - أسباب إنشاء كلا من عصبة الأمم المتحدة ومنظمة الأمم المتحدة .

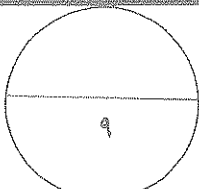
.....
.....
.....

٢ - نظام الحكم الذي كان يحكم به ملوك إنجلترا وملوك فرنسا قبل اندلاع الثورة في بلدهما .

.....
.....

ج) قارن بين كل من :-

وجه المقارنة	النازية	الفاشية
المؤسس (الزعيم)		
سنة التأسيس		
التعريف		



السؤال الثالث اختياري يتكون من (أ - ب - ج)

أ) وازن بين نظام الحكم ، والسلطة التشريعية في فرنسا من خلال :-

دستور ١٧٩٥م	دستور ١٧٩١م
نظام الحكم :- السلطة التشريعية :-	نظام الحكم :- السلطة التشريعية :-

ب) نفذ المطلوب بين القوسين :-

١- اختلفت الحرب العالمية الثانية عن جميع الحروب التي سبقتها بما فيها الحرب الأولى . (دلل على صدق العبارة)

-
-
-
-

٢- دخول الولايات المتحدة الأمريكية الحرب العالمية الأولى إلى جانب الحلفاء . (اذكر السبب)

-
-

٣- مجلس اللوردات ومجلس العموم في الحياة النيابية في إنجلترا . (أوجه الاختلاف)

-
-

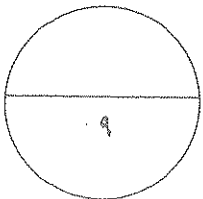
ج) اكتب مهام الأجهزة التالية :-

١- البنك الدولي للتنمية والتعمير .

-

٢- جمعية أبناء الحرية .

-



السؤال الرابع : (اختياري) ويتكون من (أ - ب - ج)

(أ) ما تفسيرك لما يلي :-

١- لم يصدر مجلس طبقات الأمة الفرنسي قرارا يتعارض مع مصلحة الطبقات الأرستقراطية .

.....
.....

٢- قيام الثورة الشيوعية في روسيا عام ١٩١٧ م .

- ●
- ●
- ●
- ●

٣- عانت الدول المنتصرة والدول المهزومة في الحرب العالمية الأولى من الكساد الاقتصادي العالمي بعد الحرب .

.....
.....

(ب) فند العبارات التالية :-

١- اختلاف المبادئ بين وثيقة الاستقلال الأمريكية ووثيقة الحقوق الإنجليزية .

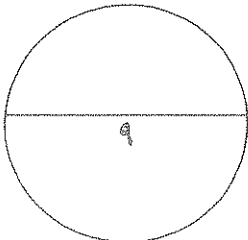
.....
.....
.....

٢- عدم تمتع مجلس الأمن الدولي بأي سلطة فعلية كأحد أجهزة الأمم المتحدة .

.....
.....

(ج) فرق بين أثر حرب السنين السبع على :-

سكان المستعمرات	الإنجليز
-١	-١
-٢	-٢



السؤال الخامس : (اختياري) ويتكون من (أ - ب - ج)

أ) دال على صحة العبارات التالية :-

١ - " تعتبر نتائج الحرب العالمية الأولى وما تلاها من أحداث هي نفسها أسباب الحرب العالمية الثانية " .

.....
.....
.....

٢ - " إن القوانين الجائرة التي اتخذها البرلمان الإنجليزي لمعاقبة بوسطن أعطى نتائج عكسية لما كان يتمناه
الإنجليز " .

.....
.....

٣ - بالرغم من صغر معركة فالمي إلا انه كان لها أهمية كبيرة في التاريخ الفرنسي .

.....
.....
.....

ب) أجب عما يلي :-

١ - عدد أهم ملامح عالمنا المعاصر .

.....
.....
.....
.....

ج) عرف المفاهيم التالية :-

١ - الكنيسة الإنجليكانية :-

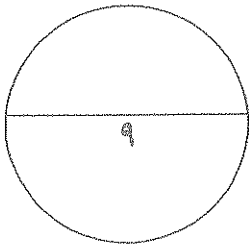
.....

٢ - الأيديولوجية :-

.....

٣ - البلقان :-

.....



(انتهت الأسئلة)

امتحان نهاية الفترة الدراسية الرابعة

الزمن :- ساعتان وربع

للسف الثاني عشر/ أدبي ٢٠١٣ - ٢٠١٤م

الأسئلة في ٧ صفحات

المجال الدراسي: تاريخ العالم الحديث والمعاصر

السؤال الأول إحصاري :- ويتكون من (أ - ب - ج - د)

(أ) أكمل العبارات التالية بما يناسبها :-

١- العام الذي تأسست فيه أول مستعمرة إنجليزية في أمريكا الشمالية هو ... ٧... ٦... ١... م .

٢- المعركة التي هزمت فيها النمسا وأجبرت على أثرها توقيع معاهدة كامبو فروميو اسمها ... ريفولي ...

٣- قائد نكتاتوري ظهر في تركيا بعد الحرب العالمية الأولى اسمه ... مصطفى كمال أتاتورك ...

٤- العام الذي انتصرت فيه القوات الروسية على القوات الألمانية في معركة ستالينجراد ... ١٩٤٥... ١٩٤٦... م .

٥- رئيس أمريكي كان له دور بارز في تأسيس عصبة الأمم اسمه ... ويلسون ...

٦- الرمز (ILO) هو اختصار لمنظمة عالمية اسمها ... منظمة العمل الدولية ...

٧- مدينة يوجد بها مقر محكمة العدل الدولية اسمها ... لاهاي ...

٨- القائد الفرنسي الذي أصدر عام ١٨٠٤م قانونا يحافظ على القيم والتقاليد القديمة اسمه نابليون بونابرت

(ب) انسب العبارة في المجموعة (أ) إلى المفكر في المجموعة (ب) :-

الرقم	(أ)	الرقم المناسب	(ب)
١-	انتقد بشدة القوانين الفرنسية الجائرة ونظام الضرائب والامتيازات .	٤	روسو
٢-	اعتقد بأن النظام الملكي البرلماني الإنجليزي هو النظام الملائم لفرنسا .	٣	جون لوك
٣-	نادى بأن لكل فرد حقوق طبيعية في الحياة والحرية والتملك .	١	فولتير
٤-	أنكر أن يكون هناك حاكم يستمد سلطته من مصدر غير الأمة .		ميكافيلي
		٢	منتسكيو

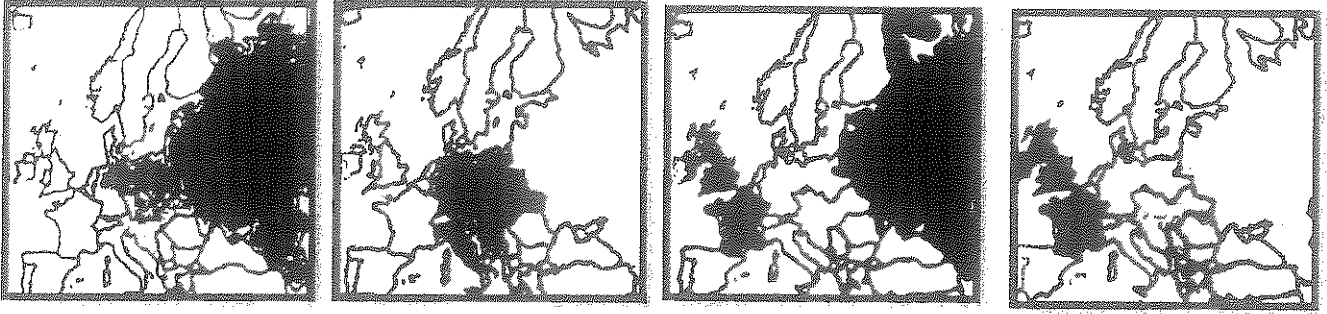
تابع السؤال الأول (اجباري) :-

(ج) اختر الإجابة الصحيحة من بين البدائل التي تلي كل عبارة مما يلي :-

١. أحد أسباب قيام الثورة الأمريكية :-

أ - انقسام المجتمع قبيل الثورة إلى طبقتين الممتازة والعامية . ج - إعلان مبدأ التسامح مع الكاثوليكية .
ب - المشاركة الشعبية التي تحد من سلطة الملك . (د) تطبيق قوانين الاحتكار التجاري وقوانين الملاحة .

٢. التكتل السياسي للدول التي شكلت الوفاق الودي تمثله الخريطة التي تحمل الحرف :-



(د)

(ج)

(ب)

(أ)

٣. آخر الحروب التي خاضتها الولايات المتحدة الأمريكية ضد بريطانيا عام ١٧٨١ م :-

أ - سارا توجا . ب - يورك تاون . ج - لونج آيلاند . د - لكنجستون .

٤. استمرت آثار الأزمة الاقتصادية العالمية في كافة أنحاء العالم في الفترة بين :-

(أ) (١٩٢٩ - ١٩٣٩ م) . ج - (١٩٣٩ - ١٩٤٢ م)
ب - (١٩٢٩ - ١٩٣٥ م) . د - (١٩٣٨ - ١٩٤٥ م)

٥. الحدث التاريخي الذي أدى إلى اندلاع الثورة المضادة في فرنسا :-

أ - إصدار إعلان بلننز . ج - سقوط حصن الباستيل .
ب - المؤامرة الملكية ضد الجمعية الوطنية . (د) إعدام الملك لويس السادس عشر .

٦. معركة تمكن فيها الحلفاء وقف الزحف الألماني على باريس عام ١٩١٤ م :-

أ - العلمين . ب - فردان . ج - المارن الأولى . د - النورماندي

٧. رؤساء الدول الثلاث الذين دعوا إلى إنشاء تنظيم دولي باسم الأمم المتحدة هم :-

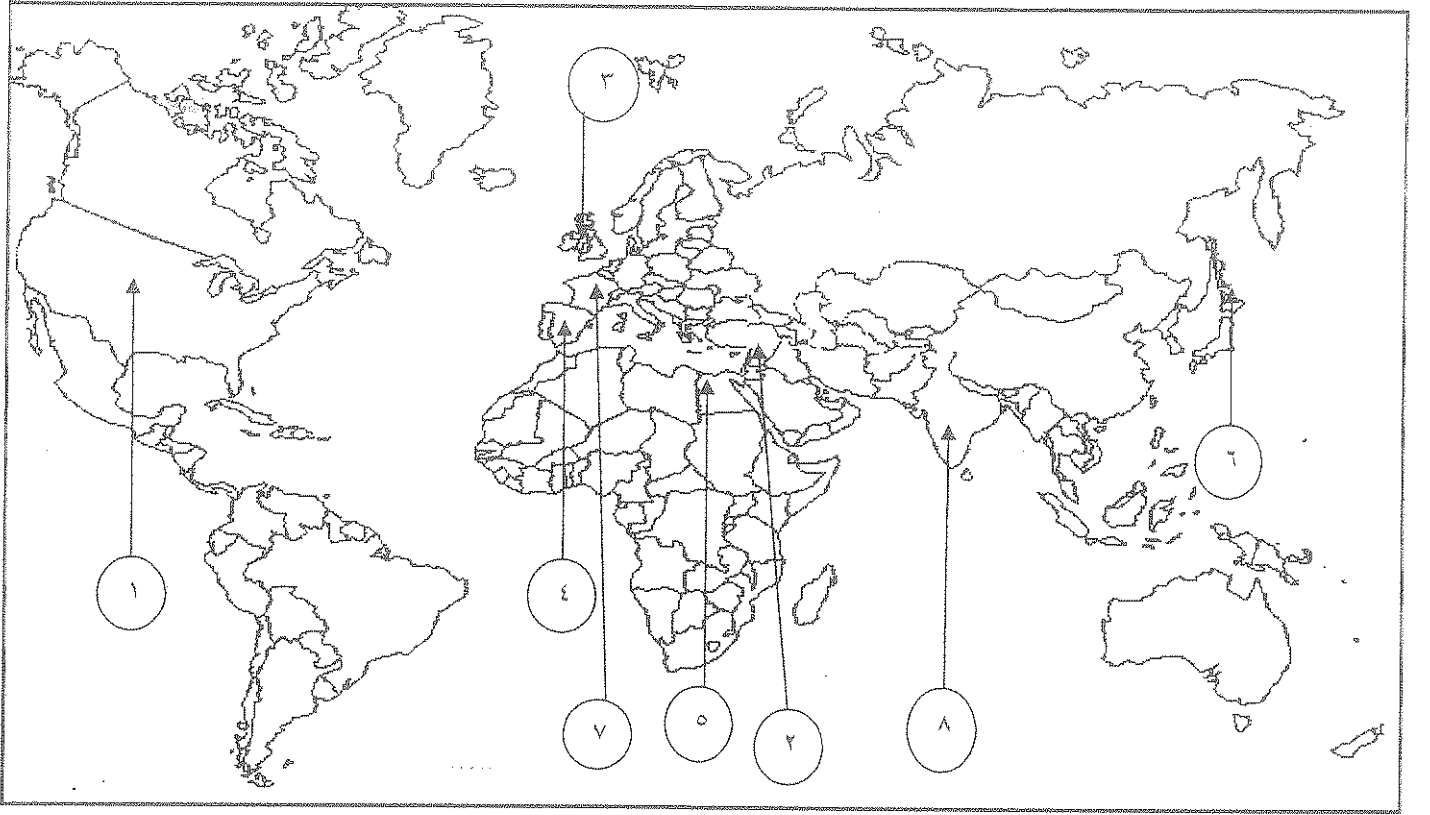
(أ) (روزفلت - تشرشل - ستالين) . ج - (تشرشل - فرانكو - روزفلت)
ب - (لينين - ستالين - روزفلت) . د - (ستالين - تشرشل - ولسن)

٨. مدينة أقام فيها هتلر الحكومة الموالية له بعد توقيع الهدنة مع فرنسا عام ١٩٤٠ م :-

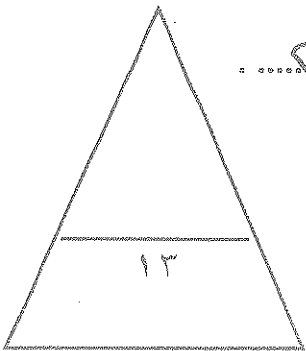
أ - باريس . ب - مارسيليا . ج - ليون . د - فيشي

تابع السؤال الأول (ايجازي)

د (أنسب الأرقام على خريطة العالم إلى العبارة المناسبة لها :-



- مدينة قامت فيها معركة العلمين يمثلها الرقم ٥
- دولة ظهرت كوحدة سياسية مجتمعة عقب معاهدة صلح باريس عام ١٧٨٣م يمثلها الرقم ١
- دولة أوروبية ظلت مستعمراتها تنافس الإنجليز في أمريكا بعد حرب السنين السبع يمثلها الرقم ٤
- دولة لقبث ثورتها بالنموذج الشامل للثورة يمثلها الرقم ٧
- دولة استسلمت دون قيد أو شرط لقوات التحالف أثر ضربها بقنبلتين ذريتين يمثلها الرقم ٦
- إحدى الإمبراطوريات التي تفككت في أعقاب الحرب العالمية الأولى يمثلها الرقم ٢



الأسئلة الاختيارية (أجب عن ثلاثة أسئلة كاملة من الأسئلة التالية):

السؤال الثاني :- (اختياري) ويتكون من (أ - ب - ج)

أ) علل لما يأتي :-

- ١- استحالة التوافق بين الحاكم والمجلس النيابي المنتخب في المستعمرات الإنجليزية في أمريكا .
حيث أن الحاكم يهزمه بالدرجة الأولى ويصالح الملك الإنجليزي .
أما المجلس النيابي يهزمه ويصالح الشعب الأمر الذي لم يخفاهم الأول .
- ٢- كانت القارة الأوروبية محور العلاقات الدولية في بداية القرن العشرين .

- مركز الثورة الصناعية - وفرة الموارد الطبيعية .
- المنفوخة الاستعمارية من جميع القارات . نشوء الامبراطوريات الكبرى .

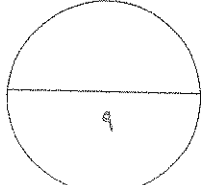
٣- هروب الملك جيمس الثاني إلى فرنسا عام ١٦٨٨ م .
سبب انضمام العسكريين الإنجليز الكاثوليك ولعم أرمانج معاً قاد الملك
جيمس الثاني الثاني إلى عزلته برصية .

ب) اذكر أوجه الشبه بين كلا من :-

- ١- أسباب إنشاء كلا من عصبة الأمم المتحدة ومنظمة الأمم المتحدة .
إجمالاً رغبة السلم بين الدول .
تحقيق التعاون الدولي من جميع المجالات .
إحترام حقوق الإنسان .
- ٢- نظام الحكم الذي كان يحكم به ملوك إنجلترا وملوك فرنسا قبل اندلاع الثورة في بلادهما .
منظومة الحقوق للإنسان المعاصر .

ج) قارن بين كل من :-

وجه المقارنة	النازية	الفاشية
المؤسس (الزعيم)	أدولف هتلر	موسوليني
سنة التأسيس	١٩٢٠	١٩٢٢
التعريف	الاشتراكية الوطنية	حركة يمينية متطرفة تؤمن بتفوق العنصر الروماني



السؤال الثالث اختياري يتكون من (أ - ب - ج)

(أ) وازن بين نظام الحكم ، والسلطة التشريعية في فرنسا من خلال :-

دستور ١٧٩٥م	دستور ١٧٩١م
نظام الحكم :- جمهورية	نظام الحكم :- ملك
السلطة التشريعية :- البرلمان وتكون من - مجلس الخمسة - مجلس الشيوخ	السلطة التشريعية :- الجمعية التشريعية

(ب) نفذ المطلوب بين القوسين :-

١- اختلفت الحرب العالمية الثانية عن جميع الحروب التي سبقتها بما فيها الحرب الأولى . (دلل على صدق العبارة)

- ... حرب عالمية شاملة
- ... تسخير الطاقات البشرية
- ... تدخل جنس مناعى
- ... سباق تسلح تكنولوجى

٢- دخول الولايات المتحدة الأمريكية الحرب العالمية الأولى إلى جانب الحلفاء . (اذكر السبب)

... بسبب حرب الغواصات الألمانية ضد السفن الأمريكية

٣- مجلس اللوردات ومجلس العموم في الحياة النيابية في إنجلترا . (أوجه الاختلاف)

- - مجلس اللوردات يضم الطبقتين الأرستقراطية ورجال الدين وينتخب الملك لأجلز
- - مجلس العموم يضم نوابات الطبقتين الوسطى والريعية والبرلمان ويتنخبهم

السحب

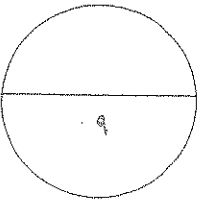
(ج) اكتب مهام الأجهزة التالية :-

١- البنك الدولي للتنمية والتعمير .

- ... يمنح قروضاً لمساعدة مختلف الأقطار في تنفيذ مشاريعها

٢- جمعية أبناء الحرية .

- ... تنظيم المعارفية ومقاومة الضرائب الجديدة التي أُلغيت عليها
- ... القوانين سيئة السمعة



السؤال الرابع : (اختياري) ويتكون من (أ - ب - ج)

(أ) ما تفسيرك لما يلي :-

١- لم يصدر مجلس طبقات الأمة الفرنسي قرارا يتعارض مع مصلحة الطبقات الأرستقراطية .

المجلس التشريعي... كما أنه... أساس... و...
...
... مع مصلحة الطبقات الأرستقراطية

٢- قيام الثورة الشيوعية في روسيا عام ١٩١٧م .

- ...الحكم القمري... في روسيا
- ...الحزب... الجيش الروسي
- ...
- ...

٣- عانت الدول المنتصرة والدول المهزومة في الحرب العالمية الأولى من الكساد الاقتصادي العالمي بعد الحرب .

- ١- ...
- ٢- ...
- ٣- ...

(ب) فند العبارات التالية :-

١- اختلاف المبادئ بين وثيقة الاستقلال الأمريكية ووثيقة الحقوق الإنجليزية .

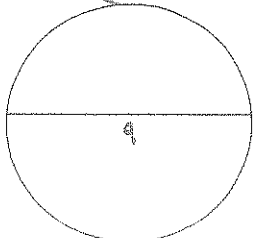
لدي... اختلاف...
...
...

٢- عدم تمتع مجلس الأمن الدولي بأى سلطة فعلية كأحد أجهزة الأمم المتحدة .

هو... السلطة الفعلية...
...
...

(ج) فرق بين أثر حرب السنين السبع على :-

الإنجليز	سكان المستعمرات
١- فرحت إنجلترا من كبر وهرتت أفزمت بألية طامحة	١- شعورهم بقوتهم الحقيقية
٢- أمحت إنجلترا ماحصة ليادة على الاستعمارات الأخرى بأكملها	٢- بروز أعمال جورج واشنطن - اعتماد والتعاون فيما بينهم



السؤال الخامس : (اختياري) ويتكون من (أ - ب - ج)

أ) دال علم صحة العبارات التالية :-

١ - " تعتبر نتائج الحرب العالمية الأولى وما تلاها من أحداث هي نفسها أسباب الحرب العالمية الثانية " .

- معاهدات الصلح ١٩١٩ جعلت لدول المهزومة تأويل لتطلعت من شروطها لنزل
- حياهم إلا بظلمة السكتات صرحت من الكاسيات حرايطا ليا والميايات وعصلا للتوسع لإعنا
- اللوزومة لرا وعهارية الكاسية

٢ - " إن القوانين الجائرة التي اتخذها البرلمان الإنجليزي لمعاقبة بوسطن أعطى نتائج عكسية لما كان يتمناه الإنجليزي " .

- عدم ج. المرجوع للقوانين. وبكاسة التي أصدرتها إنجلترا عند بوسطن
 - إعاقة... إلخ. الحقا طهتة العاربية الليها ربح. الإنجليزية
- ٣ - بالرغم من صغر معركة فالمي إلا أنه كان لها أهمية كبيرة في التاريخ الفرنسي .

- أذنت... أفكار الثورة. الفرنسية. من الضياع
- هالت... و... باريس
- برهنت... للمعنوية. للفرنسيين

ب) أجب عما يلي :-

١ - عدد أهم ملامح عالمنا المعاصر .

- تقدم علمي و تقجار ورمي
- زيادة سكانية هائلة
- مجوعة علمية. اعتمادية بين الدول المتقدمة والنامية
- مخاوف من حرب نووية

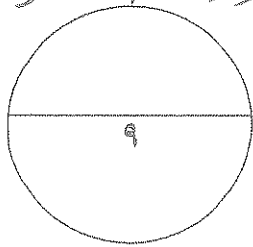
ج) عرف المفاهيم التالية :-

١ - الكنيسة الإنجليكانية :- هي الكنيسة الإنجليزية التي تصنف بالذهب البروتستانتية بعد

٢ - الأيديولوجية :- دقة من الآراء والارثكار السياسية والعائونية والدينية والفلسفية

٣ - البلقان :- اصطلاح سياسي يطلق على مجموعة دول أوروبا الشرقية

يوغسلافيا - اليونان - بلغاريا - ألبانيا



(انتهت الأسئلة)

الزمن : ساعتان وربع

امتحان نهاية الفترة الدراسية الرابعة

للمصف الثاني عشر / أدبي للعام ٢٠١٢ / ٢٠١٣ م

المجال الدراسي : تاريخ العالم الحديث والمعاصر

السؤال الأول (اجباري) يتكون من أ - ب - ج - د :-

أ- أكمل العبارات التالية بما يناسبها :-

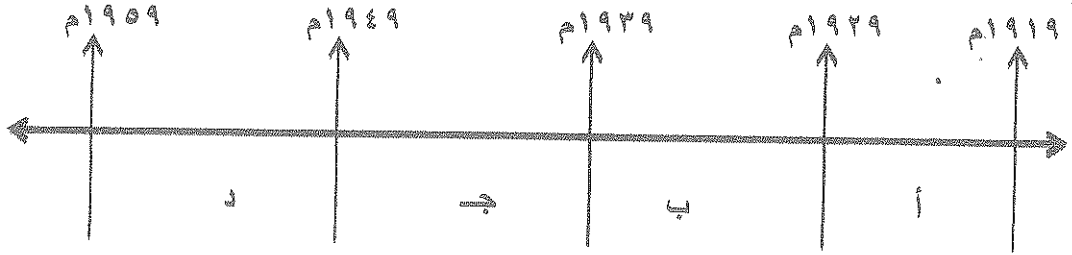
- ١- الكنيسة الأنجليزية التي تعتنق المذهب البروتستانتي تسمى
- ٢- المستشار الألماني الذي أتبع أسلوب الأحلاف والتكتلات في أوروبا يسمى
- ٣- الساحل الفرنسي الذي تم إنزال الحلفاء قواتهم فيه عام ١٩٤٣ م يسمى
- ٤- العام الذي أفتتحت فيه هيئة الأمم المتحدة رسميا هو
- ٥- المدينة التي كانت مقرا للجمعية العامة لعصبة الأمم تسمى
- ٦- الدولة التي دخلت الحرب العالمية الأولى بسبب انتهاك ألمانيا حياد البلجيك تسمى
- ٧- الكتاب الذي وضع فيه هتلر مبادئه يسمى
- ٨- المفكر الفرنسي صاحب كتاب " روح القوانين " أسمه

ب- أختار البديل الصحيح من بين البدائل التي تلي كل عبارة مما يلي وضع خطا تحته :-

- ١- الدولة الأفريقية التي احتلها موسوليني عام ١٩٣٦ م :
أ - الصومال
ب - ليبيا
ج - أثيوبيا
د - موريتانيا
- ٢- الزعيم الأمريكي الذي شارك في مؤتمر يالطا ١٩٤٥ م :
أ- روزفلت
ب- جورج واشنطن
ج- ودرو ويلسون
د- جون كنيدي
- ٣- المدينة التي حدثت فيها خاتمة حرب استقلال الولايات المتحدة ضد بريطانيا :
أ- بوسطن
ب- لكسنجتون
ج- يورك تاون
د- نيويورك
- ٤- الحلف الذي تكون من دولتي فرنسا وبريطانيا عام ١٩٠٤ م :
أ - عصبة الأباطرة
ب - الاتفاق الودي
ج - الحلف الثلاثي
د - الوفاق الودي

تابع السؤال الأول (اجباري) :

٥- الفترة الزمنية التي تمثل الكساد الإقتصادي العالمي يمثلها على المخطط الزمني الحرف :



٦- الدول التي تمثل دول المحور في الحرب العالمية الثانية :

يمثلها في الجدول المقابل :

الدولة	م
ألمانيا	-١
بريطانيا	-٢
إيطاليا	-٣
اليابان	-٤

ب - (١ ، ٢ ، ٣)

أ - (١ ، ٣ ، ٤)

د - (١ ، ٢ ، ٤)

ج - (٢ ، ٣ ، ٤)

٧- المدينة التي أعتقل فيها الملك لويس السادس عشر أثناء هروبه من فرنسا :

ب - نيس

أ - باريس

د - فاران

ج - فرساي

ج- أكتب المفهوم الدالة عليه العبارات التالية :-

١- () صلح عقد بين الولايات المتحدة وبريطانيا عام ١٧٨٣م أقرت بموجبه بريطانيا باستقلال

الولايات المتحدة الأمريكية .

٢- () تشريعات يتفق عليها دوليا وهي مقننة تلتزم الدول المشتركة بها .

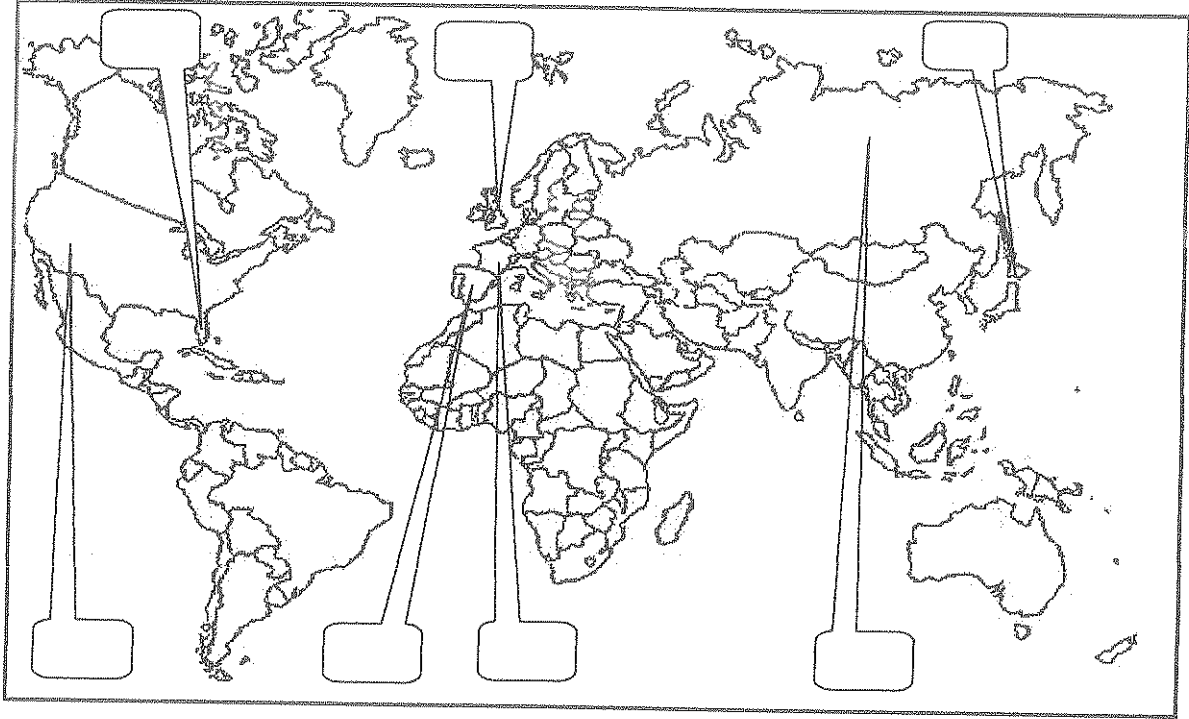
٣- () إعلان الحرب على فرنسا من قبل إمبراطور النمسا وبروسيا عام ١٧٩١م لإنقاذ الملكية الفرنسية .

٤- () مؤتمر عقد عام ١٩٣٨م تقرر فيه ضم تشيكوسلوفاكيا الى ألمانيا .

٥- () معاهدة عقدت عام ١٧٩٧م أعطت فرنسا مكاسب كبيرة وحقت للفرنسيين الفخر والعزة .

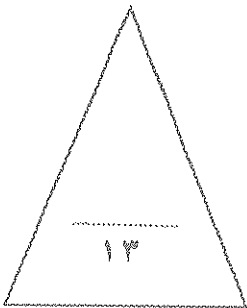
تابع السؤال الأول (اجباري) :

د - لاحظ خريطة العالم التي أمامك جيدا ثم نفذ المطلوب منك :-



ضع رقم كل عبارة مما يلي في المربع المناسب لها على خريطة العالم الصماء :-

- ١ - الدولة التي ألقت عليها الولايات المتحدة الأمريكية قنبلتين ذريتين .
- ٢ - المستعمرة الأسبانية في أمريكا الشمالية .
- ٣ - دولة انسحبت من الحرب العالمية الأولى عام ١٩١٧ م .
- ٤ - دولة قامت فيها الثورة المجيدة عام ١٦٨٩ م .
- ٥ - دولة قام فيها النظام الديكتاتوري بزعامة فرانسيس فرانكو .
- ٦ - دولة احتلها هتلر عام ١٩٤٠ م .



السؤال الثاني : (اختياري) يتكون من أ - ب - ج :-

أ - علل لكل مما يلي :-

١- أهمية معركة فالمي تاريخيا .

.....
.....

٢- نجاح الثورة الشيوعية في روسيا عام ١٩١٧ م .

.....
.....

ب - أكتب النتائج المترتبة على ما يلي :-

١- الثورة الإنجليزية .

.....
.....

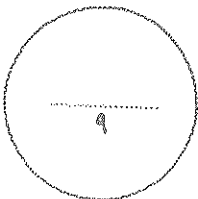
٢- حرب السنين السبع بالنسبة لسكان المستعمرات .

.....
.....

ج - ماذا يحدث لو لم :-

١- يحتل هتلر ممر دانزيغ (دانزيغ) البولندي عام ١٩٣٩ م

.....



السؤال الثالث : (اختياري) يتكون من أ - ب - ج

أ - أكتب فقرة مترابطة مستعينا بالكلمات التالية :-

الطبقة الممتازة - المجتمع الفرنسي - الضرائب - الوظائف العليا .

.....
.....
.....
.....

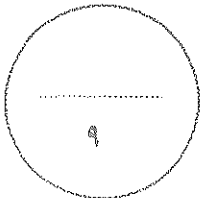
ب - ما أوجه الشبه بين كل مما يلي :-

١ - الفاشية والنازية كأنظمة ديكتاتورية .

.....
.....
.....
.....

ج - فرق بين ما يلي :-

أسباب الحرب العالمية الثانية	أسباب الحرب العالمية الأولى
.....



السؤال الرابع (اختياري) يتكون من أ - ب - ج :

أ - اقرأ الفقرة التالية ثم نفذ المطلوب منك :-

" هدم هروب الملك لويس السادس عشر الجسور التي كانت العناصر الثورية المعتدلة (الجيرونديين) في المؤتمر الوطني منذ البداية تحرص على استمرارها بين العرش والثورة بل أكثر من ذلك فإن هذا الحدث قد قضى على كل أمل بإقامة ملكية دستورية في فرنسا وأطلق للعناصر المتطرفة اليعاقبة وللجمهوريين عامة حرية العمل والدعوة لأفكارهم حيث صدر الحكم بإعدام الملك بعد أن ظهر علانية بمظهر الخائن المتعاون مع المهاجرين أعداء الثورة و دول أجنبية تضرر الكره والبغضاء لفرنسا وثورتها فنقذ الحكم بتاريخ ٢١ يناير ١٧٩٣م مما أدى إلى قيام الثورة المضادة في فرنسا وتشكل التحالف الدولي الأول ضد الثورة الفرنسية."

١- عرف ما تحته خط .

اليعاقبة :

٢- استخلص من الفقرة نتائج إعدام الملك لويس السادس عشر على فرنسا .

.....
.....

ب - علل لما يلي :-

١- استحالة التعاون بين الحاكم والمجلس التشريعي في المستعمرات الإنجليزية في أمريكا الشمالية بعد حرب السنين السبع .

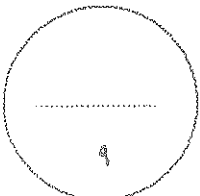
.....
.....

٢- عجز عصبة الأمم في حل القضايا التي كانت الدول الكبرى طرفاً فيها .

.....
.....

ج - فرق بين ما يلي :-

دخول الولايات المتحدة الأمريكية للحرب العالمية الثانية	دخول الولايات المتحدة الأمريكية للحرب العالمية الأولى
.....



السؤال الخامس : (اختياري) يتكون من أ - ب - ج

أ - نفذ المطلوب منك بين الأقواس :-

(العوامل الاقتصادية)

١- الثورة الفرنسية .

.....
.....

(النتائج السياسية)

٢- الحرب العالمية الثانية .

.....
.....

(النتائج)

٣- معركة ساراتوجا

.....
.....

ب- علل ما يلي :-

١- إلغاء البرلمان الإنجليزي جميع الضرائب سينة السمعة ما عدا ضريبة الشاي .

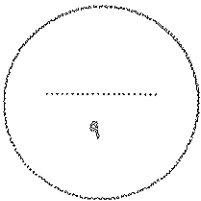
.....

٢- إنقسام العالم سياسيا في أواخر القرن التاسع عشر وبداية القرن العشرين .

.....
.....

ج - أكتب ملامح لعالمنا المعاصر :-

.....
.....



أنتهت الأسئلة ...،،،،

(٧)

الزمن : ساعتان وربع امتحان نهاية الفترة الدراسية الرابعة

للفصل الثاني عشر / أدبي للعام ٢٠١٢ / ٢٠١٣ م

المجال الدراسي : تاريخ العالم الحديث والمعاصر

السؤال الأول (إجباري) يتكون من أ - ب - ج - د :-

أ- أكمل العبارات التالية بما يناسبها :-

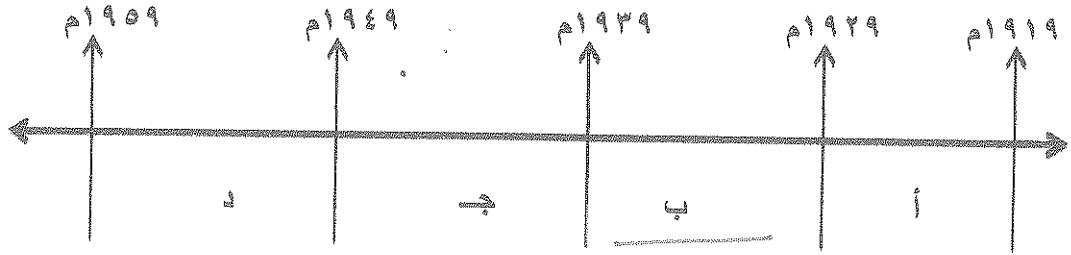
- ١- الكنيسة الأنجليزية التي تعتقد المذهب البروتستانتي تسمى البروتستانتية.
- ٢- المستشار الألماني الذي أتبع أسلوب الأحلاف والتكتلات في أوروبا يسمى بيسمارك.
- ٣- الساحل الفرنسي الذي تم إنزال الحلفاء قواتهم فيه عام ١٩٤٣ م يسمى البيزو.
- ٤- العام الذي أفتتحت فيه هيئة الأمم المتحدة رسميا هو ١٩٤٥ م.
- ٥- المدينة التي كانت مقرا للجمعية العامة لعصبة الأمم تسمى جنيف.
- ٦- الدولة التي دخلت الحرب العالمية الأولى بسبب انتهاك ألمانيا حياد البلجيك تسمى بريطانيا.
- ٧- الكتاب الذي وضع فيه هتلر مبادئه يسمى أفكارى.
- ٨- المفكر الفرنسي صاحب كتاب " روح القوانين " اسمه مونتسكيو.

ب- أختار البديل الصحيح من بين البدائل التي تلي كل عبارة مما يلي وضع خطا تحته :-

- ١- الدولة الأفريقية التي احتلها موسوليني عام ١٩٣٦ م :
 أ - الصومال
 ب - ليبيا
 ج - أثيوبيا
 د - موريتانيا
- ٢- الزعيم الأمريكي الذي شارك في مؤتمر بالطا ١٩٤٥ م :
 أ - روزفلت
 ب - جورج واشنطن
 ج - ودر وويلسون
 د - جون كنيدي
- ٣- المدينة التي حدثت فيها خاتمة حرب استقلال الولايات المتحدة ضد بريطانيا :
 أ - بوسطن
 ب - لكسنجتون
 ج - يورك تاون
 د - نيويورك
- ٤- الحلف الذي تكون من دولتي فرنسا وبريطانيا عام ١٩٠٤ م :
 أ - عصبة الأباطرة
 ب - الاتفاق الودي
 ج - الحلف الثلاثي
 د - الوفاق الودي

تابع السؤال الأول (اجباري) :

٥- الفترة الزمنية التي تمثل الكساد الإقتصادي العالمي يمثلها على المخطط الزمني الحرف :



٦- الدول التي تمثل دول المحور في الحرب العالمية الثانية :

يمثلها في الجدول المقابل :

الدولة	م
ألمانيا	١-
بريطانيا	٢-
إيطاليا	٣-
اليابان	٤-

ب - (١ ، ٢ ، ٣)

د - (١ ، ٢ ، ٤)

أ - (١ ، ٣ ، ٤)

ج - (٢ ، ٣ ، ٤)

٧- المدينة التي أعتقل فيها الملك لويس السادس عشر أثناء هروبه من فرنسا :

ب - نيس

د - فارانس

أ - باريس

ج - فرساي

ج- أكتب المفهوم الدالة عليه العبارات التالية :-

١- (صلح باريس) صلح عقد بين الولايات المتحدة وبريطانيا عام ١٧٨٣م أقرت بموجبه بريطانيا باستقلال

الولايات المتحدة الأمريكية .

٢- (إرغافانات) تشريعات يتفق عليها دوليا وهي مقننة تلتزم الدول المشتركة بها .

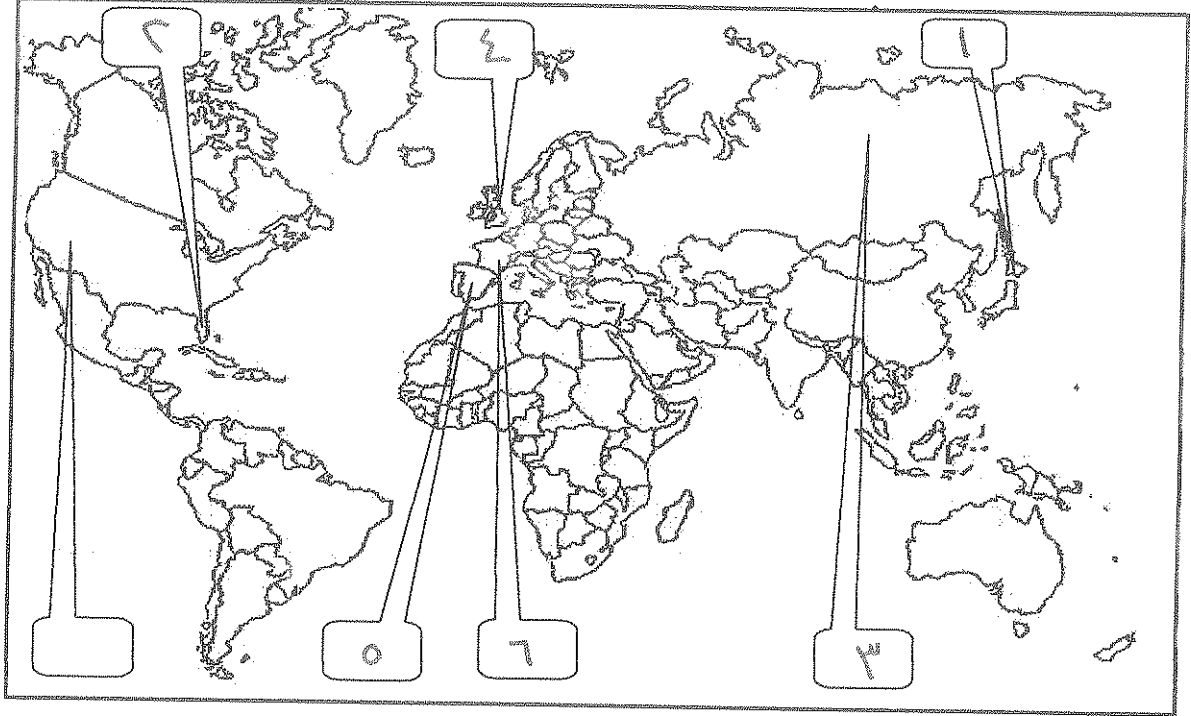
٣- (بلنتر) إعلان الحرب على فرنسا من قبل أمبراطوري النمسا وبروسيا عام ١٧٩١م لإنقاذ الملكية الفرنسية .

٤- (ميونخ) مؤتمر عقد عام ١٩٣٨م تقرر فيه ضم تشيكوسلوفاكيا الى ألمانيا .

٥- (ريسولي) معاهدة عقدت عام ١٧٩٧م أعطت فرنسا مكاسب كبيرة وحققت للفرنسيين الفخر والعزة .

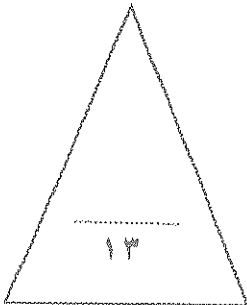
تابع السؤال الأول (اجباري) :

د - لاحظ خريطة العالم التي أمامك جيدا ثم نفذ المطلوب منك :-



ضع رقم كل عبارة مما يلي في المربع المناسب لها على خريطة العالم الصماء :-

- ١- الدولة التي ألقت عليها الولايات المتحدة الأمريكية قنصلتين ذريتين .
- ٢- المستعمرة الأسبانية في أمريكا الشمالية .
- ٣- دولة انسحبت من الحرب العالمية الأولى عام ١٩١٧ م .
- ٤- دولة قامت فيها الثورة المجيدة عام ١٦٨٩ م .
- ٥- دولة قام فيها النظام الديكتاتوري بزعامة فرانسيس فرانكو .
- ٦- دولة احتلها هتلر عام ١٩٤٠ م .



السؤال الثاني : (اختياري) يتكون من أ - ب - ج :-

أ - علل لكل مما يلي :-

- ١- أهمية معركة فالمي تاريخيا .
- أنقذت أفكار الثورة البرسنية
- برهنت الروح المحموية للفرنسيين
- حالت دون وقوع باريس
- تحول جيش الثورة من الدفاع للهجوم
- ٢- نجاح الثورة الشيوعية في روسيا عام ١٩١٧م .
- فساد الحكم القيصرى واستبداده
- سوء الحالة الاقتصادية
- الإزاحة التي حدثت بالجيش الروسى
- تلبية لمتطلبات الثورة على الإقطاع

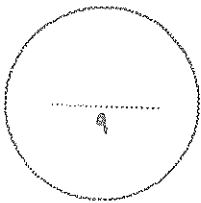
ب - أكتب النتائج المترتبة على ما يلي :-

- ١- الثورة الإنجليزية .
- انتشرت فكرة المجالس النيابية
- اقتدح معظم الدول النظام الانتخابى القائم على الدولتين
- ادراكه الفرد حقوقه السياسية
- تطور النظريات السياسية
- ركز الحياة النيابية على مجلسين
- ٢- حرب الستين السبع بالنسبة لسكان المستعمرات .
- شعورهم بقوة تمكثهم
- الإعياء عند البعثيين
- فتح الباب نحو التوسع إلى الألب دون حدود
- الشعور من ابتنائهم للثورة
- انخراطهم في الثورة
- ماذا يحدث لو لم :-

١- يحتل هتلر ممر دانزيغ (دانزيغ) البولندي عام ١٩٣٩م

- لم يحدث الحرب العالمية الثانية

- لم ينقسم العالم إلى معسكرين الكفلاء والمحور



السؤال الثالث : (اختياري) يتكون من أ - ب - ج

أ - أكتب فقرة مترابطة مستعينا بالكلمات التالية :-

الطبقة الممتازة - المجتمع الفرنسي - الضرائب - الوظائف العليا .

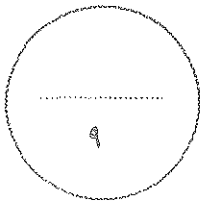
الطبقة الممتازة من المجتمع الفرنسي تكونت من الأثرياء ورجال الرسم
وتمتعوا بالأمن والكرامات مثل الإقطاع من الضرائب وكان لهم
حول المناصب العليا ونسبتهم إلى من المجتمع الفرنسي

ب - ما أوجه الشبه بين كل مما يلي :-

١ - الفاشية والنازية كأنظمة ديكتاتورية .
- هما حركات فاعلت في أوروبا بعد الحرب العالمية الأولى
الاشيخ حركات يمينية متطرفة
- كلتا الحركتين تميزتا بالعرف والقوة والسطوة والفتوح
- هما من تلكه فاما بالنوع على حساب الدول الأخرى

ج - فرق بين ما يلي :-

أسباب الحرب العالمية الثانية	أسباب الحرب العالمية الأولى
<p>معاهدة الصلح عام ١٩١٩ عقود الأقطاعات الرأسمالية الانضمام الإقتصادى العالمى التوتر الدولى سياسة هتلر العنصرية</p>	<p>عقود الصلح الاستعمارية بين دول أوروبا الصراع حول المصالح فى أفريقيا عقود الحياض الدوله العمالية داكالة السوفيت</p>



السؤال الرابع (اختياري) يتكون من أ - ب - ج :

أ - اقرأ الفقرة التالية ثم نفذ المطلوب منك :-

" هدم هروب الملك لويس السادس عشر الجسور التي كانت العناصر الثورية المعتدلة (الجيروندي) في المؤتمر الوطني منذ البداية تحرص على استمرارها بين العرش والثورة بل أكثر من ذلك فإن هذا الحدث قد قضى على كل أمل بإقامة ملكية دستورية في فرنسا وأطلق للعناصر المتطرفة اليقافية وللجمهوريين عامة حرية العمل والدعوة لأفكارهم حيث صدر الحكم بإعدام الملك بعد أن ظهر علانية بمظهر الخائن المتعاون مع المهاجرين أعداء الثورة و دول أجنبية تضرر الكره والبغضاء لفرنسا وثورتها فنفذ الحكم بتاريخ ٢١ يناير ١٧٩٣م مما أدى إلى قيام الثورة المضادة في فرنسا وتشكل التحالف الدولي الأول ضد الثورة الفرنسية."

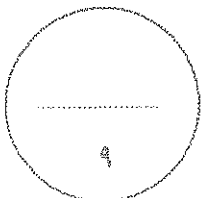
- ١- عرف ما تحته خط .
اليقافية : حزب فرنسي متطرف يرمي بإلغاء الملكية وإمساك زمام زمام الحكم في يد إدارة التنظيم ذات صلة بالشعب وجمهور باريس .
- ٢- استخلص من الفقرة نتائج إعدام الملك لويس السادس عشر على فرنسا .
قيام الثورة المضادة ، اضطراب شكل التحالف الدولي الأول ضد الثورة الفرنسية .

ب - علل لما يلي :-

- ١- استحالة التعاون بين الحاكم والمجلس التشريعي في المستعمرات الإنجليزية في أمريكا الشمالية بعد حرب السنين السبع .
لأن المجلس يهبط بالدرجة الأولى لصالح الملك حيث تطرح الخليفة للمواطنين الأمريكية التي هي مواطنة ودر الدرجة الثانية أما المجلس التشريعي فهو يهبط في المرتبة ويزاد عن ذلك ولا يوجد شيء .
- ٢- عجز عصبة الأمم في حل القضايا التي كانت الدول الكبرى طرفاً فيها .
عدم التزام الدول الكبرى بحيثيات العصبة .
عدم كفاية العصبة قوة عسكرية قادرة على ضمان الأمن .
لم تكن له الولايات المتحدة ما يكفي من القوة

ج - فرق بين ما يلي :-

دخول الولايات المتحدة الأمريكية الحرب العالمية الثانية	دخول الولايات المتحدة الأمريكية الحرب العالمية الأولى
بسبب مهاجمة اليابان ميناء بيرل هاربور ما جزر هاواي	بسبب مهاجمة الغواصات الألمانية السفن التجارية الأمريكية



السؤال الخامس : (اختياري) يتكون من أ - ب - ج

أ - نفذ المطلوب منك بين الأقواس :-

(العوامل الاقتصادية)

١- الثورة الفرنسية
- الخبز الكثير المتاح في فرنسا على الحرب الخاسرة التي خاضها فرنسا بالفرنس ١٨
- زيادة المبيعات من حرب الاستقلال الأمريكية

(النتائج السياسية)

٢- الحرب العالمية الثانية
- تفتت بريطانيا وأوروبا
- انشاء الكومنولث من الهند والباكستان والبنغال والاندونيسيا
- قيام أنظمة شيوعية في دول أوروبا الشرقية - فقدت إيطاليا كل مستعمراتها
- فقدت اسبانيا كل مستعمراتها - برز قطبان العالم هما الولايات المتحدة والاتحاد السوفيتي

٣- معركة ساراتوجا

- جنرال الإنجليز هبت كاعمال
- اعتراف فرنسا باستقلال الأمريكيين وفضلت الحرب بجا بلجوي
- زاد تحالف المحور الأمريكي مع الثورة الأمريكية

ب- علل ما يلي :-

١- إلغاء البرلمان الإنجليزي جميع الضرائب سيئة السمعة ما عدا ضريبة الشاي .

- مما يسمهم من ضمن الضرائب قائما على الاستهلاك

٢- انقسام العالم سياسيا في اواخر القرن التاسع عشر وبداية القرن العشرين .

- بروز النزعة القومية
- تدهور المصالح الاقتصادية
- تصادم الإمبراطوريات
- سياسة التوسع السياسية

ج - أكتب ملحقين لعالمنا المعاصر :-

- السياسات الاقتصادية
- التصنيع دوله كبيره منتظم

- دول ناميه ومختلف اقتصاديا
- الولايات المتحدة والقوة العظمى

- تقدم علم وزيادة مكانته
- مخاوف من حرب نووية

انتهت الأسئلة ..،،،

(٧)

