

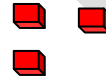
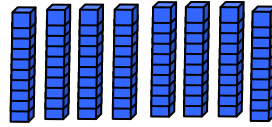
السؤال الأول : اكمل :

1

30 و 40 تكونان

السؤال الثاني : عد الوحدات والعشرات . وأكتب رمز العدد:

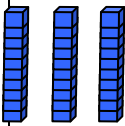
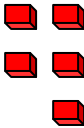
عشرات	احاد



2

2

السؤال الثالث : اكمل:

عشرات	وحدات
	

في العلبة الأولى 5 أقلام

في العلبة الثانية 30 قلما

قلما

عدد الأقلام في العلبتين وحدات و عشرات تكونان