


السؤال الأول: لون وأكمل النمط التالي :



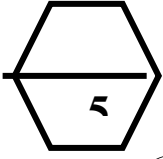
السؤال الثاني لون لتكون نمط :




الاسم /
الصف 1/

تقييم المهارة رقم (1) للفترة الدراسية الثانية للصف الأول
الابتدائي للفصل الدراسي الأول لمادة الرياضيات
للعام الدراسي 2011 - 2012 (ب)

وزارة التربية
التوجيه الفني للرياضيات



السؤال الأول: لون وأكمل النمط التالي :



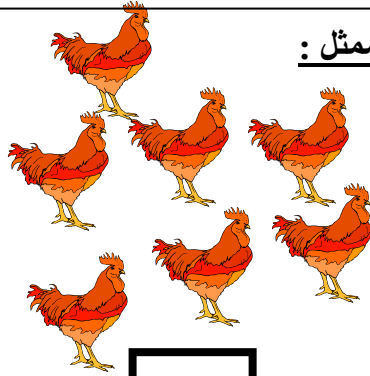
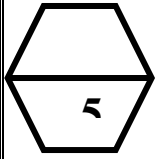
السؤال الثاني لون لتكون نمط :



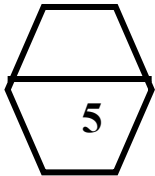

الاسم /
الصف 1

تقييم المهارة رقم (2) للفترة الدراسية الثانية للصف الأول
الابتدائي للفصل الدراسي الأول لمادة الرياضيات
للعام الدراسي 2011 - 2012 (أ)

وزارة التربية
التوجيه الفني للرياضيات



السؤال الأول : اكتب رمز العدد الممثل :

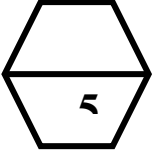


0000000 ، 5 ، 4

0000000 ، 3 ، 2

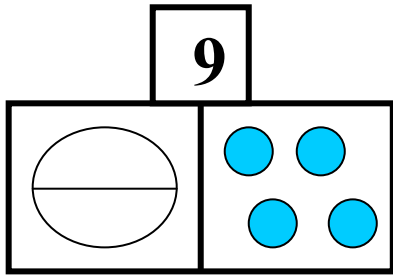
السؤال الثاني : أكمل ما يأتي :

السؤال الأول: لون المكعبات لتعرض أحد طرق تكوين العدد (6):

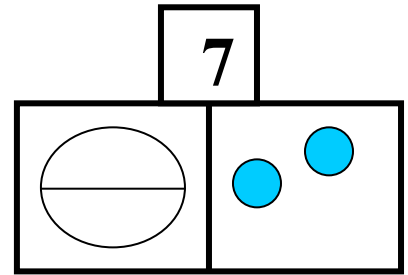


و تكونان

السؤال الثاني: أوجد الأجزاء الناقصة:

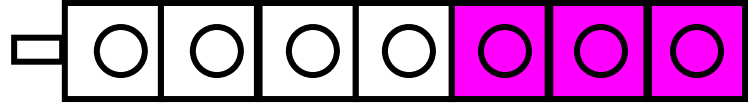
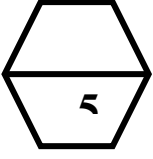


و تكونان



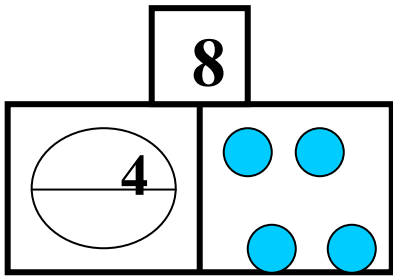
و تكونان

السؤال الأول: لون المكعبات لتعرض أحد طرق تكوين العدد (7):

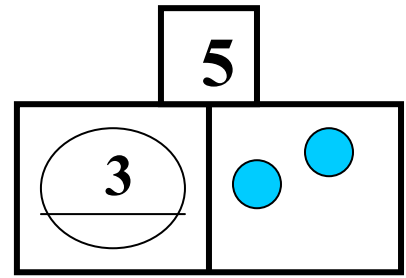


3 و 4 تكونان 7

السؤال الثاني: أوجد الأجزاء الناقصة:

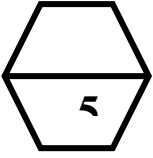


4 و 4 تكونان 8

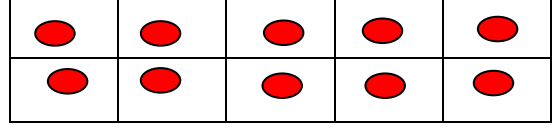


2 و 3 تكونان 5

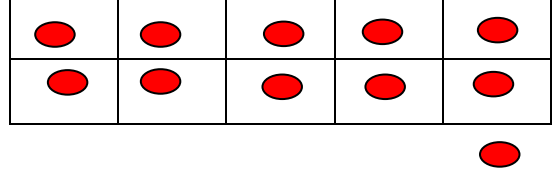
السؤال الأول: حوّل رمز العدد المناسب لكل ما يأتي :



12 11 10




12 11 10



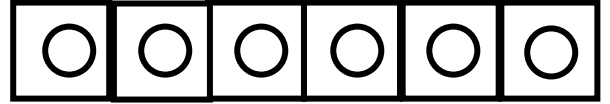
السؤال الثاني:

اكتب رمز العدد

اصنع قطارا




أقل ب 2




اكتب رمز العدد

اصنع قطارا



أكثر ب 1



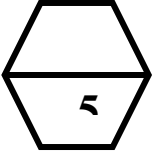
السؤال الثالث شكل أزواج حوّل كلمة فردي أو زوجي:

فردي

زوجي

استخدم 8 ○

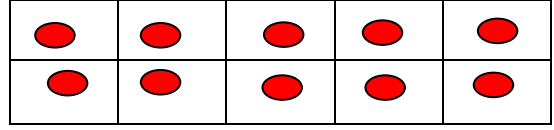
السؤال الأول: حوِّط رمز العدد المناسب:



12

11

10



12

11

10



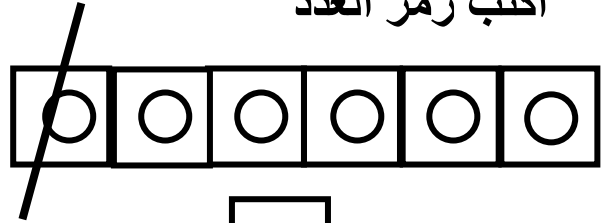
السؤال الثاني:

اصنع قطارا

اكتب رمز العدد

5

أقل ب 1



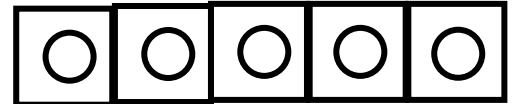
6

اصنع قطارا

اكتب رمز العدد

5

أكثر ب 2

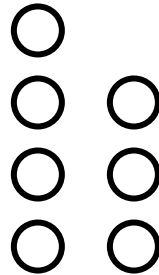


3

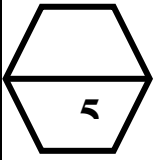
السؤال الثالث شكل أزواج حوِّط كلمة فردي أو زوجي:

فردي

زوجي







استخدم 7



تقييم المهارة رقم (3) للفترة الأولى للصف الأول
الابتدائي للفصل الدراسي الثاني لمادة الرياضيات
للعام الدراسي 2011 - 2012 الصف: 1/1


وزارة التربية
التوجيه الفني للرياضيات

السؤال الأول: حوط المجموعة الأكثر : ب- السؤال الأول: حوط المجموعة الأقل



السؤال الثاني:


انظر إلى التمثيل البياني الآتي ثم أجب عن
الأسئلة التالية:



؟




1- ما عدد الذين حبوا



؟



2- ما عدد الذين حبوا



؟



أو



من أكثر الذين أحبوا