

اختبار رياضيات للصف الاول الابتدائي الفترة الرابعة للفصل الدراسي الثاني

منطقه مبارك الكبير التعليمية
مدرسة عائسة محمد الشريف 01 بنات

السؤال الاول

صلي مما يلي:-



السؤال الثاني

حوطي الاجابة الصحيحة:-

أقل من اللتر















تقريبا اللتر

أكثر من
اللتر

السؤال

الثالث

			 طول هذه الزهرة
			 وزن هذه الفاكهة
			 سعة هذه الماء



المركز الإقليمي لتطوير البرمجيات التعليمية



وزارة التربية
التوجيه الفني العام للرياضيات

حواشي لاداء القياس المناسبة:-