

أوجد ناتج :

$$\begin{array}{r} 8 \\ 2 \\ \hline 5 + \\ \square \end{array}$$

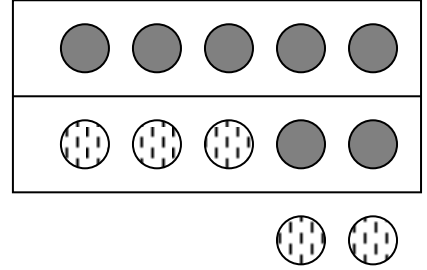
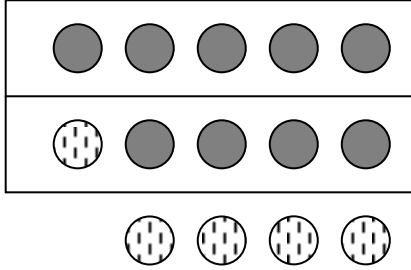
$$\begin{array}{r} 7 \\ 1 \\ \hline 3 + \\ \square \end{array}$$

$$\begin{array}{r} 2 \\ 4 \\ \hline 4 + \\ \square \end{array}$$

$$\begin{array}{r} 9 \\ 4 \\ \hline 1 + \\ \square \end{array}$$

$$\begin{array}{r} 5 \\ 5 \\ \hline 3 + \\ \square \end{array}$$

اكتبى عبارة الجمع



2

\_\_\_\_\_ = \_\_\_\_\_ + \_\_\_\_\_

\_\_\_\_\_ = \_\_\_\_\_ + \_\_\_\_\_

اجمعى :

= 4 + 9

= 5 + 6

= 5 + 7

= 3 + 8

2

اشترت منال 7 أقلام واشترت عائشة 5 أقلام أخرى , كم عدد الأقلام التي اشترتها كلا من منال وعائشة ؟

عدد الأقلام \_\_\_\_\_ قلم

1

5

اعداد المعلمة : تهاني احمد  
رئيسة القسم : نوير العنزي

أكملي ما يأتي :

$$\square = 9 - 13$$

$$\square = 4 + 9$$

$$\square = 4 - 13$$

1.5

اطرح . اكتب مسائل الجمع المساعدة

$$\begin{array}{r} 8 \\ \square + \\ \hline 15 \end{array} \quad \begin{array}{r} 15 \\ 8 - \\ \hline \square \end{array}$$

1

اطرح .

$$\begin{array}{r} 14 \\ 6 - \\ \hline \square \end{array} \quad \begin{array}{r} 11 \\ 8 - \\ \hline \square \end{array} \quad \begin{array}{r} 16 \\ 9 - \\ \hline \square \end{array}$$

1.5

حوظ : اجمع أو اطرح

عند فهد 12 كرة صغيرة أهدى زميله سعد 7 كرات , كم كرة بقيت عند فهد ؟

اجمع      اطرح

$$\square = 7 \quad \bigcirc \quad 12 \text{ كرات}$$

1

اعداد المعلمة : تهاني احمد  
رئيسة القسم : نوير العنزى

الإدارة العامة لمنطقة العاصمة التعليمية  
مدرسة أمانة الابتدائية بنات

تقييم المهارة الرابعة للفترة الدراسية الرابعة  
لمادة الرياضيات الصف الأول الابتدائي

الاسم .....  
الصف .....

### اختاري الإجابة الصحيحة :

(1) من الوحدات المقننة



الشريط المتري

المسطرة

(2) يقاس محيط كرة اليد بواسطة



أقصر من 10



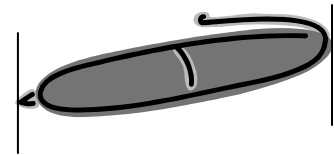

اطول من 10



(3) طول

3

قس باستخدام المسطرة



2

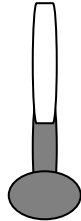
سنتيمتر

سنتيمتر

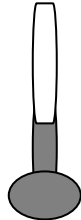
اعداد المعلمة : تهاني احمد  
رئيسة القسم : نوير العنزي

**س1 : حوِّط الاداة المناسبة التي تساعدك في معرفة :**

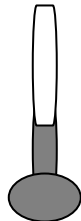
سعة الوعاء من الماء



وزن هذه افاكهة



قياس درجة الحرارة



**س2 اختار الإجابة الصحيحة**

سعة



قل من 1 لتر

تقريبا 1 لتر

اكتر من 1 لتر

وزن



اقل من 1 كيلوجرام

تقريبا من 1 كيلوجرام

اكتر من 1 كيلوجرام

اعداد المعلمة : تهاني احمد  
رئيسة القسم : نوير العنزي