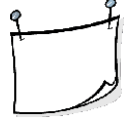


١٠	٩	٨	٧	٦	٥	٤	٣	٢	١
٢٠	١٩	١٨	١٧	١٦	١٥	١٤	١٣	١٢	١١
٣٠	٢٩	٢٨	٢٧	٢٦	٢٥	٢٤	٢٣	٢٢	٢١
٤٠	٣٩	٣٨	٣٧	٣٦	٣٥	٣٤	٣٣	٣٢	٣١
٥٠	٤٩	٤٨	٤٧	٤٦	٤٥	٤٤	٤٣	٤٢	٤١
٦٠	٥٩	٥٨	٥٧	٥٦	٥٥	٥٤	٥٣	٥٢	٥١
٧٠	٦٩	٦٨	٦٧	٦٦	٦٥	٦٤	٦٣	٦٢	٦١
٨٠	٧٩	٧٨	٧٧	٧٦	٧٥	٧٤	٧٣	٧٢	٧١
٩٠	٨٩	٨٨	٨٧	٨٦	٨٥	٨٤	٨٣	٨٢	٨١
١٠٠	٩٩	٩٨	٩٧	٩٦	٩٥	٩٤	٩٣	٩٢	٩١

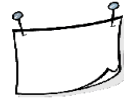
(١) باستخدام لوحة المئة أوجد الناتج يا بطل :

٣٥

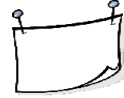
١٠ +



(٢) باستخدام الحساب الذهني ضع علامة  $\checkmark$  أو علامة  $\times$



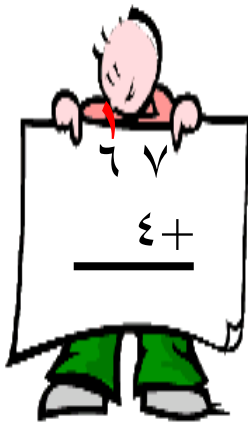


$$٥٤ = ٣٠ + ٢٤$$



$$٦٠ = ١٠ + ٥٧$$

(٣) أوجد الناتج :-



## أوجد الناتج يا بطل :

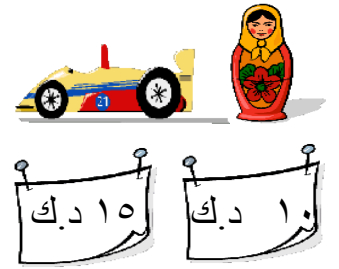
$$\begin{array}{r} 34 \\ 10 \\ 20 + \\ \hline \end{array}$$

$$\begin{array}{r} 42 \\ 15 \\ 8 + \\ \hline \end{array}$$

$$\begin{array}{r} 16 \\ 10 \\ 13 + \\ \hline \end{array}$$

## خمن ولاحظ ثم ضع دائرة حول الإجابة الصحيحة :

مع لؤي ٣٧ ديناراً أي من مجموعات الألعاب الآتية بإمكانها أن تشتري ؟





## أقرأ المسألة ثم أجب يا شاطر:

في يوم الأم ذهب جاسم إلي السوق لشراء هدية لوالدته فأشتري لها ب ١٧ ديناراً

و ب ١٦ ديناراً . احسب كم دفع جاسم لشراء هذه الأشياء؟

ما دفعه جاسم

## (١) أوجد الناتج يابطل :




## (٢) أظرح ثم اكتب عبارة الجمع للتحقق :



$$\begin{array}{|c} \square \\ \square \\ \square \end{array} + \quad \left| \quad \begin{array}{r} 24 \\ 10 - \\ \hline \square \end{array}$$

## (٣) ضع علامة ✓ أمام العبارة الصحيحة وعلامة × أمام العبارة الخاطئة:

$$8 = 25 - 37$$

$$4 = 17 - 21$$

يحتاج  إلى ٥٠ كيلوجرام من الطعام في اليوم ويحتاج

إلى  ٣٠ كيلوجرام من الطعام ويحتاج  إلى ٣٩ كيلوجرام


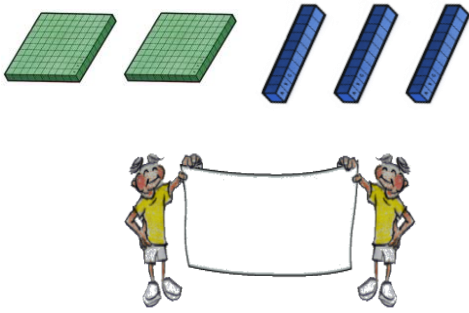
من الطعام بكم كيلو جرام تزيد حاجة  عن حاجة  ؟

**١) ضع علامة ✓ الإجابة الصحيحة وعلامة ✗ أمام العبارة الخاطئة :**

( )  $100 = 30 + 60$

( )  $10$  عشرات =  $100$

**٢) اكتب رمز العدد**





**٣) قارن الأعداد , اكتب < , > , =**

١٣٨ ○ ١٣١

٤٣٢ ○ ٥٥٦

**٤) اكتب الأعداد بالترتيب من الأصغر إلى الأكبر**



أراد محمد وعلي شراء  ثمنها 60 دينار جمع محمد 13 دينار وجمع علي 24 دينار  
كم دينار يحتاج محمد وعلي لشراء  ؟

---



---