



المركز الإقليمي
لتطوير البرمجيات التعليمية



وزارة التربية
التوجيه الفني العام للرياضيات

النموذج الأول

الفترة الدراسية الرابعة

الصف الثاني ابتدائي

السؤال الأول :- اوجد الناتج باستخدام الحساب الذهني .

(أ)	(ب)
200	80
500 +	60 +
<hr/>	<hr/>

السؤال الثاني :- اوجد الناتج .

(أ)	(ب)
539	351
122 +	126 +
<hr/>	<hr/>

السؤال الثالث :-

تحتاج مريم إلى 400 خرزة ملونة لصنع مجموعة من العقود
حوطي الأكياس التي تحتاج إليها .

100

250

150

السؤال الأول :- لكل سؤال فيما يلي ثلاث اختيارات واحد منها صحيح ظلل دائرة الإجابة الصحيحة

(أ) أي الأشياء طولها تقريباً 1 متر :-



3



2



1

(ب) وزن  :-

3 أثقل من 1 كجم

2 1 كجم تقريباً

1 اخف من 1 كجم

(ج) أي من هذه الأشكال تسع أكثر من لتر واحد :-



3

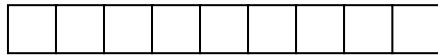


2



1

(ب) أوجد المساحة من خلال الوحدات المربعة .



المساحة = وحدة مربعة

السؤال الثاني :- (أ) أكمل

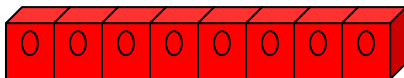
2 سم



2 سم

المحيط = سنتمتر

(ب)



طول الزهرة تقريبا مكعبات تركيبية

السؤال الثالث :-

(أ) لون الترمومتر ليبدل على
درجة الحرارة 40°



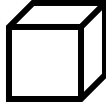
س1: صل كل مجسم بما يناسبه :



مكعب

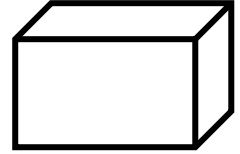




هرم



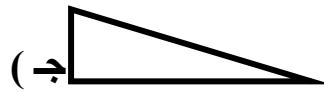
اسطوانة

س2: حوط الشكل الذي نحصل عليه من إحاطة الوجه الذي يرتكز إليه المجسم



س3 : اختار الإجابة الصحيحة :

(1) أي الأشكال يمكن أن يكون لها خط تماثل :



(أ)

(ب)

(ج)

(2) عدد الزوايا للشكل الموضح هي :

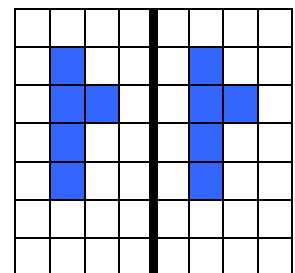
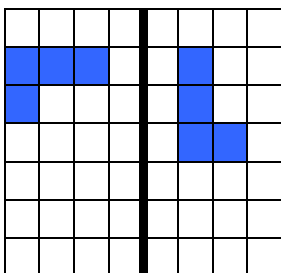


(أ) 2

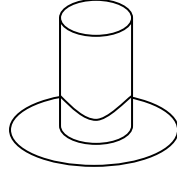
(ب) 3

(ج) 4

س4 : اكتب إزاحة أو انعكاس أو دوران وذلك بما يناسب الصورة :



س1: لكل سؤال فيما يلي ثلاث اختيارات واحدة فقط منها صحيح ظلل دائرة الإجابة الصحيحة .
(1) حوط التقدير الأقرب للجزء الباقي :



$$\frac{1}{2}$$

(ج) تقريباً

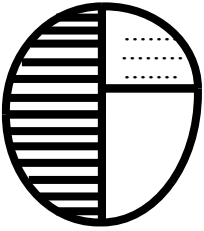
$$\frac{3}{4}$$

(ب) تقريباً

$$\frac{1}{4}$$

(أ) تقريباً

(2) توقع : إذا دورت الدوارة ، فإن المؤشر يقف أكثر عند :

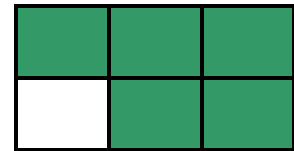
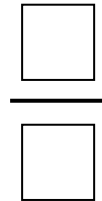

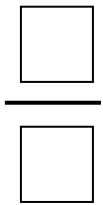


(ج) المنطقة المخططة

(ب) المنطقة المنقطه

(أ) المنطقة البيضاء

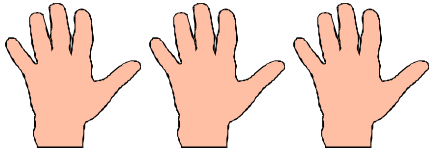
س 2 : اكتب رمز الكسر الذي يمثل الأجزاء المظللة :



س 3 : لون الاجزاء لتدل على الكسر

$$\frac{2}{5}$$

--	--	--	--	--



كم عدد كل الأصابع ؟
3 مجموعات في كل منها 5 أصابع

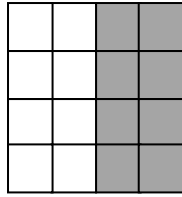
$$\underline{\quad} = \underline{\quad} + \underline{\quad} + \underline{\quad}$$

$$\underline{\quad} = \underline{\quad} \times \underline{\quad}$$

ظلل 4 صفوف في كل منها 2 مربعات , ثم اكمل :

صفوف $\underline{\quad}$

في كل صف $\underline{\quad}$



$$\underline{\quad} = 2 \times 4$$

تقاسمت 3 تلميذات 6 بالونات بالتساوي.
كم بالونة نصيب كل منهن ؟

$$\underline{\quad} = \underline{\quad} \div \underline{\quad}$$

