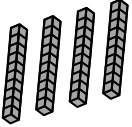
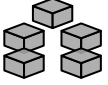
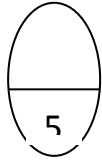


عشرات	وحدات
	

السؤال الأول :- (أ) اكتب رمز العدد :-

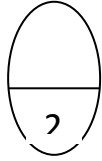
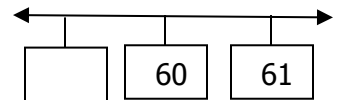
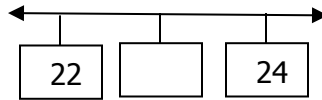
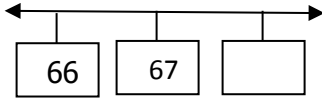
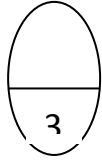
1) خمسة وسبعون _____

2) 0 وحدات و 5 عشرات _____



3) _____ وحدات و _____ عشرات

ب) اكمل العدد الناقص :-



السؤال الثاني :- اختاري الإجابة الصحيحة :-

1- العشرة الاقرب الى 67 هي _____

أ) 70 ب) 60 ج) 50 د) 40

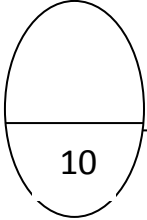
2- _____ و _____ تكونان 100

أ) 50 و 60 ب) 70 و 80 ج) 70 و 30 د) 20 و 50

الاسم :-
الصف :- 12

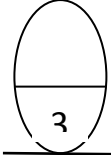
الاختبار (3) للصف الثاني الابتدائي
للفترة الدراسية الثانية
في الفصل الدراسي الأول لعام (2015-2016م)

وزارة التربية
منطقة مبارك الكبير التعليمية
مدرسة العدان .أ.ب.
قسم الرياضيات.

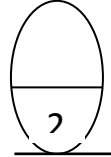


السؤال الأول :- (أ) رتبى من العدد الاصغر الى العدد الاكبر :-

_____ ، _____ ، _____ 46 32 56




(ب) اكتبى زوجى ام فردى :-



_____ 52 _____ 49

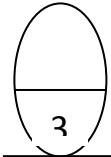
(ج) اكتبى الوقت :-

_____ : _____




الساعة _____ و _____

_____ : _____



السؤال الثاني :- اختاري الإجابة الصحيحة :-

الرسم الثالث من جهة اليمين هو _____



-1



د




ج




ب



أ



ساعات _____



2- المدة التي مضت إذا كان

8

د

12

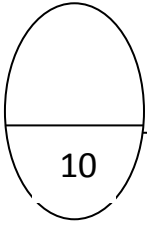
ج

4

ب

5

أ



الاسم :-
الصف :- ١2

الاختبار (1) للصف الثاني الابتدائي
للفترة الدراسية الثانية
في الفصل الدراسي الأول لعام (2015-2016م)

وزارة التربية
منطقة مبارك الكبير التعليمية
مدرسة العدان .أ.ب.
قسم الرياضيات.


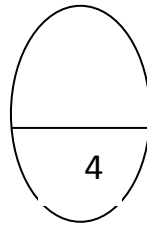
السؤال الاول :- أ) حوطي العدان اللذان تجمعهما اولا ثم اجمع :-

3

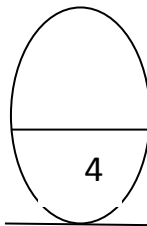
$$\boxed{} = 2 + 4 + 2$$

4

7 +



ب) اوجدى القاعدة ثم اكمل الجدول :-



11	9
	4
	7

السؤال الثاني :- اختارى الاجابة الصحيحة :-

1- العدد الناقص في $5 - 12 = \underline{\hspace{1cm}}$ ، $12 = \underline{\hspace{1cm}} + 5$ هو

- أ) 12 ب) 5 ج) 7 د) صفر

2- عبارة الجمع لملاحظة صحة الطرح للعبارة $14 - 6 = 8$ هي

- أ) $6 = 8 + 14$ ب) $13 = 7 + 6$ ج) $2 = 6 - 8$ د) $14 = 6 + 8$