

الاسم :
الصف :

امتحان الرياضيات الوحدة السادسة للصف الثاني الابتدائي

الفصل الدراسي الأول

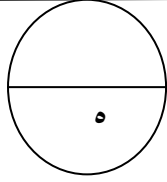
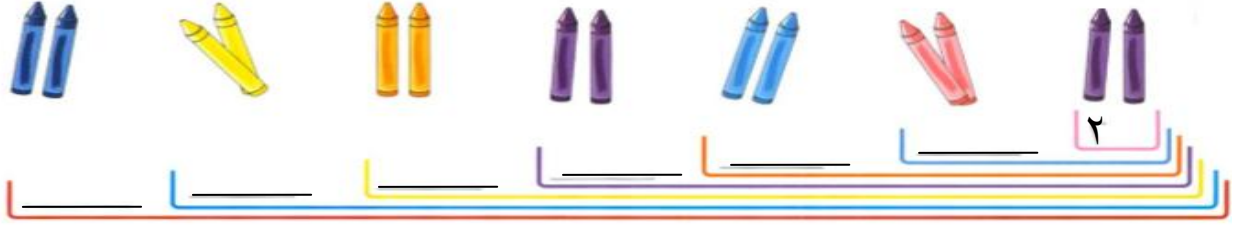
٢٠٢٠ - ٢٠١٩

وزارة التربية

الإدارة العامة لمنطقة حولي التعليمية

التوجيه الفني للرياضيات

السؤال الأول: (أ) عد تجاوزيا بالاثنيات . أكمل رمز العدد ناقص



(ب) أكمل النمط :

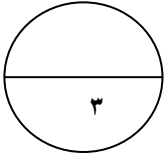
..... ، ٥٠ ، ٤٠ ، ، ٢٠ ، ١٠

السؤال الثاني : أكمل مايلي



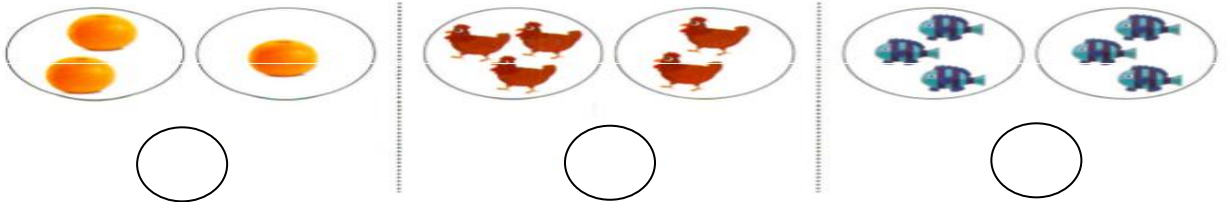
$$\underline{\quad} = \underline{\quad} + \underline{\quad} + \underline{\quad}$$

عَدَدُ الْكُلِّ

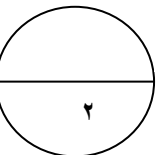


السؤال الثالث : اختر الإجابة الصحيحة بوضع (✓)

(أ) الجمع المتكرر لـ ٣ + ٣ يكون لـ



(ب) عدد كل الأكواب هو :



٤ + ٤ + ٤



٣ + ٣ + ٣



٢ + ٢ + ٢

