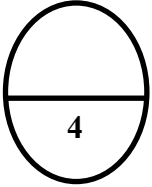


## السؤال الأول :

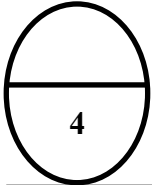

(أ) اوجد ناتج الطرح

عشرات	احاد
<input type="text"/>	<input type="text"/>
6	5
4	8



(ب) اكتب عدد الوحدات والعشرات والمئات ، ثم اكتب رمز العدد .

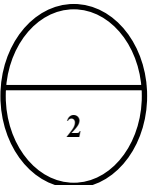
مئات	عشرات	احاد
<input type="text"/>	<input type="text"/>	<input type="text"/>



السؤال الثاني : اكمل بوضع > او < او =

891 ○ 677 (1)

570 ○ 570 (2)



رئيسة القسم: أ: فاطمة الشطي

اعداد: أ: إيمان محمود

مديرة المدرسة: أ: فاطمة بدران