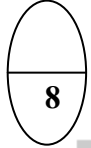
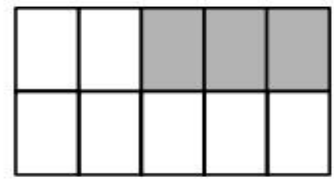
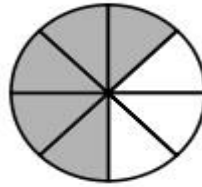
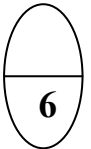
	<p>الإسم : .....</p> <p>الفصل : 3 / ....</p> <p>الدرجة النهائية :</p>	<p>الإختبار الثاني لمادة الرياضيات</p> <p>الفترة الدراسية الرابعة</p> <p>العام الدراسي : 2015 / 2016م</p> <p>الصف : الثالث</p>	<p>وزارة التربية</p> <p>منطقة مبارك الكبير التعليمية</p> <p>مدرسة : خالد المسعود أ / بنين</p>
--	---	--	---


**السؤال الأول :**

( أ ) أكتب رمز الكسر الذي يمثل الأجزاء المظللة أو المحوطة في كل مما يلي :-





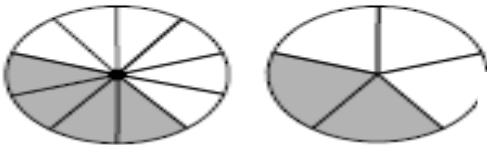




**(ب) أكمل ما يلي :**

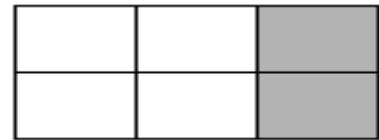
(2)

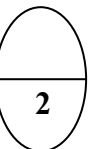
$$\frac{\boxed{\phantom{000}}}{10} = \frac{2}{5}$$



(1)

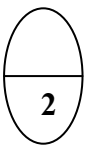
$$\frac{\boxed{\phantom{000}}}{6} = \frac{1}{3}$$



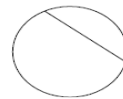


**السؤال الثاني:** في البنود من (1) إلى (2) عبارات ظلل الدائرة ( أ ) إذا كانت العبارة صحيحة

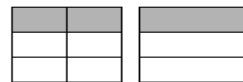
( ب ) إذا كانت العبارة خاطئة







(1) هذه الأجزاء متطابقة



(2) الأجزاء المظللة متطابقة



رئيسة القسم

أ/فاطمة الشطي

إعداد المعلمة

إيمان محمد خليل

أ/ نورة العتيبي