

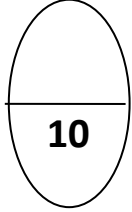
الصف:.....

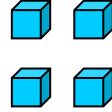
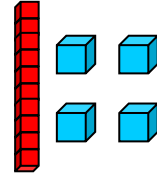
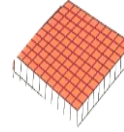
الاسم:.....

ورقة عمل ( 1 ) الفترة الدراسية الأولى

مادة الرياضيات

مدرسة عائشة محمد الشريف . بنات


السؤال الأول : اكتبى رمز العدد :



= 7000 + 400 + 50 + 6




سبعة وخمسون الفا وتسعمئة وثمانون

السؤال الثانى: اكتبى القيمة المكانية للرقم الذي تحته خط :294676742


السؤال الثالث اكمل مما بين القوسين:

10 عشرات تساوي .... 10 ,

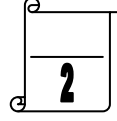
10 ( 1000 , 100 ) مئات تساوي ..... ( 10 )

( 1000 , 100 ,



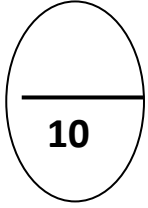
**السؤال الأول :-**

**\*\* قربي لأقرب عشرة :-**




47

**\*\* قربي لأقرب مئة :-**




149

**السؤال الثاني : اكمل الجمل الرياضية الآتية :-**




$$..... = 80 + 30$$

$$19 = ..... + 11$$

**السؤال الثالث :-**

**\*\* اكتب الوقت بطريقتين مختلفتين :-**



الساعة ..... و ..... دقيقة

..... : .....



**السؤال الرابع : اكمل مما بين القوسين :-**

$$( 700 , 70 , 7 ) \quad ..... = 400 + 300$$

$$( 7 , 6 , 5 ) \quad 14 = 8 + .....$$

