

اختبار (3) الفترة الدراسية الثالثة

الاسم :

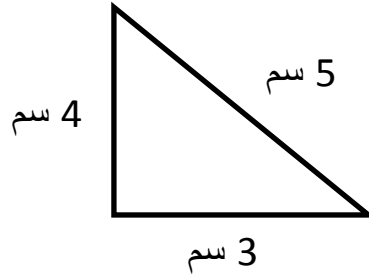
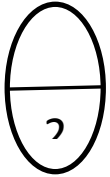
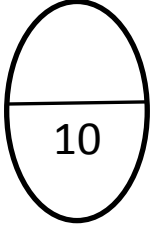
العام الدراسي : 2015 / 2016

منطقة مبارك الكبير التعليمية

المادة : رياضيات

مدرسة عائشة محمد الشريف

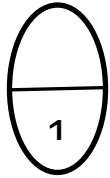
**السؤال الأول :**



أوجد المحيط .:

المحيط = ..... + ..... + .....

= ..... سم



أوجد مساحة المنطقة التي أمامك :

المساحة = ..... وحدات مربعة

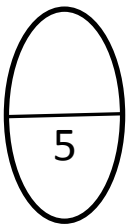
**السؤال الثاني :**

أكمل العبارات التالية .:

3 × 5 عشرات = ..... عشرات

3 × 50 = .....

أختر الإجابة الصحيحة :



..... = 9 × 2

..... = 90 × 2

..... = 900 × 2

1 ( ناتج ضرب 7 × 20 هو ..... )

ج ( 14 )

ب ( 1400 )

أ ( 140 )

2 ( 3 × 300 = ..... )

ج ( 9 )

ب ( 900 )

أ ( 90 )

**اعداد المعلمة: نعمات محمد**