
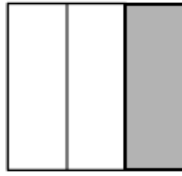


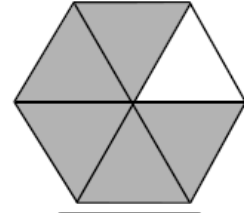
الإسم : الفصل : 3 /	ورقة عمل (2) لمادة الرياضيات الفترة الدراسية الرابعة العام الدراسي : 2015 / 2016م الصف : الثالث	وزارة التربية منطقة مبارك الكبير التعليمية مدرسة : خالد المسعود أ / بنين
------------------------------------	--	--

السؤال الأول :

(أ) أكتب رمز الكسر الذي يمثل الأجزاء المظللة أو المحوطة في كل مما يلي :-








(ب) أكمل ما يلي :

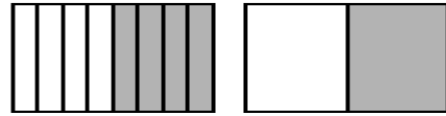
(2)

$$\frac{\boxed{}}{8} = \frac{2}{4}$$



(1)

$$\frac{\boxed{}}{8} = \frac{1}{2}$$

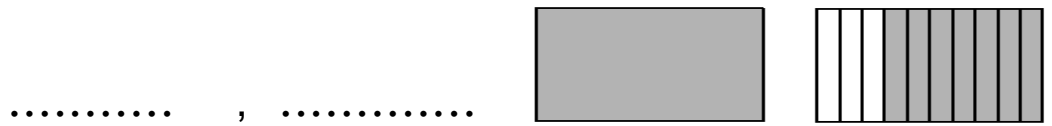


السؤال الثاني : أكمل :

(1) عدد الأجزاء المتطابقة في الشكل تساوي

(2) اكتب على صورة كسر عشري ثمانية أعشار

(3) اكتب العدد العشري و العدد الكسري لتسمية الجزء المظلل



(4) استخدم شبكات الاعشار لتمثل العدد العشري 1,7

مديرة المدرسة

أ / نورة العتيبي

رئيسة القسم

أ/فاطمة الشطي

إعداد المعلمة

إيمان محمد خليل