

قسم الاجتماعيات  
العام الدراسي ٢٠١٥ / ٢٠١٦ م  
الفترة الثانية - الصف الخامس

## بنك الأسئلة

وزارة التربية  
منطقة مبارك الكبير التعليمية  
مدرسة الامام الشافعي الابتدائية بنين

### س : أكمل الجمل التالية بما يناسبها:

١. تبلغ مساحة دولة الكويت ..... كم ٢
٢. تقع دولة الكويت جنوب غرب قرة تسمى .....
٣. تمتد دولة الكويت بين دائرتي عرض ..... شمالاً
٤. يجاور دولة الكويت من جهة الشرق مسطح مائي يسمى .....
٥. يتوسط ساحل دولة الكويت خليج صغير يعرف باسم .....
٦. الأمطار الرعدية التي تسقط في مارس وابريل ومايو تعرف باسم .....
٧. تقع دولة الكويت ضمن إقليم مناخي يسمى .....
٨. لقب "سفينة الصحراء" يطلق على حيوان يسمى .....
٩. افتتحت المدرسة الأحمدية في عام .....
١٠. تولى الشيخ صباح السالم حكم دولة الكويت عام .....

### س : اختر الإجابة الصحيحة من بين البدائل التالية بوضع خط تحتها:

- ١- يجاور دولة الكويت من جهة الشمال والشمال الغربي دولة تسمى : .....
- أ. (السعودية)      ب. (العراق)      ج. (البحرين)      د. (قطر)
- ٢- تقع دولة الكويت بالنسبة للخليج العربي في جهة : .....
- أ. (الشمال الشرقي)      ب. (الشمال الغربي)      ج. (الجنوب الشرقي)      د. (الجنوب الغربي)

٣- أكبر الجزر الكويتية جزيرة تسمى : .....

أ.(فيلكا) ب.(وربة) ج.(أم النمل) د.(بويان)

٤- يبدأ سقوط المطر في دولة الكويت في شهر : .....

أ.(أغسطس) ب.(سبتمبر) ج.(أكتوبر) د.(نوفمبر)

٥- تقع دولة الكويت في المنطقة المناخية : .....

أ.(الحارة) ب.(الباردة) ج.(المعتدلة الشمالية) د.(المعتدلة الجنوبية)

٦- عقدت اتفاقية التنقيب عن النفط عام : .....

أ.(١٩٣٢م) ب.(١٩٣٣م) ج.(١٩٣٤م) د.(١٩٣٥م)

٧- حاكم دولة الكويت الذي يحمل لقب " أبو الدستور " هو الشيخ : .....

أ.(أحمد الجابر) ب.(عبدالله السالم) ج.(صباح السالم) د.(جابر الأحمد)

٨- حصلت دولة الكويت على استقلالها عام : .....

أ.(١٩٦١م) ب.(١٩٦٣م) ج.(١٩٦٥م) د.(١٩٦٧م)

**س : ضع علامة ( ✓ ) أمام العبارة الصحيحة وعلامة ( ✗ ) أمام العبارة الخاطئة:**

١. الكويت دولة كبيرة المساحة . ( )
٢. تمتد دولة الكويت بين خطي طول ٤٦ – ٤٨ غرباً . ( )
٣. تتحدر أراضي دولة الكويت من الغرب الى الشرق ( )
٤. تأسس أول مجلس للشورى في دولة الكويت في عهد الشيخ أحمد الجابر . ( )
٥. انضمت الكويت لجامعة الدول العربية عام ١٩٦٣م. ( )
٦. يطلق لقب " أبو الجميع " على الشيخ أحمد الجابر. ( )

س : علل لما يلي ( اذكر السبب ) :

١ . أهمية موقع الكويت بالنسبة للوطن العربي.

\*

٢ . تميز سكان شبه الجزيرة العربية بعلوم الفلك .

\*

٣ . احتفال دولة الكويت بعيدها الوطني في ٢٥ فبراير من كل عام .

\*

٤ . ظهور الفقع في بعض المواسم دون الأخرى .

\*

٥ . أهمية موقع دولة الكويت .

\*

٦ . تسمية رياح " السموم " بهذا الاسم .

\*

٧ . اختلاف وتنوع النبات الطبيعي .

\*

٨ . تسمية فترة موسم المرزم ب " جمره القيث " .

\*

**س : أكتب نقطتين فيما يلي :**

١- العوامل المؤثرة في المناخ .

أ- .....  
ب- .....

٢- انجازات الشيخ عبدالله السالم " الداخلية " .

أ- .....  
ب- .....

٣- دور الدولة في الحفاظ على النبات الطبيعي والحيوان .

أ- .....  
ب- .....

٤- الظروف المناخية المؤثرة في شكل الغطاء النباتي في دولة الكويت .

أ- .....  
ب- .....

**س : عرف المفاهيم التالية :**

١. الاستقلال : .....

٢. الرعي الجائر : .....

٣. التصحر : .....

٤. امتياز التنقيب : .....

٥. الكثبان الرملية : .....

٦. السبخات : .....

٧. الدستور : .....

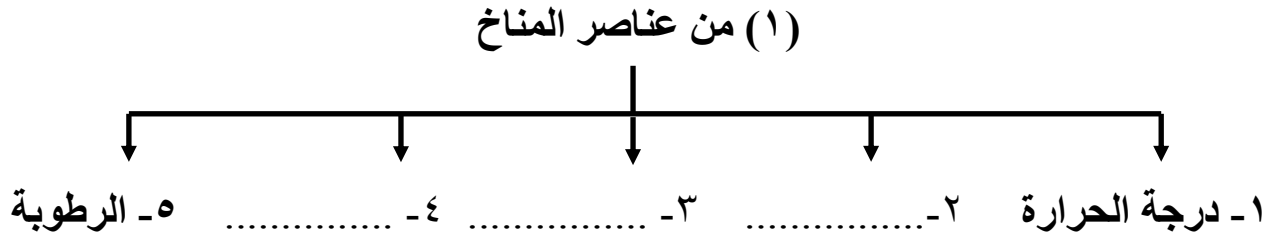
س : فرق بين كل من :

المناخ	الطقس
<hr/> <hr/>	<hr/> <hr/>

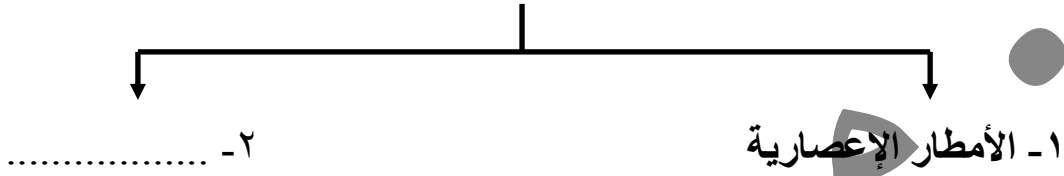
س : قارن بين كل من ( النباتات الحولية - النباتات المعمرة ) حسب الجدول التالي :

النباتات المعمرة	النباتات الحولية	وجه المقارنة
<hr/> <hr/>	<hr/> <hr/>	التعريف
<hr/> <hr/>	<hr/> <hr/>	أمثلة

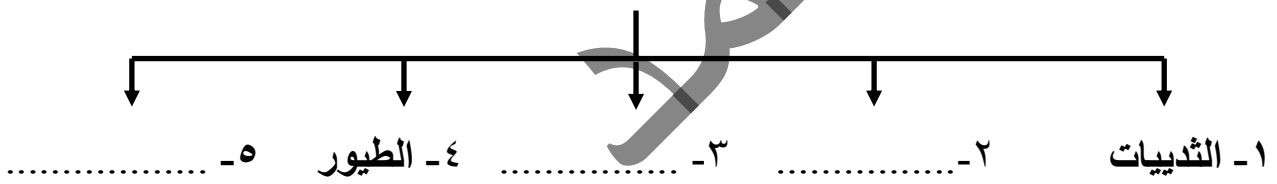
س : أكمل المخططات السهمية التالية :



(٢) أنواع الأمطار التي تسقط على دولة الكويت



(٣) أنواع الحياة الحيوانية في دولة الكويت



س : رتب الأحداث التالية من الأقدم الى الأحدث :

(أ) - وضع الدستور الكويتي - افتتاح أول مجلس أمة - استقلال دولة الكويت

١- .....-١  
٢- .....-٢  
٣- .....-٣

(ب) الانضمام للأمم المتحدة - اتفاقية التنقيب عن النفط - إنشاء مؤسسة الكويت للتقدم العلمي

١- .....-١  
٢- .....-٢  
٣- .....-٣

س : صنف الانجازات التالية للشيخ عبد الله السالم حسب الجدول التالي:

\* رفع العلم الكويتي الجديد \* إلغاء معاهدة الحماية البريطانية \* إصدار الدينار الكويتي  
\* الانضمام لجامعة الدول العربية \* الانضمام للأمم المتحدة \* وضع الدستور الكويتي

انجازات خارجية	انجازات داخلية
١ - .....	١ - .....
٢ - .....	٢ - .....
٣ - .....	٣ - .....

س : اختر من المجموعة ( أ ) ما يناسبها من المجموعة ( ب ) بكتابة الرقم المناسب :

( ١ )

م	المجموعة ( أ )	الرقم المناسب	المجموعة ( ب )
١	الجوزاء ١	.....	الجو السائد
٢	الوسم	.....	استمرار الحرارة وبداية الرطوبة
٣	الثريا	.....	رياح السموم شديدة الحرارة
٤	المرزم	.....	انخفاض الحرارة لمدة ٤٠ يوماً
		.....	بداية الأمطار وظهور الفقع والخضرة

( ٢ )

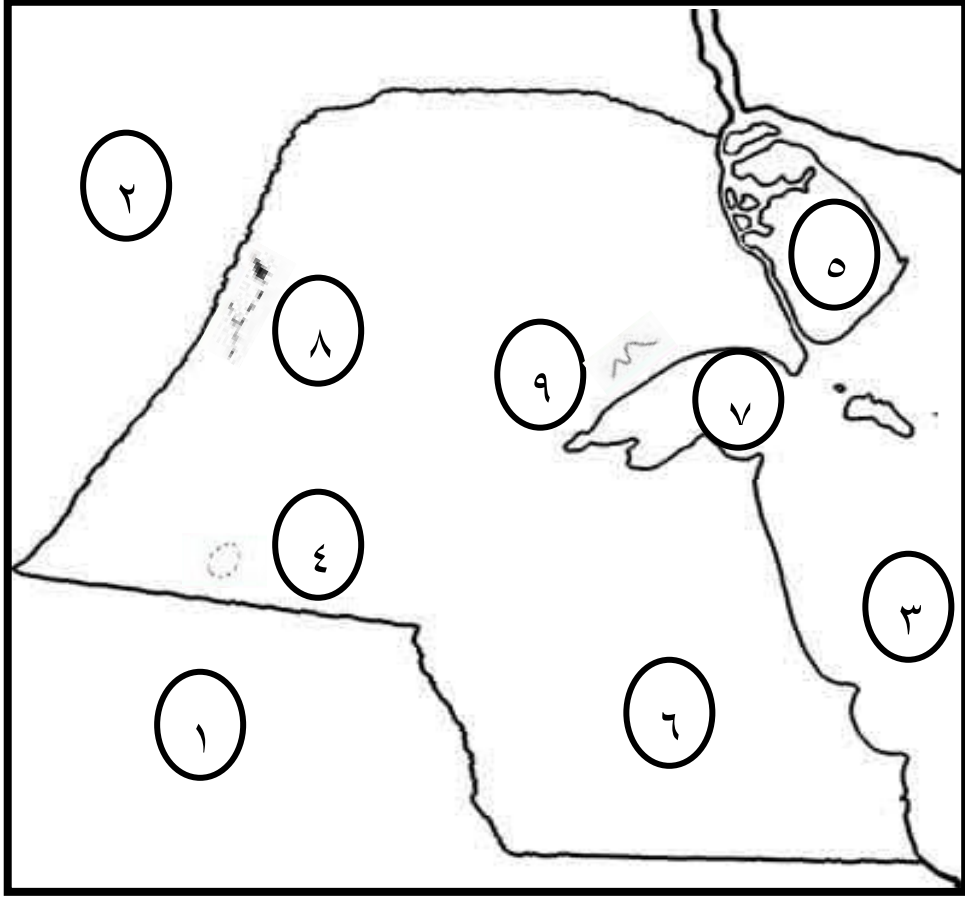
المجموعة ( ب ) الحدث	الرقم المناسب	المجموعة ( أ ) العام	م
انضمام الكويت لهيئة الأمم المتحدة	.....	١٩٣٦م	١
إنشاء مؤسسة الكويت للتقدم العلمي	.....	١٩٦١م	٢
افتتاح جامعة الكويت	.....	١٩٦٣م	٣
اكتشاف النفط في حقل بحرة	.....	١٩٦٧م	٤
استقلال دولة الكويت	.....		

س : أكمل الجدول التالي :

الشيخ صباح السالم	.....	الشيخ أحمد الجابر	حاكم الكويت
.....	استقلال دولة الكويت	.....	أهم الانجازات



س : لاحظ خريطة الكويت "الصماء" جيدا ، ثم أجب عما يليها من الاسئلة:



- الخليج العربي يحمل على الخريطة رقم.....
- وادي الباطن يحمل على الخريطة رقم.....
- جزيرة بوبيان تحمل على الخريطة رقم .....
- جون الكويت يحمل على الخريطة رقم.....
- تلال جال الزور تحمل على الخريطة رقم .....
- سهل الدبدبة يحمل على الخريطة رقم.....
- المملكة العربية السعودية تحمل على الخريطة رقم .....