

امتحان نهاية الفترة الدراسية الثانية  
 لمقرر بلادي الكويت  
 للصف الخامس ابتدائي  
 العام الدراسي: ٢٠١٦-٢٠١٧ م

\*\*\*\*\*

السؤال الأول: موضوعي يتكون من (أ - ب - ج)

كل نقطة  
 درجة واحدة

(أ) ضع خطاً تحت الخيار الصحيح من بين الخيارات التي تلي كل عبارة:-

١- احتلت القوات العراقية دولة الكويت يوم الخميس الثاني من أغسطس للعام: ص ٥٨

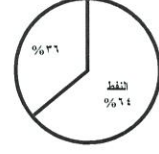
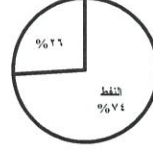
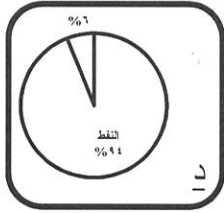
د. ١٩٩٣ م

ج. ١٩٩٢ م

ب. ١٩٩١ م

أ. ١٩٩٠ م

٢- الدائرة البيانية التي تمثل نسبة النفط ومنتجاته البترولية من مجموع قيمة الصادرات الكويتية: ص ٨٠



٣- منطقة زراعية حديثة في دولة الكويت: ص ٨٤

د - حطين

ج- الفنتاس

ب - الصليبية

أ- هدية

٤- شعار الخاص بالشركة الكويتية لتزويد الطائرات بالوقود: ص ٩١



ب- ظلل الحرف (أ) إذا كانت العبارة صحيحة والحرف (ب) إذا كانت خاطئة:

الرقم	العبارة	(أ)	(ب)
١	منطقة أبو حليفة من المناطق الزراعية الحديثة بدولة الكويت ص ٨٤	أ	<input checked="" type="checkbox"/>
٢	أهم المعالم السياحية في بلادي الكويت هي الأهرامات. ص ٩٨	أ	<input checked="" type="checkbox"/>
٣	يتميز ميناء الشعبية بتصدير منتجات النفط الصناعية. ص ٨٨	<input checked="" type="checkbox"/>	ب
٤	تُعرف السياحة بالوقت الحاضر بصناعة القرن الواحد والعشرين. ص ٩٦	<input checked="" type="checkbox"/>	ب

(ج) صنف الصناعات التالية كما هو مطلوب منك بالجدول التالي: - ص ٨٢

البلاط (الكاشي) - الأسمدة الكيماوية - المرطبات - إسالة الغاز

م	منطقة صباحان	م	منطقة الشعبية
١	..... البلاط (الكاشي) .....	١	..... الأسمدة الكيماوية .....
٢	..... المرطبات .....	٢	..... إسالة الغاز .....

**السؤال الثاني: موضوعي يتكون من (أ - ب - ج) (كل نقطة بدرجة واحدة)**


ص ٩٢

(أ) أكمل العبارات التالية بما يناسبها: -

١- الهيئة العامة التي تهدف الى تطوير الصناعة وتشجيع العمالة الوطنية تسمى .. الهيئة العامة للصناعة

٢- أول ميناء تجاري وأكبرها في دولة الكويت يسمى ... الشويخ.....ص ٨٨

٣- طرق صيد الأسماك القديمة التي كان يستخدمها الكويتيون القرقور و..... الحظرة.....ص ٨٥

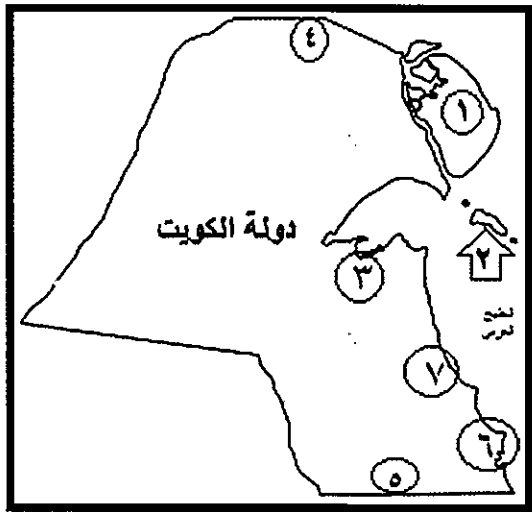


٤- الدولة التي يوجد بها المعلم الديني في الصورة المقابلة تسمى المملكة العربية السعودية.ص ٩٨

(ب) اكتب المفاهيم أو المصطلحات الدالة على العبارات التالية: -

م	المفهوم/المصطلح	العبارات
١	<u>العصيان المدني</u>	الامتناع عن العمل وعن التعاون مع النظام المحتل بأي شكل من الأشكال. ص ٦٠
٢	<u>الاستثمار</u>	هو توظيف الفائض من الأموال الناتج عن زيادة دخل الدولة . ص ٨٠
٣	<u>الزراعة بدون تربة</u>	زراعة التي تتم في بيئة من الرمل أو الحصى أو نشارة الخشب مضافا إليها المحاليل الغذائية. ص ٨٤
٤	<u>السياحة</u>	انتقال الناس من مكان لآخر لفترة معينة ولغرض معين. ص ٩٦

(ج) أمامك خريطة دولة الكويت - أكتب الرقم الدال على العبارات التالية: -



\* ميناء الشويخ يمثل الرقم (.....٣.....) ص ٨٩

\* منطقة الشعبية الصناعية يمثلها الرقم (.....٧.....) ص ٨١

\* منطقة العبدلي الزراعية يمثلها الرقم (.....٤.....) ص ٨٤

\* جزيرة فيلكا يمثلها الرقم (.....٢.....) ص ٨٤

**السؤال الثالث: مقالتي يتكون من (أ - ب - ج) (كل نقطة بدرجة واحدة)**

**(أ) قارن بين كل مما يلي : ص ٩٢**

أهداف الهيئة العامة للشباب والرياضة	أهداف الهيئة العامة للبيئة
- تنظيم المهرجانات والمسابقات. - بناء الشباب الكويتي روحاً وجسداً.	- حماية البيئة من التلوث والمحافظة على البيئة الطبيعية . - تحد من الآثار السلبية لاستخدام التكنولوجيا على الإنسان وعلى البيئة والاستفادة منها .

**(ب) أكتب فيما يلي:**

**١- الأوامر التي أصدرتها القوات العراقية أثناء الاحتلال على الشعب الكويتي. ص ٥٩**

- إلغاء الجنسية الكويتية .
- تغيير لوحات أرقام السيارات الكويتية .

**٢- جهود دولة الكويت لتشجيع الزراعة في الوقت الحاضر. ص ٨٤**

- إنشاء هيئات متخصصة في الزراعة .
- تقديم الارشادات الزراعية .
- تقديم الدعم المادي للمزارعين .
- استخدام الأساليب الحديثة بالزراعة .

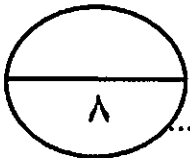
**(ج) علل لما يلي:**

**١- أهمية زيارة المتاحف. ص ٥٨**

- لأنها ذاكرة الشعوب التي تسجل فيها الأحداث فننتذكرها ونعتبر منها .

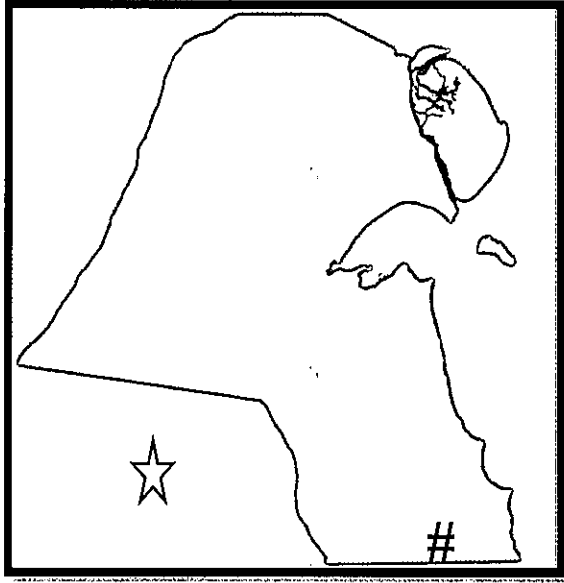
**٢- حرص دولة الكويت على استثمار وتوظيف الفائض من الأموال العائدة من تصدير النفط في كثير من الدول.**

- احتياطي للأجيال القادمة . ص ٨٠
- يحقق دخلاً إضافياً للدولة .



السؤال الرابع: مقالي يتكون من (أ - ب - ج) (كل نقطة بدرجة واحدة)

(أ) لاحظ خريطة دولة الكويت الصماء ثم نفذ ما هو مطلوب منك فيما يلي:



\* حدد بالرمز (#) منطقة الوفرة الزراعية. ص ٨٤

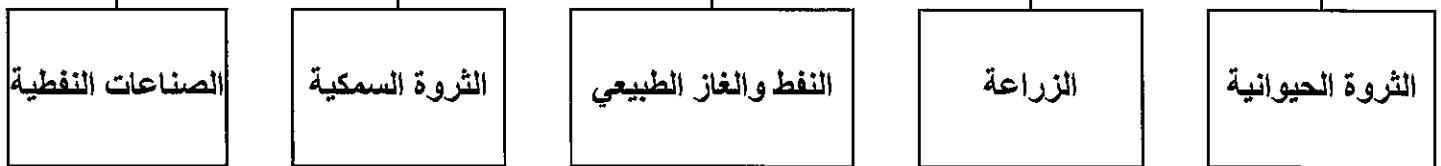
\* حدد بالرمز (☆) المملكة العربية السعودية. ص ٨٤

(ب) فرق بين كل مما يلي: ص ٨٩

		الشعار
شركة صناعة الكيماويات البترولية	شركة نفط الكويت	اسم المؤسسة
*تقوم بعمليات تصنيع وتسويق الأسمدة والمنتجات البتروكيماوية	* المسؤولة عن استكشاف النفط وإنتاجه داخل دولة الكويت.	أهدافها

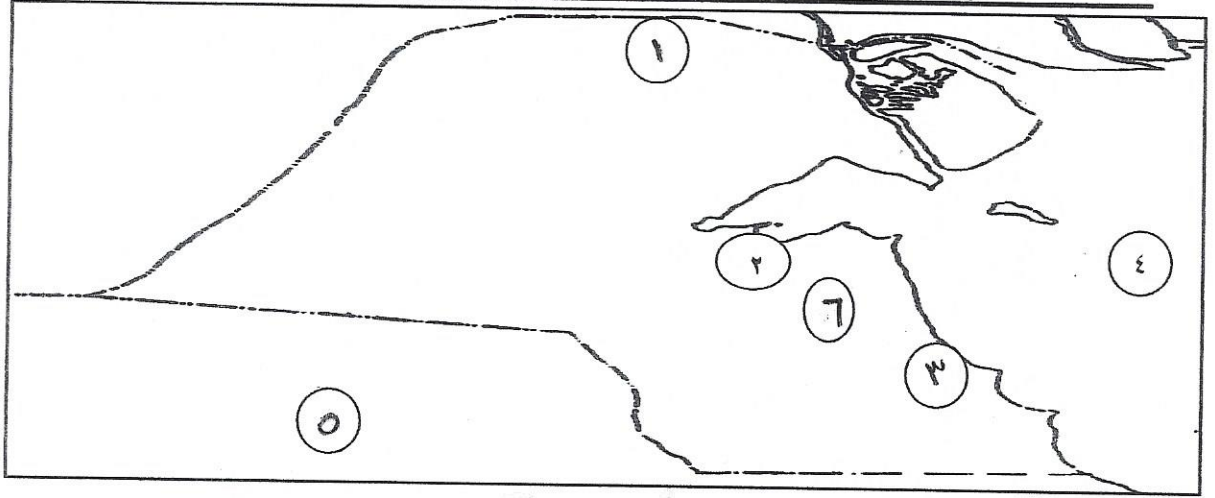
(ج) أكمل المخطط السهمي التالي: ص ٨٠ (يكتفي بنقطتين)

مصادر الدخل المتنوعة في دولة الكويت



السؤال الأول يتكون من ( أ ، ب ) :

أ - امامك خريطة دولة الكويت الصماء نفذ المطلوب فيما يليها: (٦=٦×١)



- الرقم ( ١ ) يمثل منطقة زراعية حديثة اسمها .... العبدلي ..... ص ٨٤
- الرقم ( ٢ ) يمثل منطقة صناعية اشتهرت بالصناعات المرتبطة باصلاح السيارات هي .. الشويخ ... ص ٨٢
- الرقم ( ٣ ) يمثل منطقة صناعية اشتهرت بتكرير النفط هي ... الشعبية ... ص ٨١
- الرقم ( ٤ ) يمثل مسطح مائي اسمه .... الخليج العربي .... ص ٨١
- الرقم ( ٥ ) يمثل دولة عربية انطلقت منها القوات البرية لتحرير دولة الكويت اسمها ... المملكة العربية السعودية ... ص ٦٥
- الرقم ( ٦ ) يمثل منطقة صناعية يتم فيها صناعة الورق والمرطبات تسمى .. صباحان .. ص ٨٢

( ب ) : صوب ما تحته خط في العبارات التالية : (٦=٦×١)

- ١- صناعة القرن الحادي والعشرون هي استزراع الأسماك . (السياحة) ص ٩٦
- ٢- عقد المؤتمر الشعبي الكويتي اثناء الغزو العراقي الغاشم في مدينة الرياض . (جدة) ص ٦١
- ٣- الشركة المسؤولة عن استكشاف النفط و انتاجه في دولة الكويت هي البتترول العالمية .  
( شركة نفط الكويت ) ص ٨٩
- ٤- الوزارة التي تشرف على الهيئة العامة للشباب والرياضة في دولة الكويت هي الاعلام . (الشؤون الاجتماعية والعمل) ص ٩٢
- ٥- المصدر الرئيسي للدخل في دولة الكويت هو الثروة الزراعية . (النفط) ص ٨٠
- ٦- ذاكرة الشعوب التي تسجل فيها الأحداث نعتبر فيها هي المدارس . (المتاحف) ص ٥٨

السؤال الثاني : يتكون من ( أ - ب ) :

أ- صنف الأهداف فيما يلي حسب الهيئات في الجدول التالي : ( ٦×٦ = ٦ ) ص ٩٢

- حماية البيئة من التلوث
- تشجيع العمالة الوطنية
- تنظيم المهرجانات والمسابقات
- بناء الشباب الكويتي روحا وجسدا
- الحد من الآثار السلبية لاستخدام التكنولوجيا على الانسان
- تنويع الصناعات المحلية

الهيئة العامة للصناعة	الهيئة العامة للبيئة	الهيئة العامة للشباب والرياضة
- تشجيع العمالة الوطنية	- حماية البيئة من التلوث	- تنظيم المهرجانات والمسابقات
- تنويع الصناعات المحلية	- الحد من الآثار السلبية لاستخدام التكنولوجيا على الانسان	- بناء الشباب الكويتي روحا وجسدا

ب - اكمل العبارات التالية بما يناسبها فيما درست: ٦×٦=٦

- ١- النسبة المئوية التي تحتفظ بها دولة الكويت من احتياطي النفط العربي تبلغ ١٥% . ص ٨٠
- ٢- زراعة تتم في بيئة من الرمل او نشار الخشب يطلق عليها اسم الزراعة بدون تربة . ص ٨٤
- ٣- الجهة الحكومية التي لها دور في مجال استزراع الاسماك هي معهد الكويت للأبحاث العلمية . ص ٨٥
- ٤- تعتبر حرب تحرير دولة الكويت اول حرب الالكترونية . ص ٦٥
- ٥- اول ميناء تجاري في دولة الكويت اسمه الشويخ . ص ٨٨
- ٦- الصناعات التي تعتمد على النفط يطلق عليها اسم البتروكيماويات . ص ٨١

السؤال الثالث : يتكون من ( أ - ب ) :

( أ ) : عرف المفاهيم التالية : ( ١ × ٤ = ٤ )

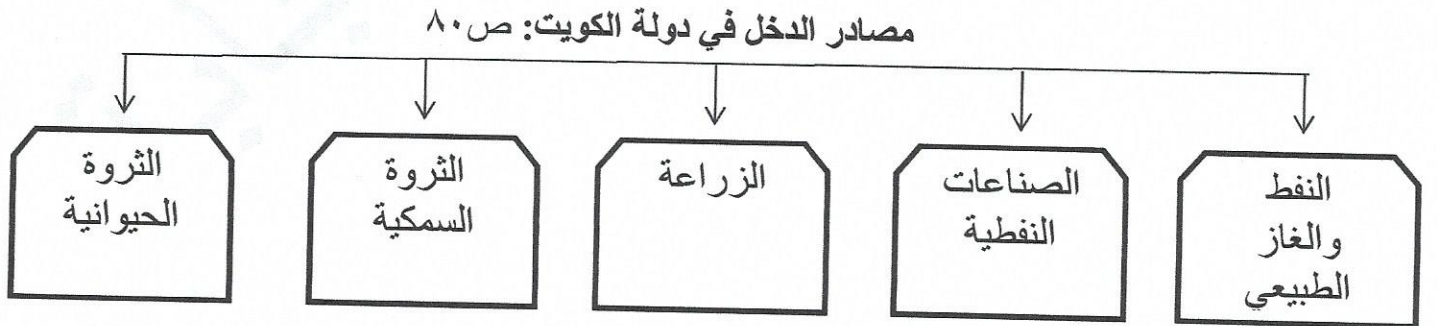
١- السياحة : انتقال الانسان من مكان الي آخر لفترة معينة ولغرض معين مثل الاستمتاع والمعرفة . ص ٩٦

٢- العصيان المدني : الامتناع عن العمل وعن التعاون مع النظام المحتل بأي شكل من الأشكال . ص ٦٠

٣- الزراعة المحمية : زراعة الخضروات في غير مواسمها بحمايتها من تقلبات الطقس وذلك في بيوت بلاستيكية . ص ٨٤

٤- الاستثمار : توظيف الفائض من الاموال الناتج عن زيادة دخل الدولة . ص ٨٠

( ب ) : اكمل الشكل التالي : ( ١ × ٤ = ٤ )



السؤال الرابع ويتكون من ( أ - ب )

( أ ) : علل لما يلي : ( ١×٤=٤ )

- ١- يسافر الكويتيون للسياحة في الدول العربية والاوربية . ص ٩٨  
( يكتفى بنقطة واحدة )
- للاستمتاع بجوها الجميل .
  - التطلع على ثقافات الشعوب .
- ٢- أهمية الاستثمارات الكويتية اثناء الغزو العراقي الغاشم . ص ٨٠ ( يكتفى بنقطتين )
- صرف جزء منها للمواطنين الكويتيين في الداخل والخارج .
  - صرف جزء في اعادة الاعمار .
  - صرف جزء منها على العمليات العسكرية الخاصة بالتحريير .
- ٣- الاعتماد على السمك كغذاء رئيسي قديما في دولة الكويت . ص ٨٥ ( يكتفى بنقطة واحدة )
- بسبب فقر البيئة الصحراوية .

( ب ) : اذكر جهود دولة الكويت في القطاعات حسب الجدول التالي : ( ٢×٢=٤ )

( يكتفى بنقطتين لكل قطاع )

الثروة الزراعية	الثروة السمكية
١- انشاء هيئات متخصصة في الزراعة ٢- تقديم الارشادات الزراعية . ٣- الدعم المادي للمزارعين . ٤- التشجيع على استخدام الأساليب الحديثة . ٥- تطوير مصادر المياه المستخدمة . ص ٨٤	١- انشاء اسطول من السفن الحديثة المتخصصة في صيد الاسماك . ٢- التقدم في مجال استزراع الاسماك . ص ٨٥



## نموذج الإجابة

تم التحميل من

شبكة

الكويت

<https://www.ykuwait.net>

TELEGRAM: @ykuwait\_net\_home

السؤال الأول ويتكون من: ( أ - ب - ج - د ) ( ٢٤ درجة لكل إجابة )

أ- اختر الإجابة الصحيحة من بين البدائل التي تلي كل عبارة وضع خطأ تحتها:-

١- أول ميناء تجاري بدولة الكويت عرف باسم : ص ٨٨

أ- الشعبية	ب- الوفرة	ج- الشويخ	د- صباحان
------------	-----------	-----------	-----------

٢- تم تحرير دولة الكويت من الغزو العراقي الغاشم في ٢٦ فبراير من عام : ص ٦٤

أ- ١٩٩٠م	ب- ١٩٩١م	ج- ١٩٩٢م	د- ١٩٩٣م
----------	----------	----------	----------

٣- مكان من الأماكن السياحية بدولة الكويت يسمى : ص ٩٧

أ- برج بيزا المائل	ب- الأهرامات	ج- برج إيفل	د- منتزة الحيران
--------------------	--------------	-------------	------------------

٤- دولة من دول العالم كان لها دور بارز في حرب تحرير دولة الكويت هي : ص ٦٤

أ- الولايات المتحدة الأمريكية	ب- الهند	د- كوريا	د- الصين
-------------------------------	----------	----------	----------

٥- فاكهة نجحت دولة الكويت في زراعتها تسمى : ص ٨٤

أ- العنب	ب- الفراولة	ج- التفاح	د- الموز
----------	-------------	-----------	----------

٦- أعلن عن قيام حكومة كويتية مؤقتة أثناء الغزو العراقي البائد في مدينة تسمى : ص ٦١

أ- جدة	ب- الرياض	ج- مكة	د- الطائف
--------	-----------	--------	-----------

ب- صنّف الصناعات التالية حسب مناطق صناعتها في الجدول التالي :- ص ٨٢

الأسمدة الكيماوية - البسكويت - تكرير النفط - الأثاث - المنظفات - إسالة الغاز

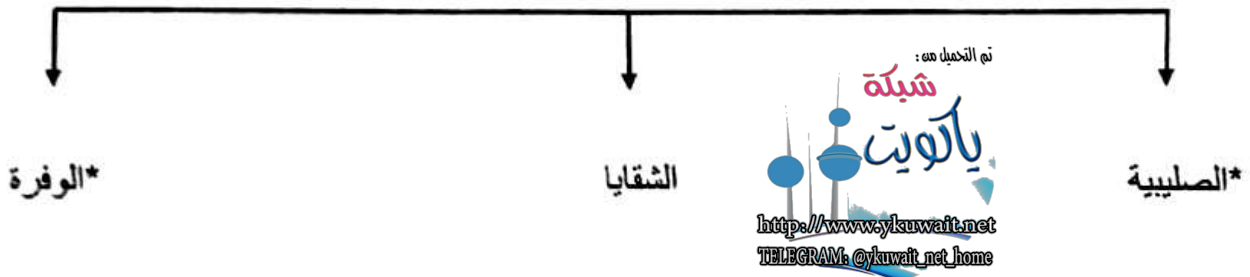
منطقة الشويخ الصناعية	منطقة الشعبية الصناعية
- البسكويت - الأثاث - المنظفات	- الأسمدة الكيماوية - تكرير النفط - إسالة الغاز

ج - ظلل الحرف ( أ ) إذا كانت الإجابة صحيحة أو الحرف ( ب ) إذا كانت الإجابة غير صحيحة للعبارات التالية :-

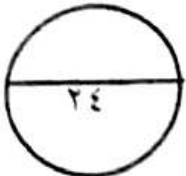
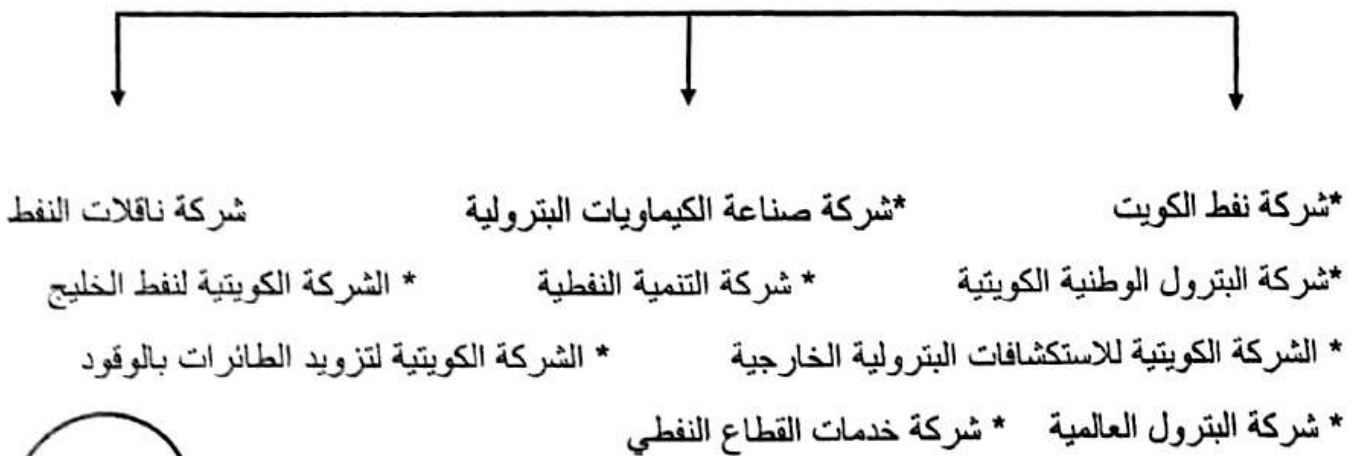
١-	تعتبر حرب تحرير دولة الكويت ثالث حرب الكترونية بالعالم . ص ٦٥	ب
٢-	نزور المتاحف لأنها ذاكرة الشعوب التي تسجل فيها الأحداث فننذكرها ونعتبر منها . ص ٥٨	ب
٣-	تقع محطة التجارب الزراعية في منطقة العبدلي . ص ٨٤	ب
٤-	تشتهر منطقة الأحمدى الصناعية بصناعة الورق . ص ٨٢	ب
٥-	تحتفظ دولة الكويت باحتياطي يقارب ١٥% من احتياطي النفط بالنسبة للدول العربية . ص ٨٠	ب
٦-	يهدف مؤتمر جدة الشعبي إلى عودة الشرعية الكويتية . ص ٦١	ب
٧-	بدأت الحرب الجوية في تاريخ ١٩ يناير ١٩٩٣ م . ص ٦٤	ب
٨-	تعتبر الحضرة والقرفور من طرق الصيد بالكويت قديما . ص ٨٥	ب

د - أكمل المخططات السهمية التالية :-

١- مناطق تربية الثروة الحيوانية بدولة الكويت ص ٨٥



٢- الشركات التابعة لمؤسسة البترول الكويتية ص ٨٩ + ٩١



**السؤال الثاني : ويتكون من ( أ - ب - ج )**

أ- علل لما يلي بذكر السبب :- ص ٨٤ ( درجتان يكتفي بنقطة لكل اجابة)

١- تعتبر العوامل الطبيعية عائقا أمام الزراعة في دولة الكويت .

\* فقر التربة . \* قلة المياه \* شدة الحرارة .

٢- اعتماد الكويتين قديما علي السمك كغذاء رئيسي . ص ٨٥

\* فقر البيئة الصحراوية . \* توفره في مياة الخليج . \* لجودة أنواعه .

ب - فرق بين كل مما يلي حسب ماهو مطلوب بالجدول التالي :- ص ٨٤ ( درجتان درجة لكل بند )

الزراعة بدون تربة	الزراعة المحمية
هي الزراعة التي تتم في بيئة من الرمل أو الحصي أو نشارة الخشب مضافا إليها المحاليل الغذائية .	هي زراعة الخضروات في غير مواسمها وبحمايتها من تقلبات الطقس وذلك في بيوت بلاستيكية .

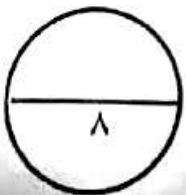
ج - اكتب فيما يلي ( مما درست ) :- ( ٤ درجات )

١- فوائد السفر . ص ٩٨ ( يكتفي بنقطتين )

\* تفريج هم . \* اكتساب معيشة . \* علم . \* آداب . \* صحبة ماجد .

٢- أعمال اللجان الشعبية . ص ٦١ ( يكتفي بنقطتين )

\* إدارة الجمعيات التعاونية . \* حراسة الأحياء السكنية . \* القيام بأعمال النظافة . \* توزيع الخبز . \* توصيل المساعدات المختلفة للأهالي .



**السؤال الثالث : ويتكون من ( أ - ب - ج )**

**أ- عرف المفاهيم التالية :- (درجتان)**

١- السياحة . ص ٩٦

انتقال الإنسان من مكان الي آخر لفترة زمنية معينة ولغرض معين

٢- العصيان المدني . ص ٦٠

الامتناع عن العمل وعن التعاون مع النظام المحتل بأي شكل من الأشكال

**ب - فرق بين كل مما يلي حسب ماهو مطلوب بالجدول التالي :- ص ٩٢ (درجتان درجة لكل إجابة)**

أهداف الهيئة العامة للبيئة	أهداف الهيئة العامة للصناعة
<p>* حماية البيئة من التلوث * المحافظة علي البيئة الطبيعية * الحد من الآثار السلبية لاستخدام التكنولوجيا علي الإنسان وعلي البيئة والاستفادة منها</p>	<p>* تطوير الصناعة المحلية * تشجيع العمالة الوطنية * تنويع الصناعات المحلية ( يكتفي بنقطة واحدة )</p>

**ج - اكتب فيما يلي ( مما درست ) :- ( ٤ درجات درجة لكل إجابة )**

١- جهود دولة الكويت في تشجيع القطاع الصناعي . ص ٨١ ( يكتفي بنقطتين )

\* إقامة المناطق الصناعية

\* إعفاء الآلات الصناعية من الرسوم الجمركية

\* تقديم القروض

\* إقامة معاهد للتدريب الصناعي

٢- اثنان من مصادر الدخل بدولة الكويت . ص ٨٠ ( يكتفي بنقطتين )

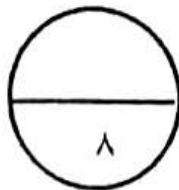
\* الصناعات النفطية

\* الثروة السمكية

\* النفط والغاز الطبيعي

\* الثروة الحيوانية

\* الزراعة



# منطقة حولي التعليمية

نهاية الفصل الدراسي الثاني

العام الدراسي ٢٠١٦-٢٠١٧

الصف الخامس

نموذج إجابة اختبار مادة

الاجتماعيات

الاختبار الأساسي



وزارة التربية

إمتحان نهاية الفترة الدراسية الثانية في مقرر بلادي الكويت

الإدارة العامة لمنطقة حولي التعليمية

للسف الخامس من العام الدراسي ٢٠١٦ / ٢٠١٧م

التوجيه الفني للاجتماعيات

عدد الأوراق : ٥ أوراق



السؤال الأول ويتكون من ( أ - ب - ج )

أ- صوب ما تحته خط في العبارات التالية ( خمس درجات )

الرقم	العبارة	التصويب
١	استمر الغزو العراقي على دولة الكويت ٤ <u>شهور</u> .	٧ شهور ص ٦٥
٢	تتركز صناعات الأسمدة الكيماوية وتكرير النفط في منطقة <u>الأحمدي</u> .	الشعبية ص ٨٢
٣	قامت الحكومة الكويتية المؤقتة في مدينة <u>الرياض</u> .	الطائف ص ٦١
٤	ذاكرة الشعوب التي تسجل فيها الأحداث فنذكرها ونعتبر منها هي <u>المصانع</u> .	المتاحف ص ٥٨
٥	الإمتناع عن العمل والتعاون مع النظام المحتل بأي شكل من الأشكال يسمى <u>الإستثمار</u> .	العصيان المدني ص ٦٠

ب- صنف العبارات التالية حسب المكان المناسب لها بالجدول التالي ( ٣ درجات )

( بناء الشباب الكويتي روحا وجسدا / تشجيع العمالة الوطنية / حماية البيئة من التلوث ) ص ٩٣

الهيئة العامة للصناعة	الهيئة العامة للبيئة	الهيئة العامة للشباب والرياضة
تشجيع العمالة الوطنية	حماية البيئة من التلوث	بناء الشباب الكويتي روحا وجسدا

تابع نموذج إجابة إمتحان نهاية الفترة الدراسية الثانية - مقرر بلادي الكويت - للصف الخامس - العام الدراسي ٢٠١٦ - ٢٠١٧ م

ج- اختر الإجابة الصحيحة من بين البدائل التالية بوضع خط تحتها : ( ٤ درجات )

١- يعتمد الدخل في دولة الكويت اعتماداً رئيسياً على : ص ٨٠

الثروة الحيوانية	<u>النفط والغاز الطبيعي</u>	التجارة	الزراعة
------------------	-----------------------------	---------	---------


٢- قام النظام العراقي بغزو دولة الكويت يوم الخميس الثاني من أغسطس عام : ص ٥٨

<u>١٩٩٣</u>	١٩٩٢	١٩٩١	<u>١٩٩٠</u>
-------------	------	------	-------------


٣- الصليبية والشقاياء والوفرة مناطق تختص في : ص ٨٥

قطاع الزراعة	قطاع الثروة السمكية	<u>قطاع الثروة الحيوانية</u>	قطاع الصناعة
--------------	---------------------	------------------------------	--------------


٤- الدائرة البيانية التي تمثل إحتياطي النفط في دولة الكويت هي : ص ٨٠




٥%



١٥%

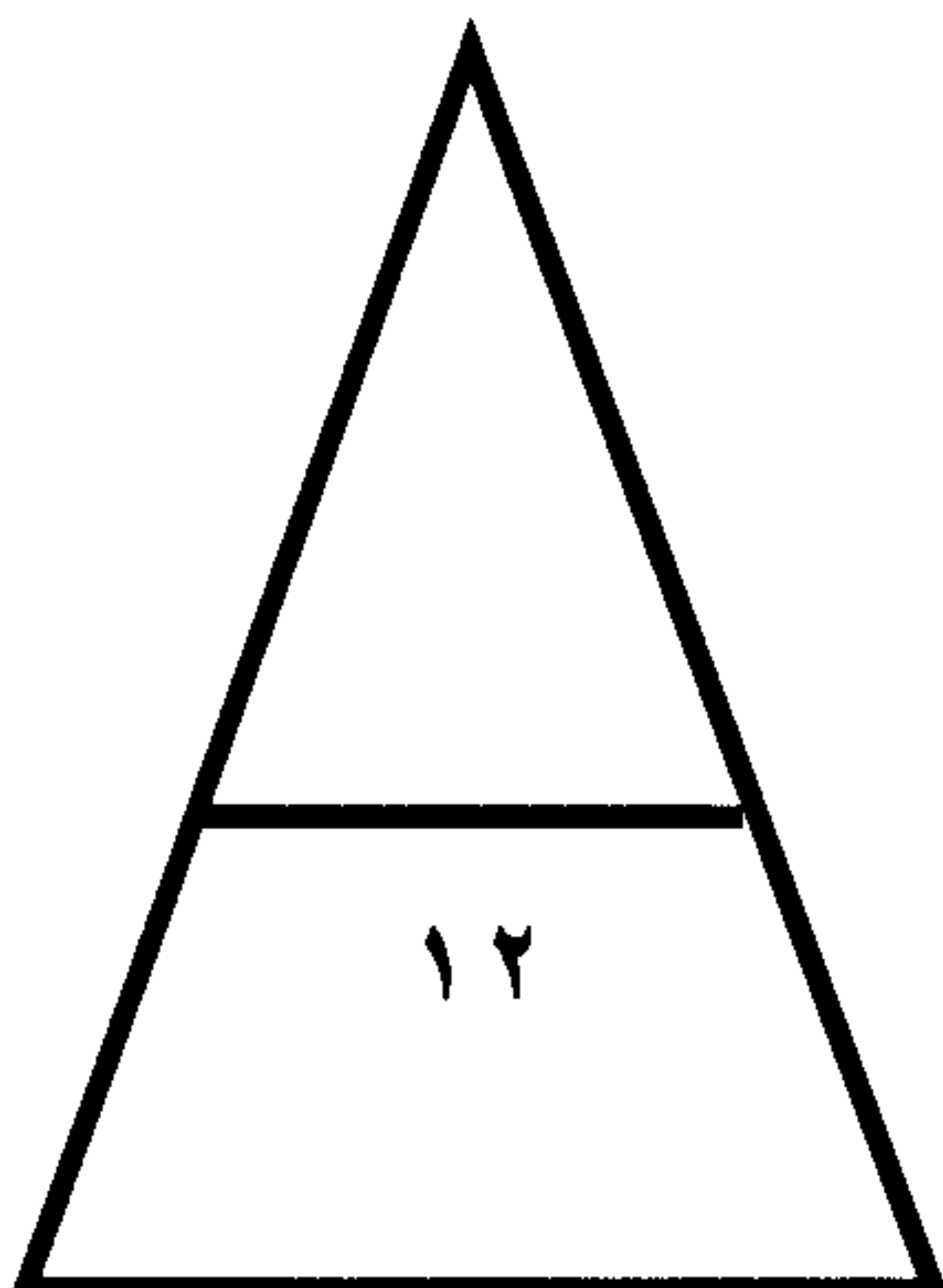


٣٥%



٥٠%

مجموع درجات السؤال الأول



السؤال الثاني يتكون من ( أ - ب - ج )

أ- أكمل العبارات التالية بما يناسبها مما درست ( ٥ درجات )

١- زراعة الخضراوات في غير مواسمها بحمايتها من تقلبات الطقس وذلك في بيوت بلاستيكية تسمى الزراعة المحمية ٨٥

٢- إنشاء محطة التجارب في العمرية من جهود الدولة في تطوير القطاع الزراعي ص ٨٤

٣- إنطلقت حرب تحرير دولة الكويت من الغزو العراقي الغاشم في ١٧ يناير عام ١٩٩١ ص ٦٤

٤- توظيف الفائض من الأموال الناتجة عن زيادة دخل الدولة يسمى الإستثمار ص ٨٠

٥- أول واكبر ميناء تجاري في دولة الكويت ميناء إسمه ميناء الشويخ ص ٨٨

ب- صنف الكلمات التالية حسب مكانها المناسب في الجدول التالي ( ٤ درجات )

( المركز العلمي / الأهرامات / برج إيفيل / الموروث الشعبي ) ص ٩٦ / ٩٧ / ٩٨

سياحة خارجية	سياحة داخلية
الأهرامات برج إيفيل	المركز العلمي الموروث الشعبي

ج- اختر للقائمة ( أ ) ما يناسبها من القائمة ( ب ) بوضع الرقم في المكان الصحيح : ( ٣ درجات ) ص ٨٩

الرقم	إسم الشركة	الإجابة	الشعار التابع لها
١	شركة نفط الكويت	٣	
٢	شركة ناقلات النفط الكويتية	١	
٣	شركة صناعة الكيماويات البترولية	٢	

مجموع درجات السؤال الثاني

٣

١٢



السؤال الثالث ويتكون من ( أ - ب )

أ- عرف المفاهيم التالية : ( درجتين )

١- السياحة . ص ٩٦

هي إنتقال الإنسان من مكان إلى آخر لفترة معينة ولغرض معين ، ويمكن أن تكون داخل البلاد أو خارجها وذلك خلال العطلات والإجازات الرسمية .

٢- الزراعة بدون تربة . ص ٨٤

هي الزراعة التي تتم في بيئة من الرمل أو الحصى أو نشارة الخشب مضافاً إليها المحاليل الغذائية .

ب- أكتب نقطتين في كل مما يلي : ( ٦ درجات )

١- الأساليب التي إتبعتها القوات العراقية ضد الكويتيين لإخضاعهم لها . ص ٥٩

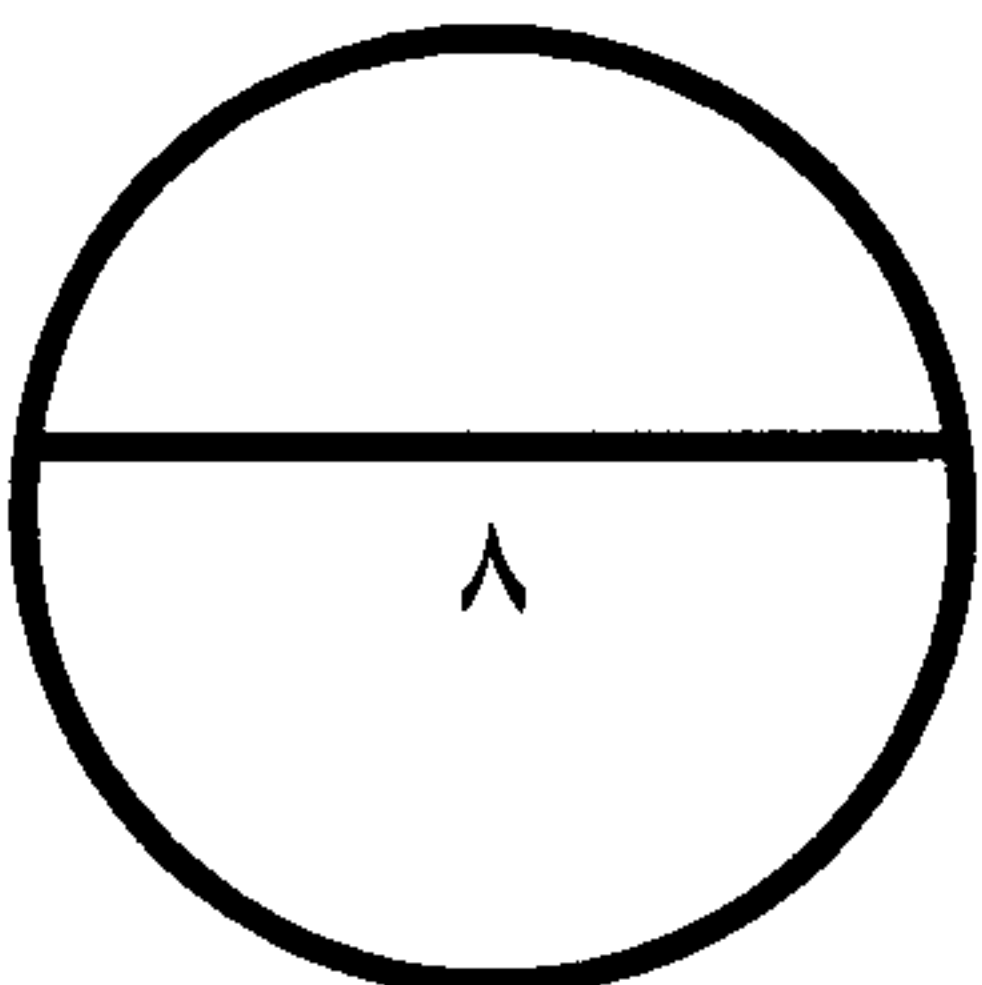
- التعذيب / الإرهاب / مdahمة بيوت الكويتيين / إعتقال المواطنين / سرقة المنازل / إصدار أوامر بتغيير الجنسية الكويتية وتغيير لوحات أرقام السيارات الكويتية .

٢-الموقف الخليجي من الغزو العراقي الغاشم على دولة الكويت . ص ٦٤

- المشاركة بقوات عسكرية / استخدام مطارات دول الخليج العسكرية / إستدعاء القوات الخليجية للانطلاق من أراضيها لتحرير دولة الكويت .

٣- أهم مصادر الدخل في دولة الكويت . ص ٨٠

- النفط والغاز الطبيعي / الثروة السمكية / الزراعة / الصناعات النفطية / الثروة الحيوانية .



مجموع درجات السؤال الثالث

السؤال الرابع ويتكون من ( أ - ب )

أ- علل لما يلي : ( ٤ درجات )

١- إعتداء النظام العراقي على دولة الكويت . ص ٥٨-٥٩

- القضاء على كيان دولة الكويت ومحوها من خريطة العالم / الطمع بالثروة النفطية .

٢- العوامل الطبيعية كانت عائقاً أمام الزراعة بدولة الكويت . ص ٨٤

- فقر التربة / قلة المياه / شدة الحرارة

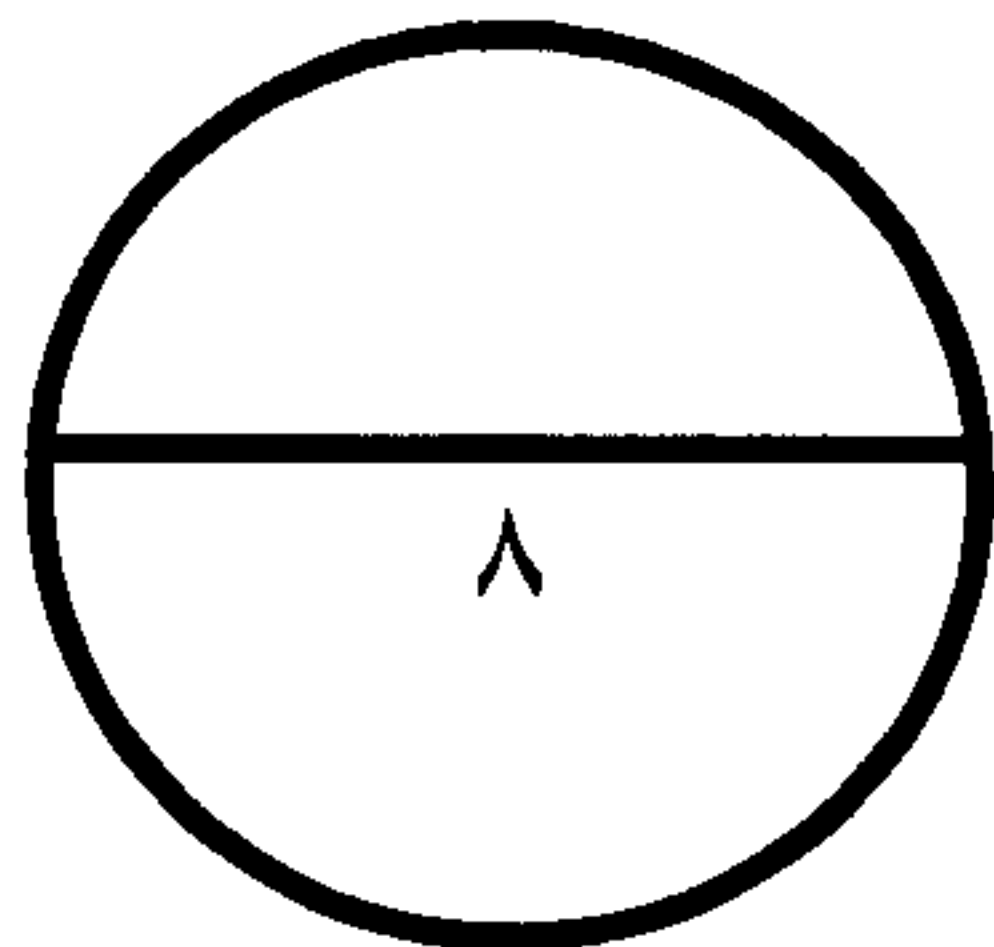
ب- أجب على الأسئلة التالية : ( ٤ درجات )

١- عدد جهود دولة الكويت في تطوير القطاع الصناعي . ص ٨١

- إقامة المناطق الصناعية / تقديم القروض / إعفاء الآلات الصناعية من الرسوم الجمركية / إقامة معاهد التدريب الصناعي

٢- أذكر فوائد السفر . ص ٩٨

- تفريج هم / إكتساب معيشة / للعلم والآداب والمعرفة / الصحة الصالحة / الراحة / الإستمعاع



مجموع درجات السؤال الرابع

إنتهت الأسئلة مع تمنياتنا لكم بالنجاح والتوفيق 😊



وزارة التربية  
إدارة الشؤون التعليمية  
مراقبة الامتحانات وشؤون الطلبة



نموذج الإجابة  
المرحلة الابتدائية

اختبارات نهاية الفصل الدراسي الثاني

المادة : الاجتماعيات

الصف : الخامس

العام الدراسي

2016 / 2017

العام الدراسي: ١٦-٢٠١٧م  
الفصل الدراسي: الثاني  
عدد أوراق الامتحان:

وزارة التربية  
الإدارة العامة لمنطقة مبارك الكبير التعليمية  
التوجيه الفني للاجتماعيات  
نموذج إجابة امتحان نهاية الفصل الدراسي الثاني لمادة بلادي الكويت الصف الخامس

( درجة لكل سؤال )



السؤال الأول: موضوعي يتكون من ( أ ، ب ):

أ- أكمل العبارات التالية بما يناسبها مما درست :

- ١- المؤتمر الذي عقده الكويتيون في الخارج أثناء الاحتلال العراقي يسمى مؤتمر جدة الشعبي ص ٦١
- ٢- الزراعة التي تتم في بيئة من الرمل أو الحصى أو نشارة الخشب تسمى الزراعة بدون تربة ص ٨٤
- ٣- الامتناع عن العمل وعن التعاون مع النظام المحتل بأي شكل من الأشكال يسمى العصيان المدني ص ٦٠
- ٤- الميناء التجاري الذي أنشأ عام ١٩٦٠م في دولة الكويت يسمى الشويخ ص ٨٨
- ٥- الشركة الكويتية التي تقوم بتزويد الطائرات بالوقود تسمى كافكو ص ٩١
- ٦- شركة مسؤولة عن استكشافات النفط وإنتاجه داخل دولة الكويت تسمى شركة نفط الكويت ص ٨٩

ب- أختار الخيار الصحيح من بين الخيارات التي تلي كل عبارة بوضع خط تحتها :

- ١- أثناء الاحتلال استضافة المملكة العربية السعودية الحكومة الكويتية بشكل مؤقت في مدينة تسمى :  
( الرياض - جدة - الطائف - الدمام ) ص ٦١
- ٢- تحررت دولة الكويت من الاحتلال العراقي في ٢٦ فبراير عام:  
( ١٩٩٠م - ١٩٩١م - ١٩٩٢م - ١٩٩٣م ) ص ٦١
- ٣- الصناعات التي تعتمد على النفط تسمى:  
( البتر وكيمواويات - الإنشائية - الاستهلاكية - الغذائية ) ص ٨١
- ٤- مؤسسة مستقلة تتولى إدارة وتشغيل وتطوير الموانئ التجارية تسمى:  
( الهيئة العامة للصناعة - الهيئة العامة للبيئة - الموانئ الكويتية - الهيئة العامة للشباب والرياضة ) ص ٨٨
- ٥- احتياطي النفط بدولة الكويت بالنسبة للدول العربية يمثل:  
( ٥% - ١٠% - ١٥% - ٥٠% ) ص ٨٠
- ٦- ميناء يقع جنوب مدينة الكويت ويتميز بتصدير منتجات النفط الصناعية يسمى:  
( الشويخ - الشعبية - الدوحة - مبارك الكبير ) ص ٨٨



السؤال الثاني : موضوعي يتكون من ( أ ، ب ) :

أ- ضع علامة (√) أمام العبارة الصحيحة وعلامة (x) أمام العبارة الخاطئة :

- ١- قامت قوات الاحتلال العراقي منذ الساعات الأولى لعدوانها بتدمير ونهب دولة الكويت. ( / ) ص ٥٩
- ٢- منذ الأيام الأولى للاحتلال العراقي لم تنتشر المقاومة المسلحة واللجان الشعبية. ( x ) ص ٦٠
- ٣- بدأ الهجوم الجوي لقوات التحالف لتحرير دولة الكويت في فجر ١٧ يناير ١٩٩١م. ( / ) ص ٦٤
- ٤- لا توجد فوائد للسفر. ( x ) ص ٩٨
- ٥- يقع منتزه الخيران شمال مدينة الكويت. ( x ) ص ٩٧
- ٦- الظروف والعوامل الطبيعية عائقاً أمام الزراعة بدولة الكويت. ( / ) ص ٨٤



ب- صنف الأهداف التالية حسب الهيئات في الجدول التالي:

- ( بناء الشباب الكويتي - حماية البيئة من التلوث - تشجيع العمالة الوطنية - تنويع الصناعات المحلية - تنظيم المهرجانات والمسابقات - المحافظة على البيئة الطبيعية ) ص ٩٢

الهيئة العامة للصناعة	الهيئة العامة للشباب والرياضة	الهيئة العامة للبيئة
تشجيع العمالة الوطنية	بناء الشباب الكويتي	حماية البيئة من التلوث
تنويع الصناعات المحلية	تنظيم المهرجانات والمسابقات	المحافظة على البيئة الطبيعية

مجموع درجة الموضوعي ٢٤ درجة



السؤال الثالث : مقالتي يتكون من ( أ ، ب ، ج ) :

( درجتان )

أ- عرف المفاهيم الآتية :

١. الزراعة المحمية. ص ٨٤

هي زراعة الخضروات في غير مواسمها بحمايتها من تقلبات الطقس وذلك في بيوت بلاستيكية.

٢. السياحة. ص ٩٦

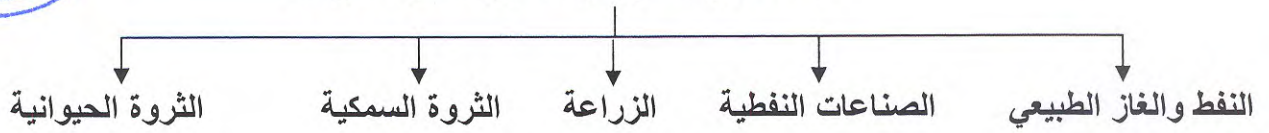
هي انتقال الإنسان من مكان إلى آخر لفترة زمنية معينة ولغرض معين مثل الاستمتاع والراحة والمعرفة.



( درجتان )

ب- اجب على المخطط السهمي :

عدد مصادر الدخل بدولة الكويت حديثاً ص ٨٠



ج- وضح الموقف الخليجي وموقف دول العالم من الغزو العراقي لدولة الكويت . ( أربع درجات )

مطلوب نقطتين فقط لا غير ص ٦٤

موقف دول العالم	الموقف الخليجي
١. تحالف العديد من دول العالم لنصرة الكويت.	١. المشاركة بقوات عسكرية.
٢. المساهمة بقوات عسكرية من مشاة وطيران.	٢. استخدام مطارات دول الخليج العسكرية.
٣. دور الولايات المتحدة الأمريكية دور بارز في حرب تحرير دولة الكويت.	٣. استدعاء القوات الخليجية للانطلاق من أراضيها لتحرير دولة الكويت.
	٤. دور بارز المملكة العربية السعودية ودول الخليج في تحرير دولة الكويت.

السؤال الرابع : مقالتي يتكون من ( أ ، ب ، ج ) :

( درجتان )

أ- علل لما يأتي :

١. ضعف حرفة الرعي بدولة الكويت. ص ٨٥  
بسبب اكتشاف النفط.

٢. اهتمت دولة الكويت بتنوع موارد الدخل. ص ٨١  
لخطورة الاعتماد على مورد واحد ولتحقق دخلاً إضافياً لدولة الكويت.

( درجتان )

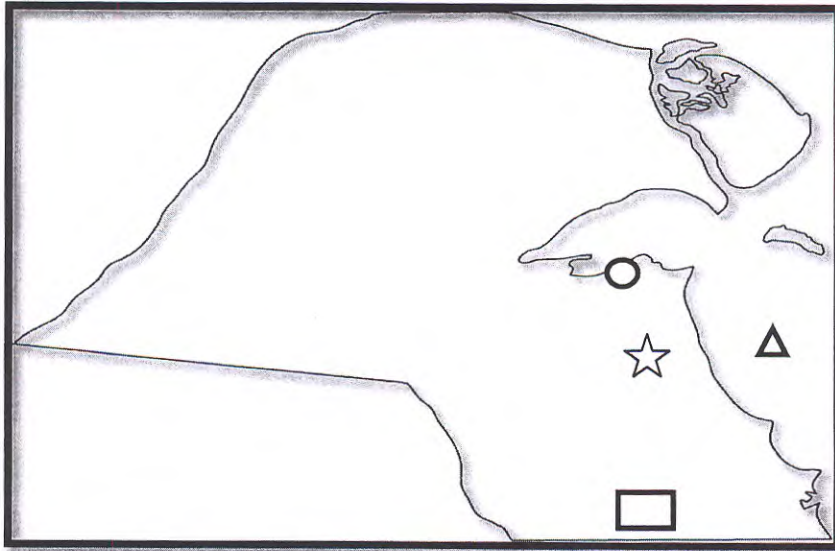
ب- اجب عما يلي :

١. أذكر فوائد السياحة الداخلية والخارجية مما درست: ص ٩٩

نوع السياحة	فوائدها
السياحة الداخلية	أتعلم تاريخ بلادي - أنمي معلوماتي العلمية
السياحة الخارجية	الاستمتاع - معرفة الثقافات

( أربع درجات )

ج- أمامك خريطة دولة الكويت الصماء حدد عليها ما يلي :



١. منطقة الوفرة. □ ص ٨٤
٢. الخليج العربي. △ ص ٨٤
٣. منطقة صباحان الصناعية. ☆ ص ٨١
٤. ميناء الشويخ. ○ ص ٨٩

مع تمنيات التوجيه الفني للاجتماعيات  
لكم بالتوفيق و النجاح