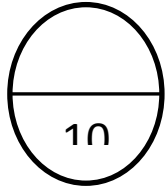


المادة : رياضيات الفترة الدراسية الرابعة



الاسم : .....

العام الدراسي : 2015 – 2016 م

منطقة مبارك الكبير التعليمية

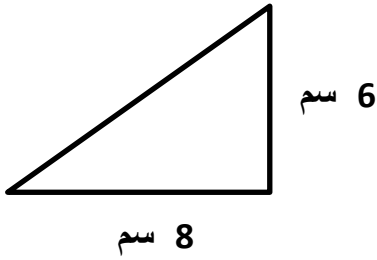
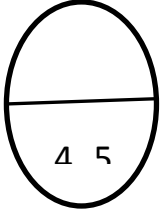
الصف : .....

الصف : الخامس

مدرسة عائشة الشريف

### السؤال الأول :.

أوجد مساحة المثلث الذي أمامك : .

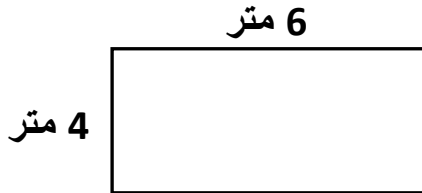
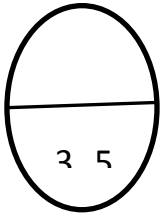


المساحة = .....

\_\_\_\_\_ =

### السؤال الثاني :.

احسب مساحة المنطقة المستطيلة : .



المساحة = \_\_\_\_\_ × \_\_\_\_\_

\_\_\_\_\_ =

### السؤال الثالث :.

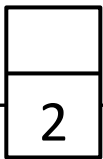
اختر الإجابة الصحيحة مما يلي :

( 1 ) 5 دسم =

50 مم

50 م

50 سم



( 2 ) 6 م و 45 سم =

45.6 م

6.45 م

6.45 سم

( أ )

اعداد المعلمة : نعمات محمد