



\*السؤال الأول : يتكون من ( أ ، ب ) :-

أ- اختر الخيار الصحيح من بين الخيارات التي تلي كل عبارة بوضع خط تحتها :- ( ١ X ٦ = ٦ )

(١) جبال الزور واللياح وكراع المرو مظاهر تضاريسية تسمى : ص ٢٦  
( جبال - تلال - أودية - منخفضات )

(٢) أراضي منخفضة قليلة المياه تنمو فيها النباتات الملحية تسمى ص ٢٧  
( الكثبان الرملية - التلال - الأودية الجافة - السيخات )

(٣) العام الذي تم فيه تصدير أول شحنة من النفط الكويتي هو : ص ٥٠  
( ١٩٤٦ م - ١٩٤٩ م - ١٩٥٢ م - ١٩٥٣ م )

(٤) الحاكم الذي لقب بأبو الإستقلال هو الشيخ : ص ٥٣  
( أحمد الجابر - صباح الأحمد - عبدالله السالم - صباح الأول )

(٥) النباتات المعمرة أو الدائمة تزدهر في فصل : ص ٤٠  
( الصيف - الشتاء - الربيع - الخريف )

(٦) مساحة دولة الكويت بالكيلومتر مربع : ص ٢٠  
( ١٥,٧١٧ - ١٦,٧١٧ - ١٧,٧١٧ - ١٨,٧١٧ )

ب - أكمل العبارات التالية بما يناسبها مما درست : ( ١ X ٦ = ٦ )

(١) المنطقة المناخية التي تقع فيها دولة الكويت تسمى ... الحارة ... : ص ٣٤

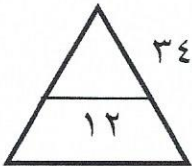
(٢) الموسم الذي يتميز بشدة البرودة بسبب انخفاض الحرارة لمدة ٤٠ يوم يسمى ... الربيعانية ... : ص ٣٦

(٣) تعرف الأمطار الرعدية التي تسقط في مارس وأبريل ومايو باسم .. السرايات .. : ص ٣٣

(٤) حاكم دولة الكويت الذي تولى الحكم بعد وفاة عمه سالم المبارك هو الشيخ .. أحمد الجابر .. : ص ٥٠

(٥) وكالة الفضاء التي أشادت بجهود العرب بالفلك يطلق عليها اسم .. ناسا .. : ص ٣٦

(٦) قسم العالم إلى مناطق مناخية حسب قربها أو بعدها عن خط يسمى .. الاستواء .. : ص ٣٤

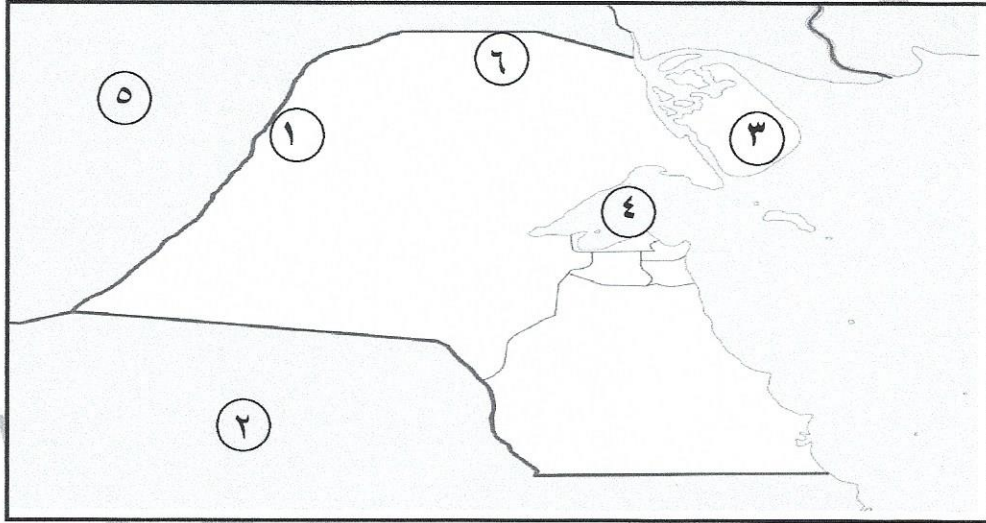


السؤال الثاني :- يتكون من ( أ ، ب ، ج ) :

أ- ضع علامة (  $\checkmark$  ) أمام العبارة الصحيحة وعلامة (  $\times$  ) أمام العبارة الخاطئة :- (  $٦ = ٦ \times ١$  )

- ١) الرعي الجائر هو الإفراط في الرعي (  $\checkmark$  ) ص ٤٧
- ٢) تقع دولة الكويت بين دائرتي عرض ٤٦ - ٤٨ شرقاً (  $\times$  ) ص ٢٠
- ٣) الحيوان الذي يطلق عليه سفينة الصحراء هو الزرافة (  $\times$  ) ص ٤٤
- ٤) أول بئر نفطي اكتشف عام ١٩٣٦م في منطقة بحره (  $\checkmark$  ) ص ٥٠
- ٥) كحيل من النباتات الحولية في دولة الكويت (  $\checkmark$  ) ص ٤٠
- ٦) آسيا هي أكبر قارات العالم مساحة (  $\checkmark$  ) ص ٤٦

ب - لاحظ خريطة دولة الكويت الصماء ثم أكتب مدلولات الأرقام التالية : (  $٦ = ٦ \times ١$  )



- ١- أكبر الجزر الكويتية يمثلها على الخريطة الرقم ( ٣ ) ص ٢٦
- ٢- جون الكويت يمثله على الخريطة الرقم ( ٤ ) ص ٤٦
- ٣- وادي الباطن يمثله على الخريطة الرقم ( ١ ) ص ٢٦
- ٤- منطقة العبدلي الرعوية يمثلها على الخريطة الرقم ( ٦ ) ص ٤٦
- ٥- المملكة العربية السعودية يمثلها على الخريطة الرقم ( ٢ ) ص ٤٦
- ٦- العراق يمثلها على الخريطة الرقم ( ٥ ) ص ٤٦

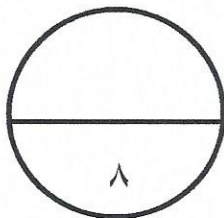
السؤال الثالث : يتكون من ( أ ، ب ) :

أ – علل لما يأتي :-

- ١- تميز العرب بعلوم الفلك ص ٣٦ (درجة)  
- لصفاء جو شبه الجزيرة العربية غالباً .
- ٢- أهمية النباتات الطبيعية ص٤٦ (درجة)  
- لأنها تعتبر مصدر غذائي مهم لأنواع عديدة من الحيوانات البرية والطيور .
- ٣- النبات الطبيعي في الكويت يعيش في بيئة صحراوية صعبة . ص٤٠ يكتفى بنقطتين (درجتين)  
- ارتفاع درجة الحرارة  
- العواصف الترابية  
- ارتفاع نسبة سطوع الشمس  
- ارتفاع نسبة التبخر  
- قلة الأمطار

ب – أكتب اثنين لكل من :-

- (١) الإنجازات الداخلية للشيخ عبدالله السالم الصباح . ص ٥٢ (درجتين)  
- رفع العلم الجديد لدولة الكويت .  
- صدور العملة الجديدة الدينار الكويتي .  
- إنشاء المجلس التأسيسي .  
- اجراء أول انتخابات نيابية .  
- افتتاح مجلس الأمة الكويتي .
- (٢) أكتب اثنين من مواد إتفاقية إمتياز التنقيب عن النفط عام ١٩٣٤م. ص ٥١ (درجتين)  
- يمنح الشيخ بموجب الإتفاقية حقاً للشركة للتنقيب عن النفط  
- تحفر الشركة الأرض لإستخراج النفط  
- تتعهد الشركة بأن تدفع للشيخ مبالغ مالية



السؤال الرابع :- يتكون من ( أ ، ب ) :

أ - عرف المفاهيم التالية :

- ١- الكثبان الرملية ص ٢٧ (درجة)
- هي تلال من الرمال تتراكم في الصحاري بفعل الرياح .
- ٢- التصحر ص ٤٧ (درجة)
- هو الإفراط في الرعي وأحد أسباب ظاهرة التصحر .
- ٣- إمتياز التنقيب ص ٥٠ (درجة)
- إعطاء الدولة حق البحث والتنقيب عن النفط وبيعه لشركة أجنبية متخصصة تشارك الدولة في قسط من العائدات المالية لمدة معينة .
- ٤- الإستقلال ص ٥٣ (درجة)
- عبارة عن مسئولية الدولة بصورة مباشرة عن إدارة شؤونها الداخلية والخارجية .

ب - قارن بين خطوط الطول ودوائر العرض حسب الجدول التالي :- ص ١٨ ( ٤ درجات )

وجه المقارنة	خطوط الطول	دوائر العرض
العدد	٣٦٠	١٨٠
الخط الرئيسي	جرينتش	الاستواء

انتهت الأسئلة ،،

