



وزارة التربية  
الإدارة العامة لمنطقة الأحمدية التعليمية  
التوجيه الفني للاجتماعيات

## نموذج الإجابة

امتحان نهاية الفترة الدراسية الأولى  
الصف السادس المتوسط (الكويت ودول الخليج العربية)  
للعام الدراسي ٢٠١٩ / ٢٠٢٠ م

## الإجابة النموذجية

المجال الدراسي : اجتماعيات  
الكتاب : كنفوز  
الرقم : ٥ صفحات  
المرحل : مساهمة وخمس وأربعون

الامتحان يتكون من خمسة أسئلة ، جميعها إجبارية

السؤال الأول : موضوعي يتكون من ( أ- ب ) ( ١٢ نقطة × درجة واحدة = ١٢ درجة )

(أ) أكمل العبارات التالية بما يناسبها مما درست:

- ١- يتصف مناخ منطقة الخليج العربية بأنه صحراوي قاري. ص ٢٥
- ٢- عدد درجات العرض التي تشغلها منطقة الخليج العربية شمال خط الاستواء ١٦ درجة عرضية. ص ١٩
- ٣- نهاية موسم الغوص على اللؤلؤ تسمى القفال. ص ٣٢
- ٤- الرياح الجنوبية الشرقية التي تهب على منطقة الخليج العربي تعرف باسم الكوس. ص ٢٥
- ٥- أعلن قيام مجلس التعاون لدول الخليج العربية في عام ١٩٨١م. ص ٧٠
- ٦- الحرفة التي تعتمد على ما ينمو من نباتات وحشائش بعد سقوط الأمطار هي الرعي. ص ٢٨

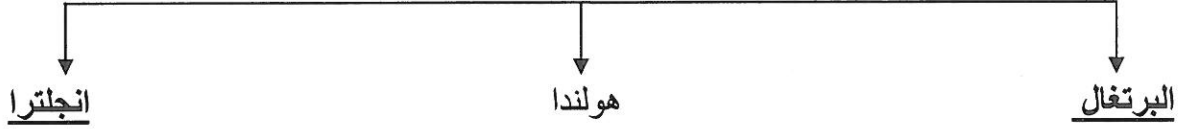
(ب) ضع خطا تحت الخيار الصحيح من بين الخيارات التي تلي كل عبارة:

- ١- من أشهر الحرف التي مارسها أبناء دول الخليج العربية قديما: ص ٣١  
أ- صناعة السفن      ب- صيد الأسماك      ج- الغوص على اللؤلؤ      د- التجارة البحرية
- ٢- تقع منطقة الخليج العربية بالنسبة لقارة آسيا في الجهة: ص ١٩  
أ- الشمالية الغربية      ب- الجنوبية الغربية      ج- الشمالية الشرقية      د- الجنوبية الشرقية
- ٣- هاجر المعاضيد إلى دولة خليجية هي: ص ٥٧  
أ- الكويت      ب- قطر      ج- عمان      د- الإمارات
- ٤- تعتبر جبال الزور من : ص ٢٣  
أ- الجبال      ب- الهضاب      ج- السهول      د- التلال
- ٥- القرن الذي ظهر فيه الإسلام هو: ص ٥٣  
أ- السابع الميلادي      ب- الثامن الميلادي      ج- التاسع الميلادي      د- العاشر الميلادي
- ٦- أصدرت منظمة الأمم المتحدة الإعلان العالمي لحقوق الإنسان عام: ص ٦٤  
أ- ١٩٤٥ م      ب- ١٩٤٦ م      ج- ١٩٤٧ م      د- ١٩٤٨ م

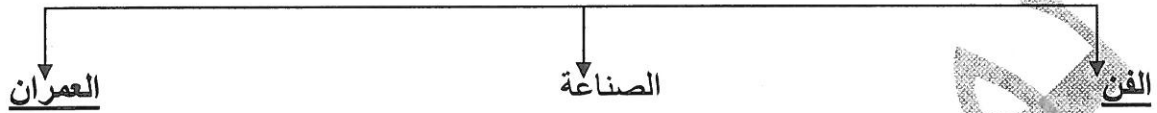
السؤال الثاني : موضوعي يتكون من ( أ - ب ) ( ٢ نقطة × درجة واحدة = ١٢ درجة )

(أ) أكمل الفراغ في المخططات السهمية التالية بما يناسبها مما درست:


١- الدول الاستعمارية الأوروبية التي توالى على الخليج العربي : ص ٦٠



٢- مظاهر الحضارة الإسلامية : ص ٥٥



٣- الأنشطة البرية التي مارسها سكان دول الخليج العربية قديما : ص ٢٨



(ب) صل بين القائمة (أ) وما يناسبها من القائمة (ب) بوضع الرقم المناسب في المكان المناسب: ص ٣٢

الرقم	(أ)	المكان المناسب	(ب)
١	الغواص	٢	ربان السفينة
٢	النوخذة	٤	الصبية الذين يعملون على ظهر السفينة لاكتساب الخبرة
٣	السيب	١	يغوص في أعماق البحر بحثا عن اللؤلؤ
٤	التبابة	٣	يسحب الغاصة من أعماق البحر
٥	النهام	٦	تاجر اللؤلؤ
٦	الطواش	-----	رئيس البحرية
		٥	مطرب السفينة

السؤال الثالث : موضوعي يتكون من ( أ - ب ) ( ١٢ نقطة × درجة واحدة = ١٢ درجة )

(أ) صنف النباتات الطبيعية حسب مكانها الصحيح في الجدول التالي: ص ٢٦

( الصبار - الخبيزة - الحويذان - العرفج - العنصيل - الثندا )

النباتات المعمرة	النباتات الحولية
- الصبار - العرفج - الثندا	- الخبيزة - الحويذان - العنصيل

(ب) لاحظ خريطة شبه الجزيرة العربية الصماء ثم نفذ المطلوب:

أولا : حدد مدلولات الأرقام التالية:

- حضارة دلمون يمثلها على الخريطة الرقم ( ٢ )

ص ٤٩

- الدولة الخليجية التي ظهرت فيها الحضارة

الهينستية يمثلها على الخريطة الرقم ( ١ ) ص ٤٩

- الدولة الخليجية التي يوجد بها الجبل الأخضر

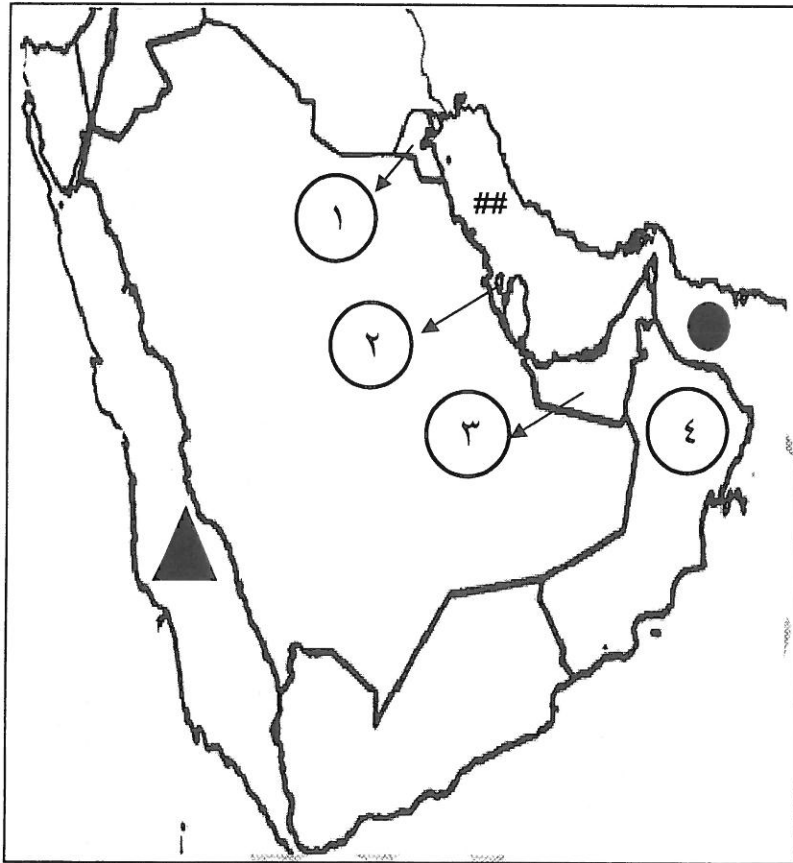
يمثلها على الخريطة الرقم ( ٤ ) ص ٢٣

ثانيا : اكتب مدلولات الرموز التالية: ص ٢٣

- الرمز ## يمثل مسطح مائي يسمى الخليج العربي

- الرمز ▲ يمثل مسطح مائي يسمى البحر الأحمر

- الرمز ● يمثل مسطح مائي يسمى خليج عمان



( ٢ نقطة × درجة واحدة = ١٢ درجة )

السؤال الرابع : مقالي يتكون من (أ - ب)

(أ) عرف المفاهيم التالية:

- ١- نبات حولي : نباتات يرتبط وجودها بموسم سقوط المطر . ص ٢٦
- ٢- هضبة : أرض مرتفعة سطحها مستوي وتمتد مساحة كبيرة ص ٢٣
- ٣- قلاف: هو صانع السفينة ص ٣٣
- ٤- واحة : منطقة تقع في الصحراء فيها مياه عذبة صالحة للزراعة ص ٢٩
- ٥- استعمار: أن تسيطر دولة قوية على دولة ضعيفة بهدف استغلال موقعها ومواردها ص ٦١
- ٦- حضارة : إبداع الإنسان الخليجي وإسهاماته في تطور وتقدم ورقي مجتمعه في جميع نواحي الحياة وحل مشاكله ص ٤٥

(ب) قارن بين معاهدة الحماية ومعاهدة الاستقلال حسب الجدول التالي: ص ٦٢ - ٦٣

معاهدة المقارنة	معاهدة الحماية	معاهدة الاستقلال
السنة	١٨٩٩م	١٩٦١م
أطراف الاتفاقية	بريطانيا / الكويت	بريطانيا / الكويت
الحاكم	الشيخ مبارك الصباح	الشيخ عبدالله السالم الصباح

السؤال الخامس : مقالي يتكون من ( أ - ب ) ( ١٢ نقطة × درجة واحدة = ١٢ درجة )

(أ) علل لما يلي:

- ١- انصرف سكان منطقة الخليج العربية عن حرفة الغوص على اللؤلؤ . ص ٣١
  - ظهور اللؤلؤ الصناعي .
  - اكتشاف النفط .
- ٢- كانت حياة السكان في البيئة الصحراوية لدول الخليج العربية قاسية وخشنة . ص ٢٧
  - فقر البيئة .
  - قلة الموارد المائية مما ترتب عليه فقر النباتات والحيوانات .
- ٣- توفر النباتات المعمرة طول العام في دول الخليج العربية . ص ٢٦ (يكتفي بنقطتين)
  - بسبب جذورها الطويلة \ تتحمل الجفاف \ قلة أوراقها
  - قدرتها العالية على تخزين المياه \ كثرة الأشواك فيها

(ب) اكتب فيما يلي:

- ١- الهيكل التنظيمي لمجلس التعاون لدول الخليج العربية . ص ٧٠ (يكتفي بنقطتين)
  - المجلس الأعلى يتكون من قادة الدول الأعضاء \ الأمانة العامة تتكون من الأمين العام ، السكرتارية .
  - المجلس الوزاري يتكون من وزراء الخارجية للدول الأعضاء أو من ينوب عنهم .
- ٢- السمات والصفات المشتركة لسكان دول مجلس التعاون الخليجي . ص ٧٠ (يكتفي بنقطتين)
  - المصالح المشتركة \ الدين الإسلامي
  - وحدة التراث \ وحدة الانتماء
- ٣- العوامل المؤثرة في نشأة الحضارات بمنطقة الخليج العربية . ص ٥١ (يكتفي بنقطتين)
  - الموقع المتميز \ ملائمة البيئة الطبيعية للاستقرار وقيام الحضارات
  - توفر مياه الشرب