



١٢٠



وزارة التربية
الإدارة العامة لمنطقة الفروانية التعليمية
التوجيه الفني للاجتماعيات

مقرر / الكويت والوطن العربي

زمن الإجابة: ساعة ونصف

عدد الأوراق : (٦)

امتحان نهاية الفترة الدراسية الأولى
(الصف السابع)
للعام الدراسي (٢٠١٩ / ٢٠٢٠ م)
نموذج الإجابة

أجب عن جميع الأسئلة التالية :-

السؤال الأول (موضوعي) ويتكون من (أ - ب - ج - د - هـ - و) : (لكل إجابة درجة)

أ) صوب ما تحته خط في العبارات التالية :-

- ١- أكثر الأشكال التضاريسية انتشاراً في الوطن العربي تسمى التلال . ← الهضاب ص ٤٠
- ٢- الرياح المحلية التي تهب على جمهورية مصر العربية تسمى الطوز . ← الخماسين ص ٤٨
- ٣- موقع الدولة بالنسبة لليابسة والماء يسمى الموقع الفلكي . ← النسبي ص ٣٣
- ٤- مسطح مائي تحيط به اليابسة من جميع الاتجاهات يسمى النهر . ← البحيرة ص ٦٠
- ٥- أشهر ممالك اليمن القديمة وورد ذكرها في القرآن الكريم هي معين . ← سبأ ص ٨٦
- ٦- نزلت الديانة اليهودية على سيدنا موسى عليه السلام وكتابتها الإنجيل . ← التوراة ص ٩٠

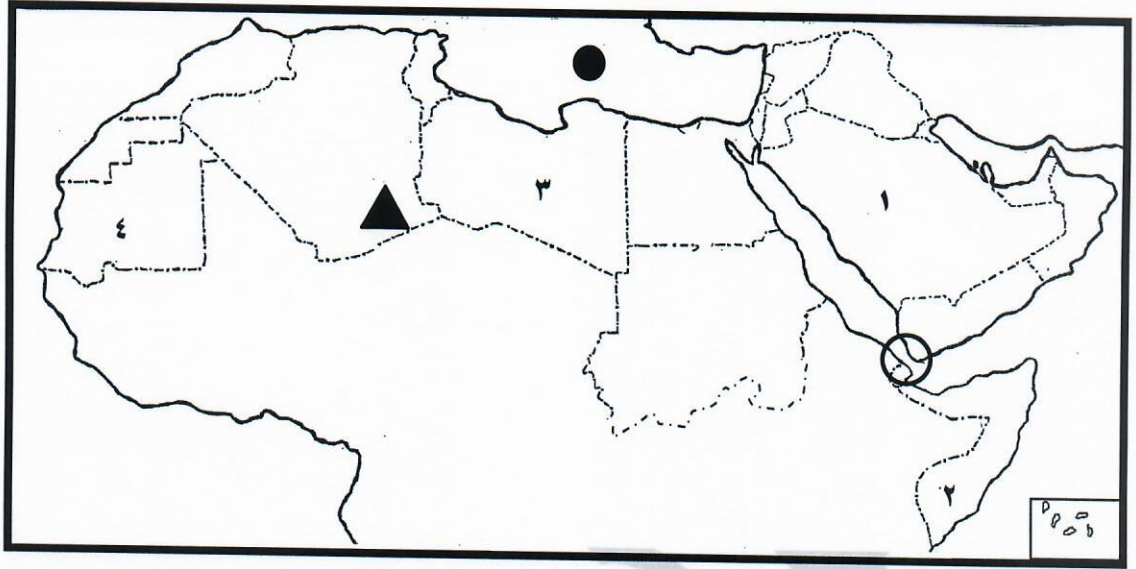
ب) صنف الأسماء الواردة ما بين القوسين بمكانها الصحيح في الجدول التالي :

[نجد - النيل - عسير - الشطوط - مره - دجلة]

هضاب ص ٤٠	جبال ص ٣٨	أنهار ص ٤٢
الشطوط	عسير	النيل
نجد	مره	دجلة

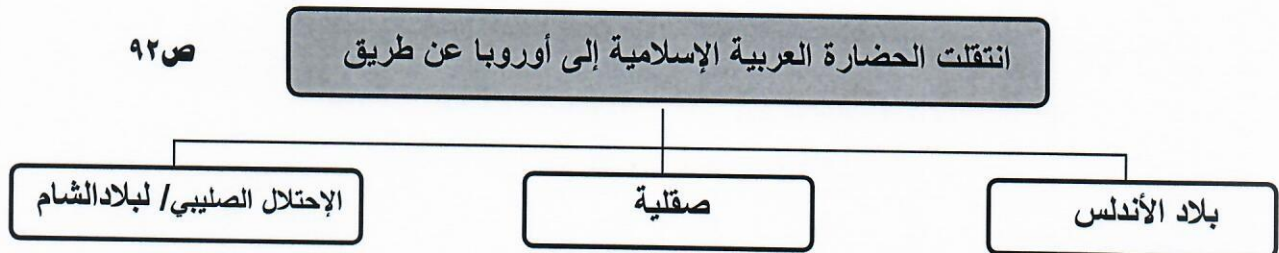
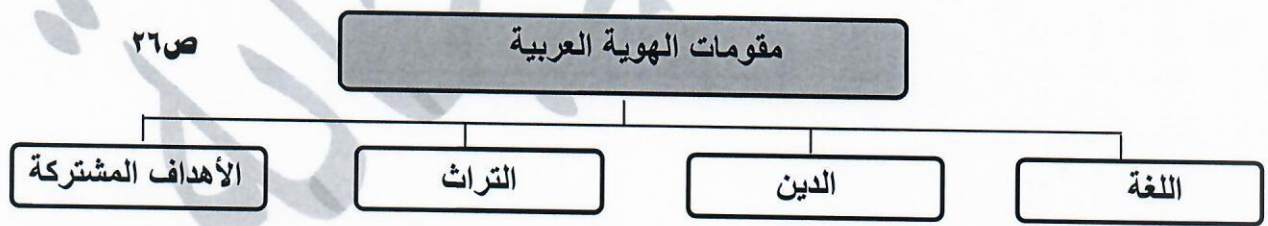
تابع السؤال الأول :

ج) لاحظ خريطة الوطن العربي ثم أجب عن الأسئلة التي تليها :



- الشكل (▲) يرمز إلى جبال تسمى (الأحجار)..... ص ٣٨
- الشكل (●) يرمز إلى مسطح مائي يسمى ... (البحر المتوسط) ص ٣٨
- الرقم (١) يمثل على الخريطة دولة عربية تسمى (المملكة العربية السعودية) ص ٣٣
- الدولة العربية التي يمر بها خط الإستواء يمثلها على الخريطة الرقم (٢) ص ٣٢
- الشكل (○) يمثل مضيق يسمى (باب المنذب) ص ٢٩

د) أكمل المخططات السهمية التالية :



تابع السؤال الأول :

هـ) اكتب المفهوم أو المصطلح الدال على العبارات التالية :-

المفهوم أو المصطلح	التعريف
النبات الطبيعي	النبات الذي ينمو تلقائياً عقب سقوط المطردون تدخل من الإنسان . ص ٥١
السهول الساحلية	نوع من أنواع السهول تتكون من الأراضي المنبسطة التي تجاور سواحل البحار والمحيطات . ص ٤٢
الوطن العربي	مجموعة من الدول العربية التي يجمعها عدد من السمات المشتركة ويمتد ضمن قارتين . ص ٢٢
المياه الجوفية	المياه التي توجد في جوف الأرض (باطن الأرض) . ص ٦٠

و) اختر الإجابة الصحيحة من بين البدائل التي تلي كل عبارة بوضع خط تحتها :-

- ١- اسم "أوال" أطلق قديماً قبل الفتح الإسلامي على :
 (العراق - اليمن - مصر - البحرين) ص ٨٨
- ٢- كل ما ارتفع من الأرض وله قمة لا يقل ارتفاعها عن ١٠٠٠ متر :
 (التل - الوادي - الجبل - الهضبة) ص ٣٨
- ٣- تمثل نسبة مساحة الوطن العربي بالنسبة لمساحة العالم حوالي :
 (١٠% - ٢٠% - ٣٠% - ٤٠%) ص ٢٣
- ٤- عرفت الكتابة " الهيروغليفية " عند حضارة :
 (بلاد الرافدين - بلاد الشام - دلمون - مصر القديمة) ص ٧٧
- ٥- نزل القرآن الكريم على سيدنا محمد ﷺ - عام :
 (٦٠٠ م - ٦١٠ م - ٦٢٠ م - ٦٣٠ م) ص ٩٠

السؤال الثاني : يتكون من : [أ ، ب]

أ) عدد لكل مما يلي : ٦ درجات (يكتفى بنقطتين فقط)

درجتان ص ٧٥

- ١- العوامل التي ساعدت على قيام الحضارة المصرية القديمة .
 - تنوع الصخور والمعادن .
 - امتداد الصحراء .
 - نهر النيل .
 - اعتدال المناخ وجفافه .

ص ٥٥

٢- أهم الحيوانات السائدة في المناطق الصحراوية في الوطن العربي . (ما يراه المصحح مناسب) درجتان

- الإبل .. الماعز .. الضب .. الأرناب البرية
- أنواع من الطيور كالصقور والبوم والحبارى
- أنواع من الحشرات كالجراد والعقارب والخنافس .
- الزواحف كالأفاعي والحيوانات القارضة كالفتران والجربوع .

ص ٥٩

درجتان

٣- صفات المطر في الوطن العربي .

- تذبذب كمية المطر بين عام وآخر / كما أنها تسقط في أيام معدودة .
- الأمطار في الوطن العربي تقتصر على الأطراف الشمالية والجنوبية منها .
- تتصف بأنها قليلة بصفة عامة (ما عدا مناطق الجبال) .

ب) فرق بين كل مما يلي : (٤ درجات / لكل تعريف درجة)

ص ٢٨	المضيق	ص ٢٨	القناة
	ممر مائي ضيق يصل بين بحرين أو محيطين أو أي مساحتين كبيرتين نسبياً من الماء .		مجرى مائي صناعي ضيق يشق لأغراض الري أو النقل
ص ٤٤	المناخ	ص ٤٤	الطقس
	حالة الجو خلال فترة زمنية طويلة من حيث درجة الحرارة والرطوبة والأمطار .		حالة الجو لمدة قصيرة تتراوح بين يوم أو عدة أيام من حيث درجة الحرارة والرطوبة والأمطار والرياح والضغط الجوي .

السؤال الثالث : ويتكون من (أ - ب) :

أ) اقرأ الفقرة التالية ثم أجب عن الأسئلة التي تليها : (٦ درجات)

" تمتاز حضارة بلاد الرافدين بموقع ممتاز وبخصوبة تربتها ووفرة مياهها العذبة . وقد قامت فيها حضارات متتالية اشتهرت بالتقدم والرقي بما قدمته للإنسانية من إنجازات كثيرة " .

١- عرف ما تحته خط في الفقرة السابقة .

- **حضارة :** كل ما يطرأ على المجتمع من تقدم وتطور ورقي في جميع نواحي الحياة الدينية والسياسية والاقتصادية والاجتماعية والفكرية .
(درجة) ص ٧١

٢- استخرج من الفقرة السابقة العوامل التي ساعدت على قيام الحضارة في بلاد الرافدين . (٣ درجات) ص ٧٩

- الموقع الممتاز - خصوبة التربة - وفرة المياه العذبة

٣- اذكر أسماء **اثنين فقط** من الحضارات التي قامت في بلاد الرافدين . (درجتين) ص ٧٩-٨٠


- السومريون / الأكاديون / الكلدانيون / البابليون / الآشوريون .

ب) قارن بين كل من : (٤ درجات) ص ٥٢

أوجه المقارنة	الحشائش الحارة (السافانا)	الحشائش المعتدلة (الأستبس)
التعريف	- حشائش طويلة يختلف نوعها حسب كمية الأمطار . درجة	- حشائش قصيرة نوعاً ما تنمو في الشتاء خلال موسم سقوط الأمطار . درجة
الحيوانات التي تربي عليها (يكتب بـمنال واحد فقط)	تربي عليها الماشية درجة	الأغنام / الإبل / الخيول / الحمير درجة

السؤال الرابع : ويتكون من (أ - ب) :

أ) لاحظ الصورة التي أمامك ثم أجب الأسئلة التالية :



- ١- ما اسم النبات في الصورة المقابلة ؟
- نبات الصبار / نبات صحراوي (درجة) ص ٥٤
- ٢- عدد الوسائل التي تتخذها النبات الصحراوية لمقاومة الجفاف .
- جذورها طويلة (٣ درجات) ص ٥٢
- القدرة على خزن المياه . (ما يراه المصحح مناسب)
- تحمي نفسها بلحاء سميك وأوراق إبرية .

ب) اكتب فيما يلي : (يكتفى بنقطتين)

- ١- مصادر المياه في الوطن العربي .
- مياه الأنهار
- الأمطار / الأفلاج
- البحيرات / مياه البحار / المحيطات / الخلجان
- المياه الجوفية (درجتان) ص ٥٧
- ٢- العوامل التي تؤثر في مناخ الوطن العربي .
- الموقع بالنسبة لدوائر العرض
- القرب او البعد عن المسطحات المائية
- الرياح
- التضاريس (درجتان) ص ٤٦
- ٣- الطرق التي نستطيع من خلالها المحافظة على ثروة المياه وتخفيف مشكلتها .
- ترشيد استخدام المياه و الحد من التبذير في المنازل .
- الحد من هدر المياه في الري باستخدام الطرق الحديثة (الرش بالتنقيط والمحوري)
- الاستفادة من المياه الجوفية ، ومنع تسرب الأملاح الملوثة إليها .
- تطوير استعمال مياه الصرف الصحي المعالجة في الزراعة .
- إقامة البحيرات والسدود لتجميع مياه الأمطار والسيول والاستفادة منها في فصل الجفاف .
- توقيع اتفاقيات مع الدول المشاركة ودول المنبع لتحقيق المصالح المشتركة بين الدول العربية . (درجتان) ص ٦٣