

منطقة حولي التعليمية

اختبار نهاية الفترة الدراسية الثانية

العام الدراسي 2019/2018م

الصف السابع

نموذج إجابة اختبار مادة

الاجتماعيات

الاختبار الأساسي



وزارة التربية
الإدارة العامة لمنطقة حولي التعليمية
التوجيه الفني للاجتماعيات

امتحان الفترة الدراسية الثانية
لمقرر الكويت والوطن العربي
الصف السابع (نموذج الاجابة)

العام الدراسي : ٢٠١٨ / ٢٠١٩ م
الزمن : ساعة وخمس وأربعون دقيقة
عدد الأوراق : ٥

السؤال الأول موضوعي ويتكون من (أ - ب - ج - د - هـ - و) :

أ - أكمل العبارات التالية بما يناسبها مما درست : (٦ درجات)

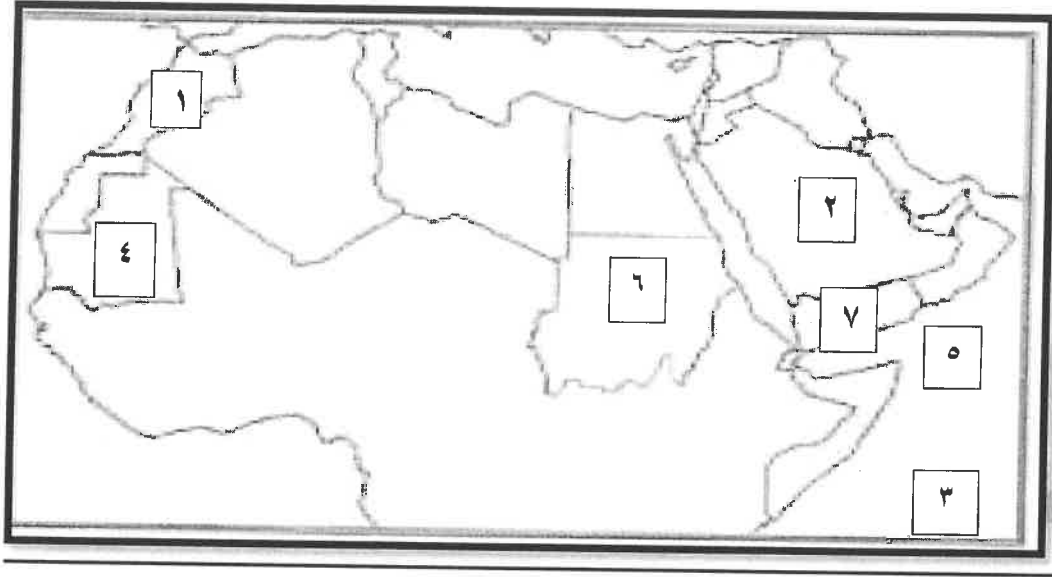
- ١- تقع المنظمة العربية للتنمية الزراعية في دولة اسمها الكويت ص ١٨٢
 - ٢- تأسس الصندوق الكويتي للتنمية الاقتصادية العربية في عهد شيخ أسمه عبد الله السالم الصباح ص ١٨٤
 - ٣- الدولة العربية الأولى في إنتاج التمور اسمها السعودية ص ١١٤
 - ٤- عملية التطور والتطوير وتتطلب التخطيط والمشاركة من الجميع تسمى التنمية ص ١٧٢
 - ٥- الفرق بين معدل المواليد ومعدل الوفيات يسمى الزيادة الطبيعية ص ١٠٦
 - ٦- تحتل موريتانيا المرتبة الأولى عربياً في إنتاج معدن يسمى الحديد ص ١٣٢
- ب- اختر الإجابة الصحيحة من بين البدائل التي تلي كل عبارة مما يلي وضع تحتها خط : (٦ درجات)
- ١- الدولة التي تحتل المركز الأول في إنتاج القمح (السعودية - سوريا - مصر - المغرب) ص ١١٤
 - ٢- يبلغ عدد الدول الأعضاء المؤسسين لمنظمة جامعة الدول العربية (٦ - ٧ - ٨ - ٩) ص ١٧٨
 - ٣- ترتيب دولة الكويت بين الدول العربية في إنتاج النفط لعام ٢٠١٤ م (الأول - الثاني - الثالث - الرابع) ص ١٢٩
 - ٤ - أكثر دول الوطن العربي سكاناً (الجزائر - مصر - السودان - السعودية) ص ١٠٠
 - ٥ - عقد مؤتمر قمة الأرض لمواجهة مشكلة التلوث البيئي في (اسبانيا - ألمانيا - البرازيل - فرنسا) ص ١٦٧
 - ٦- الدولة العربية الأولى في إنتاج الغاز الطبيعي لعام ٢٠١٤ م (مصر - العراق - السعودية - قطر) ص ١٢٩



د- اختر للقائمة (أ) ما يناسبها من القائمة (ب) بوضع الرقم المناسب: (٥ درجات)

الرقم	القائمة (أ)	الرقم المناسب	القائمة (ب)
١	النفط والغاز والفحم	٣	صناعات حرفية (١٤٣)
٢	الصناعات الغذائية	٥	صناعات تعدينية (١٤١)
٣	صناعة السجاد	٤	صناعات تجميعية (١٤٣)
٤	تجميع قطع السيارات	١	صناعات استخراجية (١٤١)
٥	تنقية الخامات المعدنية وتحويلها الى صفائح صالحة للصناعة	٢	صناعات تحويلية (١٤٢)

تابع/نموذج اجابة امتحان مقرر الكويت والوطن العربي للصف السابع / الفترة الدراسية الثانية / العام الدراسي ٢٠١٨ - ٢٠١٩ م
هـ- لاحظ خريطة الوطن العربي الصماء التي أمامك ثم نفذ المطلوب منك في ما يلي : (٦ درجات)



- المحيط الهندي يشير إليه الرقم (٣) ص ١٣٣

- الدولة العربية الأولى في إنتاج معدن النحاس يشير إليها الرقم (١) ص ١٣٣

- الدولة العربية الأولى في إنتاج معدن الحديد يشير إليها الرقم (٤) ص ١٣٣

- بحر العرب يشير إليه الرقم (٥) ص ١٣٣

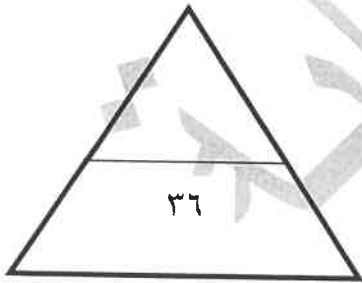
- الدولة العربية الأولى في إنتاج النفط يشير إليها الرقم (٢) ص ١٢٩

- الدولة العربية الأولى في إنتاج البن يشير إليها الرقم (٧) ص ١١٤

(و) صنف الغلات التالية حسب الجدول : (٧ درجات) ص ١١٤

(العنب - التمر - قصب السكر - الموالح - البن - الموز - القطن)

الفواكه والأشجار	الغلات الصناعية
العنب	قصب السكر
التمر	البن
الموالح	القطن
الموز	



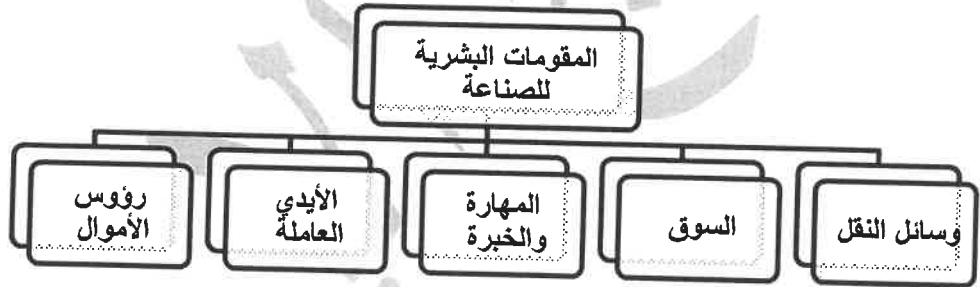
أ- فرق بين كل مما يلي في الجدول التالي : (٤ درجات)

التجارة البينية ص ١٥٢	التبادل التجاري ص ١٥١
التبادل التجاري بين الدول العربية	عمليات التصدير والاستيراد بين الدول
الهجرة الداخلية ص ١٠٦	الهجرة الخارجية ص ١٠٦
من القرى إلي المدن	من دولة إلي دولة أخرى

ب- علل لما يلي (اذكر السبب) : (٤ درجات)

- ١- تدني وفرة المياه في الوطن العربي. ص ١٦٤
 - النمو السريع للسكان الذي يشكل ضغطا متزايدا على المياه المتوفرة لكل فرد.
 - ٥٠% من الموارد في العالم العربي تأتي من خارج حدوده .
 - الطرق التقليدية المستخدمة في استغلال المياه في معظم مناطق العالم العربي مسؤولة عن تدني نسبة المياه .
 - الشبكات المؤهلة لنقل المياه شبكات قديمة.
 - افتقار الدول العربية الى برامج لإدارة المياه .
- ٢- التصحر في الوطن العربي . ص ١٦٢
 - أسباب طبيعية
 - أسباب بشرية

ج- صمم مخطط سهمي للمقومات البشرية للصناعة : (٤ درجات) (درجة للتصميم وثلاث درجات لثلاث مقومات)
ص ١٣٩



أ - أكتب فيما يلي : (٤ درجات)

- ١- المشكلات التي تواجه التنمية البشرية .ص ١٧٥
- ضعف الاستفادة من القدرات البشرية - مشكلة الأمية
- نقص ومحدودية مشاركة المرأة في المنظمات السياسية
- الاختلاف الكبير في مستويات المعيشة .
٢- أهداف الصناعات البتروكيميائية . ص ١٤٥
- تنوع مصادر الدخل للدولة المنتجة - توفير المواد الأولية للصناعات التحويلية
- تطوير الصناعات البتروكيميائية الى تقنيات متخصصة وعالية .

ب - فرق بين كل مما يلي : (٤ درجات)

الموارد البشرية ص ١٠٩ التي ترتبط بالسكان من حيث أعدادهم وتوزيعهم ومناسبة أعدادهم لمساحة الأرض التي يستغلونها	الموارد الطبيعية ص ١٠٩ الثروات التي منحها الله لإقليم دون أن يكون للإنسان أي دور في وجودها
الغلات الصناعية والتجارية ص ١١٣ وتشمل الغلات التي تدخل في الصناعة وتزرع بغرض التجارة والحصول على النقد ولذلك تسمى (الغلات النقدية)	الحبوب الغذائية ص ١١٣ تعد من أهم المزروعات في الوطن العربي حيث تشغل مساحة كبيرة من الأراضي الزراعية

ج - اقرأ الفقرة التالية ثم أجب عما يليها من أسئلة : (٤ درجات)

- ((يمتلك الوطن العربي أعدادا متنوعة من الثروة الحيوانية التي تساهم في موارد الدخل لكثير من الدول العربية ، ومن الأمثلة عليها الثروة الرعوية وتربية الدواجن والطيور ، والثروة المائية))
- ١- ضع عوانا مناسباً للفقرة ؟ الثروة الحيوانية في الوطن العربي ، أو ما يراه المصحح . (درجة واحدة) ص ١١٧
 - ٢- استخرج من الفقرة نوعان من أنواع الثروة الحيوانية في الوطن العربي ؟ (درجتان) ص ١١٧
الثروة الرعوية - تربية الدواجن والطيور - الثروة المائية
 - ٣- علل ... تحتل الأغنام العربية مكانا مهما ضمن الثروة الرعوية . (درجة واحدة) (يكتفى بنقطة واحدة) ص ١١٨
- الأكثر انتشارا في المراعي العربية - أكثر الحيوانات المستأنسة والملائمة لمراعي الوطن العربي وذلك لتحملها للجفاف
- لأهمية منتجاتها بالنسبة للسكان - لأنها مصدر أساسي من مصادر الثروة القومية .

انتهت الأسئلة مع تمنياتنا لكم بالتوفيق والنجاح