



العام الدراسي: ٢٠١٨/٢٠١٩
الزمن: ساعة ونصف
عدد الأوراق: (٦)

امتحان نهاية الفترة الدراسية الثانية
للصف السابع
الكويت والوطن العربي

وزارة التربية
الإدارة العامة لمنطقه الجھراء التعليمية
التوجيه الفني للاجتماعيات

أجب عن جميع الأسئلة التالية :-

السؤال الأول: (موضوعي) يتكون من (أ - ب - ج - د - هـ - و) :- (لكل سؤال درجة)
أ) ضع خطأ تحت الخيار الصحيح من بين الخيارات التي تلي كل عبارة :-

١ - من الغلات الصناعية التجارية : ص ١١٣

(البن) - العنب - التمور - الشعير)

٢ - أولى الدول العربية في إنتاج الموز : ص ١١٤

(مصر) - الصومال - السودان - المغرب)

٣ - أكثر أنواع الثروة الحيوانية انتشارا في منطقة الوطن العربي : ص ١١٨

(الأبقار) - الماعز - الأغنام - الإبل)

٤ - من المقومات البشرية للصناعة : ص ١٣٩

(البترول) - الغاز الطبيعي - رؤوس الأموال - المحاصيل الزراعية)

٥ - تبلغ نسبة احتياطي النفط الخام في دول الوطن العربي : ص ١٢٧

(١٦.٥% - ٢٧.٥% - ٣٠% - ٥٥%)

ب) أكتب المفاهيم أو المصطلحات الدالة على العبارات التالية :-

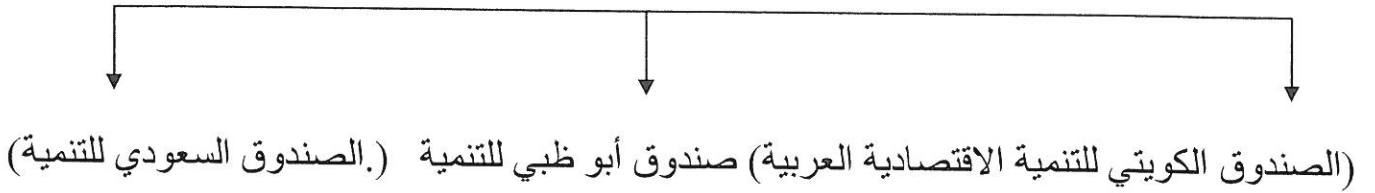
م	المفهوم	العبارة
١	إحصاء الحيوي	تسجيل المواليد والوفيات وحالات الزواج والطلاق ونحصل على بياناتها من واقع السجلات الرسمية للدولة . ص ٩٩
٢	طاقة	قوى محركة للألات وعنصر مهم للتقدم والتطور الاقتصادي في جميع المجالات . ص ١٢٥
٣	تبادل التجاري	عملينا التصدير والاستيراد بين الدول . ص ١٥١
٤	تصحّر	زحف رمال الصحراء على المناطق الجافة وشبه الجافة . ص ١٦٢
٥	تنمية المستدامة	برامج تحسين نوعية الحياة ولا تتحقق إلا بمشاركة جميع المواطنين . ص ١٧٥

ج) أكمل العبارات التالية بما يناسبها فيما درست :-

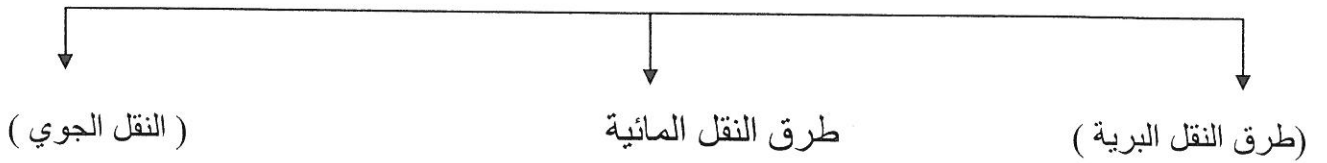
- ١ - الدولة العربية الأكثر سكانا حسب إحصائية عام ٢٠١٤ م تسمىمصر.....ص ١٠٠
- ٢ - تبلغ نسبة المساحة المزروعة في الوطن العربي٥٦..... % ص ١١٦
- ٣ - الدولة العربية الأولى في إنتاج الإبل تسمىالصومال..... ص ١١٨
- ٤ - تبلغ نسبة إنتاج الغاز الطبيعي في دول الوطن العربي١٦.٥.....% ص ١٢٧
- ٥ - الدولة العربية التي عقد فيها أكبر وأهم مؤتمر للقمة العربية عام ٢٠٠٩ م تسمى ...الكويت... ص ١٨٦

د) أكمل المخطط السهمي التالي :-


١ - أهم الصناديق الوطنية (على مستوى الدول العربية) ص ١٧٩



٢ - أنواع طرق النقل ص ١٤٨ - ١٥٠



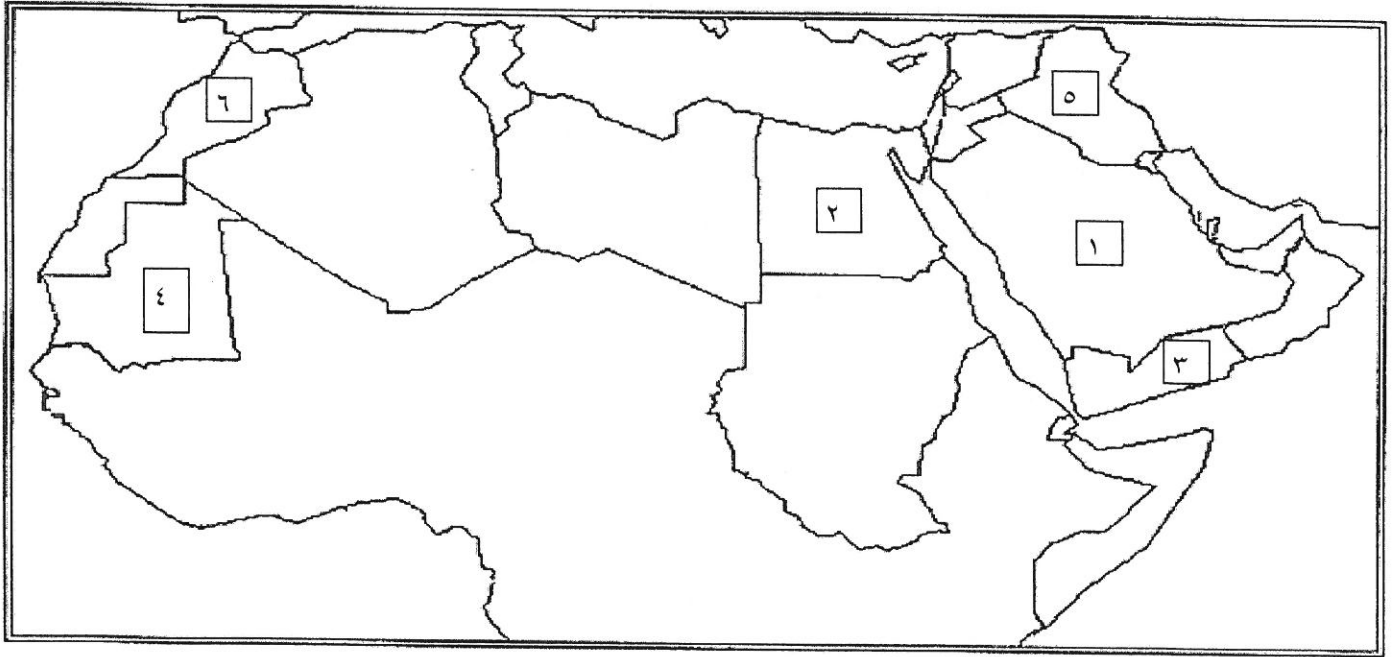
٣ - أسباب التصحر



هـ) صوب ما تحته خط في العبارات التالية :-

التصويب	العبرة
الحبوب الغذائية	١ - يعتبر القمح والأرز والذرة من <u>الغلات الصناعية التجارية</u> . ص ١١٣
السودان	٢ - أولى الدول العربية في نسبة إنتاج الأبقار <u>مصر</u> . ص ١١٨
متجددة	٣ - تعد الرياح والشمس من مصادر الطاقة <u>الغير المتجددة</u> . ص ١٧١
١٩٨١م	٤ - أعلن قيام مجلس التعاون الخليجي في ٢٥ مايو عام <u>١٩٨٨</u> م . ص ١٨١
الكويت	٥ - عقد المؤتمر الدولي للمحتاجين لدعم الوضع الإنساني في سوريا في <u>سلطنة عمان</u> . ص ١٨٨

و) أمامك خريطة صماء للوطن العربي نفذ المطلوب عليها :-



حدد على خريطة الوطن العربي الصماء ما يلي :-

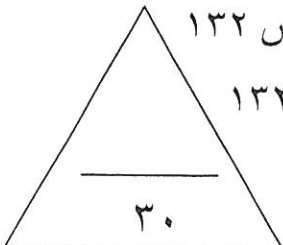
- الدولة العربية الأولى في إنتاج البن يمثلها على الخريطة الرقم٣..... ص ١١٤

- الدولة العربية الأولى في إنتاج التمور يمثلها على الخريطة الرقم١..... ص ١١٤

- الدولة العربية الأولى في إنتاج الأسماك يمثلها على الخريطة الرقم.....٢.....ص ١٢٣

- الدولة العربية الأولى في إنتاج معدن الحديد يمثلها على الخريطة الرقم.....٤.....ص ١٣٢

- الدولة العربية الأولى في إنتاج معدن الفوسفات يمثلها على الخريطة الرقم.....٦.....ص ١٣٢



السؤال الثاني: (مقال) يتكون من (أ - ب - ج) :-

أ) اقرأ الفقرة التالية ثم أجب عن الأسئلة التي تليها: - (لكل سؤال درجة) ص ١٦٦ / ص ١٦٧

" التلوث البيئي من أهم وأخطر المشاكل التي تواجه شعوب العالم اليوم ، حيث عقد أكبر مؤتمر للأمم المتحدة في مدينة ريودي جانيرو بالبرازيل عام ١٩٩٢ م ، ويصيب التلوث عناصر البيئة من عدة مصادر للملوثات منها صناعية وزراعية ومنزلية "

١ - عرف ما تحته خط . ص ١٦٦

التلوث : هو الضرر الذي يلحق بالتربة والهواء والماء ويصيب التلوث عناصر البيئة من عدة مصادر للملوثات .

٢ - استخرج من القطعة ما يلي :-

أ - المدينة التي عقد فيها أكبر مؤتمر للأمم المتحدة لمواجهة مشكلة التلوث . ص ١٦٧
ريودي جانيرو

ب - مصادر الملوثات . (يكتفى بعاملين) ص ١٦٦

- صناعية .
- زراعية .
- منزلية .
وكذلك الملوثات الصادرة عن البقايا الصلبة وتراكم النفايات والمواد البلاستيكية .

ب) عدد أهداف كل من :- (درجتين لكل سؤال)

١ - الصناعات البتروكيميائية . (يكتفى بنقطتين) ص ١٤٥

- تنويع مصادر الدخل للدولة المنتجة .
- توفير المواد الأولية للصناعات التحويلية لتأمين حاجات القطاعات الاستهلاكية (خاصة مجال البناء) .
- تطوير الصناعات البتروكيميائية إلي تقنيات متخصصة وعالية .

٢ - التنمية الاقتصادية . ص ١٧٤

- استخدام العلم في زيادة الإنتاج .
- تحقيق التكامل بين الدول العربية في الإمكانيات والحاجات .

ج) عرف المفاهيم التالية :- (درجة لكل سؤال)

١ - تنمية . ص ١٧٢

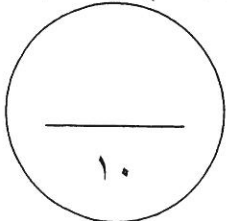
التطور والتطوير وهي عملية تتطلب التخطيط والمشاركة من الجميع .

٢ - صناعات تجميعية . ص ١٤٣

عملية تركيب وجمع المواد المصنعة على اختلاف مصادرها كي نحصل على سلع متنوعة .

٣ - نمو سكاني . ص ١٠٦

تزايد عدد السكان من عام لآخر نتيجة للزيادة الطبيعية للسكان (معدل المواليد - معدل الوفيات) والهجرة .



السؤال الثالث (مقال) يتكون من (أ - ب - ج) :-

أ) فرق بين كل من :-

موارد بشرية (درجة) ص ١٠٩	موارد طبيعية (درجة) ص ١٠٩
هي التي ترتبط بالسكان من حيث أعدادهم وتوزيعهم ومناسبة أعدادهم لمساحة الأرض التي يستغلونها .	الثروات التي منحها الله لإقليم من دون أن يكون للإنسان أي دور في وجودها . مثل : الثروات المعدنية والغابات والمراعي والموارد المائية وموقع الإقليم .
غاز طبيعي (درجة) ص ١٢٥	نفط (درجة) ص ١٢٥
غاز مصاحب للنفط الخام أو يوجد منفردا تتم إيسالته لاستخدامات عديدة .	بقايا عضوية على هيئة نباتات وحيوانات دقيقة ترسبت في عصور قيمة وانطمرت وتحولت بالضغط والحرارة إلى صورتها الحالية .

ب) عدد المشكلات التي تواجه كل من :- (لكل سؤال درجتين)

١ - التنمية البشرية . (يكتفى بنقطتين) ص ١٧٥

- ضعف الاستفادة من القدرات البشرية في المنطقة العربية .
- مشكلة الأمية .
- نقص ومحدودية مشاركة المرأة في المنظمات السياسية .
- الاختلاف الكبير في مستويات المعيشة بين دولة وأخرى وفي داخل الدولة الواحدة .

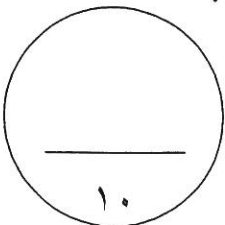
٢ - الزراعة . (يكتفى بنقطتين) ص ١٦١

- عدم استغلال الأراضي القابلة للزراعة لندرة مياه الري أو تذبذب الأمطار أو قلة الأيدي العاملة .
- اتباع طرق الزراعة التقليدية في معظم أجزاء الوطن العربي .
- زحف الرمال (التصحر) وانجراف التربة .
- تلوث التربة نتيجة للإسراف في استخدام المبيدات الحشرية وارتفاع نسبة الملوحة بالتربة .
- الرعي الجائر .

ج) علل لما يلي :- (درجة لكل سؤال)

- ١ - تختلف أنواع منتجات الإنتاج الزراعي من دولة عربية لأخرى . ص ١١٠
- بسبب اختلاف المناخ والتربة ومدى توفر المياه في هذه الدول .

- ٢ - يتمتع النفط بمكانة مهمة على المستوى العالمي . ص ١٣١
- نظرا لأهميته للدول الصناعية المتقدمة في أوربا واليابان والولايات المتحدة الأمريكية .



السؤال الرابع (مقال) يتكون من (أ - ب - ج) :-
(أ) قارن بين كل من :- (٣ درجات) ص ١٣٤ / ١٣٥

أوجه المقارنة	أوبك	أوابك
التعريف	منظمة الدول المصدرة للنفط	منظمة الأقطار العربية المصدرة للنفط
سنة التأسيس	١٩٦٠ م	١٩٦٨ م
المقر	فيينا	الكويت

ب) أذكر ما يلي :-

- ١ - أسباب تدني وفرة المياه في الوطن العربي . (يكتفى بنقطتين) ص ١٦٤ (درجتين)
- النمو السريع للسكان الذي يشكل ضغطاً متزايداً على المياه المتوفرة لكل فرد .
- ٥٠% من الموارد المائية في العالم العربي تأتي من خارج حدوده وتتحكم فيها دول المنبع في غياب التشريعات دولية تضمن حقوقنا .
- الطرق التقليدية المستخدمة في استغلال المياه في معظم مناطق العالم مسؤولة عن تدني نسبة المياه (استخدام الري بالغمر والاستهلاك غير المسؤول في مجالات المياه)
- الشبكات المؤهلة لنقل المياه شبكات قديمة .
- افتقار الدول العربية إلى برامج لإدارة المياه كما أنها لا تستخدم الأدوات الاقتصادية اللازمة لترشيد الاستخدام المتزايد من المياه .

- ٢ - أهداف القمة الاقتصادية للتنمية العربية . (يكتفى بنقطتين) ص ١٨٦ (درجتين)
- إنشاء بنك عربي لتمويل شتى المشاريع التنموية للتقليل من معدلات الفقر .
- القضاء على البطالة والفقر بتوفير فرص العمل .
- الاستثمار الاقتصادي بين الدول العربية وتقوية التبادل التجاري .
- الاعتناء بالعنصر البشري والتنمية المستدامة .

- ٣ - المناطق الرئيسية التي يتركز فيها معظم الحقول النفطية في الوطن العربي . (يكتفى بنقطتين)
ص ١٢٦ (درجة)

- منطقة دول الخليج وسهول دجلة والفرات ويوازي إنتاجها ٨٠% .
- منطقة الصحراء البرية ويوازي إنتاجها ١٨% .
- منطقة خليج السويس ويوازي إنتاجها ٤,٧% .

ج) نفذ ما بين القوسين :- (لكل سؤال درجة)

- ١ - الزيادة السكانية . (انواعها) . ص ١٠٦

- زيادة طبيعية .
- زيادة غير طبيعية .

- ٢ - تنوع الثروة المائية في الوطن العربي . (علل) . ص ١٢٢

دول الوطن العربي دول بحرية لها سواحل ومسطحات مائية واسعة منها المالحة ومنها العذبة .

" انتهت الإجابة "



أجب عن جميع الأسئلة التالية :

أولاً : الأسئلة الموضوعية :

السؤال الأول: ويتكون من (أ - ب - ج - د - هـ - و) : (لكل نقطة درجة)

أ- أكمل العبارات التالية بما يناسبها فيما درست:

١- يمتد الوطن العربي بين قارتي آسيا وقارة تسمى أفريقيا ص ٢١

٢- الحضارة التي تميزت بوجود الأهرامات تسمى المصرية ص ٧٧

٣- معدل النمو السكاني في الوطن العربي يبلغ حوالي ٢,٢٠ ص ١٠٦

٤- الدولة العربية الأولى في إنتاج الغاز الطبيعي تسمى قطر ص ١٢٩

٥- الغلات التي تزرع بعروض التجارة تسمى الغلات النقدية ص ١١٣

ب- ضع خطأ تحت الخيار الصحيح من بين الخيارات التي تلي كل عبارة :

١- المسطح المائي الذي يحده الوطن العربي من ناحية الغرب : ص ٢٨

(أ- البحر الأحمر ب- المحيط الهندي ج- البحر المتوسط د- المحيط الأطلسي)

٢- يطلق أسم " أوال " على حضارة من الشرق القديم : ص ٨٨

(أ- اشبه الجزيرة العربية ب- دلمون ج- المصرية د- بلاد الرافدين)

٣- العام الذي عقد فيه أكبر مؤتمر للأمم المتحدة وعرف باسم " قمة الأرض " : ص ١٢٧

(أ- ١٩٩٠ ب- ١٩٩١ ج- ١٩٩٢ د- ١٩٩٣)

٤- الدولة العربية التي تمتلك نسبة ٦,٦ من ثروة الوطن العربي للأبل : ص ١١٨

(أ- الصومال ب- السودان ج- العراق د- السعودية)

٥- أهم أهداف التنمية الاقتصادية : ص ١٧٤

(أ- حقوق المرأة ب- العلم وزيادة الانتاج ج- الحرية د- المعرفة)

ج- أكتب المفاهيم أو المصطلحات الدالة على العبارات التالية :

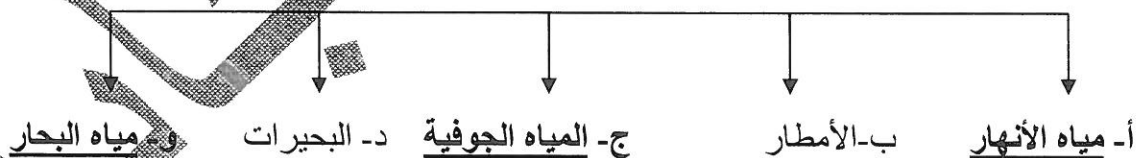
- ١- (الهضبة) أرض مرتفعة ، سطحها مستو، وتمتد على مساحة كبيرة.. ص ٤٠
- ٢- (الحضارة) كل ما يطرأ على المجتمع من تقدم وتطور وراقي في جميع نواحي الحياة والسياسة والاقتصادية والاجتماعية والفكرية . ص ٧١
- ٣- (الطاقة) قوى محركه للألات وعنصر مهم للتقدم والتطور الاقتصادي في جميع المجالات . ص ١٢٥
- ٤- (التلوث) الضرر الذي يلحق بالتربة والهواء والماء ، ويصيب عناصر البيئة . ص ١٦٦
- ٥- (الصناعة التحويلية) تحويل المواد الأولية من معدنية نباتية وحيوانية إلى سلع استهلاكية صالحة للاستعمال . ص ١٤٢

هـ - صوّب ما تحته خط في العبارات التالية :

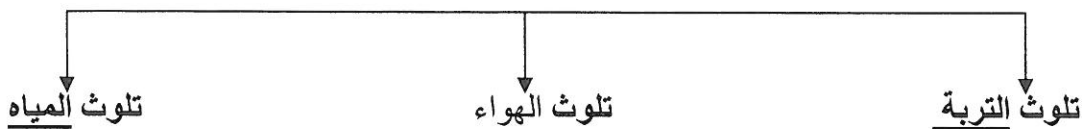
- ١- الديانة التي نزلت على سيدنا عيسى عليه السلام تسمى اليهودية (المسيحية) ص ٩٠
- ٢- سفينة الصحراء لقب يطلق على حيوان يسمى الجبّاري . (الجمال) ص ٥٦
- ٣- تبلغ نسبة إنتاج الوطن العربي من النفط الخام ٤٠% (٣٠) ص ١٢٧
- ٤- العام الذي انشئ فيه الصندوق السعودي للتنمية ١٩٧٥م (١٩٧٤) ص ١٧٩
- ٥- الدولة العربية الأولى في إنتاج معدن الحديد الجزائر (موريتانيا) ص ١٣٢

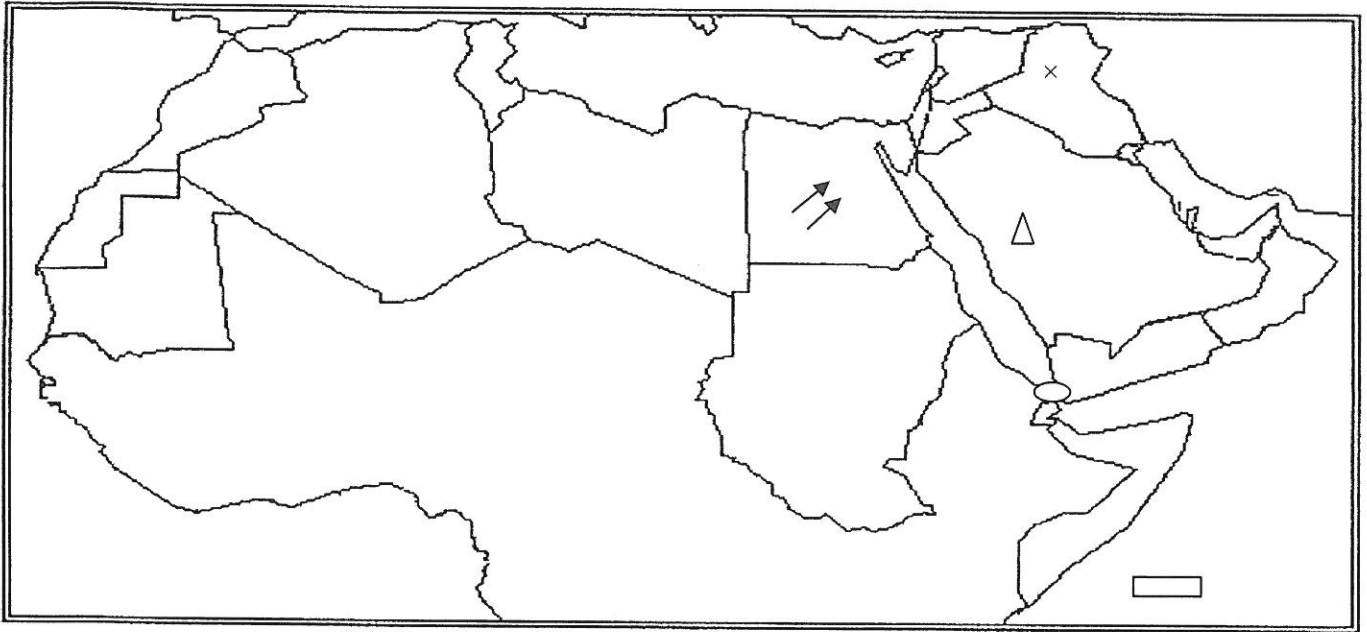
د - أكمل المخطط السهمي التالي :

(١) مصادر المياه في الوطن العربي: ص ١٥



(٢) أنواع التلوث: ص ١٦٧





و- أمامك خريطة صماء للوطن العربي حدد باستخدام الرموز التالية :

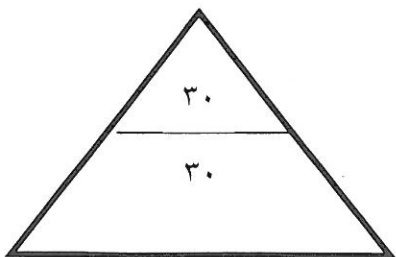
١- جبال الحجاز \triangle ص ٣٨

٢- مضيق باب المندب \circ ص ٢٨

٣- جزر القمر \square ص ٣٣

٤- رياح الخماسين \leftarrow ص ٤٨

٥- مملكة الآشوريون في حضارة بلاد الرافدين \times ص ٧٩



ثانياً : الأسئلة المقالية :

السؤال الثاني : ويتكون من (أ ، ب ، ج) :

أ - علل لما يأتي : (لكل سؤال درجة)

١- تحتل الأغنام العربية مكاناً مهماً ضمن الثروة الرعوية .ص ١١٨ (يكتفي بثلاث نقاط) (ثلاث درجات)

- الأكثر انتشاراً في المراعي العربية / - أكثر الحيوانات المستأنسة والملائمة لمراعي الوطن العربي ؛ وذلك لتحملها الجفاف والانتقال / - لأهمية منتجاتها بالنسبة للسكان / - لأنها مصدر أساسي من مصادر الثروة القومية .

٢- تعد منطقة جنوب غرب شبه الجزيرة العربية من أكثر مناطق شبه الجزيرة العربية ملائمة لقيام الحضارة .ص ٨٥ (درجتان) (يكتفي بنقطتين)

- بسبب توافر المياه العذبة / - والمناخ المناسب لقيام الزراعة / - الموقع الذي يسمح بقيام النشاط التجاري فيها.

ب - أكتب نقطتين لكل مما يلي : (لكل نقطة درجة)

١- مقومات الهوية العربية . ص ٢٦

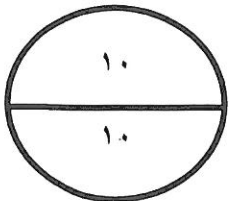
- وحدة الدين / - وحدة اللغة /- التراث /- الأهداف المشتركة

٢- طرق المحافظة على ثروة المياه . ص ٦٢

- ترشيد استخدام المياه والحد من التبذير في المنازل / - الحد من هدر المياه في عمليات الري ، وذلك باستخدام الوسائل الحديثة كالرش بالتنقيط والمحوري / - تنظيم عملية الاستفادة من المياه الجوفية ومنع تسرب الملاح الملوثة إليها واستثمارها على الوجه الأمثل / - تطوير استعمال مياه الصرف الصحي المعالجة في الزراعة /- إقامة البحيرات والسدود لتجميع مياه الأمطار والسيول للاستفادة منها في فصل الجفاف /- توقيع اتفاقيات مع الدول المشاركة ودول المنبع لتحقيق مصالح الدول العربية المعنية.

ج- عرف المصطلح التالي : (درجة)

١- وطن عربي: هو مجموعة الدول العربية التي يجمعها عدد من السمات المشتركة (الدين واللغة) ويمتد ضمن قارتين من أكبر قارات العالم مساحة. ص ٢٢



ثالثا : الأسئلة المقالية :

السؤال الثالث : ويتكون (أ ، ب ، ج) :

(لكل نقطة درجة = ٤ درجات)

(أ) فرق بين كل مما يلي :

سهول ص ٤٢	جبل ص ٣٨
مساحة كبيرة من سطح الأرض تتميز باستوائها ، وقلّة ارتفاعها	هو كل ما ارتفع من الرض وله قمة ارتفاعها عن ١٠٠٠ متر
موارد البشرية ص ١٠٩	موارد الطبيعية ص ١٠٩
هي الثروات التي ترتبط بالسكان من حيث أعدادهم لمساحة الأرض التي يستغلونها .	الثروات التي منحها الله لإقليم من دون أن يكون للإنسان أي دور في وجودها . مثل الثروات المعدنية والغابات والمراعي والمواد المائية وموقع الإقليم .

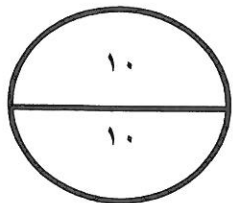
ب- نفذ المطلوب منك بين الأقواس : (لكل سؤال درجتين)

١- المقومات الأساسية للحضارة . ص ٧٣
 - الموقع الاستراتيجي / - توافر مصادر المياه العذبة / - واعتدال المناخ / - توافر الثروات الطبيعية / - توافر عنصر البشري.

٢- المقومات البشرية للصناعة . ص ١٣٩
 - رؤوس الأموال / - الأيدي العاملة / - المهارة والخبرة / - السوق / - وسائل النقل

ج- أكتب مما درست : ص ١٦١

١- العقبات التي تواجه الإنتاج الزراعي في الوطن العربي . (درجتان)
 - عدم استغلال الأراضي القابلة للزراعة لندرة مياه الري أو تذبذب الأمطار أو قلّة الأيدي العاملة / - اتباع طرق الزراعة التقليدية في معظم أجزاء الوطن العربي . / - زحف المال (التصحر) وانجراف التربة . / - تلوث التربة نتيجة للإسراف في استخدام المبيدات الحشرية وارتفاع نسبة الملوحة بالتربة . / - الرعي الجائر .



رابعاً: الأسئلة المقالية:

السؤال الرابع : ويتكون من (أ، ب، ج) :

أ- قارن بين كل مما يلي حسب الجدول: ص ٣٢ (٦ درجات)

وجه المقارنة	أوبك ص ١٣٤	أوبك ص ١٣٥
العام	١٩٦٠م	١٩٦٨م
المقر	فيينا	الكويت
الأهداف	- حرص على استقرار أسعار النفط في الأسواق العالمية	- تعميق التعاون بين دول العربية في مختلف أوجه النشاط الاقتصادي في صناعة النفط / - تأمين وصول النفط إلى الأسواق الاستهلاكية بشروط وأسعار عادلة / - تسهم في تطوير الصناعات البترولية في جميع المجالات وتبادل الخبرات ولها علاقة تعاون مع منظمة الأوبك

(ب) برهن على صحة العبارة التالية :

(لكل نقطة درجة / يكتفي بنقطتين)

١- أكد الشيخ صباح الأحمد "أن القمة العربية الاقتصادية ستكون بوابة الخير". ص ١٨٦

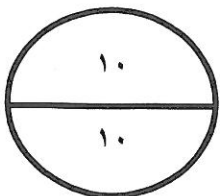
- أن العالم العربي يمر بمرحلة حرجة وتحديات خطيرة لم تعد تقتصر في تهديدها على أمن وسلامة واستقلال الدول العربية ووحدة ترابها الوطني بل تجاوزت تلك الأخطار لتمس الأوضاع الاقتصادية والتنموية والاجتماعية والثقافية التي تحيط بحياة وكرامة المواطن العربي وحقه العيش الآمن واللائق.

ج- أجب على السؤال التالي:

(لكل نقطة درجة / يكتفي بنقطتين)

١- أذكر أسباب تدني وفرة المياه في الوطن العربي. ص ١٦٤

- النمو السريع للسكان الذي يشكل ضغطاً متزايداً على المياه المتوفرة لكل فرد - ٥٠% من الموارد المائية في العالم العربي تأتي من خارج حدوده وتتحكم فيها دول المنبع في غياب تشريعات دولية تضمن حقوقنا - الطرق التقليدية المستخدمة في استغلال المياه في معظم مناطق العالم العربي مسؤولة عن تدني نسبة المياه (استخدام الري بالغمر والاستهلاك غير المسؤولة في مجالات المياه - الشبكات المؤهلة لنقل المياه شبكات قديمة - افتقار الدول العربية إلى برامج لإدارة المياه كما أنها لا تستخدم الأدوات الاقتصادية اللازمة لترشيد الاستخدام المتزايد من المياه .



"انتهت الأسئلة"