



وزارة التربية

الإدارة العامة لمنطقة الجهراء التعليمية

اختبار نهاية الفصل الدراسي الأول
٢٠٢٠ / ٢٠١٩

السابع	الصف
الاجتماعيات	المادة



وزارة التربية
مكتب المدير العام
الإدارة العامة لمنطقة الجهراء التعليمية



وزارة التربية
مكتب المدير العام
الإدارة العامة لمنطقة الجهراء التعليمية



أولاً الاسئلة الموضوعية :

السؤال الأول: يتكون من (أ - ب - ج):

(أ) أكمل العبارات التالية بما يناسبها فيما درست (٦×١)=٦:-

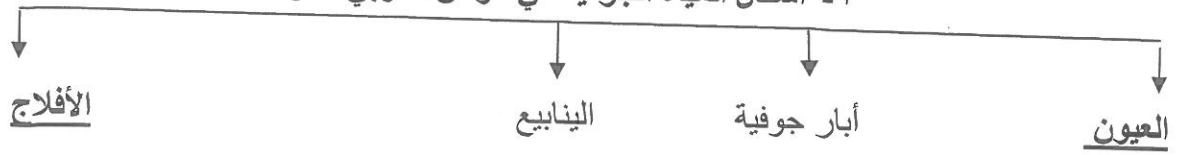
- ١- في فصل الصيف تكون الشمس عمودية على المنطقة الواقعة بين خط الاستواء ومدار يسمى الجدى ص ٤٩
- ٢- حيوان يطلق عليه سفينة الصحراء يسمى الجمال ص ٥٦
- ٣- العام الذي أنشئت فيه محطة الشويخ لتحلية المياه ١٩٥٣م ص ٦١
- ٤- الكتابة المصرية القديمة عرفت باسم الهيروغليفية ص ٧٧
- ٥- حشائش الأستبس في بلاد المغرب تسمى الحلفا ص ٥٢
- ٦- عاصمة جمهورية جزر القمر تسمى موروني ص ٢٣

(ب)- ضع خطأ تحت الخيار الصحيح من بين الخيارات التي تلي كل عبارة (٦×١)=٦ :

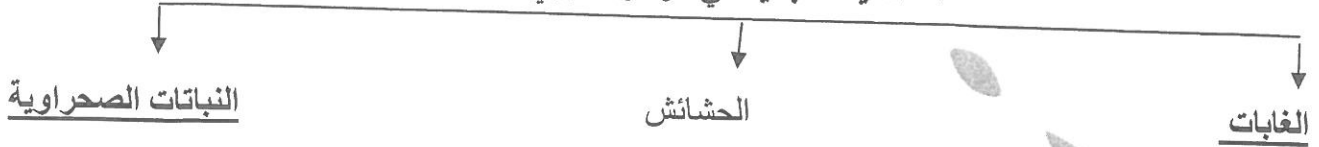
- ١- القارة المجاورة للوطن العربي من جهة الشمال : ص ٣٣
(أوروبا - آسيا - إفريقيا - استراليا)
- ٢- يطلق على البحرين قبل الفتح الإسلامي : ص ٨٩
(فيلكا - بابل - سبأ - أوال)
- ٣- سيطر على بلاد الرافدين خلال تاريخها القديم : ص ٧٩
(ثلاثة شعوب - أربعة شعوب - خمسة شعوب - ستة شعوب)
- ٤- تقع محطة رأس عبود في دولة : ص ٦١
(البحرين - قطر - السعودية - الإمارات)
- ٥- عاصمة حضارة حمير تسمى: ص ٨٥
(قرناو - ريدان - مأرب - دلمون)
- ٦- نسبة سكان الوطن العربي من سكان العالم تبلغ: ص ٣٥
(٥% - ١٠% - ١٥% - ٢٠%)

(ج) أكمل المخططات السهمية التالية (٤×١) = ٤ :-

١- أشكال المياه الجوفية في الوطن العربي: ص ٥٩



٢- الحياة النباتية في الوطن العربي: ص ٥٢



(د) صنف الأسماء التالية في مكانها الصحيح في الجدول التالي (٦×١) = ٦ : ص ٩٠

(القرآن الكريم - التوراة - عيسى عليه السلام - محمد ﷺ - موسى عليه السلام - الإنجيل)

النبي	الكتاب	الديانة
محمد ﷺ	القرآن الكريم	الإسلام
عيسى عليه السلام	الإنجيل	المسيحية
موسى عليه السلام	التوراة	اليهودية

(هـ) لاحظ الصور التالية ثم اجب عن ما يليها من أسئلة (٢×١) = ٢ : ص ٧٢

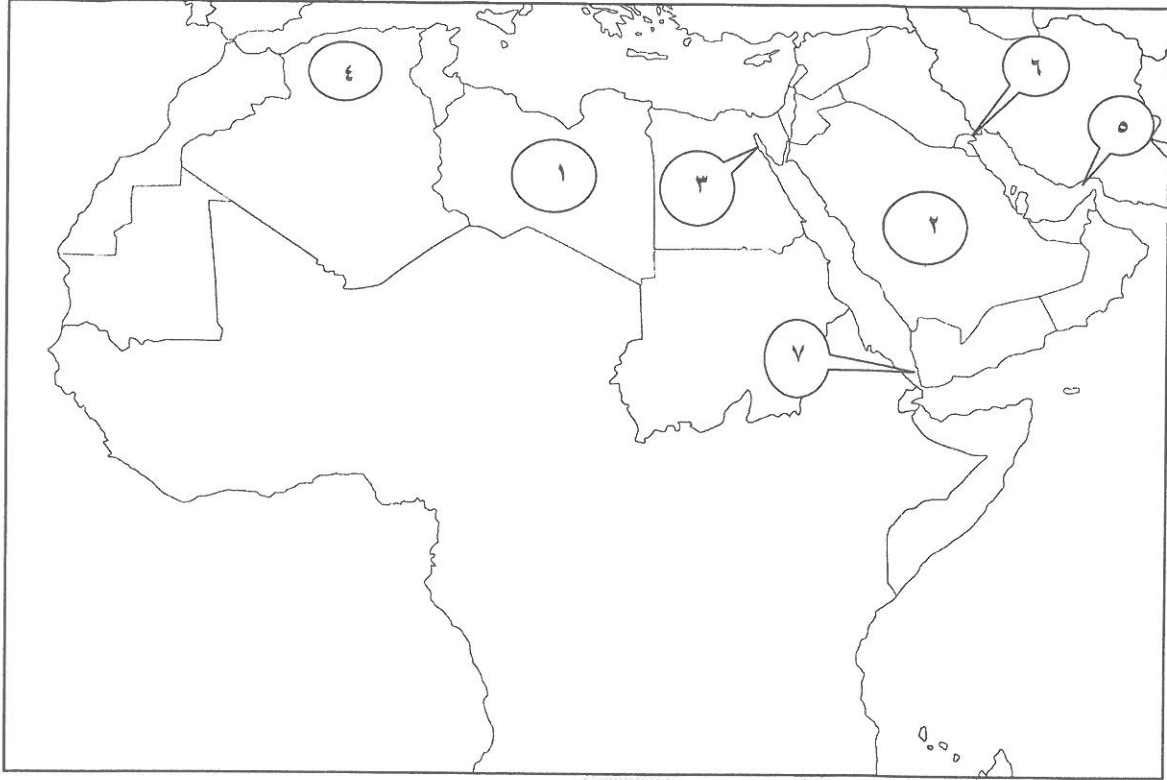


١- الحضارة التي يتبعها هذا المعلم الحضاري تسمى مصر القديمة



٢- الحضارة التي يتبعها هذا المعلم الحضاري تسمى بلاد الرافدين

(و) لاحظ خريطة الوطن العربي الصماء ثم اكتب الرقم الصحيح أمام كل عبارة (٦×١)=٦:



- دولة عربية تعتبر من أكثر الدول إنتاجاً للمياه المحلاة يمثلها الرقم (٦) ص ٦٢

- هضبة الشطوط يمثلها الرقم (٤) ص ٤٠

- مضيق هرمز يمثلها الرقم (٥) ص ٢٨

- هضبة نجد يمثلها الرقم (٢) ص ٢٨

- قناة السويس يمثلها الرقم (٣) ص ٢٨

- رياح القبلي تهب على دولة يمثلها الرقم (١) ص ٤٨

ثانياً الأسئلة المقالية :

السؤال الثاني : يتكون من (أ ، ب ، ج):

(أ) عرف ما يلي : (٢×١)=٢

- ١- الهضبة: أرض مرتفعة ،سطحها مستو ، وتمتد على مساحة كبيرة . ص ٤٠
- ٢- النبات الطبيعي : هو الذي ينمو تلقائياً عقب سقوط المطر دون تدخل الإنسان ص ٥١

(ب) قارن بين كل من (٦×١)=٦:

وجه المقارنة	السهول الفيضية(النهرية) ص ٤٢	السهول الساحلية ص ٤٢
التعريف	هي الأراضي المنخفضة التي تكونت من التربة التي حملتها مياه الأنهار(درجة)	هي الأراضي المنبسطة التي تجاور سواحل البحار والمحيطات(درجة)
مثال في الجناح الآسيوي	سهول (نهر دجلة والفرات - نهر الأردن - عكاز - لبنان - العلويين - نهر العاصي) (درجة ويكتفى بواحد)	السهول الساحلية الشرقية في الخليج العربي سهول البحر الأحمر- سهول المحيط الهندي- السهل الساحلي الفلسطيني (درجة ويكتفى بواحد)
مثال في الجناح الأفريقي	سهول(نهر النيل- نهر الجريفة- نهر سيو - نهر ابورقراق- نهر أم الربيع- نهر السوس- نهر الشليف- نهر شبلي - نهر جوبا) (درجة ويكتفى بواحد)	سهول المحيط الأطلسي- سهول المغرب العربي -سهول ليبيا (درجة ويكتفى بواحد)

(ج) علل لما يلي (٧×١)=٧:

- ١- اهتمام المصريين القدماء بتحنيط جثث موتاهم. ص ٧٦
درجة ويكتفى بنقطة
- لاعتقادهم بالبعث والخلود .
- ٢- تأثير المناخ في تنوع النبات . ص ٥١
درجتان يكتفى بنقطتين
- لاختلاف درجات الحرارة .
- لاختلاف كمية الأمطار ومواسمها.
- ٣- المدن الساحلية أكثر اعتدالاً في المناخ صيفاً. ص ٤٦
درجة ويكتفى بنقطة
- لأن البحر يلطف من درجة حرارتها.
- ٤- عرف سكان بلاد الرافدين الزراعة. ص ٨١
درجتان يكتفى بنقطتين
- خصوبة تربتها - سعة سهولها - وفرة المياه .
- ٥- استخدام الوسائل الحديثة في الري. ص ٦٣
درجة ويكتفى بنقطة
- للحد من هدر المياه في عمليات الري .

إجابة امتحان مقرر الكويت والوطن العربي- الصف السابع- الفترة الدراسية الأولى- العام الدراسي ٢٠١٩/٢٠٢٠م
السؤال الثالث :- يتكون من (أ ، ب ، ج):

(أ) :- اقرأ الفقرة التالية ثم أجب عن الأسئلة التي تليها $5 = (5 \times 1)$:- ص ٩٢
" قامت الحضارة العربية الإسلامية على الإسلام وتعاليمه ، وكان هذا التنظيم الإسلامي من أهم الأسس التي بنيت عليها حضارة العرب في ظل الإسلام "
١ - عرف ما تحته خط . (درجة)

الحضارة : كل ما طرأ على المجتمع من تقدم وتطور وراقي في جميع نواحي الحياة الدينية والسياسية والاجتماعية والفكرية ص ٧١.

٢- اذكر مركزين من مراكز انتقال الحضارة العربية الإسلامية إلى أوروبا . ص ٩٢ (درجتان ويكتفى بنقطتين)

أ- الأندلس ب- صقلية ج- الاحتلال الصليبي لبلاد الشام

٣- عدد اثنان من مبادئ الإسلام . ص ٩٢ (درجتان ويكتفى بنقطتين)

أ- الشورى ب- العدل ج- المساواة.

(ب) نفذ المطلوب منك ما بين الأقواس $6 = (6 \times 1)$:

١- أهمية الوطن العربي. ص ٣٥ (الأهمية الجغرافية)

أحتل مكاناً وسطاً بين قارات العالم الثلاث. ب- يطل على مسطحات مائية واسعة ذات أهمية للملاحة والتجارة العالمية.

٢- المقومات الأساسية للحضارة . ص ٧٣ (عددها) يكتفى بنقطتين

أ- توافر مصادر المياه العذبة ب- اعتدال المناخ ج- توافر الثروات الطبيعية د- توافر العنصر البشرية هـ- الموقع الاستراتيجي

٣- المنتجات الزراعية لسكان جنوب غرب شبه الجزيرة العربية . ص ٨٦ (اذكرها) يكتفى بنقطتين

أ- الموز ب- اللبان ج- القرفة

(ج) فرق من حيث التعريف بين كل من $4 = (4 \times 1)$:

المناخ ص ٤٤	الطقس ص ٤٤
حالة الجو خلال فترة زمنية طويلة من حيث درجة الحرارة والرطوبة والأمطار.	حالة الجو في مكان لمدة قصيرة تتراوح بين يوم أو عدة أيام من حيث درجة الحرارة والرطوبة والأمطار والرياح والضغط الجوي .
المضيق ص ٢٨	القناة ص ٢٨
ممر مائي ضيق يصل بين بحرين أو محيطين أو مساحتين كبيرتين نسبياً من الماء.	مجرى مائي صناعي ضيق يشق لأغراض الري أو النقل