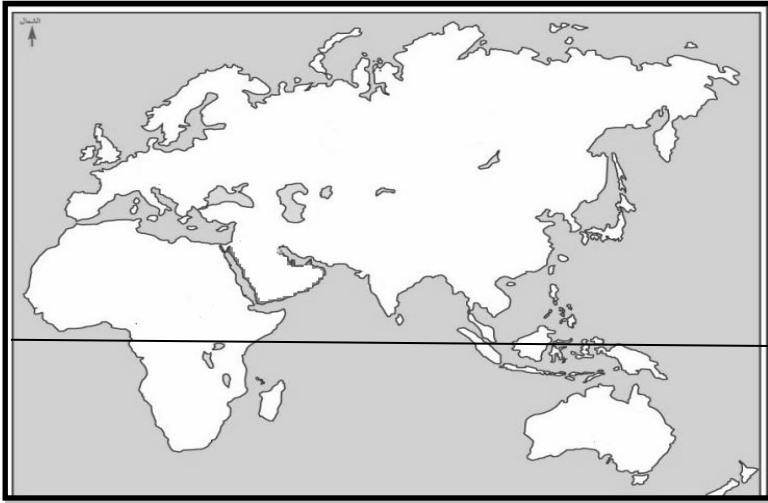
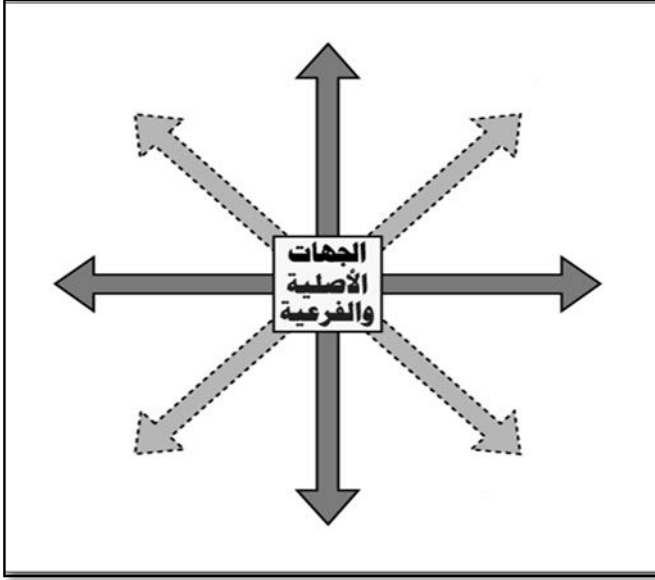
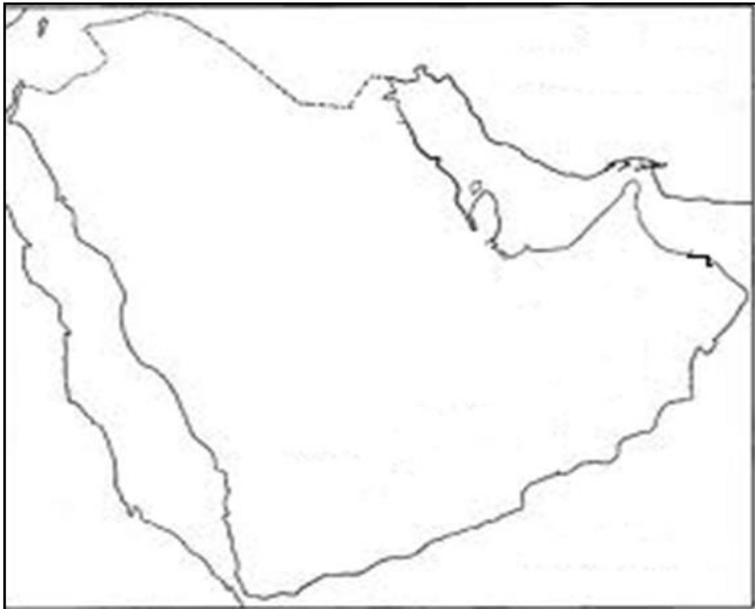


ورقة عمل للصف الثامن التاريخ :
الادارة العامة لمنطقة مبارك الكبير التعليمية
مدرسة امامة بنت ابي العاص م/ب
اولا : احوال العرب قبل الاسلام
لمحة جغرافية عن شبه الجزيرة العربية

* اكتب الجهات الاصلية والفرعية على الشكل المرفق .



- * شاهد خريطة العالم القديم الصماء المعروضة أمامك ثم نفذ المطلوب منك :
1. اكتب اسم قارات العالم القديم.
 2. اكتب أسماء المحيطات
 3. لون شبه الجزيرة العربية باللون الاصفر .
 4. عين خط الاستواء على الخريطة .
 5. حدد دوائر العرض لشبه الجزيرة العربية .



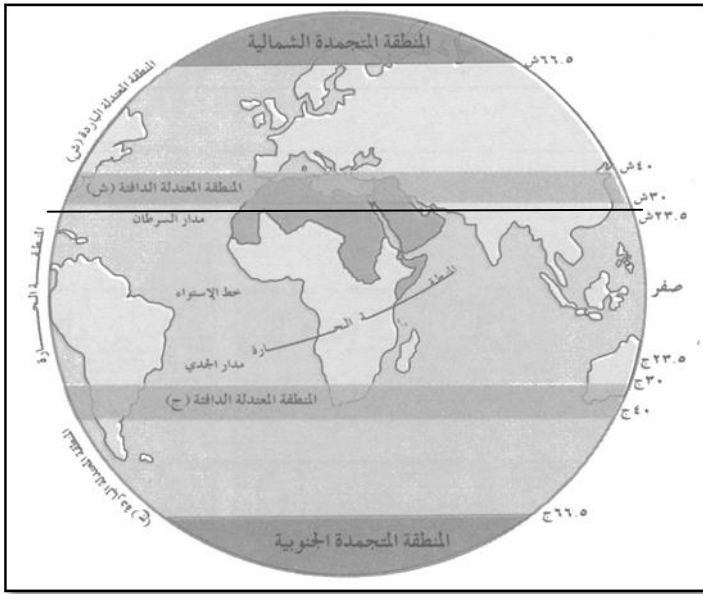
- * شاهد خريطة شبه الجزيرة العربية المعروضة على السبورة ثم نفذ ما هو مطلوب على الخريطة المرفقة
1. عدد المسطحات المائية التي تحيط بشبه الجزيرة العربية
 2. ثم لونها باللون الأزرق .

ورقة عمل للصف الثامن التاريخ :

الإدارة العامة لمنطقة مبارك الكبير التعليمية
مدرسة أمامه بنت أبي العاص م/ب
أولا : أحوال العرب قبل الإسلام
تضاريس ومناخ شبه الجزيرة العربية

* شاهد خريطة شبه الجزيرة العربية التضاريسية في الاطلس المدرسي ص 146
ثم صنفها في الجدول المرفق :-

جبال	هضاب	سهول	صحاري	مسطحات مائية



* شاهد الصورة المرفقة للأقاليم المناخية في العالم ثم
استنتج نوع المناخ التي تقع فيه شبه الجزيرة العربية
1- اسم المناخ الذي تقع فيه شبه الجزيرة العربية

* اقرأ ك م ص 16 "المناخ في شبه الجزيرة العربية"
ثم اجب عما يلي :-

1- ما مميزات هذا المناخ في الصيف

وفي الشتاء

ماعدا اليمن تسقط أمطارها في فصل

2- علل :سقوط الامطار صيفا على اليمن .

3- عدد نتائج قسوة البيئة الصحراوية على سكان شبه الجزيرة العربية :

أ-.....

ب-.....

التاريخ:

ورقة عمل للصف الثامن
أولاً : أحوال العرب قبل الإسلام
(1) الأحوال السياسية

* من خلال دراستك (مناخ شبه
استقرار الحياة في شبه الجزيرة

الجزيرة العربية) علل : عدم
العربية؟

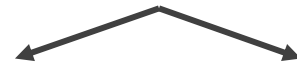
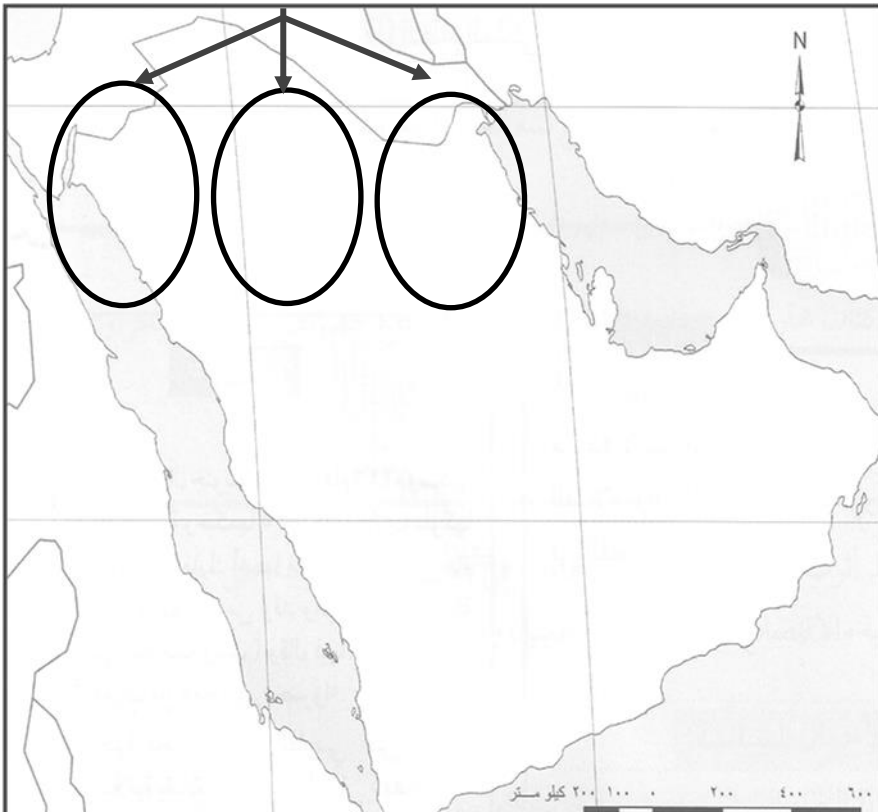

الأنظمة السياسية

النظام

النظام

النظام

*شاهد خريطة ك.م.ص 17 (الأنظمة السياسية في شبه الجزيرة العربية
) ثم نفذ ما هو مطلوب منك على خريطة المفاهيم :-



* استعين بخريطة الكتاب المدرسي ص
(17). ثم ضعي الرموز في مكانها
الصحيح علي الخريطة الصماء

1. ممالك اليمن (سبأ / معين / حمير)

ويرمز لها بالرمز (□)

2. مدن الحجاز(مكة / يثرب / الطائف) ويرمز لها بالرمز () .

3. إمارة المناذرة (الحيرة) ويرمز لها بالرمز (⊗) .

4. إمارة الغساسنة ويرمز لها بالرمز (⊚) .

5. الدولة الساسانية (الفرس) ويرمز لها بالرمز (◇) .

6. الدولة البيزنطية (الروم) ويرمز لها بالرمز (+) .

7. صمم مفتاح للخريطة المرفقة

التاريخ :

ورقة عمل للصف الثامن

وزارة التربية

أولا : أحوال العرب قبل الإسلام

الإدارة العامة لمنطقة مبارك الكبير التعليمية

(2) الأحوال الاقتصادية

مدرسة أمامه بنت أبي العاص م/ب

*شاهد الصور المرفقة ثم استنتج أهم أعمال السكان في شبه الجزيرة العربية قبل الإسلام :-



الانشطة الاقتصادية قبل الاسلام



النشاط التجاري : *اقرأ فقرة الكتاب المدرسي ص 19 ثم

برهن على أن لشبه الجزيرة العربية دورا كبيرا في التجارة الخارجية قديما .

.....
.....

*استمع الى سورة قريش الآية 1-3 ثم استخراج منها ثلاث حقائق ثابتة واكتبها في ك.م.ص.19

*شاهد الفيلم المعروف أمامك ثم :

برهن على مشاركة الرسول صلى الله عليه وسلم في التجارة مع قريش ؟

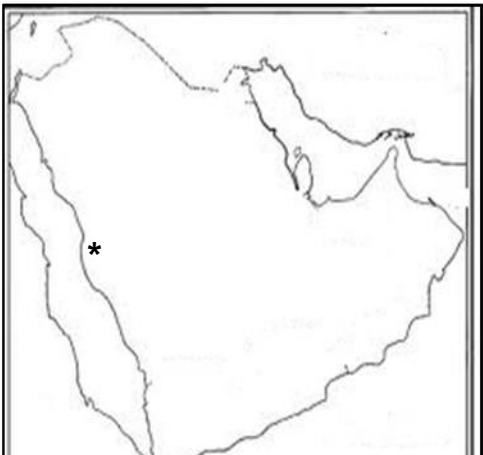
.....

*ماذا اكتسب الرسول صلى الله عليه وسلم من التجارة ؟

.....

* عين على الخريطة المرفقة اتجاه رحلتي الشتاء والصيف .

*اقرأ فقرة الكتاب المدرسي ص 20 ثم أجب عما يلي :-



1- علل ازدهار التجارة في موسم الحج .

2 - أكمل الجدول التالي :

تهامة	الأحساء	الطائف	مكة
.....
.....

3 - عدد الأنشطة التي كانت تقام في هذه الاسواق ؟

- أ-.....
 ب-.....
 ج-.....
 د-.....

4

التاريخ:

ورقة عمل للصف الثامن
 أولاً : أحوال العرب قبل الإسلام
 (2) تابع / الأحوال الاقتصادية

وزارة التربية
 الإدارة العامة لمنطقة مبارك الكبير التعليمية
 مدرسة أمامه بنت أبي العاص م/ب


(ب) الرعي :



*اقرأ فقرة الكتاب المدرسي ص 21 ثم اجب عما يلي :

1- علل : تعتبر حرفة الرعي الحرفة الرئيسية لسكان شبه الجزيرة العربية .

2- سم الحيوانات التي كانت ترعاها العرب قديماً في شبه الجزيرة العربية ؟



(ج) الزراعة :

*اقرأ فقرة الكتاب المدرسي ص 21 ثم اجب عما يلي :

أ- علل : قلة الإنتاج الزراعي في شبه الجزيرة العربية قبل الإسلام .

ب- اين قامت الزراعة في شبه الجزيرة العربية قبل الاسلام ؟

1-.....مثل.....و.....و.....و.....و.....

2-.....والتتي اشتهرت بالسود مثل سد.....

*شاهد العينات والصور التي امامك ثم :



ج- عدد اهم المنتجات الزراعية التي زرعتها العرب قديما في شبه الجزيرة العربية ؟

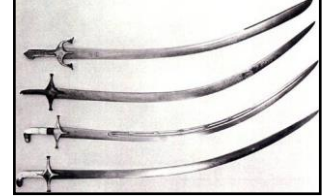


(د) الصناعة :

1- علل : تعتبر الصناعة من اقل الحرف اهتماما في شبه الجزيرة العربية .

شاهد الصور والعينات التي امامك ثم :

2- عدد أهم الصناعات في شبه الجزيرة العربية قديما .



التاريخ:

وزارة التربية

الإدارة العامة لمنطقة مبارك الكبير التعليمية

مدرسة أمامه بنت أبي العاصم/م/ب

تابع : أحوال العرب قبل الإسلام
الأحوال الاجتماعية والدينية

*شاهد جدول الكتاب المدرسي ص 22 ثم : صنف في الشكل المرفق

1- طبقات المجتمع العربي قبل الإسلام :

2- علل : انقسم المجتمع العربي قبل الإسلام إلى عدة طبقات

* اقرأ الكتاب المدرسي ص 22 ثم : برهن : كان للمرأة العربية مكانة مهمة في المجتمع العربي قديما .

في النظام الملكي :

في مكة قبل الإسلام :






بعد الإسلام :

* اقرأ الآيات التالية ثم استخراج منها بعض العادات السيئة التي كانت منتشرة في المجتمع العربي قبل الإسلام

1- {وَإِذَا الْمَوْؤَدَةُ سُئِلَتْ (8) بِأَيِّ ذَنْبٍ قُتِلَتْ (9)}.
2- {وَأَنْ تَجْمَعُوا بَيْنَ الْأُخْتَيْنِ إِلَّا مَا قَدْ سَلَفَ }

••اقرأ الكتاب المدرسي ص 23 ثم اكمل الجدول :

• استمع الى التقرير ثم اكمل الجدول المرفق

مناطق انتشارها	اسم الديانة	الصورة	الرقم
			1
			2
			3
			4
			5