

المرشد الشامل للمرحلة الثامن



مذكرة تفصيلية لأسئلة الكتاب



برهن

ذكرة

صوب

الإدارة العامة لمنطقة القرواينة التعليمية

فريق الاعداد:

الوحدة الاولى : مريم البعيص

الوحدة الثانية : موزي مطلق المطيري

مراجعة وتدقيق:

الموجهة الفنية : نشمية المطيري

رئيسة قسم الاجتماعيات في مدرسة رقية بنت محمد : جليله الدغيم

رئيسة قسم الاجتماعيات في مدرسة عمرة الانصارية : فاطمة الصفران

اشراف عام : الموجه الفني : حمد البحوه

تصميم وتنسيق : جليله الدغيم

مكتب التوجيه الفني للاجتماعيات منطقة الفروانية التعليمية



https://t.me/fr_social



@fr_social1



fr social



fr_social



<https://www.sskuwait.net/>



المقدمة :

يعد وضع أسئلة الاختبارات موضوعا حساسا، ودقيقا، إذ تشكل الأسئلة المقياس الأساسي في معرفة تطور الطالب، ومدى تحصيله الذي اكتسبه خلال دراسته للمادة، لذلك يجب أن توضع هذه الأسئلة بدقة كبيرة، بحيث تكون شاملة للمقرر الدراسي ومراعية لمستوى الطلبة، ولذلك يسرنا أن نقدم لكم المرشد الشامل للصف الثامن مقرر دولة الكويت والعالم الاسلامي أسئلة تفصيلية واضحة، وشاملة لجميع أسئلة بناء الاختبارات مع مراعاة معايير صياغة الاختبار والتي تم استخلاصها من ملف معايير صياغة الأسئلة المدرج في موقع التوجيه الفني للاجتماعيات ، نهدىها الى كل من احتاج اليها من متعلمين ومعلمين ورؤساء أقسام سائلين المولى - سبحانه وتعالى - أن نكون قد وفقنا في تقديم المادة وعرضها وينفع به - حفظ الله الكويت وشعبها

فريق الإعداد

الوحدة الأولى	
لمحة تاريخية عن الحضارة الإسلامية	
أولاً	لمحة تاريخية عن الحضارة الإسلامية
	الحضارة الإسلامية . أسس الحضارة الإسلامية . خصائص الحضارة الإسلامية
ثانياً	مظاهر الحضارة الإسلامية
	المظاهر السياسية والإدارية . المظاهر الاقتصادية . المظاهر العمرانية . مظاهر الحياة الاجتماعية مظاهر الإنجازات العلمية والثقافية .
ثالثاً	مراكز إشعاع الحضارة الإسلامية ودورها في النهضة الأوروبية الحديثة



الأسئلة الموضوعية

الوحدة الاولى

١. أكمل العبارات التالية بما يناسبها فيما درست :

١. قامت الدولة الإسلامية في المدينة المنورة
٢. قامت الدولة الإسلامية على يد نبي الله سيدنا محمد ﷺ
٣. قامت الدولة الإسلامية في القرن الثامن الميلادي
٤. أصدرت الجمعية العامة للأمم المتحدة قرارا بإدخال اللغة العربية لغة رسمية في عام ١٩٧٣م
٥. التاريخ الذي يتم فيه الاحتفال باللغة العربية في كل عام يصادف ١٨ ديسمبر
٦. العالم اليوناني الذي استفادت منه الحضارة الإسلامية في مجال الرياضيات فيثاغورس.
٧. العام الذي اطلقت فيه الأمم المتحدة لقب قائد العمل الإنساني للشيخ صباح الأحمد الصباح ٢٠١٤ م
٨. توفي الرسول -صلى الله عليه وسلم- في ١٢ من ربيع الأول عام ١١ هـ
٩. اجتمع المسلمون بعد وفاة الرسول ﷺ في سقيفة بني ساعدة
١٠. أول حاكم بعد الرسول -ﷺ- إذ خلفه بإدارة شؤون المسلمين يسمى أبي بكر الصديق رضي الله عنه
١١. ظهر منصب إداري جديد في الدولة الإسلامية يسمى الخلافة
١٢. استحدث منصب إداري جديد في عهد الخليفة الراشد الثاني عمر بن الخطاب رضي الله عنه يسمى المحتسب
١٣. ظهر العديد من الكيانات السياسية من ممالك وسلطنات وامارات. في عهد الدولة العباسية
١٤. أنشأ ديوان الماء في مدينة مرو الواقعة في خراسان « إيران حاليا)
١٥. صناعة خشبية برع المسلمون بصناعتها تسمى أرابيسك
١٦. اكتشف في دولة الكويت محطة لاستراحة قوافل الحجاج تعود للعصر الإسلامي تسمى محطة الشجي
١٧. يبلغ مقدار الزكاة على الأموال النقدية التي حال عليها الحول بواقع ٢,٥٪
١٨. الجهة المسؤولة عن الوقف في دولة الكويت تسمى الوزارة الأوقاف والشؤون الإسلامية
١٩. الطراز المعماري يعكس التصميم الأندلسي والمنقوشات الإسلامية في دولة الكويت يسمى المسجد الكبير
٢٠. الشيخ الذي افتتح المسجد الكبير في عام ١٩٨٦م يسمى الشيخ جابر الاحمد الصباح .
٢١. اول القبليتين وهو أكبر مساجد العالم يسمى المسجد الأقصى .
٢٢. الخليفة الذي ضم حجرات بيت الرسول ﷺ الى المسجد يسمى عبد الملك بن مروان .
٢٣. المدينة التي يقع فيها قصر الحمراء تسمى غرناطة بالأندلس
٢٤. يطلق على بلاد الأندلس حاليا اسم اسبانيا
٢٥. قصر يقع في الاراضي الممتدة في شمال الصحراء السورية وجنوب نهر الفرات في العراق يسمى قصر الرصافة
٢٦. الخليفة العباسي الذي شجع على العلم وحركة الترجمة يسمى المأمون
٢٧. كلمة اشتقت منها كلمة الكاميرا تسمى قمر
٢٨. العالم الذي له الفضل في تطوير فكرة الكاميرا يسمى الحسن بن الهيثم
٢٩. استفاد الأوروبيون من طريقة المسلمون في نقل الرسائل جوا عن طريق الحمام الزاجل
٣٠. ألف الجاحظ ٣٥٠ كتابا أهمهم كتاب كان يراقب سلوك الحيوانات عن طريق التجارب
ويدرس أعضائها الداخلية يسمى كتاب الحيوان

٢ (اكتب المفاهيم أو المصطلحات الدالّة على العبارات التالية :

المفهوم	العبارة
١. الحضارة ص ١٨	هي كل ما يطرأ على المجتمع من تقدم وتطور ورقي سواء في الجانب المادي أو الجانب الروحي.
٢. البيمارستانات ص ٢٣	هي دار المرضى أو المستشفى ومراكز الصيدلنة والتحليل وصناعة الأدوية.
٣. الخراج ص ٢٨	ضريبة الارض الزراعية التي تخرج مبلغا ماليا معيناً من ناتج المحصول الزراعي
٤. الزكاة ص ٢٨	هي ركن من أركان الإسلام يخرجها المسلمون الأغنياء للمستحقين من الفقراء، من الاموال والثروات وقيمتها ٢,٥٪ .
٥. الجزية ص ٢٩	مبلغ مالي يدفعه الرجال غيرا مسلمين من أهل الذمة ممن قادرون على حمل السلاح نظير حماية الدولة لهم
٦. الوقف الإسلامي ص ٢٩	صدقه جاريه يوقفها المرء في حياته لوجوه الخير والبر ، ويكون اجرها ونفعها ما دامت باقيةً ويستمر الأجر حتى بعد وفاته
٧. الفسيفساء ص ٣٠	مجموعة من المكعبات الزجاج المون والشفاف وقطع من الحجر الابيض والاسود والقطع الخزفية تثبت فوق طبقة من الجص و الاسمنت لتعطي شكل منظم متناسق في الشكل واللون
٨. المساجد ص ٣٢	أماكن تقام فيها الصلوات وخطبة الجمعة والتعليم الديني .
٩. القصور ص ٣٤	هي مقر الحاكم والمكان الذي يضم المؤسسات الادارية كالوزارة والدواوين
١٠. دمشق ص ٣٤	كلمة اشتقت من الدمقس وهو نوع من الحرير الذي اشتهرت به تلك المدينة قبل الإسلام.
١١. اهل الذمة ص ٣٦	هم النصارى واليهود الذين ظلوا على دينهم مع دفع الجزية .

٣) ظلل الخيار الصحيح من بين الخيارات التي تلي كل عبارة :

ص ١٩	١/ العالم الذي ألف كتاب الصيدلة في الطب يسمى			
	أ- البيروني	ب- الادريسي	ج- الرازي	د- الخوارزمي
ص ٢١	٢/ أصدرت الجمعية العامة للأمم المتحدة قرارا بإدخال اللغة العربية كلغة رسمية في عام:			
	أ- ١٩٧٢ م	ب- ١٩٧٣ م	ج- ١٩٧٤ م	د- ١٩٧٥ م
ص ٢١	٣/ التاريخ الذي يحتفل العالم الاسلامي بقرار إدخال اللغة العربية لغير رسمية في عام ١٩٧٣ م هو			
	أ- ١٨ سبتمبر	ب- ١٨ اكتوبر	ج- ١٨ نوفمبر	د- ١٨ ديسمبر
ص ٢٤	٤/ لقب الشيخ صباح الاحمد الصباح بقائد العمل الانساني في تاريخ:			
	أ- ٦ سبتمبر ٢٠١٤ م	ب- ٧ سبتمبر ٢٠١٤ م	ج- ٨ سبتمبر ٢٠١٤ م	د- ٩ سبتمبر ٢٠١٤ م
ص ٢٤	٥/ أطلقت الأمم المتحدة لقب قائد العمل الإنساني بتاريخ ٩ سبتمبر من عام ٢٠١٤ م على الشيخ:			
	أ- جابر الأحمد الصباح	ب- صباح الأحمد الصباح	ج- سعد العبد الصباح	د- نواف الأحمد الصباح
ص ٢٥	٦/ توفي الرسول -صلى الله عليه وسلم- في ١٢ من ربيع الأول عام:			
	أ- ١١ هـ	ب- ١٢ هـ	ج- ١٣ هـ	د- ١٤ هـ
ص ٢٥	٧/ أول حاكم بعد الرسول -ﷺ- إذ خلفه بإدارة شئون المسلمين في الدين والدنيا هو:			
	أ- عمر بن الخطاب	ب- أبي بكر الصديق	ج- عثمان بن عفان	د- علي بن أبي طالب
ص ٢٥	٨/ استحداث منصب إداري جديد في عهد الخليفة الراشد الثاني عمر بن الخطاب رَضِيَ اللهُ عَنْهُ هو:			
	أ- المحتسب	ب- الخليفة	ج- الوالي	د- الوزير
ص ٢٧	٩/ صناعة خشبية برع المسلمين بصناعتها هي:			
	أ- أرابيسك	ب- الخزف	ج- الحلبي	د- الأسلحة
ص ٢٨	١٠/ الرسم الذي يمثل مقدار الزكاة على الأموال النقدية يمثلها الشكل:			
	أ	ب	ج	د

ص ٢٨	١١/ ضريبة الأرض الزراعية التي تخرج مبلغا ماليا معيناً من ناتج المحصول الزراعي هي :			
	أ. الزكاة	ب. الخراج	ج. الجزية	د. الوقف الإسلامي
ص ٢٨	١٢/ ركن من أركان الإسلام يخرجها المسلمون الأغنياء من الأموال والثروات للمستحقين من الفقراء هي			
	أ. الزكاة	ب. الخراج	ج. الجزية	د. الوقف الإسلامي
ص ٢٩	١٣/ مبلغ مالي يدفعه الرجال غير المسلمين من أهل الذمة ممن هم قادرين على حمل السلاح نظير حماية الدولة لهم:			
	أ. الزكاة	ب. الخراج	ج. الجزية	د. الوقف الإسلامي
ص ٢٩	١٤/ صدقة جارية يوقفها المرء في حياته لوجوه الخير والبر، ويكون أجرها ونفعها ما دامت باقية ويستمر الأجر حتى بعد وفاته:			
	أ. الزكاة	ب. الخراج	ج. الجزية	د. الوقف الإسلامي
ص ٣١	١٥/ الشيخ الذي افتتح المسجد الكبير في عام ١٩٨٦م هو:			
	أ. جابر الاحمد الصباح	ب. سعد العبد الله الصباح	ج. صباح الأحمد الصباح	د. نواف الأحمد الصباح
ص ٣١	١٦/ الطراز المعماري الذي يعكس التصميم الأندلسي والمنقوشات الإسلامية في دولة الكويت يسمى			
	أ. مسجد السلطان أحمد	ب. المسجد النبوي	ج. مسجد عمر بن الخطاب	د. المسجد الكبير
ص ٣٣	١٧/ أول القبلتين في الإسلام وأحد أكبر مساجد العالم :			
	أ. المسجد النبوي	ب. الكعبة المشرفة	ج. المسجد الأقصى	د. مسجد عمر بن الخطاب
ص ٣٢	١٨/ المسجد الذي رفع إبراهيم وابنه إسماعيل عليهما السلام قواعده وأصبح مثابة للناس وأماناً يسمى :			
	أ. الكعبة المشرفة	ب. المسجد النبوي	ج. المسجد الأقصى	د. المسجد الكبير
ص ٣٢	١٩/ مركزاً دينياً وسياسياً وثقافياً للدولة الإسلامية الجديدة هو			
	مكة المكرمة:	المسجد الكبير	المسجد النبوي	المسجد الأقصى
ص ٣٣	٢٠/ يقع جامع عمرو بن العاص في :			
	أ. الاردن	ب. الأندلس	ج. الفسطاط	د. مرو
ص ٣٣	٢١/ تقع جامعة الزيتونة في :			
	أ. قرطبة	ب. تونس	ج. دمشق	د. بغداد
ص ٣٥	٢٢/ يقع قصر الحمراء بمدينة غرناطة في :			
	أ. الأندلس	ب. دمشق	ج. قرطبة	د. القاهرة
ص ٣٧	٢٣/ الخليفة العباسي الذي شجع على العلم وحركة الترجمة :			
	المأمون	هشام بن عبد الملك .	معاوية بن ابي سفيان	يزيد بن الوليد

ص ٣٨	٢٤ / يعتبر مجمع باي كاليان احد المراكز العلمية للحضارة الاسلامية ويقع في مدينة:			
	أ- دمشق	ب- بخاري	ج- بغداد	د- المدينة المنورة
ص ٣٨	٢٥ / يعتبر بيت الحكمة من أهم المراكز العلمية في الحضارة الإسلامية ويقع في :			
	أ- بغداد	ب- دمشق	ج- الاردن	د- اوزباكستان
ص ٣٨	٢٦ / يعتبر المرصد الفلكي من أهم المراكز العلمية في الحضارة الاسلامية ويقع في :			
	أ- دمشق	ب- بغداد	ج- أذربيجان	د- اوزباكستان
ص ٣٩	٢٧ / العالم الذي له الفضل في تطوير فكرة الكاميرا هو:			
	أ- الخوارزمي	ب- الرازي	ج- الادريسي	د- الحسن بن الهيثم
ص ٣٩	٢٨ / أشهر علماء الجبر ألف كتاب الجبر والمقابلة هو :			
	أ- الخوارزمي	ب- الرازي	ج- الادريسي	د- الحسن بن الهيثم
ص ٤٠	٢٩ / أشهر علماء الطب ألف كتاب الحاوي في الطب هو :			
	أ- البيروني	ب- الادريسي	ج- الرازي	د- الخوارزمي
ص ٤٠	٣٠ / ألف العالم الجاحظ ٣٥٠ كتاب وأهمهم كتاب :			
	أ- الحيوان	ب- الصيدلة في الطب	ج- الجبر والمقابلة	د- نزهة المشتاق في اختراق الآفاق
ص ٤١	٣١ / أحد مراكز إشعاع الحضارة الاسلامية الى أوروبا تمثلها حاليا دولة (إيطاليا) هي :			
	أ- بلاد الأندلس	ب- صقلية	ج- بلاد الشام	د- بلاد الرافدين
ص ٤١	٣٢ / تمثل الدول الحالية (إسبانيا والبرتغال) أحد مراكز إشعاع الحضارة الاسلامية الى أوروبا هي :			
	أ- بلاد الأندلس	ب- صقلية	ج- بلاد الشام	د- بلاد الرافدين
ص ٤١	٣٣ / تمثل الدول الحالية (سوريا ولبنان والاردن وفلسطين) أحد مراكز الإشعاع الحضارة الاسلامية الى أوروبا هي :			
	أ- بلاد الأندلس	ب- صقلية	ج- بلاد الشام	د- بلاد الرافدين
ص ٤٢	٣٤ / تأثر العالم الانجليزي روجر بيكون بالعالم والفيلسوف الكندي في مجال :			
	الفلسفة	الجغرافيا	الطب	الرياضيات

٤) صوب ما تحته خط في العبارات التالية :

الصفحة	الرقم	العبارة	التصويب
١٧	١.	قامت الدولة الإسلامية- في القرن السابع الميلادي.	الثامن
١٧	٢.	قامت الدولة الإسلامية في بيت المقدس .	المدينة المنورة
٢١	٣.	في كل عام يحتفل العالم الاسلامي بيوم اللغة العربية في تاريخ ١٨ نوفمبر	ديسمبر
٢٤	٤.	أطلقت الأمم المتحدة لقب قائد العمل الإنساني للشيخ جابر الاحمد الصباح	صباح الأحمد الصباح
٢٤	٥.	لقب للشيخ صباح الأحمد الصباح بقائد العمل الإنساني بتاريخ ٩ سبتمبر عام ٢٠١٤م.	٢٠١٤م
٢٥	٦.	ظهر منصب إداري جديد في الدولة الإسلامية بعد وفاة الرسول ﷺ هو الوالي	الخلافة
٢٥	٧.	ظهر العديد من الكيانات السياسية من ممالك وسلطنات وامارات. في عهد الدولة الأموية.	العباسية
٢٥	٨.	توفى الرسول- صلى الله عليه وسلم- في ١٢ من ربيع الأول عام ١٢ هـ	١١ هـ
٢٧	٩.	تم أنشأ ديوان الماء في مدينة قرطبة.	مرو
٢٧	١٠.	برزت الصناعات الخشبية عند العرب وسميت نسبة لهم هي الخزف.	الأرابيسك
٢٨	١١.	مقدار الزكاة على الأموال النقدية التي حال عليها الحول ٢٥٪.	٢,٥ ٪
٣٢	١٢.	أماكن تقام فيها الصلوات وخطبة الجمعة والتعليم الديني هي القصور	المساجد
٣٣	١٣.	أنشأ المسجد النبوي بالمدينة المنورة خلال ثلاث شهور من الهجرة .	شهرين
٣٣	١٤.	يقع الجامع الأزهر في دمشق.	القاهرة
٣٣	١٥.	يقع جامع قرطبة في السعودية.	الاندلس
٣٣	١٦.	يقع مسجد عمر بن الخطاب بدومة الجندل في اسبانيا .	المملكة العربية السعودية
٤٠	١٧.	أشهر علماء المسلمين في الطب هو البكري.	أبو بكر الرازي

٥) ضع علامة (✓) أمام العبارة الصحيحة، وعلامة (×) أمام العبارة الخاطئة مع التصويب:

الصفحة	الرقم	العبارة	أ	ب	التصويب
٢٤	١	أطلق لقب قائد العمل الإنساني على كل من حضرة صاحب السمو أمير البلاد الشيخ صباح الأحمد الصباح والداعية الدكتور عبدالرحمن السميطة.			
٢٥	٢	ظهر منصب المحتسب في عهد الخليفة أبو بكر الصديق رضي الله عنه.			عمر بن الخطاب
٢٥	٣	توفي الرسول صلى الله عليه وسلم في عام ١٣ هجرية.			١١هـ
٢٥	٤	اول خليفة للدول الاسلامية اسمه ابي بكر الصديق.			
٢٥	٥	اجتمع المسلمون لاختيار خليفة لرسول ﷺ في مكان سقيفة بني ساعدة.			
٢٧	٦	صناعة خشبية برع المسلمون بصناعتها وسميت نسبة لهم هي الأرابيسك			
٢٨	٧	الخراج هو ضريبة الارض الزراعية التي تخرج مبلغا ماليا معيناً من ناتج المحصول الزراعي			
٢٨	٨	تجب الزكاة على الأموال النقدية التي حال عليها الحول بواقع ٥٪			٢,٥٪
٢٩	٩	الخراج هو مال يؤخذ من اهل الذمة (اليهود - والنصارى).			الجزية
٣٠	١٠	من أهم مميزات المظاهر العمرانية في الحضارة الاسلامية القباب والمآذن والمنابر والزخارف والأسوار .			
٣١	١١	افتتح الشيخ جابر الاحمد الصباح المسجد الكبير			
٣١	١٢	تم افتتاح المسجد الكبير في عام ١٩٨٨م			١٩٨٦م
٣١	١٣	صمم المسجد الكبير على طريقة الطراز الاندلسي الاسلامي.			
٣٣	١٤	المسجد الأقصى هو أول القبلتين وأحد أكبر مساجد العالم			
٣٣	١٥	الخليفة الذي ضم حجرات بيت الرسول ﷺ الى المسجد هو علي بن ابي طالب			عبد الملك بن مروان
٣٤	١٦	قصر الخضراء بناه الخليفة الأموي معاوية بن ابي سفيان .			
٣٤	١٧	قصر عمرة بناه الخليفة يزيد بن الوليد .			
٣٥	١٨	تم بناء قصر الرصافة في عهد الخليفة مروان بن عبد الملك .			هشام بن عبد الملك
٣٩	١٩	العالم الذي له الفضل في تطوير فكرة الكاميرا هو الحسن بن الهيثم			
٣٩	٢٠	الكاميرا كلمة اشتقت من العدسة			قمرة
٤٢	٢١	اشتهرت كتابات الادريسي نزهة المشتاق في اختراق الآفاق في مجال الطب			الجغرافيا

(٦) استنتج الرابط بين العناصر التالية :

- ١/ الرياضيات + الفيزياء + الكيمياء + الفلسفة + الفلك
٢/ علوم الدين + حديث + فقه + تفسير + تاريخ
٣/ مساجد + قصور + مستشفيات + مكاتب + الأدوات + الاختراعات. (الجانب المادي)
٤/ العلوم + الفكر + الأدب + الأخلاق + السياسة + الثقافة (الجانب الروحي)
٥/ القرآن الكريم والسنة النبوية + اللغة العربية + الحضارات الأخرى (اسس الحضارة الإسلامية)
٦/ شمولية + عالمية + تسامح + حضارة إيمان وعمل + إنسانية (خصائص الحضارة الإسلامية)
٧/ الوزير + الوالي + الحاجب + القاضي + المحتسب (مناصب الإدارية)
٨/ سور الأحساء + سور القاهرة + سور بغداد (الأسوار العمرانية)
٩/ أهل الذمة + رجال الدين + الحكام + الخدم + التجار (الفئات الاجتماعية)

(٧) من أنا أو ماذا أمثل أو من نحن أو من نكون :

ص ٢٧




صناعة خشبية
برع المسلمين
بصناعتها
أنا الأرابيسك

ص ٢٥


منصبي إداري
جديد استحدثت
في عهد الخليفة
الراشد الثاني عمر
بن الخطاب رضي الله عنه :
أنا المحتسب



ص ٣٢



مسجد رفع بنيانه نبي الله
إبراهيم وابنه إسماعيل
عليهما السلام
قواعده. أنا الكعبة



ص ٢٠

أنشأت الحضارة
الإسلامية بنا
ماذا نمثل
أسس الحضارة
الإسلامية

(٨) صنف الكلمات التالية إلى مكانها المناسب في الجدول التالي:

أ- أسماء الكتب - أو العلماء (الحيوان / الصيدلة في الطب / الجبر والمقابلة / الحاوي في الطب / نزهة المشتاق في اختراق الأفاق

الصفحة	٤٠	١٩	٢٩	٤٠	٤٢
العالم	الجاحظ	البيروني	الخوارزمي	أبو بكر الرازي	الشريف الإدريسي
الكتاب	الحيوان	الصيدلة في الطب	الجبر والمقابلة	الحاوي في الطب	نزهة المشتاق في اختراق الأفاق

ب- اسم المسجد أو مكانه ص ٣٢-٣٣ (مكة المكرمة/ المدينة المنورة/ القدس) فلسطين المحتلة

الصفحة	٣٢	٣٣	٣٣
اسم المسجد	الكعبة المشرفة	المسجد النبوي	المسجد الأقصى
المكان	مكة المكرمة:	المدينة المنورة	القدس (فلسطين المحتلة)

- الفسطاط/ القاهرة / تونس/ الأندلس / دمشق/ المملكة العربية السعودية / إسطنبول

المسجد الأموي	جامع عمرو بن العاص	الجامع الأزهر	جامعة الزيتونة	جامع قرطبة	مسجد السلطان أحمد	مسجد عمر بن الخطاب
دمشق	الفسطاط	القاهرة	تونس	الأندلس	إسطنبول	المملكة العربية السعودية

ج- القصور + الأدب + الثقافة + الأدوات + الاختراعات + الأخلاق + السياسة + مساجد **ص ١٨**

الجوانب المادية	الجوانب الروحية
القصور- الأدوات- الاختراعات مساجد	الأدب- الثقافة- الأخلاق- السياسة

القرآن الكريم + شمولية + تسامح + إيمان وعمل اللغة العربية + إنسانية + عالمية

اسس الحضارة الإسلامية ص ٢٠	خصائص الحضارة الإسلامية ص ٢٢
القرآن الكريم - اللغة العربية	شمولية- عالمية- إنسانية- تسامح- إيمان وعمل

(٩) ضع أسماء الخلفاء أو القصور التالية أسماؤهم كلا في مكانه حسب الجدول التالي:

ص ٢٥/٢٤

هشام بن عبد الملك / معاوية بن أبي سفيان / يزيد بن الوليد

الرصافة / الخضر / عمرة

الخليفة	هشام بن عبد الملك	معاوية بن أبي سفيان	يزيد بن الوليد
اسم القصر	الرصافة	الخضر	عمرة
المكان	سوريا	دمشق	الأردن

(١٠) أكمل المخططات السهمية التالية :

الحضارات الأخرى التي طورت الحضارة الاسلامية ص ١٧



المجالات التي أثرت بالعلماء الأوربيين ص ٤٢ / ٤٣



أهم المراكز العلمية في الحضارة الاسلامية ص ٣٨



المظاهر الاقتصادية للحضارة الإسلامية ص ٢٦ / ٢٧ / ٢٨



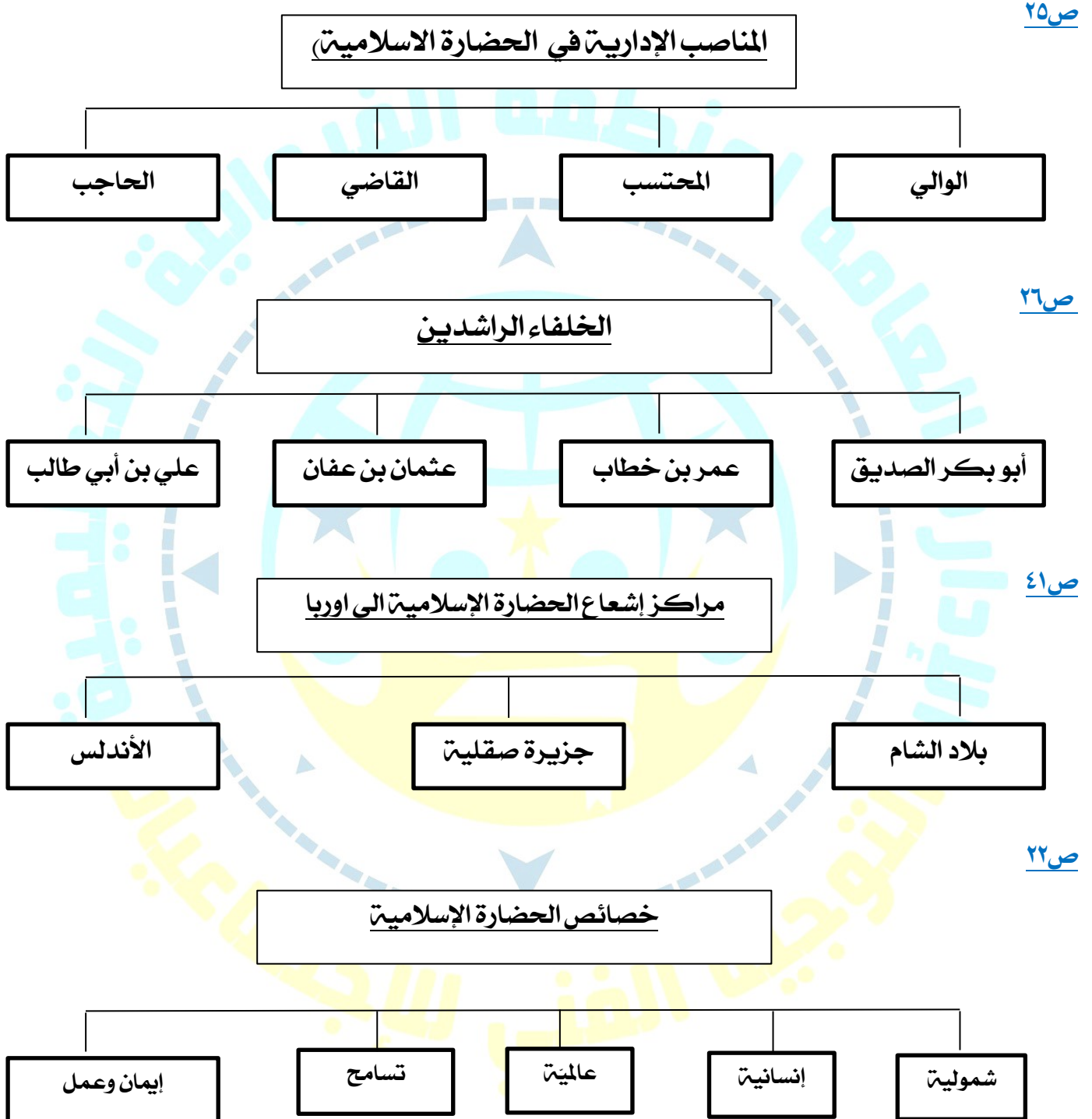
مميزات المظاهر العمرانية في الحضارة الإسلامية ص ٢٠



أشهر المساجد التاريخية في العالم الإسلامي ص ٢٣ / ٢٢



(١١) اكتب عنوانا للمخططات السهمية التالية :



١٢) اختر للمجموعة (أ) ما يرتبط بها من المجموعة (ب) بوضع الرقم المناسب. ص ٤١



م	المجموعة (أ)	الرقم المناسب	المجموعة (ب)
١	بلاد الأندلس	٣	سوريا - لبنان - فلسطين - الاردن
٢	صقلية	٢	إيطاليا
٣	بلاد الشام	١	إسبانيا والبرتغال
		—	بريطانيا

م	المجموعة (أ)	الرقم المناسب	المجموعة (ب)
١	كتاب الحيوان	٢	البيروني
٢	كتاب الصيدلة في الطب	—	الخوارزمي
٣	كتاب نزهة المشتاق في اختراق الآفاق	١	الجاحظ
		٢	الادريسي

م	المجموعة (أ) ص ٢٩/٢٨	الرقم المناسب	المجموعة (ب)
١	مبلغ يخرج المسلمون الأغنياء من الأموال والثروات للمستحقين من الفقراء	٣	الجزية
٢	ضريبة الأرض الزراعية التي تخرج مبلغا ماليا معيناً من ناتج المحصول الزراعي	٢	الخراج
٣	مبلغ مالي يدفعه الرجال غير المسلمين من أهل الذمة نظير حماية الدولة لهم.	١	الزكاة
٤	صدقة جارية يوقفها المرء في حياته لوجوه الخير والبر، ويكون أجرها ونفعها ما دامت باقية ويستمر الأجر حتى بعد وفاته.	٤	الوقف الإسلامي
		—	الصدقة

ص ٢٥

١٢ / أ. أعد ترتيب الأحداث التالية ترتيباً تصاعدياً من الأقدم إلى الأحدث بوضع الرقم الصحيح في المربع

ترتيب الأحداث	الأحداث
٤	١- ظهور منصب إداري جديد في الدولة الإسلامية وهو الخليفة.
٢	٢- اجتماع المسلمون في سقيفة بني ساعدة.
٣	٣- اختيار أبي بكر الصديق - <small>رضي الله عنه</small> كأول حاكم بعد الرسول - <small>صلى الله عليه وسلم</small> .
٥	٤- استحداث منصب إداري جديد في عهد الخليفة الراشد الثاني عمر بن الخطاب - <small>رضي الله عنه</small> .
١	٥- وفاة الرسول - <small>صلى الله عليه وسلم</small> في ١٢ من ربيع الأول عام ١١ هـ.

ص ٢٦

ب. أعد ترتيب رتب الخلفاء الراشدين ترتيباً تصاعدياً من حيث فترة توليهم الخلافة:

عمر بن الخطاب - عثمان بن عفان - علي بن أبي طالب - أبو بكر الصديق

أبو بكر الصديق	عمر بن الخطاب	عثمان بن عفان	علي بن أبي طالب
----------------	---------------	---------------	-----------------

١٤ / لاحظ الشكل المقابل ، ثم أجب عن الأسئلة التالية :



ص ٣١

(١) أكمل العبارات التالية بما يناسبها :
الشكل المقابل يمثل معلم ديني يسمى المسجد الكبير
تم افتتاح هذا المعلم في عام ١٩٨٦م
الشيخ الذي تم في عهده افتتاح هذا المعلم هو جابر الأحمد الصباح



ص ٢٧

(١) أكمل العبارات التالية بما يناسبها :
الشكل المقابل يمثل (الصناعات في الحضارة الاسلامية)
اذكر اثنين منها
(٢) صناعة الأسلحة (٣) صناعة الخزف والمعادن



ص ٣٣


(١) أكمل العبارات التالية بما يناسبها :
- الشكل المقابل يمثل (المسجد الأقصى)
- ماذا يمثل هذا المعلم للمسلمين؟
أول القبليتين في الاسلام - وأكثر الأماكن قدسية للمسلمين
وأحد أكبر مساجد العالم .
في أي دولة يقع ؟ (القدس) في فلسطين المحتلة



ص ٤٢

(١) أكمل العبارات التالية بما يناسبها :
- الشكل المقابل يمثل (خريطة الادريسي)
- من هو العالم الذي قام برسم خريطة كروية الأرض ؟ الادريسي
ما اسم أشهر كتبه ؟ نزهة المشتاق في اختراق الافاق
في أي مجال اشتهر ؟ مجال الجغرافيا

١٥ / ضع عنوانا مناسباً للـ... (الصور - الأشكال - الخرائط - المعلومات - ... الخ) التالية :



أسس الحضارة الاسلامية ص ٢٠



علماء المسلمين ص ٤٠/٣٩

الصناعات في الحضارة الاسلامية ص ٢٧




معايير الحضارة الاسلامية الى أوروبا ص ٤١
أومراكز اشعاع الحضارة الاسلامية

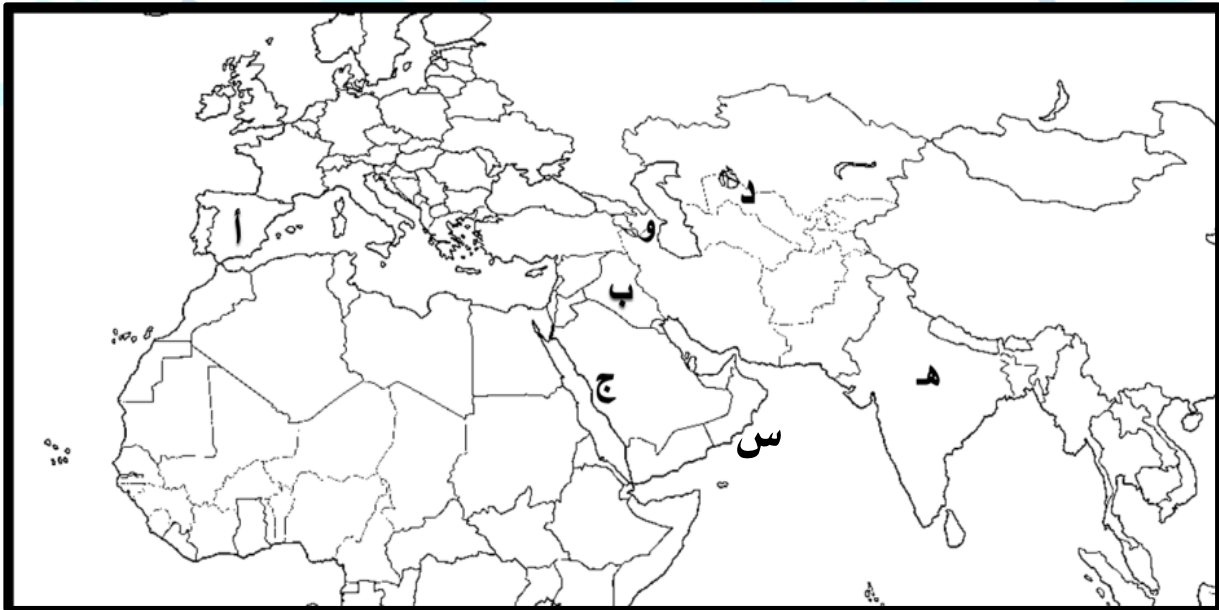
(١٦) لاحظ الصورة التي أمامك ، ثم أكتب الحدث التاريخي الدال عليها :

ص ٢٤ :

تكريم الشيخ صباح الأحمد الصباح، والذي لقب من قبل الأمم المتحدة (بقائد العمل الإنساني) بتاريخ ٩ سبتمبر ٢٠١٤م في مجال العمل الخيري والإنساني



(١٧) أمامك خريطة مقطعية من العالم الاسلامي نفذ المطلوب :



- بلاد الأندلس من مراكز الاشعاع يمثلها على الخريطة الحرف : **أ** ص ٤١
- المرصد الفلكي في أذربيجان يمثلها على الخريطة الحرف **و** ص ٣٨
- بيت الحكمة يمثلها على الخريطة الحرف : **ب** ص ٣٨
- مجمع باي كاليان يمثلها على الخريطة الحرف : **د** ص ٣٨
- مسجد رفعه نبي الله ابراهيم واسماعيل يمثلها على الخريطة الحرف : **ج** ص ٣٢
- بحر العرب يمثلها على الخريطة الحرف **س** ص ٥٦

الأسئلة المقالية :

(١) فرق بين كل مما يلي :

- ١- الصادرات والواردات في الحضارة الاسلامية - ص ٢٨

الواردات	الصادرات
الأخشاب والتوابل والذهب	التمور والفواكه واللبن والخيول العربية

٢- مفاهيم كل من التالية : ص ٢٨ / ٢٩

الوقف الإسلامي	الجزية	الخراج	الزكاة
صدقة جارية يوقفها المرء في حياته لوجوه الخير والبر، ويكون أجرها ونفعها ما دامت باقية ويستمر الأجر حتى بعد وفاته.	مبلغ مالي يدفعه الرجال غير المسلمين من أهل الذمة ممن هم قادرين على حمل السلاح نظير حماية الدولة لهم.	ضريبة الأرض الزراعية التي تخرج مبلغا ماليا معيناً من ناتج المحصول الزراعي	هي ركن من أركان الإسلام يخرجها المسلمون الأغنياء من الأموال والثروات للمستحقين من الفقراء

(٢) عرف المفاهيم أو المصطلحات التالية :

ص ١٨	١- الحضارة : هي كل ما يطرأ على المجتمع من تقدم وتطور ورقي سواء في الجانب المادي
ص ٢٨	٢- الخراج : ضريبة الارض الزراعية التي تخرج مبلغا ماليا معيناً من ناتج المحصول الزراعي
ص ٢٨	٣- الزكاة: ركن من أركان الاسلام يخرجها المسلمون الاغنياء للمستحقين من الفقراء
ص ٢٨	٤- من الاموال والثروات وقيمتها ٢,٥٪ .
ص ٢٩	٥- الجزية: مبلغ مالي يدفعه الرجال غير المسلمين من أهل الذمة ممن قادرين على حمل السلاح نظير حماية الدولة لهم.
ص ٢٩	٦- الوقف الإسلامي : صدقه جاريه يوقفها المرء في حياته لوجوه الخير والبر ، ويكون اجرها ونفعها ما دامت باقية ويتم الاجر بعد وفاته
ص ٣٢	٧- المساجد : أماكن تقام فيها الصلوات وخطبة الجمعة والتعليم الديني .
ص ٣٤	٨- القصور: هي مقر الحاكم والمكان الذي يضم المؤسسات الادارية كالوزارة والدواوين
ص ٣٦	٩- اهل الذمة : هم النصارى واليهود الذين ظلوا على دينهم مع دفع الجزية .
ص ٣٠	١٠- الفسيفساء: مجموعة من المكعبات الزجاج المون والشفاف وقطع من الحجر الابيض والاسود والقطع الخزفية تثبت فوق طبقة من الجص أو الاسمنت بشكل منظم متناسق باللون والشكل

(٣) فسر :

١. تسمية الحضارة الإسلامية بهذا الاسم . - نسبة الى الدين الإسلامي . وتمثل اللغة وسيلة التعبير عنها ص ١٨
٢. تسمية صناعة الأرابيسك بهذا الاسم . - سميت بهذا الاسم نسبة إلى العرب. ص ٢٧
٣. تسمية الزكاة بهذا الاسم . - سميت الزكاة لما فيها من تزكية للنفس وتطهيرها ص ٢٨

(٤) علل / اذكر السبب .

١. أهتمت الحضارة الإسلامية بالموارد الاقتصادية والمالية . ص ٢٦
٢. بسبب دورها في تقدم البلاد وازدهار وتوفير أسباب العيش الكريم.
٢. اهتمت الدولة الإسلامية بالقطاع الصناعي اهتماما كبيرا. ص ٢٧
من أجل استثمار الموارد الطبيعية المتوفرة بها.
٣. تدين أوروبا بالفضل الكبير للحضارة الإسلامية . ص ٤٢
لأنها كانت السبب في النهضة الصناعية والعلمية الأوروبية الحديثة .
٤. لقيت التجارة تشجيعا كبيرا في الحضارة الإسلامية . ص ٢٨
لدورها الكبير في التبادل التجاري مع المناطق المجاورة ب/ اسهمت في نشر الدين الإسلامي ج/ ازدهار التجارة بالوارد والصادر
٥. ازدهار العلم وظهور العلماء في الدولة الإسلامية ص ٢٧
تشجيع العلماء والرعاية / التنافس العلمي بين الدول الإسلامية / حركة التعريب / الرخاء الاقتصادي

(٥) برهن علي صحة العبارة التالية:

- ١/ انعكس أثر خصائص الحضارة الإسلامية على دولة الكويت: ص ٢٤
 - نشأ الشعب الكويتي على التراحم والعدل والتسامح والمساواة.
 - العمل على فعل الخير من خلال تأسيس المؤسسات والهيئات والجمعيات الخيرية
 - مد يد العون سواء المسلمين أو غير المسلمين
- ٢/ كان لجزيرة فيلكا دور يعود للعصر الإسلامي: ص ٢٨
رصد قرية القرينية في شمال جزيرة فيلكا والقصور في وسطها ازدهرتا بازدهار الطريق التجاري البحري عبر الخليج العربي.. وكانت تمارس فيهما التجارة والغوص على اللؤلؤ والزراعة والرعي.
- ٣/ استفاد الاوروبيون من الحضارة الاسلامية في عدة مجالات منها الجغرافيا والفلسفة واستخراج المياه الجوفية. ص ٤٢- ٤٣
المجري الجوفية في مدينة (مجريط) وهي مدريد حيث قام المسلمون بمد المجري الجوفية تحت الأرض بطريقة هندسية محكمة.
الجغرافيا: أثبتوا أن الأرض كروية واكتشفوا الأمريكيتين نتيجة لترجمتهم لكتاب الإدريسي الإنجليزي روجر بيكون في القرن السابع الهجري تأثر بكتاب الهندسة للفيلسوف الكندي

٦) دليل على صحة العبارة التالية:

١/ كان للمسلمين جهود عديدة في الزراعة ص ٢٦
أ/ شق القنوات المائية والترع . ب/ اقامة السدود . ج/ تنظيم وسائل الري (إنشاء ديوان الماء)

٢/ شعب الكويت جبل على حب الخير الدائم والأجر المستمر. ص ٢٩
. انشاء وزارة الأوقاف والشؤون الاسلامية

٧) اذكر ما تعرفه عن البيروني : ص ١٩

عدد مؤلفاته	180 مؤلف
أشهر مؤلفاته	كتاب الصيدلة في الطب
أهم اكتشافاته	معادلة نصف قطر الأرض والتي سميت باسمه (معادلة البيروني)

١٨ عدد .

١/ عدد اسس الحضارة الاسلامية : ص ٢٠

أ. الدين الاسلامي بد اللغة العربية ج. الحضارات الاخرى

٢/ عدد الصناعات التي ظهرت في الحضارة الاسلامية . ص ٢٧

صناعة السفن - صناعة الأسلحة - صناعة الورق - صناعة الأدوية - صناعة المنسوجات - صناعة الخزف
والمعادن - كذلك برزت الصناعات الخشبية

٣/ عدد العوامل أدت إلى ازدهار العلم وظهور العلماء: ص ٣٧

- ١) تشجيع العلماء ورعايتهم وتمويل القيادات السياسية لهم من خلفاء وملوك وسلاطين وأمراء.
- ٢) التنافس العلمي بين الدول الإسلامية.
- ٣) حركة التعريب (الترجمة للكتب القديمة اليونانية والهندية والفارسية وغيرها).
- ٤) الرخاء الاقتصادي.

٤/ عدد المناصب السياسية في الدولة الإسلامية . ص ٢٥

(الخليفة - الوالي - القاضي - الحاجب - المحتسب)

٥/ عدد خصائص الحضارة العربية الإسلامية . ص ٢٢ / ٢٣

(تسامح - إيمان وعمل - إنسانية - عالمية - شمولية)

ص ٢٤

٦/ عدد الشخصيات الكويتية التي أطلق عليها لقب قائد العمل الانساني

أ. الشيخ صباح الأحمد الصباح ب. الداعية عبدالرحمن السمي

٩) أجب عن الأسئلة التالية:

ص ٢٨

١/ ماهي موارد بيت مال المسلمين ؟ الزكاة - الخراج - الجزية - الوقف الإسلامي

ص ٣٠

٢/ ما أهم مميزات المظاهر العمرانية ؟ الأسوار - القباب - المآذن - المنابر - الزخارف

ص ٢٢

٣/ ماهي نتائج حضارة إيمان وعمل ؟ التنمية والإبداع / حفظ التراث

ص ٢٩

٤/ ما أهمية الوقف الاسلامي .

- يسد حاجات الفقراء ونشر العلم النافع وبناء المدارس ودور الأيتام

ص ٣٢

٥/ أهمية المساجد في العالم الاسلامي

- تقام فيها الصلوات وخطبة الجمعة والتعليم الديني

١٠ / أقرأ الفقرة التالية ثم أجب على الأسئلة التي تليها : ص ٢١

أن الجمعية العامة للأمم المتحدة أصدرت في شهر ديسمبر عام ١٩٧٣ قراراً بإدخال اللغة العربية ضمن اللغات الرسمية ولغات العمل في الأمم المتحدة وهي الإنجليزية والفرنسية والصينية والروسية والإسبانية ، بعد اقتراح قدمته المملكة العربية السعودية ومملكة المغرب ويعتبر هذا تأكيد على انتشار اللغة العربية واعتبر يوم ١٨ ديسمبر من كل عام يوم الاحتفال باللغة العربية.

١- ما هو التاريخ الذي تم الاعتراف به في اللغة العربية ١٨ ديسمبر من كل عام

٢- استنتج ثلاثة أفكار من الفقرة السابقة

أ- ادخال اللغة العربية ضمن اللغات الرسمية.

ب- تقديم المملكة العربية السعودية ومملكة المغرب اقتراح بإدخال اللغة العربية.

ج- عدد اللغات الرسمية المعترف بها ستة لغات (الإنجليزية والفرنسية والصينية والروسية والإسبانية ، العربية)

٣ - استخلص حقيقة من الفقرة السابقة . (أي حقيقة يراها الطالب صحيحة)

أ- انتشار اللغة العربية في العالم .

ب- كان للمملكة العربية السعودية ومملكة المغرب فضلاً في الاعتراف باللغة العربية كلغة رسمية.

٤ - اقترح عنواناً مناسباً للفقرة (الاقتراحات تكون من ذهن المتعلم ولا تكون مذكورة في الكتاب)

يعتبر المسجد الكبير من أهم المظاهر العمرانية في دولة الكويت له إطلاله جميلة ومنظر بديع، حيث يقع في قلب العاصمة مقابل قصر السيف، والذي افتتح في عام 1986 في عهد الشيخ جابر الأحمد الصباح، وقد صمم المسجد وفق الطراز الأندلسي الإسلامي.

١- استخرج من الفقرة السابقة ص ٣١

في عهد أي شيخ تم افتتاح المسجد الكبير ؟ متى تم افتتاح المسجد الكبير؟

عهد الشيخ جابر الأحمد الصباح،
افتتح في عام ١٩٨٦

٢ - استخلص حقيقة من الفقرة السابقة .

تم بناء المسجد الكبير وفق الطراز الأندلسي الإسلامي

يقع المسجد الكبير في قلب عاصمة الكويت مقابل قصر السيف

من مقولات المفكر الفرنسي في كتاب حضارة العرب > . لم يعرف التاريخ أمةً أرحم من العرب (المسلمين .) والرحمة والعدل عندهم متلازمان، و"لقد فاق العرب (المسلمين) كل من سبقهم من الأمم وظهرت قوتهم الإبداعية في مختلف الفنون

ص ٢٢/٢٣

١ / من القائل؟ المفكر الفرنسي غوستاف لوبون

٢ / على ماذا تدل؟ اعتراف الغرب بدور الحضارة الإسلامية

١١) اكتب مما درست حول : ص ٢١

١/ يوم الاحتفال باللغة العربية.

أن الجمعية العامة للأمم المتحدة أصدرت في شهر ديسمبر عام ١٩٧٣ قرارا بإدخال اللغة العربية ضمن اللغات الرسمية بعد اقتراح قدمته المملكة العربية السعودية ومملكة المغرب ، واعتبر يوم ١٨ ديسمبر من كل عام يوم الاحتفال باللغة العربية.

١٢) المسجد الأقصى : ص ٢٣

هو أحد أكبر مساجد العالم أول القبليتين يقع في القدس وهو كامل المنطقة المحاطة بالسور ويشمل قبة الصخرة والمسجد القبلي والمصلى المرواني وعدة معالم



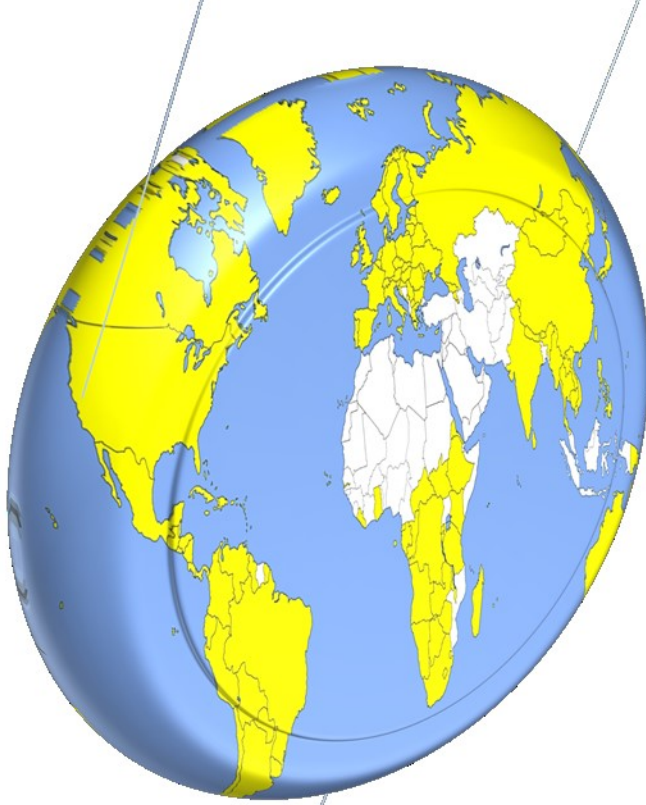
١٣) مجالس القصص والوعاظ، ص ٢٦

هي مجالس توجد في المجتمع الإسلامي لسماع القصص والحكايات

الوحدة الثانية

البيئة الطبيعية
للعالم الإسلامي وأثرها على
الاقتصاد والمجتمع

البيئة الطبيعية لدول العالم الإسلامي المعاصرة	أولاً
	أ- الموقع . ب- التضاريس (الجبال - الهضاب - سهول - لجانل) . ج- المناخ .
تأثير البيئة الطبيعية في دول العالم الإسلامي على الاقتصاد والمجتمع	ثانياً
	أ- ثروات الطاقة والمعادن . ب- الفورة الزراعية . ج- الفورة للسكنية .
	الخاتمة



الأسئلة الموضوعية

الوحدة الثانية

١. أكمل العبارات التالية بما يناسبها فيما درست :

- ١/ تتواجد دول العالم الاسلامي ضمن ٤ قارات . ص ٥١
- ٢/ تبلغ مساحة العالم الاسلامي حوالي ٣٢ مليون كم^٢. ص ٥١
- ٣/ تبلغ مساحة العالم الاسلامي بالنسبة لمساحة العالم حوالي ٢٢,٢% ص ٥١
- ٤/ الدولة الاسلامية الوحيدة في قارة امريكا الجنوبية تسمى سورينام. ص ٥١
- ٥/ يقع العالم الاسلامي بين خطي طول ١٨ غرباً الى ١٤١ شرقاً ص ٥٢
- ٦/ يقع العالم الاسلامي بين دائرتي عرض ١٣ جنوب خط الاستواء الى ٥٥ شمال خط الاستواء. ص ٥٢
- ٧/ أكبر الدول الاسلامية مساحة تسمى جمهورية كازاخستان ص ٥٢
- ٨/ أصغر الدول الاسلامية مساحة تسمى جمهورية المالديف. ص ٥٢
- ٩/ جبال تضم مكة و تحجز سهل تهامة في الغرب عن هضبة نجد في الشرق تسمى مرتفعات الحجاز ص ٥٥
- ١٠/ يطلق على هضبة الصحراء الكبرى بهضبة أفريقيا الشمالية ص ٥٦
- ١١/ أكبر هضبة في العالم الاسلامي تمتد من ساحل المحيط الأطلسي غربا الى مرتفعات البحر الاحمر شرقا تسمى هضبة الصحراء الكبرى ص ٥٧
- ١٢/ تنقسم السهول في العالم الى نوعين سهول فيضيه و سهول ساحلية. ص ٥٨
- ١٣/ أشهر سهول دولة الكويت يمتد من جون الكويت باتجاه الجنوب موازيا للساحل يسمى سهل برقان ص ٥٨
- ١٤/ سهل يقع في شمال دولة الكويت يسمى الروضتين ص ٥٨
- ١٥/ يشبه الجبل ولكن ارتفاعه يكون اقل من ١٠٠٠ متر. يسمى التل. ص ٦٠
- ١٦/ أكثر الأقاليم المناخية انتشارا في دول العالم الاسلامي الاقليم الصحراوي. ص ٦٢
- ١٧/ مساحة من الارض تتصف بعناصر مناخية متشابهة اسم الاقليم المناخي. ص ٦٥
- ١٨/ من اهم مصادر الطاقة في العالم الغاز الطبيعي و النفط ص ٦٧
- ١٩/ يبلغ إجمالي احتياطي النفط الخام في دول العالم الاسلامي من إجمالي الاحتياطي العالمي حوالي ٥٨,٥% ص ٦٩
- ٢٠/ أكثر المعادن انتاجا في العالم الاسلامي هو اليورانيوم ص ٧٠
- ٢١/ أكثر دوله انتاجا لمعدن اليورانيوم لعام ٢٠١٤ بنسبة ٤١% تسمى كازخستان. ص ٧٠
- ٢٢/ تبلغ نسبة إنتاج العالم الاسلامي من الحبوب بالنسبة للعالم حوالي ١٤% ص ٧٢
- ٢٣/ المحاصيل التي تزرع من اجل التصدير تسمى الغلات النقدية ص ٧٣
- ٢٤/ تصنع الحبال وبعض انواع الاحذية و الحقائب والأقمشة من أغصان نبات يسمى الجوت ص ٧٣
- ٢٥/ الدولة التي احتلت المركز الثاني على مستوى العالم للإنتاج البحري في عام ٢٠١٤ تسمى إندونيسيا. ص ٧٤
- ٢٦/ يعد من المصادر غير الطبيعية لإنتاج الاسماك يسمى الاستزراع السمكي ص ٧٤
- ٢٧/ الدولة التي لا تطل على سطح مائي تسمى دوله مغلقة ص ٧٥

٢ (اكتب المفاهيم أو المصطلحات الدالة على العبارات التالية :

أشكال سطح الارض وتطلق على الجبال والهضاب والسهول والتلال	٥٣ ص	١. التضاريس
حوض أو منخفض طبيعي على سطح الارض	٥٣ ص	٢. الوادي
كل قمة لا يقل ارتفاعها عن ١٠٠٠ متر تقريبا	٥٣ ص	٣. الجبل
أجزاء فسيحة من سطح الأرض تتميز باستوائها وقلّة ارتفاعها	٥٣ ص ٥٨ ص	٤. السهول
أرض مرتفعة سطحها مستو ، وتمتد لمساحة واسعة	٥٣ ص ٥٦ ص	٥. الهضبة
يشبه الجبل ولكن ارتفاعه اقل من ١٠٠٠ متر	٥٣ ص ٦٠ ص	٦. التل
حالة الجو خلال فترة زمنية طويلة من حيث عناصره	٦٤ ص	٧. المناخ
حالة الجو في مكان لمدة قصيرة تتراوح بين يوم أو عدة أيام	٦٤ ص	٨. الطقس
مساحه من الأرض تتصف بعناصر مناخية متشابه.	٦٥ ص	٩. الإقليم المناخي
كمية النفط المخزونة في باطن الارض ولم تستخرج بعد.	٦٨ ص	١٠. احتياطي النفط
المحاصيل التي تزرع من أجل التصدير مثل : القطن والمطاط الطبيعي.	٧٣ ص	١١. الغلات النقدية
هو نبات ينمو في المناطق الاستوائية والموسمية، تؤخذ أغصانه وتوضع تحت الماء وتطمر بالطين، وبعد أيام تستخرج وتغزل ويصنع منها الحبال والأحذية والحقائب والأقمشة الخشنة.	٧٣ ص	١٢. الجوت
مصطلح يطلق على أي دولة لا تطل على مسطح مائي	٧٥ ص	١٣. دول مغلقة

٣) ظلل الخيار الصحيح من بين الخيارات التي تلي كل عبارة :

الصفحة	١/ تتواجد دول العالم الاسلامي ضمن :			
٥١	د- ست قارات	ج- خمس قارات	ب- أربع قارات	أ- ثلاث قارات
٥١	٢/ يطلق مصطلح القارات القديمة على كل من قارة آسيا وأفريقيا وقارة :			
	د- اوروبا	ج- استراليا	ب- أمريكا الشمالية	أ- أمريكا الجنوبية
٥١	٣/ يبلغ عدد الدول الاسلامية في قارة أفريقيا :			
	د- ٢٧ دولة	ج- ٢٦ دولة	ب- ٢٥ دولة	أ- ٢٤ دولة
٥١	٤/ يبلغ عدد الدول الاسلامية في قارة آسيا :			
	د- ٢٧ دولة	ج- ٢٦ دولة	ب- ٢٥ دولة	أ- ٢٤ دولة
٥١	٥/ تضم قارة أوربا دولتين اسلاميتين هما ألبانيا و :			
	د- افغانستان	ج- كازاخستان	ب- سورينام	أ- البوسنة والهرسك
٥١	٦/ الدولة اسلامية التي تقع ضمن قارة أمريكا الجنوبية هي :			
	د المانيا	ج جزر المالديف	ب ألبانيا	أ- سورينام
٥١	٧/ تبلغ مساحة العالم الاسلامي حوالي :			
	د ٣٣ كم ^٢	ج ٣٢ كم ^٢	ب ٣١ كم ^٢	أ ٣٠ كم ^٢
٥٢	٨/ اكبر الدول الإسلامية من حيث المساحة هي :			
	د افغانستان	ج باكستان	ب كازاخستان	أ -اوزباكستان
٥٢	٩/ اصغر دول العالم الاسلامي مساحة هي :			
	د- البحرين	ج- المالديف	ب- جزر القمر	أ- جيبوتي
٥٣	١٠/ كل قمة لا يقل ارتفاعها عن ١٠٠٠ متر تسمى :			
	د- وديان	ج- سهول	ب- التل	أ- الجبل
٥٤	١١/ من اهم الجبال في قارات أمريكا الجنوبية تسمى :			
	د- جبال جولييانا توب	ج- جبال أطلس.	ب- جبال زاغروس.	أ- جبال الالب
٥٧	١٢/ من اكبر الهضاب في العالم هضبة :			
	د- الإيرانية	ج- الصحراء الكبرى	ب- الأناضول	أ- نجد
٧٤	١٣/ من المصادر الغير طبيعية لإنتاج الأسماك			
	د- البحار	ج- المحيطات.	ب- الاستزراع السمكي	أ- المياه العذبة.

(٤) صوب ما تحته خط في العبارات التالية:

الصفحة	الرقم	العبارة	التصويب
٥١	١.	تتواجد دول العالم الاسلامي ضمن <u>ثلاث قارات</u>	أربع قارات
٥١	٢.	يمتد العالم الاسلامي في <u>القارات الحديثة</u>	القديمة
٥١	٣.	يطلق على آسيا وأفريقيا وأروبا مصطلح <u>القارات الجديدة</u>	القديمة
٥١	٤.	تتواجد دول العالم الاسلامي في القارات التالية: <u>آسيا وأفريقيا وأروبا وأستراليا</u>	أمريكا الجنوبية
٥١	٥.	يبلغ عدد الدول الاسلامية في <u>قارة آسيا ٢٦ دولة</u>	٢٧ دولة
٥١	٦.	يبلغ عدد الدول الاسلامية في <u>قارة أفريقيا ٢٥ دولة</u>	٢٦ دولة
٥١	٧.	تضم قارة أوروبا دولتين اسلاميتين هما <u>البوسنة والهرسك وألمانيا</u>	ألمانيا
٥١	٨.	القارة التي تضم دولة اسلامية واحدة هي <u>أمريكا الشمالية</u>	أمريكا الجنوبية
٥١	٩.	توجد دولة اسلامية واحدة في قارة <u>أمريكا الجنوبية هي البوسنة والهرسك</u>	سورينام
٥١	١٠.	تبلغ مساحة العالم الاسلامي حوالي <u>٣٣ كم^٢</u>	٣٢ كم ^٢
٥١	١١.	تبلغ مساحة العالم الاسلامي بالنسبة للعالم ٢٥,٢ %.	٢٢,٢ %
٥٢	١٢.	يقع العالم الاسلامي بين خطي طول ١٨ غربا إلى ١٤٥ شرقا.	١٤١ شرقا
٥٢	١٣.	يقع العالم الاسلامي بين دائرتي ١٢ جنوب خط الاستواء إلى ٦٦ شمال خط الاستواء .	٥٥
٥٢	١٤.	أكبر الدول الاسلامية من حيث المساحة هي جمهورية <u>مصر العربية</u>	كازاخستان
٥٢	١٥.	اصغر دول العالم الاسلامي مساحة <u>البحرين</u> .	المالديف
٥٣	١٦.	يتكون مجمل عدد قارات العالم <u>سبعة قارات</u> .	سبع قارات
٥٣	١٧.	حوض أو منخفض طبيعي على سطح الارض يسمى <u>هضبة</u> .	وادي
٥٣	١٨.	السهول اجزاء فسيحة من سطح الارض تتميز باستوائها وارتفاعها .	قلعة ارتفاعها
٥٣	١٩.	أرض مرتفعة سطحها مستو ، وتمتد لمساحة واسعة تسمى <u>الجبل</u> .	الهضبة
٥٣	٢٠.	الجبل هو كل قمة لا يقل ارتفاعها عن <u>١٠٠ متر</u> تقريبا .	١٠٠٠
٥٣	٢١.	التل يشبه الجبل ولكن ارتفاعه <u>أكثر من ١٠٠٠ متر</u> .	أقل
٥٤	٢٢.	توجد قمة جبال جوليانا توب في دولة <u>سورينام</u> في قارة <u>أوروبا</u> .	أمريكا الجنوبية
٥٦	٢٣.	تنتشر الهضاب في العالم الاسلامي وبشكل أكبر في قارتي <u>آسيا وأوروبا</u> .	أفريقيا
٥٦	٢٤.	يطلق على هضبة الصحراء الكبرى اسم <u>هضبة أفريقيا الغربية</u> .	الشمالية

الرقم	العبارة	التصويب	صفحة
٢٥	تنقسم السهول في العالم الاسلامي الى فيضيه وقارية .	ساحلية	٥٨
٢٦	يطلق عل السهول النهريّة مصطلح اخر وهو <u>الساحلية</u> .	الفيضية	٥٨
٢٧	تشيد المدن ويتركز السكان في <u>الجبال</u> .	السهول	٥٨
٢٨	من أشهر السهول في الكويت ويمتد من جون الكويت باتجاه الجنوب هو سهل <u>الروضتين</u> .	برقان	٥٨
٢٩	تصنف السهول الشرقية للخليج العربي ضمن السهول <u>النهرية</u>	الساحلية	٥٩
٣٠	تقع الكويت على احد الاقاليم المناخية وهو المناخ <u>المعتدل</u> .	الصحراوي	٦٣
٣١	حالة الجو خلال فترة زمنية طويلة من حيث عناصره يسمى <u>الطقس</u> .	المناخ	٦٤
٣٢	تعد الصحراء الكبرى من المناطق ضئيلة الكثافة السكانية لوجودها ضمن <u>الاقليم الاستوائي</u>	الصحراوي	٦٦
٣٣	ينتج العالم الاسلامي من النفط الخام بالنسبة للعالم ما يعادل <u>٤٢,٥%</u>	٤١,٥%	٦٧
٣٤	من أهم مصادر الطاقة في العالم النفط و <u>الذهب</u> .	الغاز الطبيعي	٦٧
٣٥	ينتج العالم الاسلامي من الغاز الطبيعي نسبته <u>٣٣%</u>	٣٦%	٦٧
٣٦	كمية النفط المخزون في باطن الارض يسمى <u>انتاج النفط</u>	احتياطي النفط	٦٨
٣٧	أعلى نسبة انتاج للمعادن في العالم الاسلامي هو معدن <u>الحديد</u> .	اليورانيوم	٧٠
٣٨	نسبة سكان العالم الاسلامي الذين يعملون في الثروة الزراعية يعادل <u>٦٠%</u>	٧٠%	٧٢
٣٩	من أهم المحاصيل الزراعية في العالم الاسلامي الحبوب و <u>الخضروات</u> .	الغلات النقدية	٧٣
٤٠	يبلغ انتاج العالم الاسلامي من الحبوب بالنسبة للعالم حوالي <u>١٣%</u>	١٤%	٧٢
٤١	المحاصيل التي تزرع من أجل التصدير يطلق عليها اسم <u>الحبوب</u>	الغلات النقدية	٧٣
٤٢	القطن والجوت والمطاط الطبيعي امثلة على <u>الخضروات والفواكه</u> .	الغلات النقدية	٧٣
٤٣	نبات ينمو في المناطق الاستوائية وتصنع من اغصانه بعد الغزل الحبال و <u>الحقائب والاقمشة</u> هو نبات <u>المطاط الطبيعي</u> .	نبات الجوت	٧٣
٤٤	احتلت اندونيسيا في الانتاج البحري وفق احصائية ٢٠١٤م المركز <u>الاول</u> .	الثاني	٧٤
٤٥	من أهم مصادر انتاج الاسماك الغير طبيعية <u>المياه العذبة</u>	الاستزراع السمكي	٧٤

(٥) ظلل الحرف (أ) إذا كانت العبارة صحيحة وظلل الحرف (ب) إذا كانت العبارة خاطئة :


الرقم	العبارة	أ	ب	التصحيح	صفحة
١	يشغل العالم الاسلامي موقعا مهما على خريطة العالم.			٥١
٢	تتواجد دول العالم الاسلامي ضمن أربع قارات			٥١
٣	القارات القديمة هي آسيا وافريقيا وأوروبا.			٥١
٤	تضم قارة آسيا ٢٧ دولة من الدول الاسلامية.			٥١
٥	قارة افريقيا تشتمل على ٢٦ دولة من دول العالم الاسلامي			٥١
٦	تقع كل من دولتي البانيا والبوسنة والهرسك في قارة افريقيا	اوربا		٥١
٧	الدولة الاسلامية الوحيدة التي تقع في قارة امريكا الجنوبية هي البانيا	سورينام		٥١
٨	تقع دولة سورينام الاسلامية في قارة الامريكية الشمالية	الجنوبية		٥١
٩	تبلغ مساحة العالم الاسلامي حوالي ٣٣ مليون كم ^٢	٣٢ كم		٥١
١٠	تبلغ مساحة العالم الاسلامي حوالي ٢٢,٢ ٪ من مساحة العالم.			٥١
١١	يقع العالم الاسلامي بين خطي طول ١٨ غربا الى ١٤١ شرقا			٥٢
١٢	يقع العالم الاسلامي بين دائرتي عرض ١٣ جنوب خط الاستواء الى ٦٦ شمال خط الاستواء	٥٥		٥٢
١٣	تعد جمهورية كازاخستان اكبر الدول الاسلامية من حيث المساحة			٥٢
١٤	اصغر الدول في العالم الاسلامي هي مملكة البحرين	المالديف		٥٢
١٥	تعرف التضاريس بأنها أشكال سطح الارض.			٥٣
١٦	تتنوع التضاريس في العالم الاسلامي كلما اتسعت مساحة الارض			٥٣
١٧	التل هو حوض أو منخفض طبيعي على سطح الأرض	الوادي		٥٣
١٨	تعد السهول أجزاء من سطح الارض تتميز باستوائها وقله ارتفاعها			٥٣
١٩	الهضبة هي أرض مرتفعة سطحها متعرج وتمتد لمساحات واسعة	سطحها مستو		٥٣
٢٠	الهضبة تشبه التل ولكن ارتفاعه أعلى من ١٠٠٠ متر	الجبل		٥٣
٢١	الجبل هو كل قمة لا يقل ارتفاعها عن ١٠٠ متر تقريبا.	١٠٠٠		٥٣

صفحة	الرقم	العبارة	أ	ب	التصحيح
٥٦	٢٢.	تعد الهضاب من الأشكال التضاريسية المهمة في العالم الاسلامي وتنتشر معظمها في قارتي آسيا وأفريقيا.		
٥٥	٢٣.	سميت مرتفعات الحجاز بذلك نظرا لانها تحجز سهل تهامة عن هضبة نجد		
٥٤	٢٤.	تشمل كل من عمان وليبيا على جبلين يحمل كل منهما اسم الجبل الاخضر		
٥٤	٢٥.	يقع جبل مرة في السودان		
٥٤	٢٦.	توجد قمة جبال جوليانا توب في قارة أمريكا الجنوبية		
٥٨	٢٧.	تنقسم السهول في العالم الاسلامي الى فيضيه وساحلية		
٥٨	٢٨.	تكمن أهمية السهول بانها مكان مناسب لتشييد المدن		
٥٨	٢٩.	تستخدم الهضبات كموانئ طبيعية	السهول	
٥٨	٣٠.	يتركز السكان في السهول نظرا لسهوله التنقل فيها		
٥٨	٣١.	يعد سهل برقان من اشهر السهول في دولة الكويت		
٥٨	٣٢.	تلال جال الزور من التلال التي تقع في البحرين	الكويت	
٦٣	٣٣.	تنوع التضاريس في العالم الاسلامي ساهم في تنوع مناخه		
٦٧	٣٤.	يعد النفط والغاز الطبيعي من أهم مصادر الطاقة في العالم		
٦٧	٣٥.	النسبة التي ينتجها العالم الاسلامي من الغاز الطبيعي ٣٦% بالنسبة لاجمالي الانتاج العالمي منه.		
٧٠	٣٦.	يعتبر اليورانيوم هو اكثر الثروات المعدنية انتاجا وفق احصاء ٢٠١٤م		
٧٢	٣٧.	تدخل الثروة الزراعية كمادة خام في كثير من الصناعات.		
٧٢	٣٨.	قلتا الايدي العاملة من الامور التي تساعد على الانتاج الزراعي	كثرة	
٧٢	٣٩.	سقوط الامطار والمناخ والتربة الخصبة من العوامل المهمة للإنتاج الزراعي.		
٧٢	٤٠.	العالم الاسلامي لا يمتلك غذاءه ولديه اكتفاء ذاتي من المحاصيل الزراعية.	ليس لديه اكتفاء	
٧٣	٤١.	الغلات النقدية هي التي تزرع من اجل التصدير.		
٧٣	٤٢.	القطن من امثلة الغلات النقدية		
٧٣	٤٣.	الجوت نبات ينمو في المناطق الاستوائية والموسمية.		
٧٤	٤٤.	المحيطات والمياه العذبة من أهم المصادر الغير طبيعية انتاج الاسماك في العالم الاسلامي	مصادر طبيعية	
٧٤	٤٥.	الدولة الاسلامية التي تحتل المركز الرابع وفق احصاء ٢٠١٤ في الانتاج البحري هي اندونيسيا	المركز الثاني	

(٦) استنتج الرابط بين العناصر التالية :

- الموقع + التضاريس + المناخ + الموارد المائية
 - آسيا + أفريقيا + أوروبا
 - وادي + سهل + هضبة + جبل
 - الاخضر + مرة + الاحجار + الحجاز
 - وارة + كراع المرو + جال الريح + جال الزور
 - موسمي + مداري + صحراوي + معتدل
 - ثروة الطاقة والمعادن + الثروة الزراعية + الثروة السمكية
 - يورانيوم + ذهب + فضة + نحاس
 - مناخ + مياه + تربة خصبة + أيدي عامله
- (عناصر البيئة الطبيعية) ص ٥٠
(القارات القديمة) ص ٥١
(تضاريس) ص ٥٣
(جبال) ص ٥٤
(تلال الكويت) ص ٦١
(أقاليم مناخية) ص ٦٤
(موارد طبيعية) ص ٦٧
(ثروات معدنية) ص ٧٠
(عوامل الانتاج الزراعي) ص ٧٢

(٧) من أنا أو ماذا أمثل أو من نحن أو من نكون :



أملك قمة لا يقل ارتفاعها
عن ١٠٠٠ متر تقريبا.
أنا الجبل ص ٥٣

من أهم المعادن
انتاجا في العالم
الاسلامي
أنا اليورانيوم ص ٧٠



أكبر الدول
الاسلامية من حيث
المساحة والاولى في
انتاج معدن اليورانيوم
أنا كازاخستان ص ٧٠



نحن عناصر هامة
لمعرفة حالة الجو
نحن نمثل
عناصر المناخ ص ٦٤



نمثل المحاصيل التي
تزرع من أجل التصدير
ونسعى
الغلات النقدية ص ٧٣

(٨) صنف الكلمات التالية إلى مكانها المناسب في الجدول التالي:

١ / وارة - الحجاز - الأناضول - الروضتين - جال الزور - أطلس - مره - نجد - برقان

ص ٥٨	ص ٦١	ص ٥٦	ص ٥٤
سهول	تلال	هضاب	جبال
<u>برقان</u> <u>الروضتين</u>	<u>واره</u> <u>جال الزور</u>	<u>الأناضول</u> <u>نجد</u>	<u>الحجاز</u> <u>أطلس</u> <u>مره</u>

٢ / النحاس - الجوت - الذهب - الارز - القطن - اليورانيوم - المطاط - الفضة

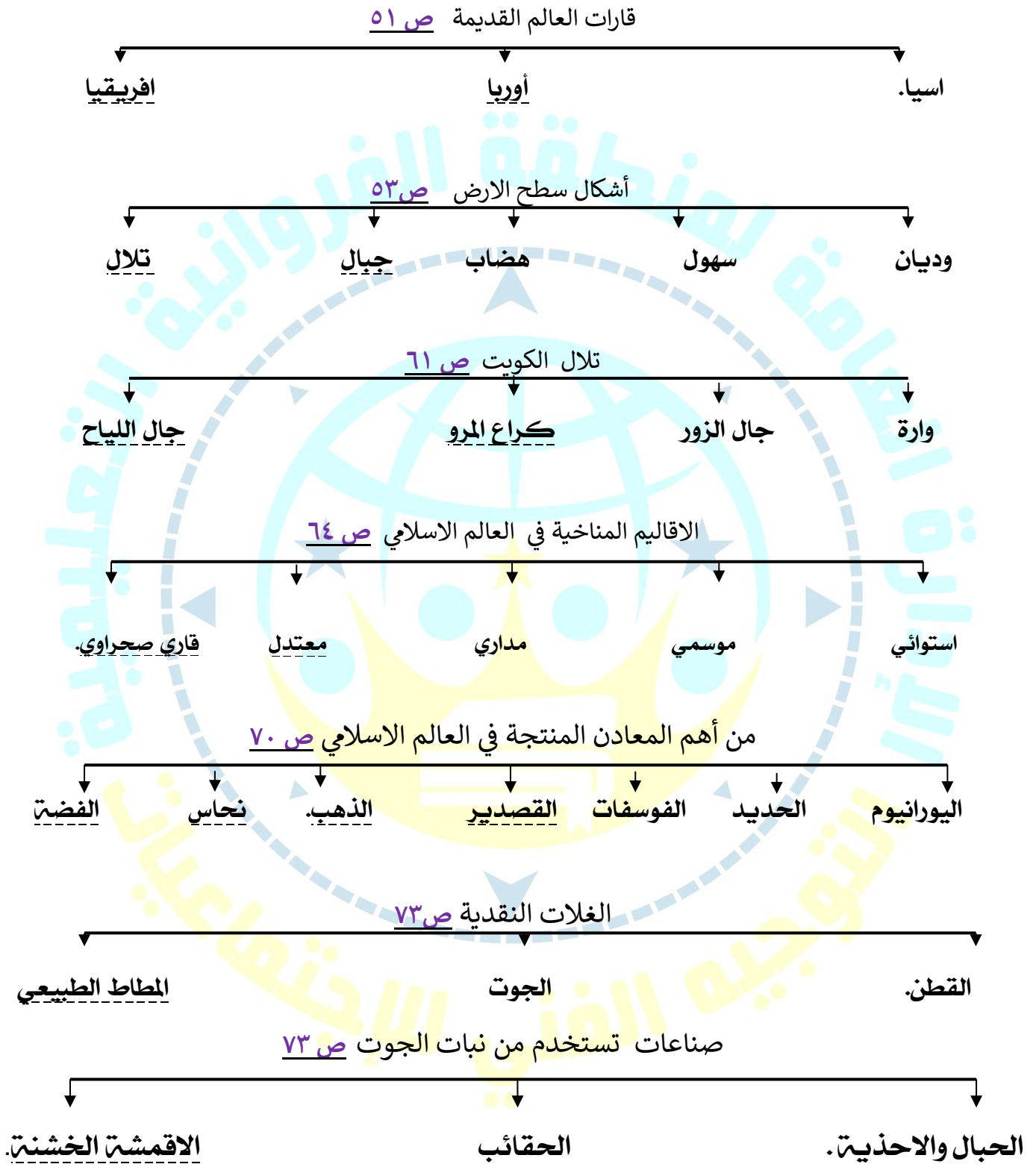
الثروة الزراعية ص ٧٢	الثروة المعدنية ص ٧٠
<u>الجوت - الارز - القطن - المطاط</u>	<u>النحاس - الذهب - اليورانيوم - الفضة</u>

(٩) ضع أسماء المحاصيل التالية في مكانها حسب الجدول التالي :

الذرة - الأرز - العنب - الموز - القطن - الجوت ص ٧٣

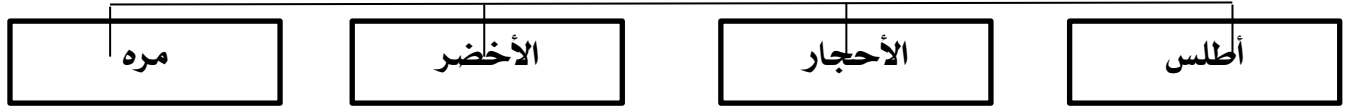
الفواكه والثمار	الحبوب	الغلات النقدية
<u>العنب</u> <u>الموز</u>	<u>الذرة</u> <u>الأرز</u>	<u>القطن</u> <u>الجوت</u>

(١٠) أكمل المخططات السهمية التالية :



(١١) اكتب عنوانا للمخطط السهمي التالي :

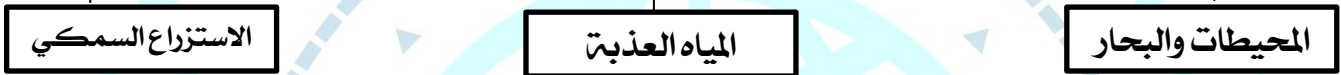
جبال العالم الاسلامي ص ٥٤



الهضاب في العالم الاسلامي ص ٥٦



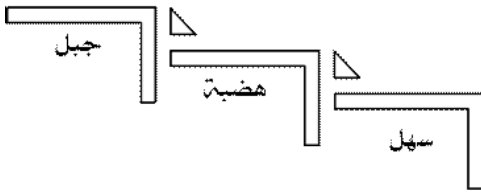
مصادر انتاج الاسماك ص ٧٤



(١٢) اختر للمجموعة (أ) ما يرتبط بها من المجموعة (ب) بوضع الرقم المناسب .

ص	م	المجموعة (أ)	الرقم المناسب	المجموعة (ب)	الدائرة البيانية
٦٧	١	نسبة انتاج العالم الاسلامي من النفط الخام	١	٤١,٥%	
٦٩	٢	نسبة احتياط العالم الاسلامي من النفط الخام	٢	٣٦%	
٦٧	٣	نسبة انتاج العالم الاسلامي من الغاز الطبيعي	٢	٥٨,٥%	
٧٠	٤	نسبة انتاج كازاخستان من معدن اليورانيوم	٥	١٤%	
٧٢	٥	نسبة انتاج العالم الاسلامي من الحبوب	٤	٤١%	
٥١	٦	مساحة العالم الاسلامي بالنسبة لعالم	٦	٢٢,٢%	

(١٣) أعد ترتيب (الأشكال التضاريسية) حسب الارتفاع:



جبل - سهل - هضبة ص ٥٣

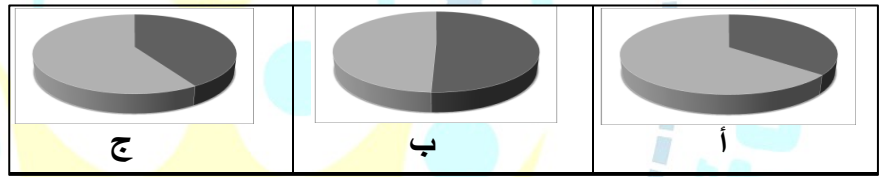
١٤/ لاحظ الشكل المقابل ، ثم أجب عن الأسئلة التالية: ص ٥٣-٥٦



- الشكل المقابل يمثل ؟ تضاريس سطح الأرض
- اذكر أسماء اثنين من الجبال والسهول الموجودة في العالم الاسلامي؟
أ- سهل بركان
ب- سهل تهامة
ج- سهل عسير
د- جبل مره
هـ- أي اجابة أخرى منا
- ماهي أكبر الهضاب الموجودة في العالم الاسلامي ؟
هضبة الصحراء الكبرى (هضبة افريقيا الشمالية)



- أكمل العبارات التالية بما يناسبها : ص ٦٧
١/ من أهم مصادر الطاقة في العالم النفط والغاز الطبيعي
- تبلغ نسبة إنتاج النفط الخام في العالم الاسلامي ٤١,٥ %
حيث تمثلها الدائرة البيانية التي تحمل الحرف (ج)



(١٥) ضع عنوانا للصور التالية :



خريطة توضح
التلال في دولة
الكويت ص ٦١

إنتاج الغاز والنفط
ص ٦٧

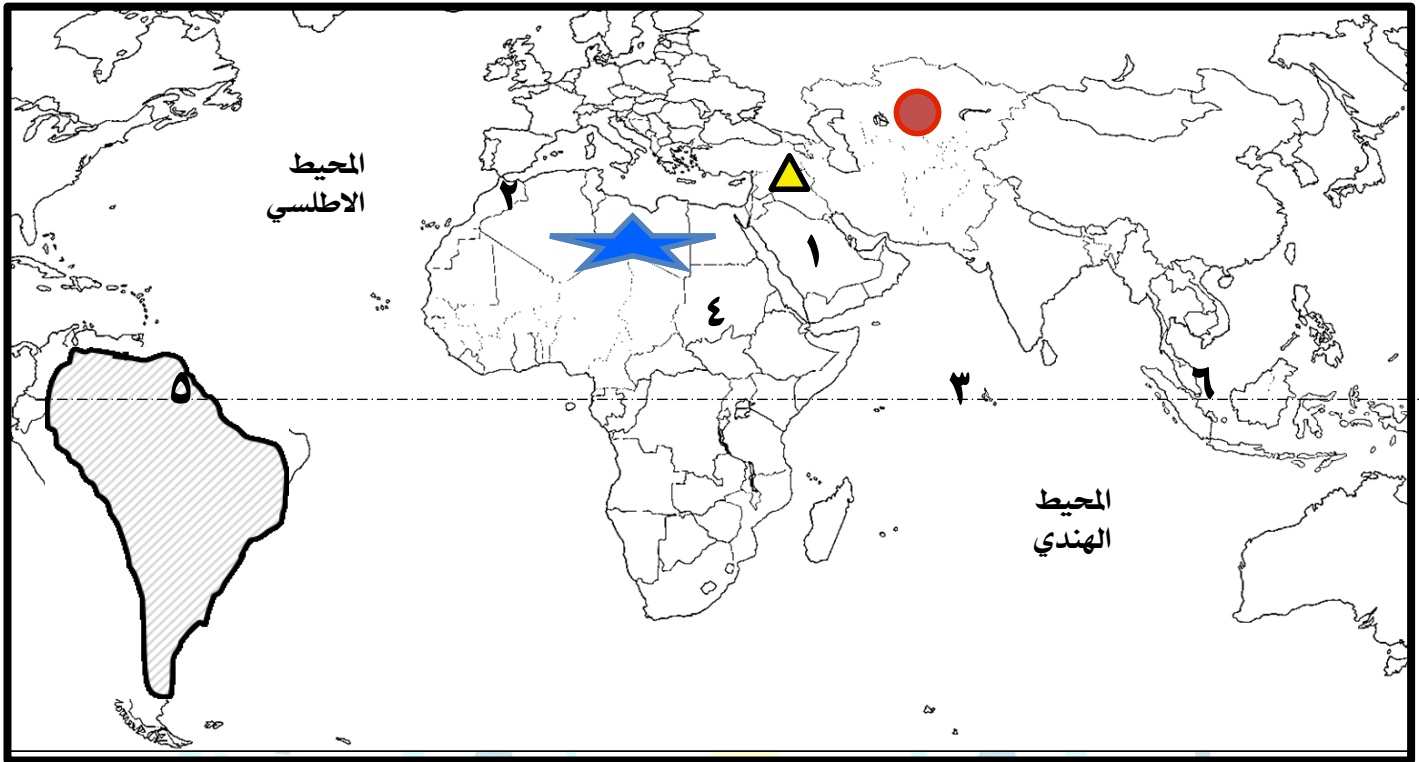


المعادن في دول العالم الاسلامي ص ٧٠

عوامل تساعد على زيادة
الإنتاج الزراعي ص ٧٢



١٦ / اكتب مدلولات الأرقام أو الرموز أو الأشكال على الخريطة التي أمامك :



- أكبر الدول الإسلامية مساحةً يمثلها على الخريطة الشكل ●
- هضبة الصحراء الكبرى يمثلها على الخريطة الشكل ★
- سهول تسمى دجلة والفرات يمثلها على الخريطة الشكل ▲
- هضبة نجد يمثلها على الخريطة الرقم ١
- جبال أطلس يمثلها على الخريطة الرقم ٢
- دولة إسلامية تحتل المركز الثاني في الانتاج البحري يمثلها على الخريطة الرقم ٦
- أصغر الدول الإسلامية مساحةً يمثلها على الخريطة الرقم ٣
- الدولة الإسلامية التي يوجد بها جبل مره يمثلها على الخريطة الرقم ٤
- دولة سورينام يمثلها على الخريطة الرقم ٥
- * ظلل قارة أمريكا الجنوبية
- * ارسم خط الاستواء
- * حدد كل من المحيط الهندي و المحيط الأطلسي كتابيا على الخريطة

□ الأسئلة المقالية :

(١) فرق بين كل مما يلي :

مصادر طبيعية	مصادر غير طبيعية
المحيطات والبحار المياه العذبة	الاستزراع السمكي

١/ مصادر انتاج الاسماك ص ٧٤

(٢) قارن بين كل مما يلي :

١/ الأقاليم المناخية من حيث صفة المطر : ص ٦٤

وجه المقارنة	المناخ الاستوائي الحار	المناخ الموسمي الحار	المناخ المداري	المناخ المعتدل الدافئ
صفة الأمطار	ممطر طوال العام.	ممطر صيفا	الأمطار الصيفية قليلة	ممطرًا شتاءً وحار صيفا

١/ عدد الدول الاسلامية في كل قارة : ص ٥١

اسم القارة	قارة آسيا	قارة افريقيا	قارة أوروبا	أمريكا الجنوبية
عدد الدول	٢٧ دولة	٢٦ دولة	دولتين البانيا و (البوسنة والهرسك)	دولة واحدة (سورينام)

١٢ جمهورية كازاخستان ، جمهورية المالديف من حيث المساحة : ص ٥٢

وجه المقارنة	جمهورية كازاخستان	جمهورية المالديف
المساحة	اكبر الدول الاسلامية	اصغر الدول الاسلامية

١٣ الجبل والتل من حيث الارتفاع ص ٥٣

وجه المقارنة	الجبل	التل
الارتفاع	لا يقل ارتفاعها عن ١٠٠٠ متر تقريبا.	اقل من ١٠٠٠ متر.

١٤ الكويت وهضبة الصحراء الكبرى من حيث الكثافة السكانية ص ٦٦

وجه المقارنة	الكويت	هضبة الصحراء الكبرى
الكثافة السكانية	كثافة سكانية مرتفعة.	كثافة سكانية منخفضة جدا

١٥ المناخ والطقس من حيث الفترة الزمنية ص ٦٤

وجه المقارنة	المناخ	الطقس
الفترة الزمنية	فترة زمنية طويلة.	فترة زمنية قصيرة.

(٣) عرف المفاهيم أو المصطلحات التالية :

- **التضاريس** : أشكال سطح الارض وتطلق على الجبال والهضاب والسهول والتلال. ص ٥٣
- **الوادي** : حوض أو منخفض طبيعي على سطح الارض . ص ٥٣
- **الجبل** : كل قمة لا يقل ارتفاعها عن ١٠٠٠ متر تقريبا. ص ٥٣
- **هضبة** : أرض مرتفعة سطحها مستو ، وتمتد لمساحة واسعة. ص ٥٦ / ص ٥٣
- **السهول** : أجزاء فسيحة من سطح الأرض تتميز باستوائها وقلتها ارتفاعها. ص ٥٨ / ص ٥٣
- **التل** : يشبه الجبل ولكن ارتفاعه اقل من ١٠٠٠ متر. ص ٦٠ / ص ٥٣
- **المناخ** : حالة الجو خلال فترة زمنية طويلة من حيث عناصره. ص ٦٤
- **الطقس** : حالة الجو في مكان لمدة قصيرة تتراوح بين يوم أو عدة أيام. ص ٦٤
- **الإقليم المناخي** : مساحه من الأرض تتصف بعناصر مناخية متشابهة. ص ٦٥
- **احتياطي النفط** : كمية النفط المخزونة في باطن الارض ولم تستخرج بعد. ص ٦٨
- **الغلات النقدية** : المحاصيل التي تزرع من أجل التصدير مثل : القطن والمطاط الطبيعي. ص ٧٣
- **الجوت** نبات ينمو في المناطق الاستوائية والموسمية ، تؤخذ أغصانه وتوضع تحت الماء وتطمر بالطين وبعد أيام تستخرج وتغزل ويصنع منها الحبال والأحذية والحقائب والأقمشة الخشنة ص ٧٣
- **دول مغلقة** : مصطلح يطلق على أي دولة لا تطل على مسطح مائي. ص ٧٥

(٤) فسر :

١. تسمية هضبة أفريقيا الشمالية بهضبة الصحراء الكبرى. ص ٥٧
نظرا لامتدادها الواسع من ساحل المحيط الاطلسي غربا الى مرتفعات البحر الاحمر شرقا.
٢. - تسمية مرتفعات الحجاز بهذا الاسم. ص ٥٥
لان هذه المرتفعات تحجز سهل تهامة في الغرب عن هضبة نجد في الشرق

(٥) علل / اذكر السبب.

- ١) يشغل العالم الاسلامي موقعا جغرافيا مهما على خريطة العالم. . ص ٥١
يقع وسط خريطة العالم ولامتداده ضمن اربع قارات
 - ٢) تنوع التضاريس في العالم الاسلامي. ص ٥٣
نظرا لاتساع مساحة الارض التي يشغلها العالم الاسلامي حيث تبلغ ٣٢ مليون كم ٢.
 - ٣) للسهول أهمية كبيرة . ص ٥٨
لاستخدامها كموانئ طبيعية - تشييد المدن. - تركيز السكان فيها
 - ٤) تشييد المدن في السهول. ص ٥٨
لان السهول عبارة عن أجزاء فسيحة من سطح الارض تتميز باستوائها وقله ارتفاعاتها.
 - ٥) تركيز السكان في السهول. ص ٥٨
نظرا لسهولة التنقل فيها.
 - ٦) تنوع المناخ في دول العالم الاسلامي ص ٦٣
أ. امتداد دول العالم الإسلامي على مساحة شاسعة. ب. التنوع في التضاريس من جبال وهضاب وسهول ووديان
ج. الموقع بالنسبة لدوائر العرض. د. الإطلالة على عدة مسطحات مائية في معظم أجزائه.
 - ٧) الكثافة السكانية في الصحراء الكبرى ضئيلة.
نظرا لتواجدها ضمن المناخ الصحراوي الحار.
 - ٨) تنوع الثروات الطبيعية في العالم الاسلامي ص ٦٧
أ. بسبب المساحات الشاسعة التي يمتلكها العالم الاسلامي. ب. امتلاكه تضاريس متنوعه.
ج. يقع في مناخات متنوعه.
 - ٩) تنوع مصادر إنتاج الاسماك في دول العالم الاسلامي. ص ٧٤
لوجود مصادر طبيعية كالمحيطات والبحار والمياه العذبة وغير طبيعية كالاستزراع السمكي
 - ١١) قلّة عدد السكان في المناطق الجبلية في دول العالم الاسلامي
شدة انحدارها/ قلّة الأكسجين/ صعوبة التنقل/ انخفاض الضغط الجوي
- ٦) اكتب ما تعرفه عن:

- ١) موقع العالم الإسلامي ص ٥١
يمتلك موقع جغرافي هام ، يمتد في القارات القديمة (آسيا، أفريقيا، أوروبا) بالإضافة إلى أمريكا الجنوبية،
يقع بين خطي طول ١٨ ° غربا إلى ١٤١ ° شرقا، ودائرتي عرض ١٣ ° جنوب خط الاستواء إلى ٥٥ ° شمال خط
الاستواء.
- ٢) جمهورية كازاخستان ص ٥٢ + ص ٧٠
أكبر الدول الإسلامية من حيث المساحة، وأولى الدول في إنتاج اليورانيوم
- ٣) هضبة الصحراء الكبرى ص ٥٧

أكبر الهضاب في العالم، وتمتد من ساحل المحيط الأطلسي غربا إلى مرتفعات البحر الأحمر شرقا

١) العوامل التي ساعدت في تنوع المناخ في دول العالم الإسلامي ص ٦٣

- * امتداد دول العالم الإسلامي على مساحة شاسعة.
- * الموقع بالنسبة لدوائر العرض.
- * الإطلالة على عدة مسطحات مائية في معظم أجزائه.
- * التنوع في التضاريس من جبال وهضاب وسهول ووديان.

٢) أهم موارده الطبيعية في العالم الإسلامي .

* أ - ثروات الطاقة والمعادن (النفط والغاز الطبيعي / الثروات المعدنية) ص ٦٧

* ب - الثروة الزراعية. (الحبوب / الغلات النقدية) ص ٧٢

٣) ج - الثروة السمكية. ص ٧٤

١٨) أجب عن الأسئلة التالية ص ٧٣

- أ- كيف تصنع الأحذية والحقائب والأقمشة الخشنة من نبات الجوت؟
تؤخذ أغصانه وتوضع تحت الماء وتطمر بالطين. وبعد أيام تستخرج وتغزل ويصنع منها الحبال التي تصنع الأحذية والحقائب والأقمشة الخشنة
- ب- ما أسماء الدول الإسلامية الأكثر إنتاجاً للأسماك؟
إندونيسيا / ماليزيا / المغرب / إيران
- ج- ما هو المصطلح الذي يطلق على الدول التي لا تطل على سطح مائي؟
دول مغلقة

الفقرة الاولى : ص ٧٢

تعد الثروة الزراعية في العالم الاسلامي المصدر الرئيسي لإنتاج الغذاء ويعمل بها ٧٠ ٪ من سكان العالم الاسلامي حيث تمثل الدخل الرئيسي لدوله وتدخل كمادة خام في كثير من الصناعات وهناك عوامل ساعدت على الانتاج الزراعي ومنها المناخ و سقوط الأمطار و وجود البحيرات والأنهار والآبار و التربة الخصبة و من أهم المحاصيل الغذائية في العالم الاسلامي الحبوب والغللات النقدية.

١- اقرأ الفقرة التالية ثم أجب عما يليها من أسئلة :

١ ضع عنوان مناسب للفقرة السابقة :

الثروة الزراعية في العالم الاسلامي

٢ اذكر اهم المحاصيل الزراعية في العالم الاسلامي ؟

الحبوب / الغللات النقدية

٣ ما أهم العوامل التي ساعدت على الانتاج الزراعي في دول العالم الاسلامي ؟

أ- المناخ ب- سقوط الأمطار ج- وجود البحيرات والأنهار والآبار د- التربة الخصبة

و- كثرة السكان والايدي العاملة

٤ حول النسبة المذكورة في الفقرة السابقة الى دائرة بيانية.



الفقرة الثانية : ص ٥٣

تتنوع التضاريس كلما اتسعت مساحة الأرض، وأن مساحة العالم الإسلامي تبلغ 32 مليون كم²، وهي مساحة شاسعة أدت بدورها إلى تنوع تضاريسه، التي امتدت في أربع قارات من أصل سبع قارات تمثل العالم.

١- عرف ما تحته خط :

(أشكال سطح الأرض من سهول وهضاب وجبال وتلال)

٢- علل تنوع تضاريس العالم الاسلامي .

تنوعت بسبب اتساع مساحة الأرض

٢ اذكر القارات التي امتدت لها مساحة العالم الاسلامي.

آسيا - افريقيا - اوربا - امريكا الجنوبية

الفقرة الثالثة : ص ٦٣ / ٦٤

هناك عدة عوامل لعبت دورا في تنوع المناخ في دول العالم الاسلامي من أهمها امتداد دول العالم الاسلامي على مساحة شاسعة وموقعها بالنسبة لدوائر العرض والاطلالة على عدة مسطحات مائية بالإضافة الى التنوع في التضاريس .

١- عرف ما تحته خط :

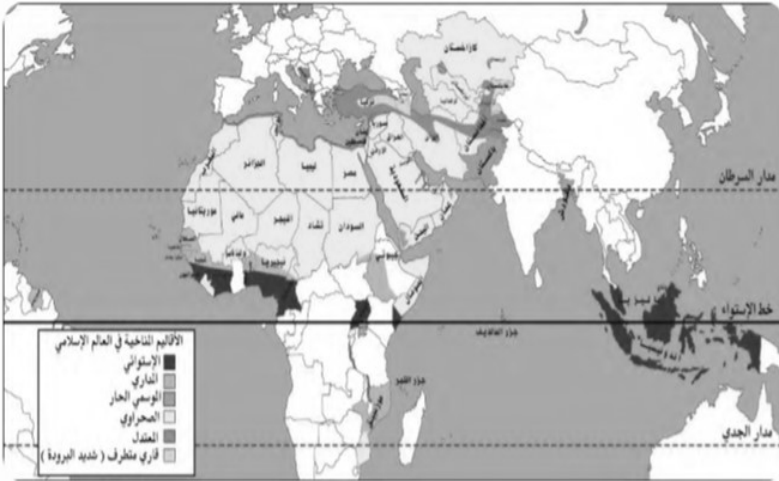
المناخ هو حالة الجو خلال فترة زمنية طويلة

٢ اذكر اثنين من العوامل التي أدت لتنوع المناخ في العالم الاسلامي

أ- امتداد دول العالم الإسلامي على مساحة شاسعة. ب- التنوع في التضاريس من جبال وهضاب وسهول ووديان

ج- الموقع بالنسبة لدوائر العرض. د- الإطلالة على عدة مسطحات مائية في معظم أجزائه.

١٠ / لاحظ الخريطة المقابلة ثم أجب على التالي : ص ٦٣



شكل (٢٤) خريطة الأقاليم المناخية في دول العالم الإسلامي

١/ في أي اقليم مناخي تقع دولة الكويت ؟
في الاقليم الصحراوي
٢/ اكتب اثنين من المسطحات المائية التي يطل
عليها العالم الاسلامي
* المحيط الاطلسي - المحيط الهندي

٣- اكتب اثنين من الأقاليم المناخية التي يقع
ضمنها دول العالم الاسلامي
* الاقليم الصحراوي - الاقليم الاستوائي -
الاقليم المعتدل - الاقليم المداري - الاقليم
الحار - الاقليم القاري المتطرف

- لاحظ شكل ٢٨ المقابل ثم أجب على الاسئلة التالية:

أعد ترتيب الثلاث دول الاولى في إنتاج معدن اليورانيوم .
ص ٧٠

كازاخستان - النيجر - اوزباكستان

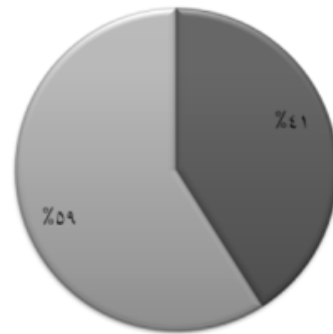
من الدولة التي تمتلك أقل نسبة أقل نسبة في إنتاج معدن
الفضة؟ اوزباكستان

حول نسبة كازاخستان في اليورانيوم لدائرة بيانية

اليورانيوم		الذهب		الفضة	
كازاخستان	%٤١	إندونيسيا	%٢,٣	تركيا	%٠,٧
أوزباكستان	%٤,٣	أوزباكستان	%٣,٤	إندونيسيا	%٣,٦
النيجر	%٧,٢	السودان	%٢,٤	كازاخستان	%٣,٦
باكستان	%٠,١	مالي	%١,٥	أوزباكستان	%٠,٢
		كازاخستان	%١,٧	المغرب	%٠,٧

شكل (٢٨) نسبة إنتاج اليورانيوم والذهب والفضة من جملة إنتاج دول العالم

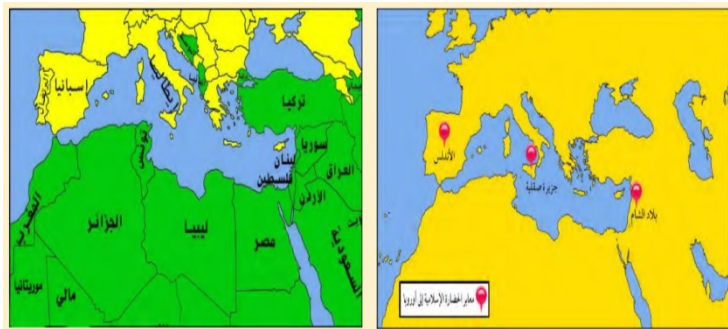
الإسلامي حسب إحصاء ٢٠١٤ (١).



ملحق الخرائط

ص ٣٨

ص ٤١

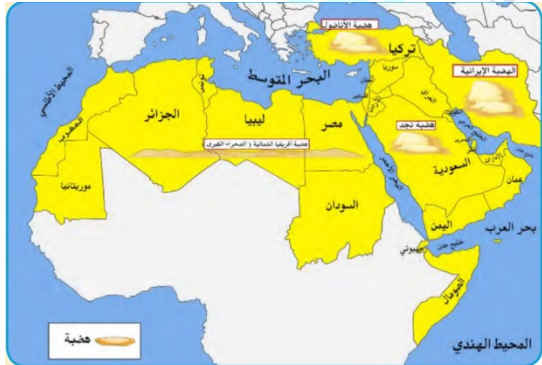


شكل (١٣) الدول الحديثة مراكز أشعاع الحضارة الإسلامية



ص ٥٤

ص ٥٦

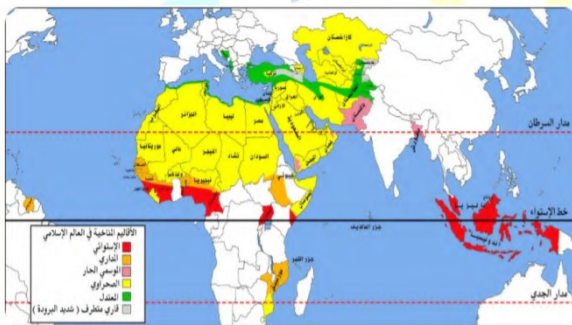


شكل (١٨) أهم هضاب دول العالم الإسلامي



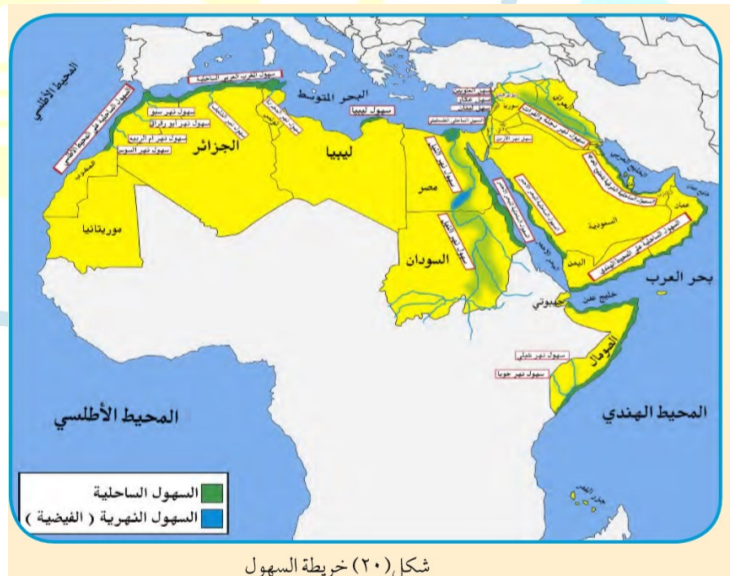
ص ٥٩

ص ٦٣



شكل (٢٤) خريطة الأقاليم المناخية في دول العالم الإسلامي

ص ٧٤



شكل (٢٠) خريطة السهول



شكل (٢٨) يوضح أهم الدول الإسلامية المنتجة للأسماك

الوادي				السهول				الهضبة		تل	الجبل								
يطلق على الأجزاء الفسيحة من سطح الأرض والتي تتميز باستوائها وقلّة ارتفاعها				الأرض المرتفعة وسطحها مستو وتمتد لمساحة واسعة				جزء من سطح الأرض ويشبه الجبل ولكن ارتفاعه أقل من ١٠٠٠ متر		كل قمة من سطح الأرض لا يقل ارتفاعها عن ١٠٠٠ متر تقريبا									
أمريكا الجنوبية		أوروبا		أفريقيا		آسيا		أفريقيا		آسيا		أفريقيا							
سورينام		قمة جبال جوليانا توب		البنايا والبوسنة والهرسك		جبال الالب الديتارية		سودان		جبل مره		عمان		الجبل الاخضر					
				ليبيا		الجبل الاخضر		السعودية		جبال الحجاز وعسير		باكستان		جبال باكستان					
				الجزائر		جبال الأحجار		باكستان		جبال باكستان		كشمير		جبال كشمير					
				جزائر - المغرب		جبال أطلس		كشمير		جبال كشمير									
تلال جبال الزور واللياح وارة في الكويت				من مصر الى الجزائر		هضبة الصحراء الكبرى		ايران		الهضبة الايرانية		مصر السودان		سهل نهر النيل		الكويت		سهل برقان و الروضتين	
								تركيا		هضبة الأناضول		الصومال		سهل جوبا وشيبي		العراق		سهل دجلة والفرات	
								السعودية		هضبة نجد		تونس				الاردن		سهل نهر الاردن	