

ثانياً: انتشار الإسلام خارج شبه الجزيرة العربية

(انتشر الإسلام خارج شبه الجزيرة العربية بعد وفاة الرسول ﷺ)
(خلال العصور الإسلامية المختلفة) .

في ضوء هذه العبارة اختر من القائمة (أ) ما يناسبها من القائمة (ب) بوضع الرقم المناسب

م	(أ)	الرقم المناسب	(ب)
1	عصر الخلفاء الراشدين	()	132 هـ
2	عصر الدولة الأموية	()	11 هـ
3	عصر الدولة العباسية	()	41 هـ
4	عصر الدولة العثمانية	()	699 هـ
5		()	844 هـ

عصر الخلفاء الراشدين)

(40/11 هـ - 661/632 م)

1. علل لما يأتي: توفي الرسول ولم يعين له خليفة ؟ .

(الكتاب المدرسي ص 42)

2. علل لما يأتي: اختار المسلمون أبو بكر الصديق
خليفة للرسول ﷺ في حكم الدولة الإسلامية ؟ .

الأنصار:

.....

المهاجرين:

.....

.....

أكمل العبارات التالية:

1. المكان الذي اجتمع فيه الأنصار لاختيار خليفة للدولة الإسلامية يسمى

2. اختار الأنصار زعيم قبيلة الخزرج خليفة للدولة الإسلامية وأسمه

3. اتفق الأنصار والمهاجرين علي اختيار خليفة للمسلمين وأسمه

4. رفيق الرسول ﷺ في الهجرة إلي يثرب صحابي جليل وأسمه - العصر العربي

عرف الشورى:

أذكر الأسس التي أقام عليها الرسول ﷺ الحكومة الإسلامية في المدينة المنورة بعد الهجرة؟

▪ علل لما يأتي: لم يشرح القرآن الكريم طريقة الشورى (الكتاب ص 43

الإسلام يظهر

▪ أكتب ما تعرفه عن: اجتماع السقيفة بعد وفاة الرسول ﷺ.

في شبه الجزيرة

العربية وينتشر في

▪ أجب حسب المطلوب في الجدول التالي:

المناسبة	القائل	العبارة
.....	(إني قد وليت عليكم ولست بخيركم فإن أحسنت فأعينوني , وإن أسأت فقوموني)
.....

▪ أذكر أهم الأسس التي قام عليها حكم أبو بكر الصديق

(السياسية - الاقتصادية - الاجتماعية - الدينية)

أذكر أهم أعمال الخليفة أبو بكر الصديق ﷺ بعد تولية خلافة الدولة الإسلامية؟

ظهور الإسلام وقيام الدولة العربية الإسلامية

ثانياً:

انتشار الإسلام خارج شبه الجزيرة العربية

(عصر الخلفاء الراشدين - العصر الأموي - العصر العباسي - العصر العثماني)

ثالثاً:

1. أستكمل المخطط التالي الذي يوضح فترة حكم الخلفاء الراشدين

من إلي من إلي من إلي من إلي

ابو بكر الصديق عمر بن الخطاب عثمان بن عفان علي بن أبي طالب

(الكتاب المدرسي ص 44)

الخلفاء الراشدون وحركة الفتوحات الإسلامية

2. دلل على صحة العبارات التالية (كانت حركة الفتوحات الإسلامية ضرورة رأها المسلمون بعد وفاة الرسول ﷺ)

العربية وينتشر في
داخلها وخارجها

أولاً: فتح

العراق وفارس

3. احمد الجداول التالي بوضع المطلوب المناسب :

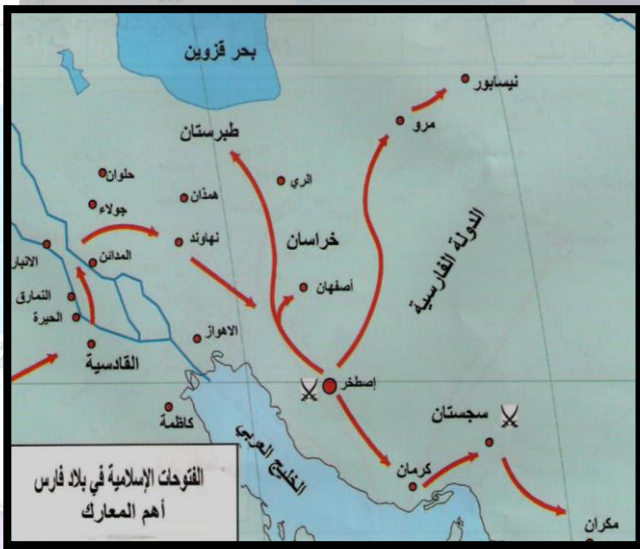
المعركة	التاريخ	الخليفة	القائد	المنطقة	لنتائج
ذات السلاسل
الجسر
الأعشار
القادسية

انتشار الإسلام خارج شبه الجزيرة العربية
(عصر الخلفاء الراشدين - العصر الأموي - العصر العباسي - العصر العثماني)

ثالثاً:

أكمل العبارات التالية:

1. الخليفة الراشدي الذي بدأ فتح العراق اسمه.....
2. قائد المسلمين الذي هزم واستشهد في معركة الجسر
3. عام 14 هـ تأسست.....
4. العرة الحاسمة في فتح العراق وفارس عام 16 هـ
5. تسمى.....
6. الخليفة الراشدي الذي في عهده تم فتح العراق وفارس
7. أسمة.....
8. معركة القادسية أسقطت دولة تسمى.....



الفتوح الإسلامية في بلاد فارس
أهم المعارك



(الكتاب المدرسي ص 46)

الإسلام يظهر
في شبه الجزيرة

ثانياً: فتح بلاد
الشام ومصر

المعركة	التاريخ	الخليفة	القائد	المنطقة	النتائج
حملة أسامة	أحول العرب قبل الإسلام
وادي عربة	(السياسية - الاقتصادية - الاجتماعية - الدينية)
أجنادين	ظهور الإسلام وقيام الدولة العربية الإسلامية
اليرموك
فتح القدس
فتح مصر	انتشار الإسلام خارج شبه الجزيرة العربية

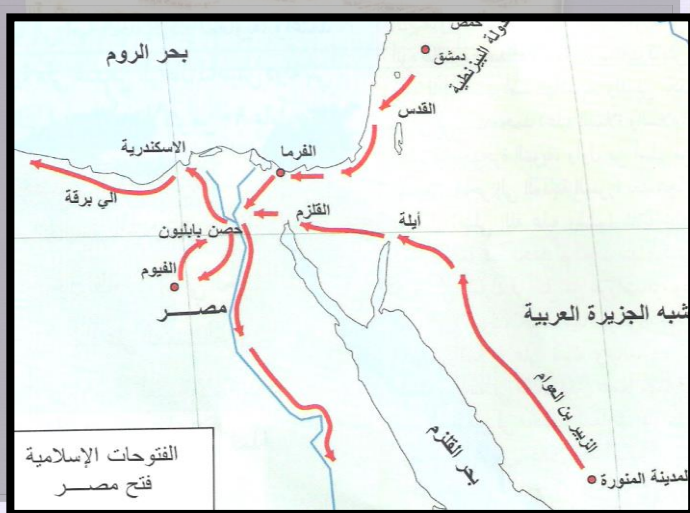
■ أستكمل الجدول التالي لمعركة ذات الصواري

التاريخ
الأطراف X
القائد
النتائج

■ علل: أطلق على المعركة البحرية عام 34 هـ لفظ ذات الصواري

.....
.....
.....

علل: فتح المسلمون مصر؟



أذكر أهم شروط معاهدة فتح مصر؟

■ أكتب ما تعرفه عن الشخصيات التاريخية التالية:

علي بن أبي طالب
علي بن أبي طالب

.....
.....
.....
.....
.....
.....
.....
.....

عثمان بن عفان
عثمان بن عفان

.....
.....
.....
.....
.....
.....
.....
.....

عمر بن الخطاب
عمر بن الخطاب

.....
.....
.....
.....
.....
.....
.....
.....

أبو بكر الصديق
أبو بكر الصديق

.....
.....
.....
.....
.....
.....
.....
.....

عمرو بن العاص

.....

■ اكمل العبارات التالية:

1. القائد المسلم الذي نجح في فتح مصر يسمى
2. الموقعة البحرية التي دمر فيها المسلمون الأسطول البيزنطي عام 34 هـ تسمى

الإسلام يظهر

معاوية بن أبي

.....
سفيان

قيام الدولة

الأموية

■ أذكر أهم خصائص الدولة

.....

■ أكمل الجداول التالي بوضع المطلوب المناسب:

(أهم الفتوحات في العصر الأموي) [الكتاب ص 49]

النتائج	القائد	الخليفة	الجهة
.....	<u>الشمال</u> (<u>الدولة</u> <u>البيزنطية</u>)
.....	<u>الشرق</u> (<u>بلاد ما</u> <u>وراء النهر</u>)
.....	<u>الجنوب</u> (<u>بلاد السند</u> ()

أنا القائد الذي فتح بلاد السند

أنا مؤسس الدولة الأموية

أنا القائد الذي حاولت فتح القسطنطينية

أنا القائد الذي فتح بلاد ماوراء النهر

الإسلام يظهر

رابعاً: (فتح بلاد المغرب)

(الكتاب ص 51/50)

المرحلة	الخليفة	القادة	المعارك	النتائج
الأولى	معاوية بن أبي سفيان
	
	يزيد بن معاوية
الثانية	عبد الملك بن مروان
الثالثة	عبد الملك بن مروان
الرابعة	عبد الملك بن مروان

(فتح بلاد الأندلس وجنوب فرنسا)

(الكتاب ص 52/51)

(عصر الخلفاء الراشدين - العصر الأموي - العصر العباسي - العصر العثماني)

أهم المعارك				القادة	المنطقة
النتائج	التاريخ	القائد	التاريخ	المعركة	1-.....
				شذونة
					2-.....
النتائج				المحاربة	فتح جنوب فرنسا
				الأولى	
				الثانية	
				الثالثة	

وضح كيف سقطت الدولة الأموية 132 هـ / 750م ؟ (الكتاب ص 51)

بم تفسر: ضعف وسقوط الدولة الأموية ؟ (الكتاب ص 51)

أحوال العرب قبل الإسلام

(السياسة - الاقتصادية - الاجتماعية - الدينية)

أكمل العبارات التالية بالكلمات المناسبة:

- 1) مؤسس الدولة الأموية اسمه.....
- 2) الجد الأكبر لمعاوية بن أبي سفيان الذي ينسب له اسم الدولة التي أسسها معاوية اسمه.....
- 3) آخر خلفاء الدولة الأموية اسمه.....
- 4) المدينة التي التقى فيها طارق بن زياد مع موسى بن نصير أثناء فتح الأندلس اسمها.....
- 5) المدينة التي بناها عمرو بن العاص في مصر اسمها.....

انتشار الإسلام خارج شبه الجزيرة العربية

(عصر الخلفاء الراشدين - العصر الأموي - العصر العباسي - العصر العثماني)

■ أأكمل الجدول التالي:

.....	سعد بن عبادة
.....	عبد الله بن أبي السرح
.....	شرحبيل بن حسنة
.....	المثنى بن حارثة
.....	أبو عبيدة الثقفي
.....	أبو عبيدة بن الجراح
.....	سعد بن أبي وقاص

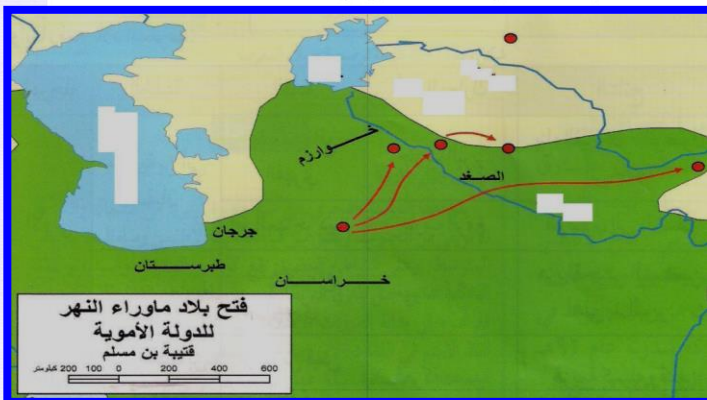
علل لما يأتي : (1) فتح العرب للشام

■ تسمية مضيق جبل طارق بهذا الاسم

أحوال العرب قبل الإسلام

(السياسية - الاقتصادية - الاجتماعية - الدينية)

ضع الرموز في مكانها الصحيح على الخريطة:



(1) بلاد ما وراء النهر والرمز (#)

(2) بحر الخرز والرمز (×)

(3) بحر خوارزم والرمز (////)

(4) نهر سيحون (سرداريا) والرمز (+)

(5) نهر جيحون (أموداريا) والرمز (÷)

انتشار الإسلام خارج شبه الجزيرة العربية

(عصر الخلفاء الراشدين - العصر الأموي - العصر العباسي - العصر العثماني)

أجب عن الأسئلة التالية بالاستعانة بالخريطة:



(1) جزيرة صقلية والرمز (+)

(2) جزيرة سردينيا والرمز (///)

(3) شبه جزيرة إيطاليا والرمز (÷)

(4) بحر الروم والرمز (- -)

(5) مدينة القيروان والرمز (#)

ضع الرموز في مكانها الصحيح على الخريطة:



(1) مدينة الإسكندرية عاصمة مصر والرمز (×)

(2) مدينة الفرما المدخل الشرقي لمصر والرمز (+)

(3) مدينة الفيوم مدخل الصعيد المصري والرمز (=)

(4) حصن بابلون والرمز (///)

(5) بحر القلزم والرمز (#).

■ ظل منطقة بلاد الشام

■ ظل إقليم برقة في غرب مصر.

ثالثا: الدولة

العباسية 656/132 هـ

■ علل : اتخاذ العباسيين (خراسان) مركزا لدعوتهم

السرية ضد العباسيين

ظهور الإسلام وقيام الدولة العربية الإسلامية

■ علل : سرعة سقوط الأموية في عهد مروان بن محمد

انتشار الإسلام خارج شبه الجزيرة العربية

(عصر الخلفاء الراشدين - العصر الأموي - العصر العباسي - العصر العثماني)

أكمل العبارات التالية بالكلمات المناسبة:

1. الشخص الذي تولى نشر الدعوة العباسية في خراسان اسمه.....
2. عاصمة خراسان التي تمكن أبو مسلم الخراساني من الاستيلاء عليها اسمها
3. أول خلفاء الدولة العباسية اسمه
4. الأمير الأموي الذي أنشأ الدولة الأموية المستقلة بالأموية بالأندلس اسمه
5. آخر خلفاء الدولة الأموية التي انتهت حياته بالقتل في صعيد مصر أسمة

أستكمل الجدول التالي :

النتائج	القادة	الأطراف	المعركة
.....	الز...
.....	اب...
.....	الأك...
.....	بر...

وضح كيف قامت الخلافة العباسية؟

أذكر أهم نتائج قيام الدولة العباسية

(السياسية - الاقتصادية - الاجتماعية - الدينية)

(1

(2

(3

ظهور الإسلام وقيام الدولة العربية الإسلامية

ثانياً: (ما الفرق بين):

العصر	الفترة الزمنية	اللقب	أشهر الخلفاء
العصر العباسي الأول			
العصر العباسي الثاني			

النتائج
المرتتبة علي
ضعف الدولة قي
العصر العباسي
الثاني.

▪ أكمل الجداول التالي بوضع المطلوب المناسب :

▪ (أهم الفتوحات في العصر العباسي) (الكتاب المدرسي ص 55)

النتائج	مناطق الفتح	القا ئد	العا م	الخليفة	الجهة
.....	<u>الغرب</u> (<u>أسيا</u> <u>الصغرى</u>)
.....
.....	<u>شمال</u> <u>أفريقيا</u> (<u>جزيرة</u> <u>صقلية</u>)

▪ علل لما يأتي: تفكك و زوال الدولة العباسية

(1)

(2)

(3)

(4)

ظهور الإسلام وقيام الدولة العربية الإسلامية

ثانياً:

انتشار الإسلام خارج شبه الجزيرة العربية

(عصر الخلفاء الراشدين - العصر الأموي - العصر العباسي - العصر العثماني)

ثالثاً:

الدولة العثمانية ودورها في نشر الإسلام في أوروبا (1341/699هـ)

- وضح كيف تأسست الدولة العثمانية في آسيا الصغرى ؟ .
الكتاب المدرسي ص 56

- أكمل الجداول التالي بوضع المطلوب المناسب :

- (أهم الفتوحات في العصر العثماني) (الكتاب المدرسي ص 57)

النتائج	مناطق الفتح	الحاكم
.....	<u>الغازي عثمان</u>
.....	<u>أورخان ابن عثمان</u>
.....	<u>مراد الأول</u>
..... (1)	<u>محمد الثاني</u>
..... (2)	

علل لما يأتي

(1) تسمية محمد الثاني بالفاتح .

(2) تسمية الدولة العثمانية بهذا الاسم .

(3) تسمية دولة الأغالبه بهذا الاسم .

انتشار الإسلام خارج شبه الجزيرة العربية
(عصر الخلفاء الراشدين - العصر الأموي - العصر العباسي - العصر العثماني)