

## عرف الدولة الإسلامية:


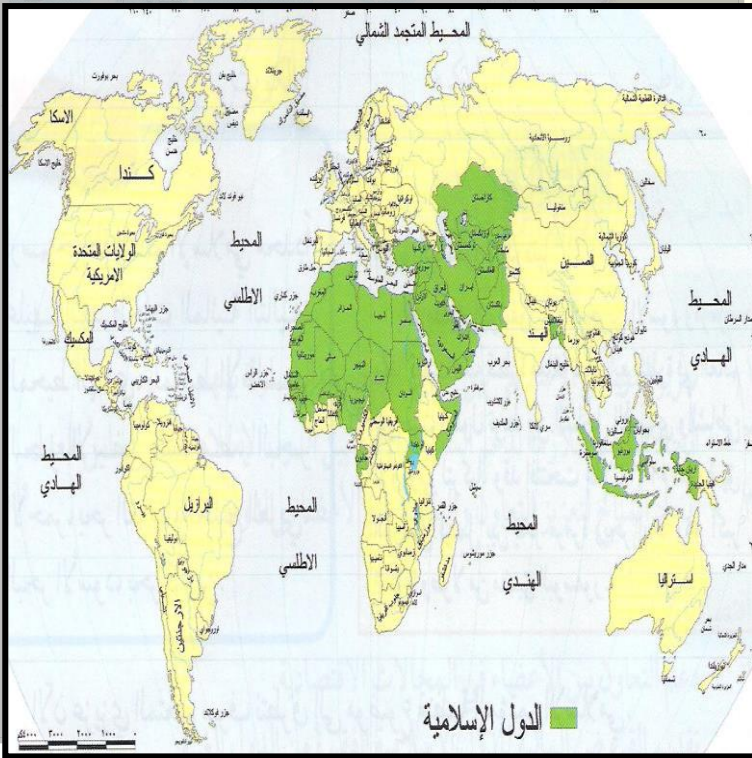
.....  
.....  
.....  
.....

## الوحدة الثالثة - العالم الإسلامي الحديث

▪ متى بدأ العالم الإسلامي يتبلور سياسيا؟

▪ أولاً: الموقع الجغرافي للعالم الإسلامي

أستكمل المخطط التالي لموقع العالم الإسلامي



أكمل: يمتد العالم الإسلامي في ثلاث  
قارات هي

..... و ..... و .....  
ويطلق عليها مصطلح .....

الموقع الفلكي  
للعالم الإسلامي:

▪ أكمل العبارات التالية:

(1) يمتد العالم الإسلامي بين دائرتي

عرض ..... جنوب خط الاستواء إلى دائرة عرض ..... شمالاً.

(2) تبلغ مساحة العالم الإسلامي حوالي ..... مليون كم<sup>2</sup>.

(3) تبلغ نسبة مساحة العالم الإسلامي ..... اليابس العالمي وهي تعادل نسبة تبلغ .....

(4) يعيش في العالم الإسلامي ..... من مجموع سكان العالم.

1. وضح أثر طوقع الجغرافي للعالم الإسلامي في انتشار الإسلام؟

.....  
.....

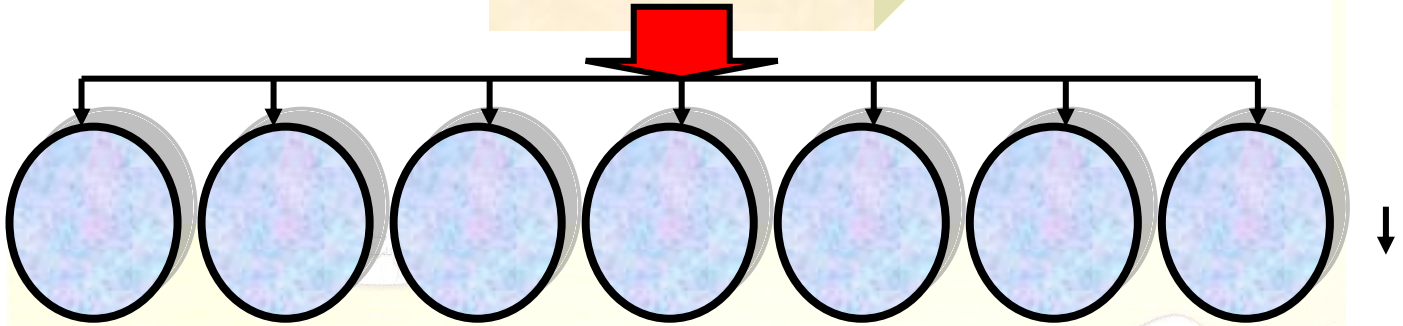
2. فرق بين المفاهيم الجغرافي التالية:

الموقع الفلكي	الموقع النسبي	الموقع المكاني
.....	.....	.....
.....	.....	.....
.....	.....	.....

3. علل الأهمية الإستراتيجية لموقع العالم الإسلامي؟.

4. استكمل المخطط التالي واذكر أهم المضايق التي يتحكم فيها العالم الإسلامي:

أهم المضايق



5. ضع الرموز على الخريطة المقابلة:

(x) المحيط

الأطلسي.

(÷) المحيط الهندي.

(+) البحر المتوسط.

(≠) البحر الأحمر.

(●) بحر العرب.

(☀) الخليج العربي.

(+) البحر الأسود.

(///) بحر قزوين.



منظمة المؤتمر

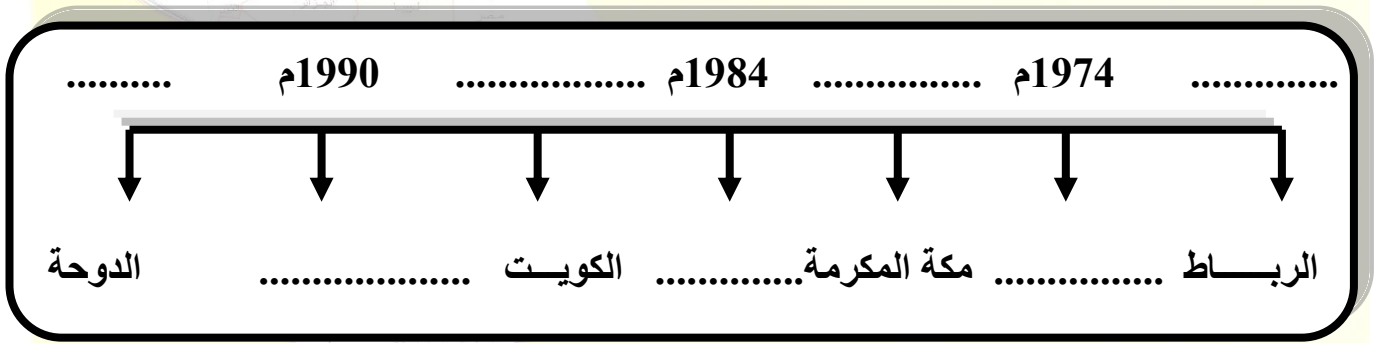
الإسلامي:.....

ثانيا: منظمة المؤتمر

الإسلامي

6. كيف ظهرت منظمة المؤتمر

أستكمل المخطط التالي للمدن والسنوات التي عقدت فيها مؤتمرات القمة الإسلامية:



7. استكمل الجدول التالي لأهداف منظمة المؤتمر الإسلامي: (الكتاب المدرسي ص 86/85)

الأهداف الاجتماعية	الأهداف الاقتصادية	الأهداف السياسية
(1) .....	(1) .....	(1) .....
.....	.....	.....
(2) .....	(2) .....	(2) .....
.....	.....	.....
(2) .....	(3) .....	(3) .....
.....	.....	.....
.....	(4) .....	(3) .....
.....	.....	.....

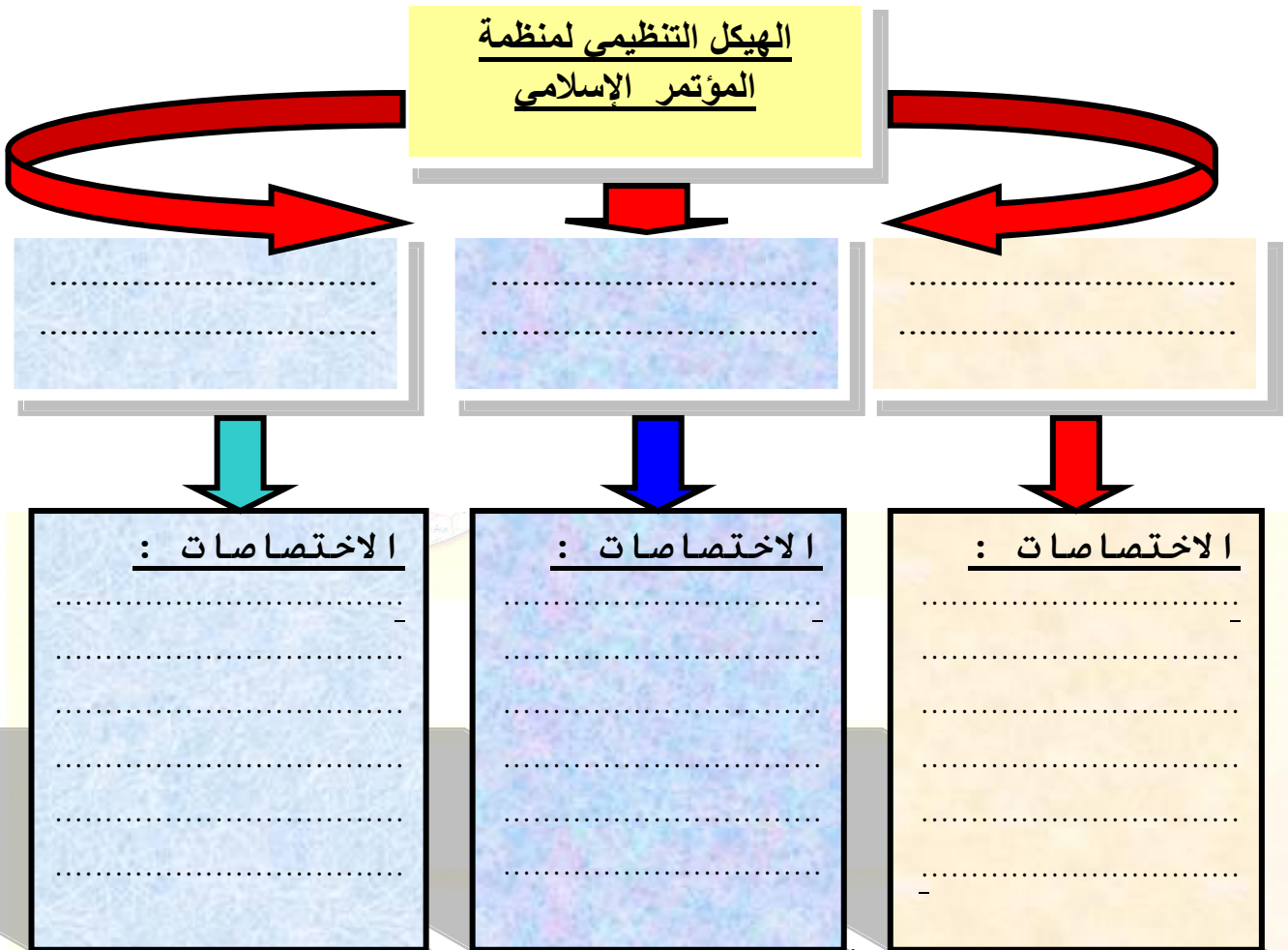


## 8. أكمل العبارات التالية بالكلمات المناسبة:

1. تعرض المسجد الأقصى للاحتراق علي يد الكيان الصهيوني الإسرائيلي في .....
2. كان لجريمة إحراق الصهاينة لمسجد القصي سببا في فكرة إنشاء .....
3. عقد أول مؤتمر لمنظمة العمل الإسلامي عام 1969م في مدينة ..... بدولة .....
4. عقد مؤتمر القمة الإسلامي الخامس عام 1985م في دولة .....
5. رئيس القمة الإسلامية الخامسة عام 1985م شخص أسمة .....
6. مقر البنك الإسلامي للتنمية مدينة سعودية تسمى .....
7. البنك الإسلامي للتنمية نشأ في عام .....
8. الغرفة الإسلامية للتجارة والصناعة مدينة تسمى ..... في دولة .....
9. نشأت الغرفة الإسلامية للتجارة والصناعة في عام .....
10. نشأت منظمة العمل الإسلامي في عام .....
11. مقر منظمة العمل الإسلامي مدينة سعودية تسمى .....

## ■ صل بين القائمة ( أ ) وما يناسبها من القائمة ( ب ) بوضع الرقم في القائمة ( ج )

م	القائمة ( أ )	القائمة ( ج )	القائمة ( ب )
1	مضيق هرمز		1. يصل بين البحر المتوسط والمحيط الأطلسي.
2	مضيق باب المندب		2. يصل بين البحر الأسود وبحر إيجه (جزء من البحر المتوسط).
3	مضيق جبل طارق		3. تصل بين البحر الأحمر والبحر المتوسط.
4	مضيق البوسفور والدردييل		4. الممر البري الذي يصل بين قارة آسيا وقارة أفريقيا.
5	مضيق ملقا		5. يصل بين باكستان وأفغانستان عبر الجبال.
6	شبة ج سيناء		6. في جنوب شرق آسيا ( اندونيسيا / ماليزيا .....).
7	قناة السويس		7. يصل بين الخليج العربي وخليج عمان .
8	ممر خيبر		8. يصل بين البحر الأحمر والمحيط الهندي.



■ **ضع المصطلح المناسب أمام العبارات التالية:**

1. ( ..... ) الجهاز الأعلى لمنظمة المؤتمر الإسلامي ويتكون من حكام الدول الإسلامية.
2. ( ..... ) يعين الأمين العام لمنظمة المؤتمر الإسلامي.
3. ( ..... ) يرأس الأمانة العامة لمدة سنتين لمنظمة المؤتمر الإسلامي.

أكمل العبارات التالية بالكلمات المناسبة:

1. مقر الأمانة العامة لمنظمة المؤتمر الإسلامي مدينة تسمى .....
2. ينعقد مؤتمر وزراء الخارجية لدول منظمة المؤتمر الإسلامي مرة واحدة كل .....
3. الجهاز المسئول عن تأمين الاتصال بين الدول الأعضاء في منظمة المؤتمر الإسلامي يسمى .....

**نماذج للدول الإسلامية ( 1 )  
جمهورية السنغال**

بالاستعانة بالخريطة أجب عن الأسئلة التالية: ( الكتاب المدرسي ص 87 )

أين تقع جمهورية السنغال بالنسبة لقارة أفريقيا.

حدد علي الخريطة الدول التي تشترك مع

جمهورية السنغال في الحدود:

- شمالا جمهورية موريتانيا
- شرقا جمهورية مالي.
- جنوبا جمهورية غينيا بيساو.
- ظلل دولة غامبيا.

حدد الأنهار التي تجري في دولة السنغال.

ضع الرمز (////) علي المحيط الأطلسي.

**أكمل العبارات التالية:**

1. دولة السنغال خضعت للاستعمار الأوربي من بريطانيا ودولة أخرى تسمى .....
2. السنغال حصلت علي استقلالها في عام .....
3. مساحة دولة السنغال تبلغ حوالي..... ألف كم<sup>2</sup>.
4. الأنهار الرئيسية التي تجري في السنغال نهر ..... و .....
5. سكان دولة السنغال حسب إحصاء عام 2000م يبلغ ..... م نسمة.
6. نسبة المسلمين من إجمالي سكان دولة السنغال تبلغ ..... %.
7. عاصمة دولة السنغال مدينة تسمى .....

**النشاط الاقتصادي.**

أهم الأنشطة الاقتصادية في دولة السنغال: ( الكتاب المدرسي ص 88 )





(1) الزراعة: وأهم المحاصيل ..... و ..... و .....

(2) الثروة الحيوانية: وتمتلك ثروة حيوانية كبيرة تشمل ..... و .....

(3) الثروة السمكية: وتبلغ كمية السمك المصطادة سنويا حوالي .....

(4) الموارد المعدنية: وأهم المعادن التي تستخرج في دولة السنغال .....

(5) الصناعات: وأهم الصناعات ..... و ..... و .....

▪ أكمل العبارات التالية:

1. أنتشر الإسلام في السنغال بفضل دولة تسمى .....

2. أقام عبد الله بن ياسين رباط عند مصب نهر .....

3. خضعت السنغال للاستعمار الفرنسي بدءا من عام .....

4. أقوى الثورات الوطنية ضد الاستعمار الفرنسي بقيادة حاجي عمر عام .....

▪ اذكر إسهامات الصندوق الكويتي للتنمية الاقتصادية في جمهورية السنغال:

▪ لخص دور دولة اطرابطين في نشر الإسلام في جمهورية السنغال.

▪ أختَر الإجابة الصحيحة من بين البدائل التالية:

(1) عاصمة جمهورية السنغال مدينة تسمى .....

0 نواكشوط      0 نيامي      0 دكار      0 كوناكري

(2) المسطح المائي الذي تطل عليه السنغال من جهة الغرب يسمى:

0 المحيط الأطلسي

0 المحيط الهندي

0 المحيط الهادي

0 البحر الأبيض المتوسط.

استقلت السنغال عن الاستعمار الفرنسي عام:

0 1960 م

0 1962 م

0 1961 م

0 1963 م



( الكتب المدرسي ص 88 )



▪ بالاستعانة بالخريطة أجب عن الأسئلة التالية:

▪ أين تقع كازاخستان بالنسبة لقارة آسيا.

▪ حدد علي الخريطة الدول التي تشترك مع

جمهورية كازاخستان في الحدود:

○ شمالا: روسيا الاتحادية.

○ غربا: بحر قزوين.

○ شرقا: دولة الصين الشعبية ودولة منغوليا.

○ جنوبا: (أوزبكستان، تركمانستان، قرغيزيا).

● حدد بالرمز (××) العاصمة أكمولا (أستانا).

● ظلل بحر آرال المغلق (/////)

▪ أكمل العبارات التالية بالكلمات

1. جمهورية كازاخستان كانت جزء من دولة تسمى .....

2. جمهورية كازاخستان علي الاستقلال عام .....

3. العاصمة القديمة لجمهورية كازاخستان مدينة تسمى .....

4. العاصمة الحالية لجمهورية كازاخستان منذ عام 1997م مدينة تسمى .....

5. مساحة جمهورية كازاخستان تبلغ ..... م كم2 معظمها مناطق .....

6. بلغ عدد سکن جمهورية كازاخستان حسب إحصاء 2002م حوالي ..... ونسبة المسلمين .....

عرف لفظ كازاخستان  
لغويا:

.....  
.....  
.....  
.....



## ■ النشاط الاقتصادي.

( 1 ) الزراعة: من أهم المحاصيل ..... و ..... و .....

( 2 ) الموارد المعدنية: الثروة المعدنية تشمل ..... و ..... و .....

..... و .....

( 3 ) الثروة الحيوانية: وأهم الحيوانات ..... و .....

( 4 ) الصناعة: وأهم الصناعات ..... و .....

..... و ..... و .....

## المشكلات التي يعاني منها العالم الإسلامي

أولاً: المشكلات السياسية: ( 1 ) مشكلات الحدود السياسية:

■ أكمل: السبب الرئيسي في وجود المشكلات السياسية في العالم الإسلامي يسمى .....

( 2 ) الحدود السياسية نوعان هما ..... و .....

■ أذكر نماذج للمشكلات الحدودية في العالم الإسلامي حالياً.

الحدود  
السياسية

■ مشكلة الحدود بين دولة الكويت وجمهورية العراق:

■ أذكر أهم محاولات العراق السيطرة على دولة الكويت. ( الكتاب

المدرسي ص 90 )

المحاولة الأولى 1961م:

المحاولة الثانية 1973م:

المحاولة الثالثة 1990م:

## 1. لخص كيف انتهى الخلاف الحدودي بين دولة الكويت وجمهورية العراق 1993م.

### ■ أكمل العبارات التالية بالكلمات المناسبة:

1. حاكم العراق الذي أعلن أن الكويت تتبع لواء البصرة عقب الاستقلال أسمة.....
2. حصلت الكويت علي الاستقلال بعد إلغاء معاهدة الحماية مع إنجلترا عام .....
3. المركز الحدودي الكويتي الذي هاجمه العراقيين عام 1973م يسمى .....
4. تعرضت دولة الكويت للغزو العراقي عام .....
5. تم انسحاب العراق من الأراضي الكويتية في 26 فبراير عام .....
6. الهيئة الدولية التي أصدرت قرار 687 عام 1991م لترسيم الحدود الكويتية العراقية تسمى .....
7. القرار الذي صدر بترسيم الحدود بين الكويت والعراق عام 1993 يحمل الرقم .....

### عرف الأقليات الإسلامية:

### ثانيا: مشكلة الأقليات الإسلامية.

### ❖ عدد المشكلات التي تعاني منها الأقليات المسلمة:

### ■ استكمل الجدول التالي:

النتائج	الأسباب	المشكلة
( 1 ) انخفاض في الدخل. ( 2 ) نقص المهارات الفنية.	(1) التفرقة في مجال العمل وقيام الدول الغير إسلامية بحرمان الأقليات المسلمة من الوظائف.	المشكلات الاقتصادية
( 1 ) انتشار الجهل والتخلف. ( 2 ) .....	❖ تعتبر من أخطر المشكلات التي تعاني منها الأقليات المسلمة حيث يتلقى أبناء المسلمين التعليم في كتاتيب أو التعليم البدائي.	المشكلات الثقافية والتعليمية
.....	.....	المشكلات السياسية

### ثالثاً: المشكلات الاقتصادية

( الكتاب المدرسي ص 92/93 )

■ أذكر أهم المشكلات الاقتصادية التي تعاني منها الأقليات المسلمة:

■ علل: معظم الدول الإسلامية لا تتبع الأساليب العلمية الحديثة؟.

■ ما النتائج المترتبة على:  
❖ ( 1 ) التخلف التقني (التكنولوجي) في العالم الإسلامي.

❖ ( 2 ) التبعية الاقتصادية لدول العالم الإسلامي مع الدول الغربية.

❖ علل: انخفاض الدخل القومي في دول العالم الاسلامي؟

عرف الدخل القومي

عرف الميزان التجاري:

❖ أكمل العبارات التالية:

1. إذا زادت قيمة الصادرات علي قيمة الواردات فإن الدولة لديها.....

2. إذا زادت قيمة الواردات علي قيمة الصادرات فإن الدولة لديها.....

3. الميزان التجاري لدولة الكويت لديه .....

4. نسبة الدول الإسلامية التي تعاني من عجز في الميزان التجاري حوالي.....



( الكتاب المدرسي ص 93/94 )

## رابعاً: المشكلات الاجتماعية

❖ أذكر أهم المشكلات الاجتماعية التي يعاني منها العالم الإسلامي حالياً.

❖ علل: انتشار الجريمة في المجتمعات الإسلامية .

أ - .....

ب - .....

ج - .....

د - .....

❖ علل: ضعف الخدمات التعليمية في العالم الإسلامي .

أ - .....

ب - .....

ج - .....

د - .....

❖ علل: قلة دخل الفرد في الكثير من الدول الإسلامية ؟.

( الكتاب المدرسي ص 95 )

## خامساً: المشكلات التعليمية والثقافية

❖ أذكر المشكلات التعليمية والثقافية في دول العالم الإسلامي ؟.

❖ علل: ضعف الخدمات التعليمية في دول العالم الإسلامي ؟.

**( ب ) قارن بين جمهورية كازاخستان و جمهورية السنغال من حيث الآتي :-**

أوجه المقارنة	القارة	العاصمة	دخول الإسلام	الثروة المعدنية	الصناعة	عدد السكان
جمهورية كازاخستان						
جمهورية السنغال						
