




اسم المتعلم : الصف : /

السؤال الأول: حوط الإجابة الصحيحة مما يلي :


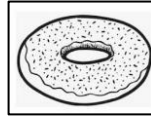
١- أنا أرى القمر  باستخدام حاسة :



٢- الكائن الذي يستطيع أن يأكل و يتنفس و ينمو :



٣- الطعام الصحي السليم هو




السؤال الثاني : ضع علامة (/) تحت السلوك الصحيح وعلامة (x) تحت السلوك الغير

صحيح :




(.....)



(.....)




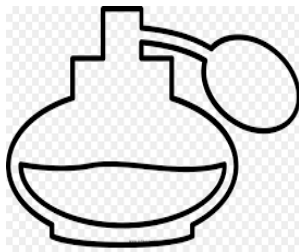
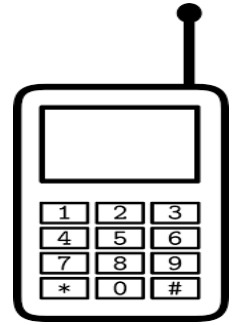

(.....)




السؤال الثالث : أكمل الناقص في الرسم الموضح

: أمامك



السؤال الرابع : صل كل صورة بما يناسبها من حواس :




السؤال الخامس : صل بين المصطلح و ما يدل عليه مما يلي :



كائنات حية



كائنات غير حية



السؤال السادس : حوط الكائنات التي تنمو مما يلي :

