



وزارة التربية

اللجنة الفنية للعلوم

توجيه العلوم

بنك أسئلة مادة العلوم

الصف الأول الابتدائي

الفترة الأولى

2015-2014

## الوحدة الأولى : علوم الحياة

### الفصل الأول : الكائنات الحية والأشياء غير الحية

السؤال الأول: اختر الإجابة الصحيحة علمياً لكل من العبارات التالية بوضع علامة (√) في المربع المقابل لها:

1- من الكائنات الحية:

الانسان  الكتاب  السبورة  القلم

2- من الكائنات الحية:

السيارة  صخرة  الصقر  التربة

3- من الكائنات الحية :

قلم  تليفون  أرنب  حاسوب

4- الكائنات الحية تنمو وتتكاثر وتستخدم :

كتاب  صخرة  كوب  الطاقة

5- تتلقى الكائنات الحية الطاقة من :

الماء  الهواء  الغذاء  التربة

6- من الأشياء غير الحية :

عصفور  قلم  الصقر  دجاجة

7- من الأشياء الغير حية :

السيارة  دب  الصقر  نبات

8- من الأشياء غير الحية :

نبات  حقيبة  أسد  عصفور




السؤال الثاني : أكتب بين القوسين كلمة (صحيحة) للعبارة الصحيحة وكلمة ( خطأ ) للعبارة غير الصحيحة في كل مما يأتي :-





- 1- الانسان من الكائنات الحية (.....)
- 2- النباتات والحيوانات من الأشياء غير الحية (.....)
- 3- الدجاجة من الكائنات الحية (.....)
- 4- الكائنات الحية كلها تنمو (.....)
- 5- الكائنات الحية لا تتكاثر (.....)
- 6- الكائنات الحية تحصل على الطاقة من الهواء (.....)
- 7- الأشياء غير الحية تنتقل بنفسها (.....)
- 8- الأشياء غير الحية لا تنمو ولا تتكاثر (.....)

السؤال الثالث : أكمل كل من العبارات التالية بما يناسبها علمياً :

- 1- الإنسان من الكائنات .....
- 2- من الكائنات الحية الحيوانات و .....
- 3- الكائنات الحية كلها تنمو و .....
- 4- تتلقى الكائنات الحية الطاقة من .....
- 5- الأشياء غير الحية لا تنتقل بـ .....
- 6- من الأشياء غير الحية .....
- 7- الأشياء غير الحية لا .....
- 8- الأشياء غير الحية لا .....

السؤال الرابع : في الجدول التالي اختر العبارة أو الشكل من المجموعة ( ب ) وأكتب رقمها أمام ما يناسبها من عبارات المجموعة ( أ ) :

( ب )		( أ )	
	1	من الحيوانات	
	2	من النباتات	
	3	الانسان من	
الكائنات الحية	4	من الأشياء غير الحية	

( ب )		( أ )	
	1	من الحيوانات	
	2	من النباتات	
	3	من الأشياء غير الحية بالصف	
	4	من الأشياء غير الحية	

## الوحدة الأولى : علوم الحياة

### الفصل الثاني : الحيوانات

السؤال الأول: اختر الإجابة الصحيحة علمياً لكل من العبارات التالية بوضع علامة (√) في المربع المقابل لها:

1- من الحيوانات التي تقفز

الأرنب  الثعبان  السلحفاة  السمك

2- الأسماك

تمشي  تسبح  تقفز  تطير

3- يغطي جسم الصقر

أصداف  قشور  فرو  ريش

4- يغطي جسم الأسماك

قشور  شعر  فرو  أصداف

5- السلحفاة يغطي جسمها

أصداف  فرو  ريش  شعر

6- من صغار الحيوانات والذي لا يشبه والديه

الدب  القرد  الضفدع  النمر

7- من الحيوانات اللبونة

البطة  البطريق  القطة  الاوزة

8- تتعلم صغار الحيوانات من مراقبة

الانسان  والديها  السبورة  التليفزيون

السؤال الثاني : أكتب بين القوسين كلمة (صحيحة) للعبارة الصحيحة وكلمة ( خطأ) للعبارة غير الصحيحة في كل مما يأتي :-





- 1-الطيور تطير والأسماك تسبح (.....)
- 2- الأرانب تقفز والكلاب تجري (.....)
- 3- الطيور تغطي أجسامها القشور(.....)
- 4- الدب يغطي جسمه الريش (.....)
- 5- تحتاج الحيوانات إلى الماء (.....)
- 6- تعيش الحيوانات بدون هواء (.....)
- 7- صغير الدب يشبه والديه (.....)
- 8- تضع الطيور البيض (.....)

السؤال الثالث : أكمل كل من العبارات التالية بما يناسبها علمياً :

- 1- الأرانب من الحيوانات التي.....
- 2- الأسماك .....في الماء
- 3- يغطي جسم الصقر .....
- 4- يغطي جسم السمكة .....
- 5- تحتاج الحيوانات في حياتها إلى الماء و..... والغذاء
- 6- بعض صغار الحيوانات يشبه .....
- 7- الحيوانات اللبونة .....صغارها من لبنها
- 8- من الحيوانات اللبونة .....

السؤال الرابع : في الجدول التالي اختر العبارة أو الشكل من المجموعة ( ب ) وأكتب رقمها أمام ما يناسبها من عبارات المجموعة ( أ ) :

( ب )		( أ )	
	1	من الحيوانات التي تقفز	
	2	من الحيوانات التي تطير	
	3	من الحيوانات التي تسبح	
	4	من الحيوانات التي تزحف	

( ب )		( أ )	
	1	يغطي جسمها الريش	
	2	يغطي جسمها أصداف	
	3	يغطي جسمها قشور	
	4	يغطي جسمها الفرو	

الوحدة الأولى : علوم الحياة

الفصل الثالث : النباتات

السؤال الأول: اختر الإجابة الصحيحة علمياً لكل من العبارات التالية بوضع علامة (√) في المربع المقابل لها:

1- نزرع البذرة في

التربة  الهواء  الصخر  السماء

2- تنمو البذرة لتصبح

أصداف  نبات  حيوان  انسان

3- البذرة أكثر قابلية للإنبات وهي

جافة  رطبة  ميتة  خضراء

4- تصنع النباتات غذائها من الماء والهواء و

السماء  الدواء  الرياح  الضوء

5- من أجزاء النبات والذي يتلقى ضوء الشمس

الأوراق  الجذور  الساق  الأزهار

6- تمتص الماء وتثبت النبات في التربة

السيقان  الجذور  الأوراق  الأزهار

7- تحمل السيقان الماء من

التربة  الجذور  الأوراق  الأزهار

8- تحمل الماء من الجذور إلى اجزاء النبات الأخرى

الجذور  الأزهار  الأوراق  السيقان

السؤال الثاني : أكتب بين القوسين كلمة (صحيحة ) للعبارة الصحيحة وكلمة ( خطأ ) للعبارة غير الصحيحة في كل مما يأتي :-

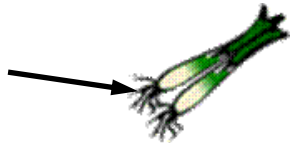
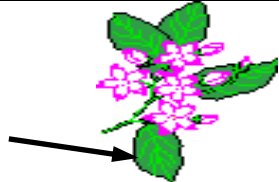




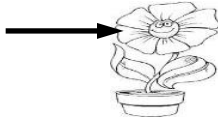
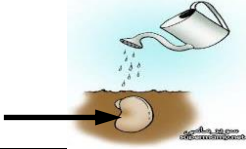

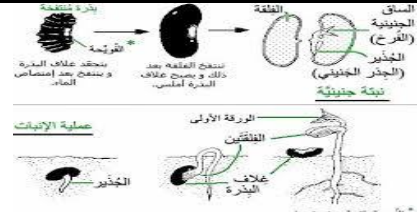
- 1-نزرع البذور في التربة (.....)
- 2- البذور الجافة أكثر قابلية للإنبات (.....)
- 3- تصنع النباتات الغذاء باستخدام الضوء(.....)
- 4- الأوراق والجذور من أجزاء النبات (.....)
- 5- الأوراق تنقل الماء من الجذور (.....)
- 6- السيقان تثبت النبات في التربة (.....)
- 7- الجذور تمتص الماء من التربة (.....)
- 8- النباتات ليس لها جذور (.....)

**السؤال الثالث : أكمل كل من العبارات التالية بما يناسبها علمياً :**

- 1-عندما نزرع بذرة في التربة فإنها .....
- 2- عندما تنمو البذرة تحدث تحولات في لونها وحجمها و .....
- 3- البذرة تكون أكثر قابلية للإنبات وهي .....
- 4- تصنع النباتات ..... مستخدمة الماء والضوء والهواء
- 5- من أجزاء النبات الأوراق والسيقان و .....
- 6- الجذور تثبت النبات في .....
- 7- تتلقى ..... ضوء الشمس
- 8- السيقان تحمل الماء من ..... إلى أجزاء النبات

**السؤال الرابع : في الجدول التالي اختر العبارة أو الشكل من المجموعة ( ب ) وأكتب رقمها أمام ما يناسبها من عبارات المجموعة ( أ ) :**

( ب )		( أ )	
	1	شجرة	
	2	جذور	
	3	ساق	
	4	أوراق	

( ب )		( أ )	
	1	انبات البذور	
	2	شجرة	
	3	البذور	
	4	الأزهار	