

ورقة عمل للصف الاول الابتدائي




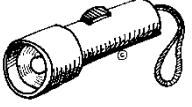
وزارة التربية

للعام الدراسي (2015-2016)

الادارة العامة لمنطقة مبارك الكبير التعليمية

مدرسة البيرق ابتدائية بنات

السؤال الاول: في الجدول التالي صلي بين الجهاز الكهربائي و مصدر الطاقة المناسب له:

المجموعة (ب)	المجموعة (أ)
 	 

مديرة المدرسة: فاطمة زمان

رئيسة القسم: شيخة العازمي

المعلمة: بشاير العازمي