

الاسم :




الصف :

ورقة عمل للصف الأول

• مثل الكائنات المعطاه على التمثيل البياني :



الكائنات الحية

0

1

2

3

4

5

6

7

8

9

10

• استخدم التمثيل البياني بالاعمدة السابق للاجابة على الاسئلة :

حوظ الكائن الحي الأكثر عدد ا :



_____ ؟



و



كم عدد كلا من