

ورقة عمل
الصف الثاني
رقم 2

الاسم :

الصف :



وزارة التربية


منطقة مبارك الكبير التعليمية

مدرسة خالد المسعود أ/ بنين

أكمل كلاما يأتي :

3  3

2  أنضم إليها .


كم عدد كل ال  ؟

..... و تكونان

..... = +


4  علي الشجرة

1  ترحف نحوها .

كم عدد كل ال  ؟

..... و تكونان

..... = +

11  علي الشجرة .

2  طارتا .

كم عدد ما بقي من ال  علي الشجرة ؟

..... = -

8  تسبح قريبا .

2  بعدتا .

كم عدد ما بقي من ال  قريبا ؟

..... = -



رأى فهد 10  .

رأى أحمد 6  .

كم رأى فهد أكثر من أحمد ؟

..... = -

أكثر

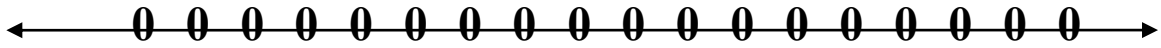
بكم  أكثر من ال  ؟



أكثر

..... = -

أستخدم خط الاعداد . و اوجد ناتج .



$$= 0 + 6$$

$$= 1 + 5$$

$$= 3 + 5$$

$$= 2 + 8$$

$$= 2 + 6$$

9

7

8

9

4

2+

3+

0+

3+

2+

12

6

8

9

10

2 -

1 -

0 -

7 -

2 -

أكمل الجدول :



طرق لتكوين العدد 6				طرق لتكوين العدد 6			
_____	=	_____	+	_____	_____	=	_____
_____	=	_____	+	_____	_____	=	_____
_____	=	_____	+	_____	_____	=	_____
_____	=	_____	+	_____	_____	=	_____

بكم طريقة تكون العدد 6 ؟

بكم طريقة تكون العدد 9 ؟

بكم طريقة تكون العدد 5 ؟