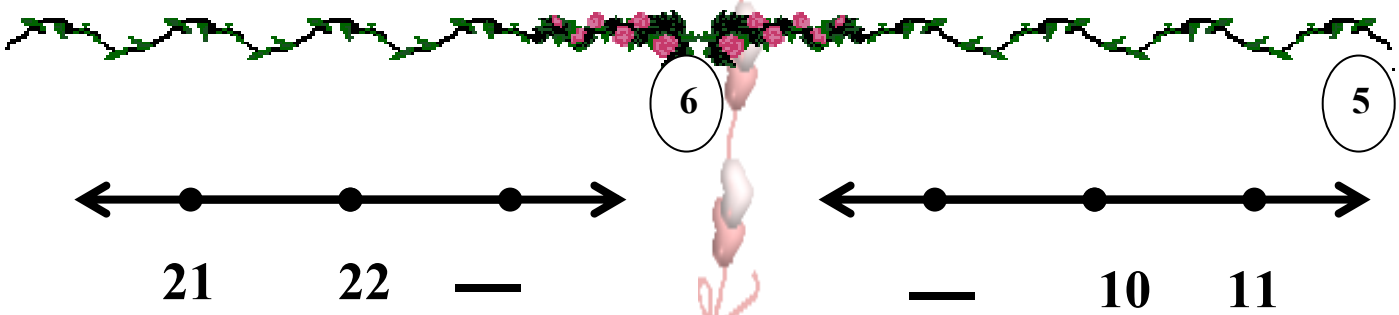
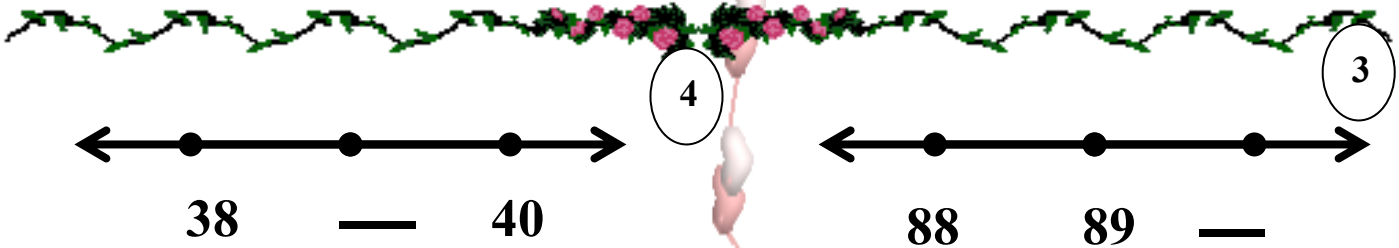
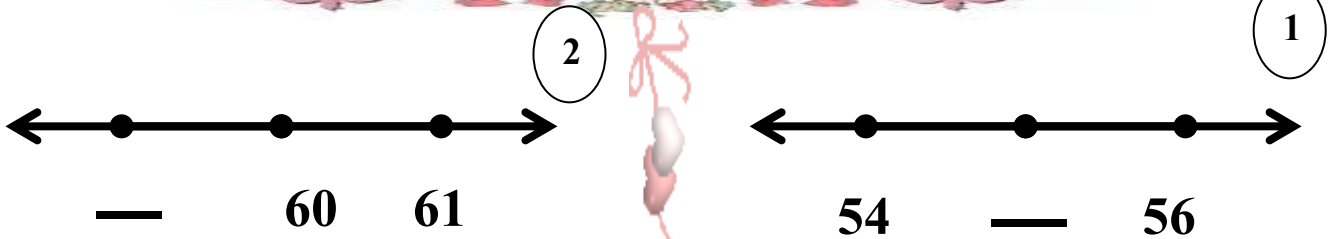


ورقة عمل للصف الثاني الابتدائي
قبل ، بعد ، بين .



7

8

ما العدد الذي يأتي بعد 17 ؟

—

9

ما العدد الذي يأتي بين 98 و 100 ؟

—

مديرة المدرسة
جميلة دشتي

9

ما العدد الذي يأتي قبل 11 ؟

—

رئيسة القسم
حسنا العجمي

اعداد المعلمة
شيماء صلاح