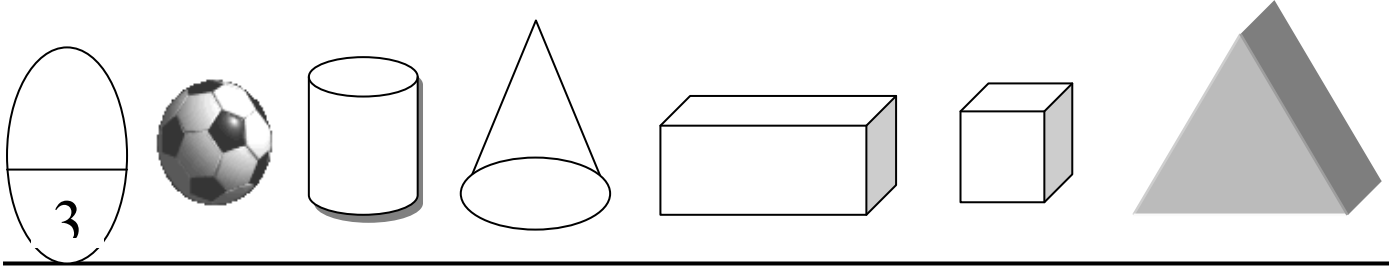


الاسم: .....	الصف: .....	الدرجة
		10
<p><b>أوجدى المحيط:-</b></p> <p>المحيط = ___ + ___ + ___ + ___ = سنتيمترا</p>	<p>المحيط = ___ + ___ + ___ = سنتيمترا</p>	

**صلي الشكل باسمه:**

اسطوانه      كرة      مخروط      هرم      مكعب      شبه مكعب



ثانيا: ظلل الرمز الدال على الاجابات الصحيحة .

(1) اكثر من 1 لتر



ج



ب



أ

(2) اخف من 1 كيلوجرام



ج



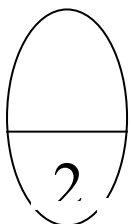
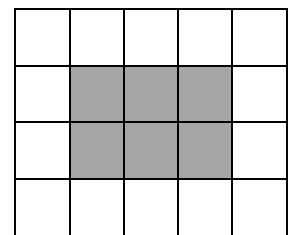
ب



أ

(3)

المساحة = \_\_\_ وحدات مربعة



ج 8

ب 6

أ 9