

ورقة عمل (١)

الصف الثاني

المادة : رياضيات


(الوحدة الأولى)
م ٢٠١٩ - ٢٠٢٠ م

١٢

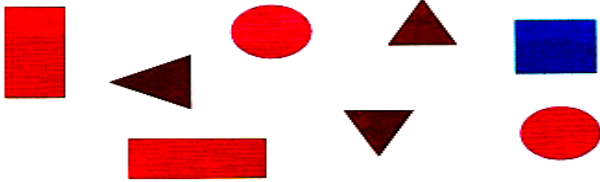
اسم الطالب :

أكمل النمط التالي:

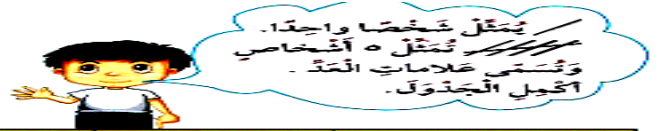
(١) ٥٠ ، □ ، ٣٠ ، ٢٠ ، ١٠



حوط المثلثات في الشكل المجاور :



تمرن:



الرياضة المُفضَّلة	علامات العدّ	العدّد
		٦

كَوِّن التَّمثِيلَ البَيَانِيَّ بِالأَعْمَدَةِ مِنَ البَيَانَاتِ
الَّتِي فِي الصُّورَةِ.

الرَّيَاضَةُ المُفضَّلة							
	١	٢	٣	٤	٥	٦	٧

أجِبْ عَمَّا يَلِي مُسْتَعِينًا بِالتَّمثِيلَاتِ البَيَانِيَّةِ السَّابِقَةِ.

كَمْ عَدَدُ الأَشْخَاصِ الَّذِينَ يُفَضِّلُونَ لُعْبَةَ ؟ _____ شَخْصًا

كَمْ عَدَدُ الأَشْخَاصِ الَّذِينَ يُفَضِّلُونَ لُعْبَةَ ؟ _____ شَخْصًا

كَمْ عَدَدُ الأَشْخَاصِ الَّذِينَ يُفَضِّلُونَ لُعْبَةَ ؟ _____ شَخْصًا

ورقة عمل (٢)

الصف الثاني

المادة : رياضيات

(الوحدة الثانية)

2019_2020 م

اسم الطالب :

/ ٢

(١) اكتب.



رمز العدد


الإسم اللفظي



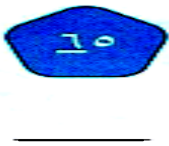
رمز العدد

الإسم اللفظي

(٢) اكتب الإسم اللفظي للأعداد التالية:



(٣) اكتب القيمة المكانية للرقم الذي وضع تحته خط.



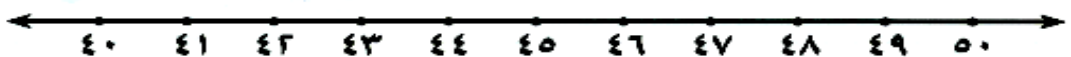
(٤) أكمل سلاسل الأعداد :



(٥) قارن. ضع رمز العلاقة (< أو > أو =). بإمكانك استخدام العناصر.



(٦) رتب الأعداد التالية (من الأصغر إلى الأكبر).

(٧) العدد ٤٩ أقرب إلى العدد 

٣٠

٤٠

٥٠