

الفترة الدراسية الأولى
الصف الثاني الابتدائي
مادة الرياضيات

منطقة مبارك الكبير
عائشة محمد الشريف أ. بنات

السؤال الأول: أكمل

10

6 على غصن شجرة
4 إنضمت إليها



3

كم عدد كل الـ
و



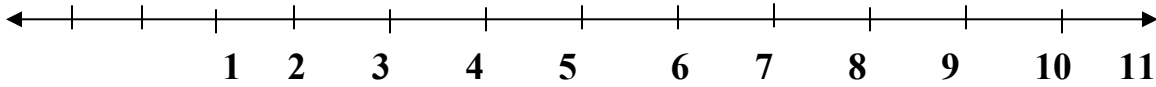
الآن؟

تكونان

 =

 +

السؤال الثاني: استخدم خط الأعداد : اكتب الناتج ؟



2

8
2 -

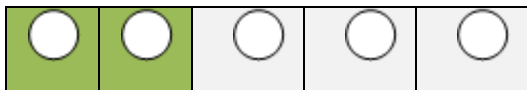
10
1 -

6
0 +

9
2 +

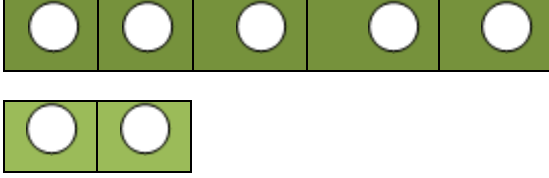
3

السؤال الثالث: أكمل يمكنك أن توضح (5) بطرق مختلفة . اكتب عبارات الجمع



 +


 +



السؤال الرابع: اوجد الفرق

اكثر

-

2