

## الدرس (١): كيف تتنوع أغطية الحيوانات؟

**السؤال الأول:** اختر الإجابة الصحيحة علمياً لكل من العبارات التالية بوضع علامة (✓) في المربع المقابل لها:

١. يغطي جسم الطيور:

شعر  ريش  حراشف  قشور

**السؤال الثاني:** ضع علامة (✓) أمام العبارة الصحيحة وعلامة (X) أمام العبارة الغير صحيحة:

١. يغطي جسم الارنب شعر. ( )

٢. يغطي جسم الثعبان ريش. ( )

**السؤال الثالث:** أكمل العبارات التالية بما يناسبها علمياً:

١. يغطي جسم السلحفاة.....

٢. يغطي جسم السمكة.....

**السؤال الرابع:** أكمل الجدول

غطاء الجسم	مكان المعيشة	الحيوان
		
		
		
		

## الدرس (٢): كيف يؤثر غطاء الحيوان على حركته؟

**السؤال الأول :** اختر الإجابة الصحيحة علمياً لكل من العبارات التالية بوضع علامة (✓) في المربع المقابل لها:

١. جميع الأسماك.....
- تمشي  تطير  تزحف  تسبح
٢. الثعبان.....
- يمشي  يطير  يزحف  يسبح

**السؤال الثاني:** ضع علامة (✓) أمام العبارة الصحيحة وعلامة (X) أمام العبارة الغير صحيحة :

١. الريش يساعد الطائر على الطيران. ( )
٢. الحراشف تساعد الخروف على المشي. ( )

**السؤال الثالث:** أكمل العبارات التالية بما يناسبها علمياً:

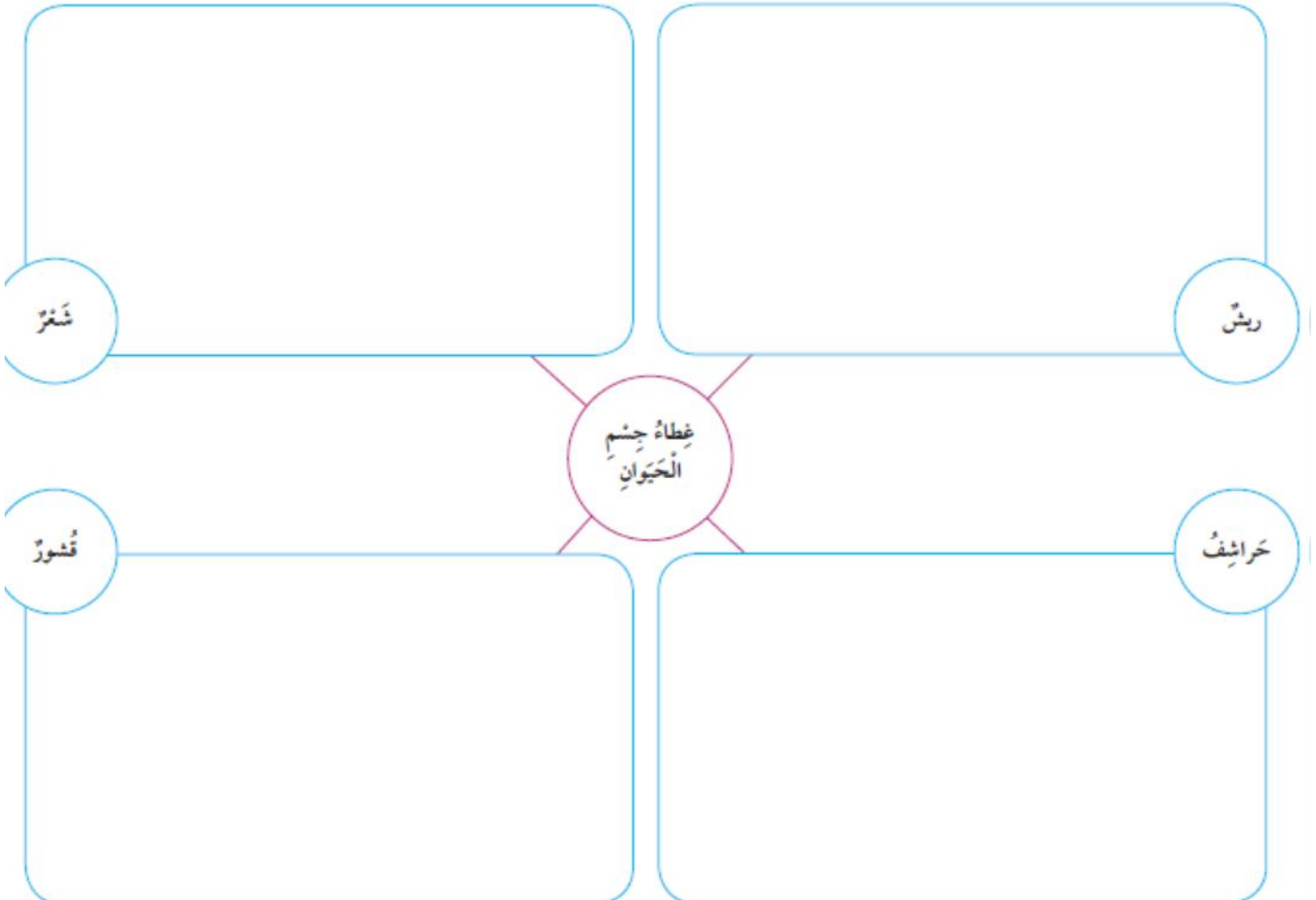
١. غطاء جسم الحيوان يساعده على.....

**السؤال الرابع :** أكمل الجدول

طريقة الحركة	غطاء الجسم	الحيوان
		
		
		
		



صَنَّفِ الْحَيَوَانَاتِ بِحَسَبِ غِطَاءِ الْجِسْمِ (رِيش - شَعْرٌ - حَرَائِيفُ - قُشُورٌ)



## الدرس (٣): ماذا تأكل الحيوانات؟

**السؤال الأول:** اختر الإجابة الصحيحة علمياً لكل من العبارات التالية بوضع علامة (✓) في المربع المقابل لها:

١. الحيوانات التي تأكل نباتات تسمى .....:  آكلة لحوم  آكلة أعشاب  آكلة خبز  آكلة أسماك

٢. الحيوانات التي تأكل حيوانات أخرى تسمى .....:  آكلة لحوم  آكلة أعشاب  آكلة خبز  آكلة أسماك

**السؤال الثاني:** ضع علامة (✓) أمام العبارة الصحيحة وعلامة (X) أمام العبارة الغير صحيحة:

١. الحيوانات التي تأكل نباتات تسمى آكلة لحوم. ( )  
٢. الأسد من الحيوانات آكلة الأعشاب. ( )


**السؤال الثالث:** أكمل العبارات التالية بما يناسبها علمياً:

١. العصفور من الحيوانات آكلة.....  
٢. النمر من الحيوانات آكلة.....

**السؤال الرابع:** (□) اختر من المجموعة (ب) ما يناسبها من المجموعة (أ) بوضع الرقم المناسب

الرقم	( أ )	( ب )
١	من الحيوانات آكلة اللحوم.	
٢	من الحيوانات آكلة الأعشاب.	

٥

(ب)  صلِّ بَيْنَ كُلِّ حَيَوَانٍ وَالطَّعَامِ الَّذِي يَأْكُلُهُ.



## الدرس (٤): كيف تتكاثر الحيوانات؟

**السؤال الأول:** اختر الإجابة الصحيحة علمياً لكل من العبارات التالية بوضع علامة (✓) في المربع المقابل لها:

١. من الحيوانات التي تلد:

البطة  السمكة  البقرة  السلحفاة

٢. من الحيوانات التي تبيض:

القطعة  الدجاجة  البقرة  الماعز

**السؤال الثاني:** ضع علامة (✓) أمام العبارة الصحيحة وعلامة (X) أمام العبارة الغير صحيحة:

١. بعض الحيوانات يلد وبعضها يبيض. ( )



٢. الجمل من الحيوانات التي تبيض. ( )

**السؤال الثالث:** أكمل العبارات التالية بما يناسبها علمياً:

١. .... من الحيوانات التي تلد.

٢. .... من الحيوانات التي تبيض.

**السؤال الرابع:** (أ) اختر من المجموعة (ب) ما يناسبها من المجموعة (أ) بوضع الرقم المناسب

الرقم	(أ)	(ب)
١	من الحيوانات التي تبيض	
٢	من الحيوانات التي تلد	

(ب) اكتب أسماء حيوانات تتكاثر بالبيض وأخرى بالولادة.

تَلِدُ	تَبِيضُ
.....	.....
.....	.....

## الدرس (٥): ما وظيفة العظام؟

**السؤال الأول :** اختر الإجابة الصحيحة علمياً لكل من العبارات التالية بوضع علامة (✓) في المربع المقابل لها:

١. العظام تساعدني على .....
- التفكير  الحركة  النوم  التسلية
٢. العظام تجعل جسمي.....:
- كسولاً  نشيطاً  متماسكاً  ضعيفاً

**السؤال الثاني:** ضع علامة (✓) أمام العبارة الصحيحة وعلامة (X) أمام العبارة الغير صحيحة :

١. العظام تجعل جسمي متماسكاً ومنتصباً. ( )
٢. العظام تساعدني على المشي والركض. ( )

**السؤال الثالث:** أكمل العبارات التالية بما يناسبها علمياً:

١. العظام تجعل جسمي.....و.....
٢. العظام تساعدني على ..... و.....

**السؤال الرابع :** اختر من المجموعة (ب) ما يناسبها من المجموعة (أ) بوضع الرقم المناسب

الرقم	( أ )	( ب )
	..... تساعدني على الحركة	متماسكاً
	العظام تجعل جسمي .....	الكلام
		العظام

## الدرس (٦): هل للكائنات الحية هيكل عظمي؟

**السؤال الأول :** اختر الإجابة الصحيحة علمياً لكل من العبارات التالية بوضع علامة (✓) في المربع المقابل لها:

١. من الحيوانات التي لها هيكل عظمي:

القطّة  النملة  الريبان  الذباب

٢. من الحيوانات التي ليس لها هيكل عظمي:

القطّة  البقرة  الكلب  النحلة

**السؤال الثاني :** ضع علامة (✓) أمام العبارة الصحيحة وعلامة (x) أمام العبارة الغير صحيحة :

١. بعض الحيوانات لها هيكل عظمي. ( )

٢. كل الحيوانات ليس لها هيكل عظمي. ( )



**السؤال الثالث :** أكمل العبارات التالية بما يناسبها علمياً:

١. .... من الحيوانات التي لها هيكل عظمي.

٢. .... من الحيوانات التي ليس لها هيكل عظمي.

**السؤال الرابع :** أكمل الجدول التالي

ضع علامة ✓ أو ×

لَيْسَ لَهَا عِظَامٌ	لَهَا عِظَامٌ	الْعَبَّةُ
		
		



## الدرس (٧): ما السلسلة الغذائية؟

**السؤال الأول:** اختر الإجابة الصحيحة علمياً لكل من العبارات التالية بوضع علامة (✓) في المربع المقابل لها:

١. تعتمد الكائنات الحية على بعضها بعضاً للحصول على.....

القشور       النقود       الغذاء       العلوم

٢. تبدأ السلسلة الغذائية بـ.....

الحيوانات       النباتات       الطيور       الأسماك

**السؤال الثاني:** ضع علامة (✓) أمام العبارة الصحيحة وعلامة (X) أمام العبارة الغير صحيحة :

١. تبدأ السلسلة الغذائية بالزواحف. ( )

٢. تعتمد الكائنات الحية على بعضها بعضاً للحصول على غذائها. ( )


**السؤال الثالث:** أكمل العبارات التالية بما يناسبها علمياً:

١. تبدأ السلسلة الغذائية بـ.....

٢. تعتمد الكائنات الحية على بعضها بعضاً للحصول على.....

**السؤال الرابع:**

1- أكمل السلسلة الغذائية.



2- رتب السلسلة الغذائية

