



وزارة التربية

الإدارة العامة لمنطقة حولي التعليمية

مدرسة السلام الابتدائية بنات

ورقة عمل للمادة الرياضيات

للف الثاني الابتدائي


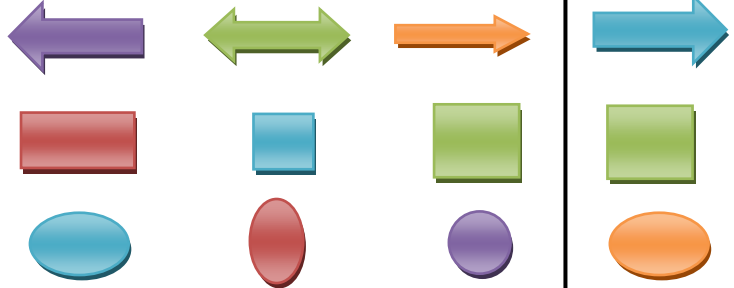
الفصل الدراسي الأول - الوحدة الخامسة

٢٠١٨ - ٢٠١٩


الاسم: _____

الصف: _____

السؤال الأول:- حوِّط الشكل الذي يطابق الشكل الأول:-

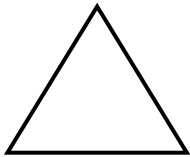


اسم الشكل _____
عدد الرؤوس _____
عدد الأضلاع _____



السؤال الثاني:- أكمل :-

اسم الشكل _____
عدد الرؤوس _____
عدد الأضلاع _____



اسم الشكل _____
عدد الرؤوس _____
عدد الأضلاع _____



اسم الشكل _____
عدد الرؤوس _____
عدد الأضلاع _____

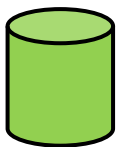


اسم الجسم _____
عدد أوجه _____
عدد الرؤوس _____

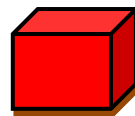


السؤال الثالث:- أكمل :-

اسم الجسم _____
عدد أوجه _____
عدد الرؤوس _____



اسم الجسم _____
عدد أوجه _____
عدد الرؤوس _____



اسم الجسم _____
عدد أوجه _____
عدد الرؤوس _____


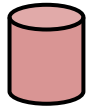


السؤال الرابع:- حوّل الإجابة الصحيحة :-


الشكلان المتطابقان هما




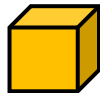
شكل هندسي له 6 أوجه متطابقة و 12 حرفاً و 8 رؤوس . هو



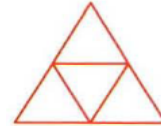
الوجه الذي يرتكز عليه الجسم



الجسم الذي يتدحرج هو



عدد المثلثات في هذا الشكل





٥

٤

٣

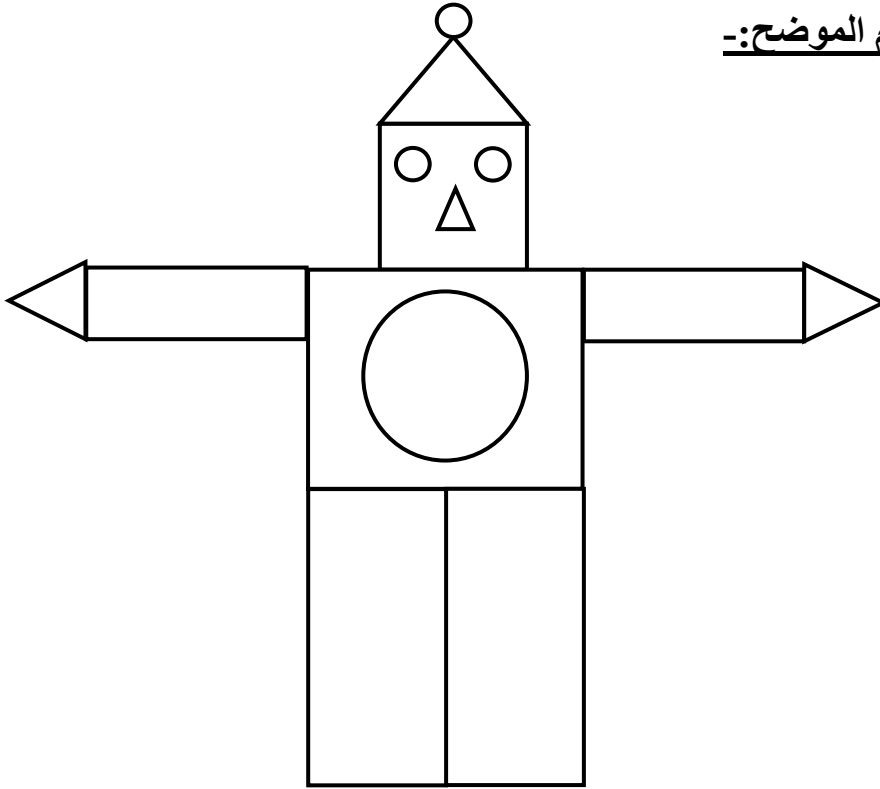
السؤال الخامس:- لون المجسمات التي تتدحرج






السؤال السادس:-

أجب عن الأسئلة التالية من خلال الرسم الموضح:-



-----  كم عدد كل

-----  كم عدد كل