

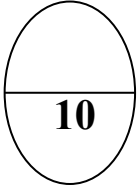
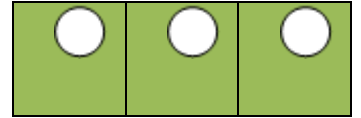
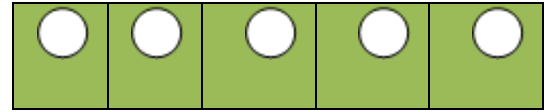
ورقة عمل الدراسية (1)

المادة : الرياضيات


الصف : [الثاني]

منطقة مبارك الكبير التعليمية

مدرسة عائشة محمد الشريف

السؤال الأول : اوجد الفرق

اكثر



$$\dots\dots = \dots\dots - \dots\dots$$

السؤال الثاني : اكمل

$$= 6 + 5 \quad (\text{أ})$$



$$= 5 - 11$$



$$= 4 + 9 \quad (\text{ب})$$



$$= 4 - 13$$