

الصف الثاني

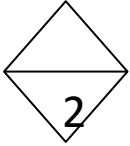
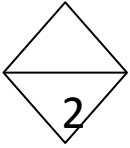
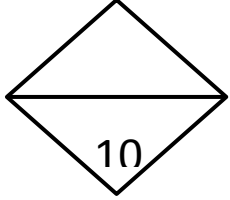
منطقة مبارك الكبير التعليمية

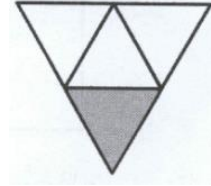
الفترة الرابعة

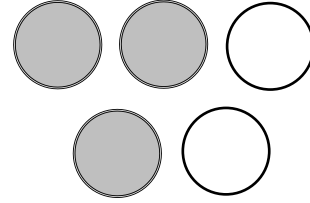
مدرسة عائشة الشريف أ. بنات

السؤال الأول :

– أكتب الكسر الدال على الجزء المظلل :

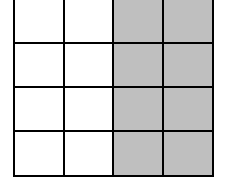









السؤال الثاني :

(أ) أوجد ناتج الضرب :



..... = 4 × 2 = 2 × 4

(ب) اكتب عبارة الضرب :



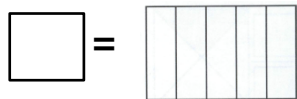
..... = ×

السؤال الثالث: اختاري الإجابة الصحيحة من بين عدة اختيارات:



1 – الجزء المتبقي من البيتزا

أ- ب- ج-



8 ج-

2 – عدد الأجزاء المتطابقة في الشكل التالي

أ- 5 ب- 3

