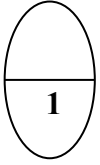


وزارة التربية
منطقة مبارك الكبير التعليمية
مدرسة عائشة الشريف
الفترة الدراسية (2)
المادة : الرياضيات
الصف : [الثاني]
1



السؤال الأول : اوجد ناتج:

13	13	5	8
$8-$	$5-$	$8 +$	$5 +$

= 3 + 5 + 3


اجمع	3
7	4
8	
6	

السؤال الثاني : اكمل

اكتب عدد العشرات ثم اكتب رمز العدد:

عشرات و..... عشرات تكون..... عشرات

..... و..... تكونان.....



اعداد المعلمة / نعمات محمد مع تمنياتنا بدوام النجاح والتوفيق

ورقة عمل للصف الثاني الابتدائي

السؤال الأول : اوجد ناتج:

$$\begin{array}{r} 11 \\ 7- \\ \hline \square \end{array}$$

$$\begin{array}{r} 11 \\ 4- \\ \hline \square \end{array}$$

$$\begin{array}{r} 4 \\ 7+ \\ \hline \square \end{array}$$

$$\begin{array}{r} 7 \\ 4+ \\ \hline \square \end{array}$$

$$\square = 3 + 7 + 2$$

$$\square = 5 + 1 + 9$$

$$\square = 4 + 6 + 4$$

$$\square = 2 + 8 + 3$$

السؤال الثاني : اكمل

اطرح 2	
7	9
	11
	6

اجمع 3	
10	7
	8
	9

اجمع 4	
9	5
	6
	3

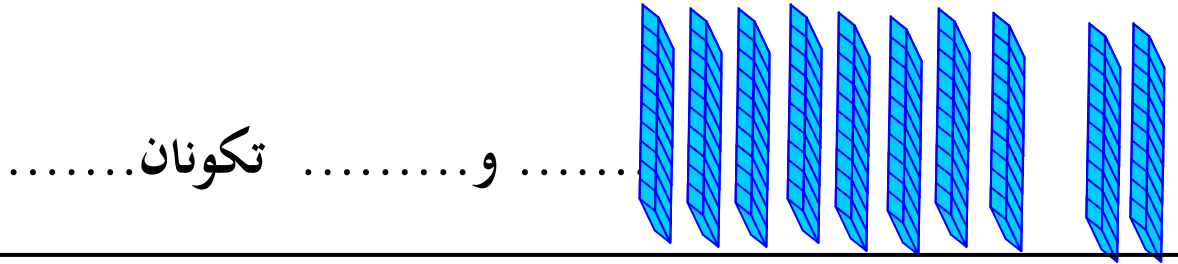
$$\square = 5 - 12$$

$$\square = 7 + 5$$

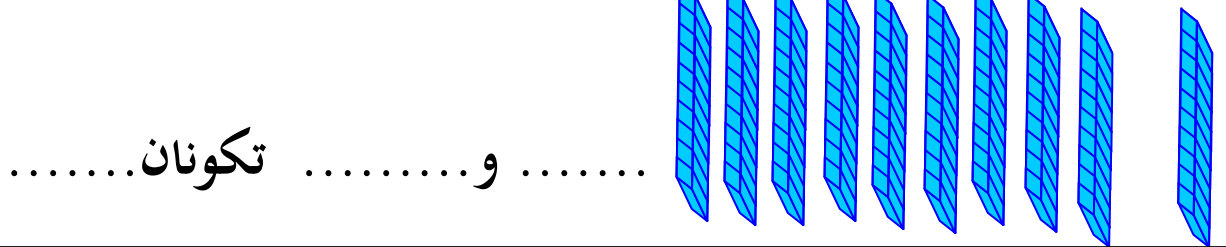
$$\square = 7 - 12 \qquad \square = 5 + 7$$

(1) اكتب عدد العشرات ثم اكتب رمز العدد:

..... عشرات و..... عشرات تكون..... عشرات



..... عشرات و..... عشرات تكون..... عشرات



3 وحدات و5 عشرات

2) اكمل:

.....

..... وحدات و..... عشرات

82